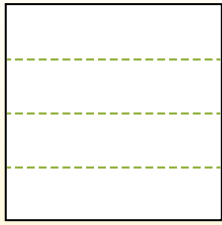


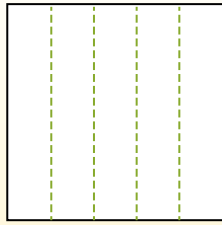


Разделите фигуры, как показано, и сосчитайте количество частей.

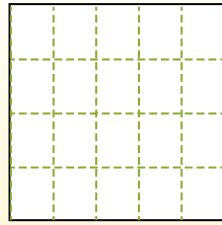
Las filas van de izquierda a derecha.




Las columnas van de arriba a abajo.



Aqui tem 4 linhas e 5 colunas .
Existem 20 caixas no total.




1) 2 ряда(ов)
4 колонки(ок)




2) 5 ряда(ов)
2 колонки(ок)




3) 3 ряда(ов)
4 колонки(ок)




4) 3 ряда(ов)
5 колонки(ок)




5) 2 ряда(ов)
3 колонки(ок)




6) 4 ряда(ов)
3 колонки(ок)




7) 5 ряда(ов)
3 колонки(ок)



8) 3 ряда(ов)
2 колонки(ок)



9) 3 ряда(ов)
3 колонки(ок)



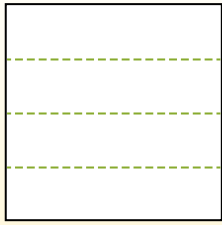
Отвeты

- 1. _____
- 2. _____
- 3. _____
- 4. _____
- 5. _____
- 6. _____
- 7. _____
- 8. _____
- 9. _____

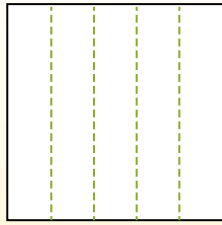


Разделите фигуры, как показано, и сосчитайте количество частей.

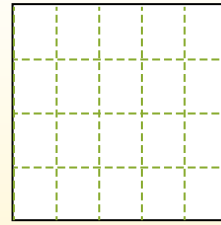
Las filas van de izquierda a derecha.



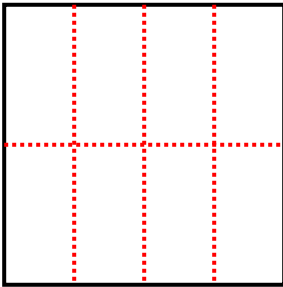
Las columnas van de arriba a abajo.



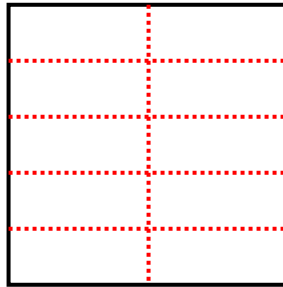
Aqui tem 4 linhas e 5 colunas. Existem 20 caixas no total.



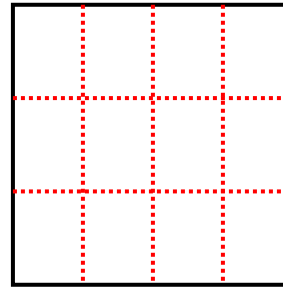
1) 2 ряда(ов)
4 колонки(ок)



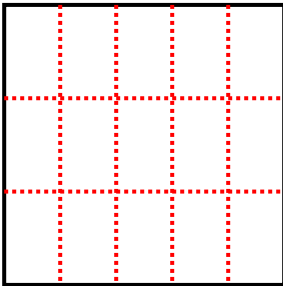
2) 5 ряда(ов)
2 колонки(ок)



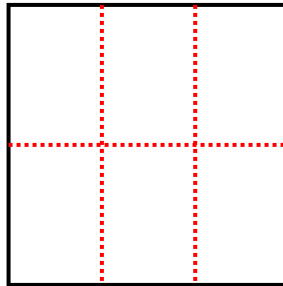
3) 3 ряда(ов)
4 колонки(ок)



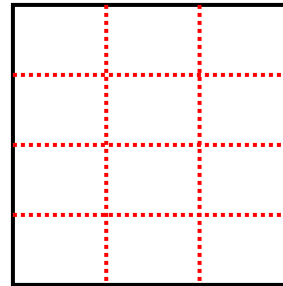
4) 3 ряда(ов)
5 колонки(ок)



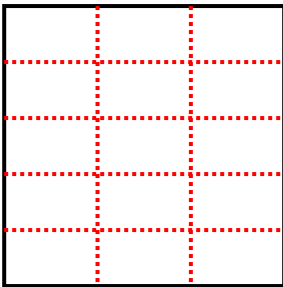
5) 2 ряда(ов)
3 колонки(ок)



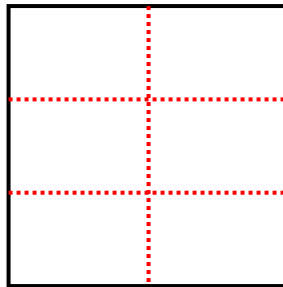
6) 4 ряда(ов)
3 колонки(ок)



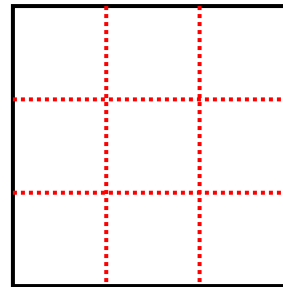
7) 5 ряда(ов)
3 колонки(ок)



8) 3 ряда(ов)
2 колонки(ок)



9) 3 ряда(ов)
3 колонки(ок)



Ответы

- 1. 8
- 2. 10
- 3. 12
- 4. 15
- 5. 6
- 6. 12
- 7. 15
- 8. 6
- 9. 9