



Определите, как нужно изобразить численно данные задачи.

ОТВЕТЫ

об)

об. $10 \times 10 = 100$

1)

1. _____

2. _____

3. _____

2)

4. _____

5. _____

3)

6. _____

7. _____

8. _____

4)

5)


6)

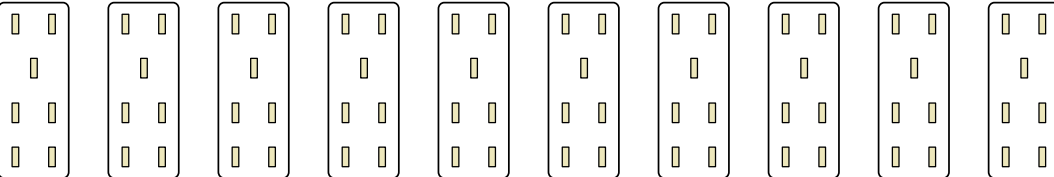
7)

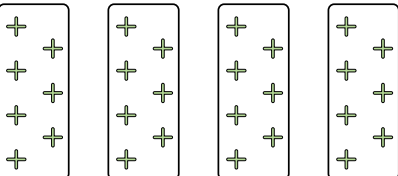
8)




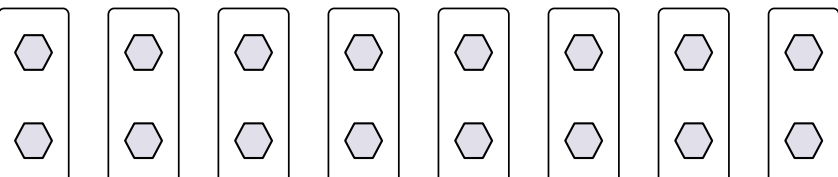
Определите, как нужно изобразить численно данные задачи.

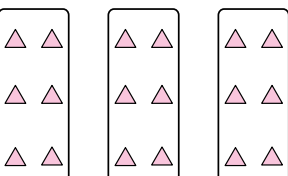
об) 

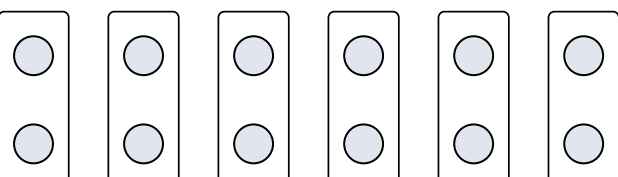
1) 

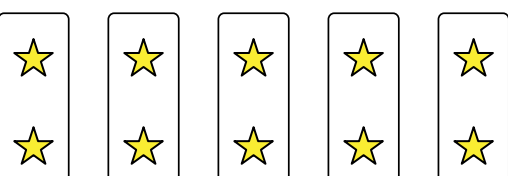
2) 


3) 

4) 

5) 

6) 

7) 

8) 

ОТВЕТЫ

- об. 10×10=100
- 1. 10×7=70
- 2. 4×7=28
- 3. 10×6=60
- 4. 8×2=16
- 5. 3×6=18
- 6. 6×2=12
- 7. 5×2=10
- 8. 5×7=35