




Определите, как нужно изобразить численно данные задачи.

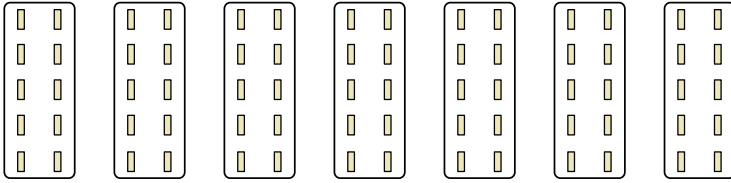
Ответы

об)



об. $6 \times 7 = 42$

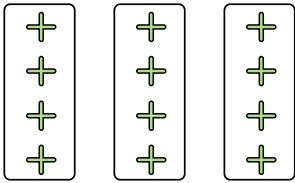
1)



1. _____

2. _____


2)



3. _____

4. _____

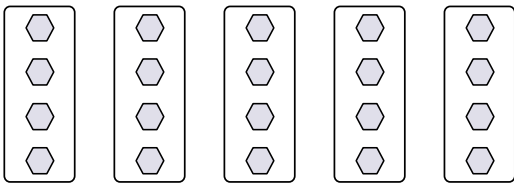
3)



5. _____

6. _____

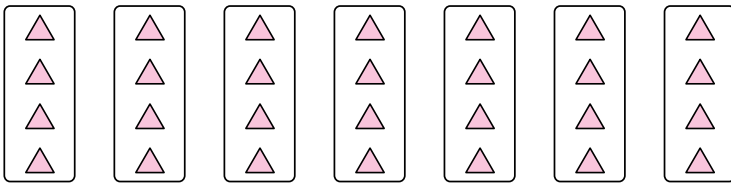
4)



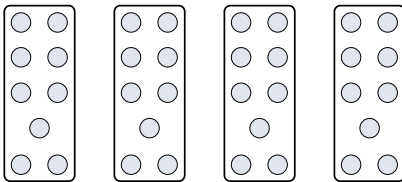
7. _____

8. _____


5)



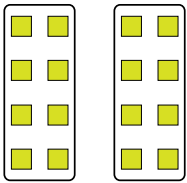
6)



7)



8)





Определите, как нужно изобразить численно данные задачи.

об)

1)

2)

3)

4)

5)

6)

7)

8)

Ответы

- об. 6×7=42
1. 7×10=70
2. 3×4=12
3. 3×7=21
4. 5×4=20
5. 7×4=28
6. 4×9=36
7. 4×10=40
8. 2×8=16