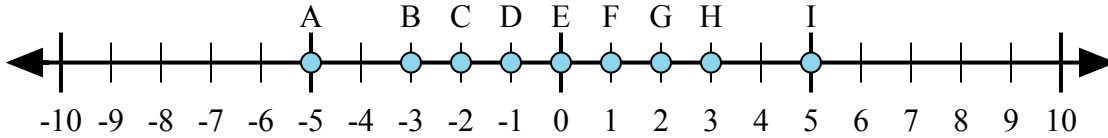




Определите какой ответ отражает ответ каждой задачи на числовой прямой.

Ответы



1) $3 + (-2) =$

2) $(-2) + 3 =$

3) $2 + 3 =$

4) $(-2) + (-3) =$

5) $2 + (-3) =$

1. _____

2. _____

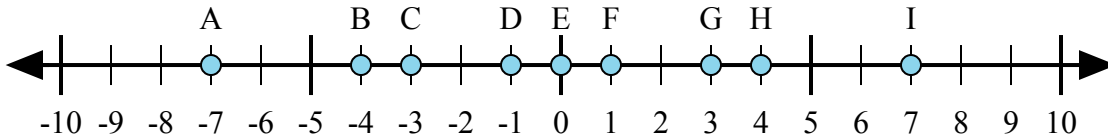
3. _____

4. _____

5. _____

6. _____

7. _____



6) $4 + (-3) =$

7) $3 + 4 =$

8) $(-4) + 3 =$

9) $(-3) + 4 =$

10) $(-3) + (-4) =$

8. _____

9. _____

10. _____

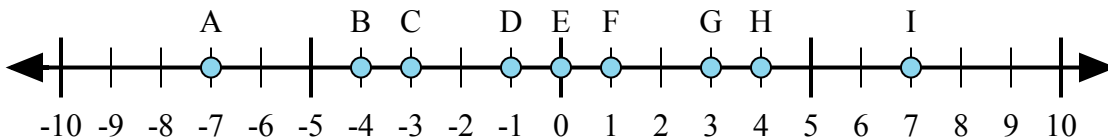
11. _____

12. _____

13. _____

14. _____

15. _____



11) $4 + 3 =$

12) $4 + (-3) =$

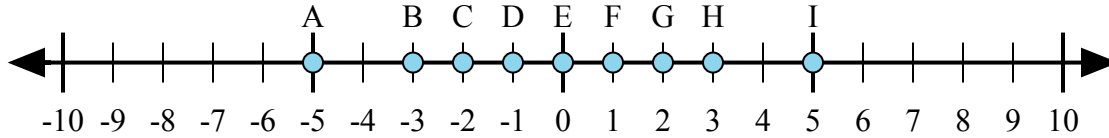
13) $(-4) + 3 =$

14) $(-3) + 4 =$

15) $(-4) + (-3) =$



Определите какой ответ отражает ответ каждой задачи на числовой прямой.



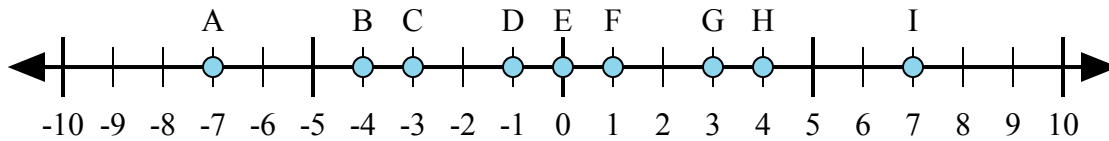
1) $3 + (-2) =$

2) $(-2) + 3 =$

3) $2 + 3 =$

4) $(-2) + (-3) =$

5) $2 + (-3) =$



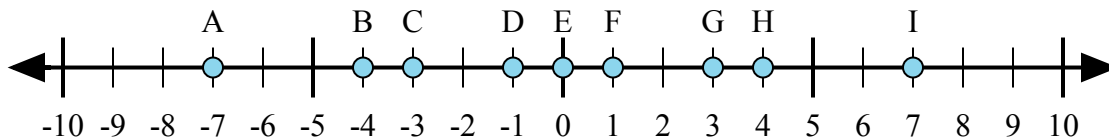
6) $4 + (-3) =$

7) $3 + 4 =$

8) $(-4) + 3 =$

9) $(-3) + 4 =$

10) $(-3) + (-4) =$



11) $4 + 3 =$

12) $4 + (-3) =$

13) $(-4) + 3 =$

14) $(-3) + 4 =$

15) $(-4) + (-3) =$

ОТВЕТЫ

1. **F**

2. **F**

3. **I**

4. **A**

5. **D**

6. **F**

7. **I**

8. **D**

9. **F**

10. **A**

11. **I**

12. **F**

13. **D**

14. **F**

15. **A**