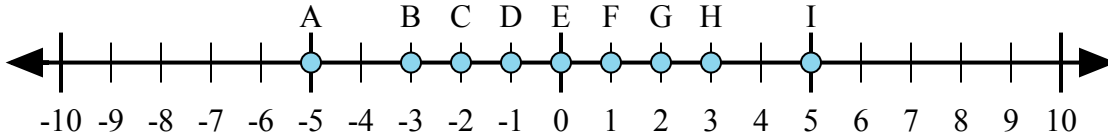




Определите какой ответ отражает ответ каждой задачи на числовой прямой.

Ответы



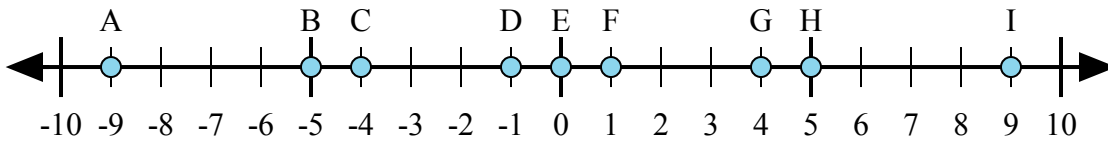
1) $(-3) + 2 =$

2) $2 + 3 =$

3) $2 + (-3) =$

4) $3 + (-2) =$

5) $(-2) + 3 =$



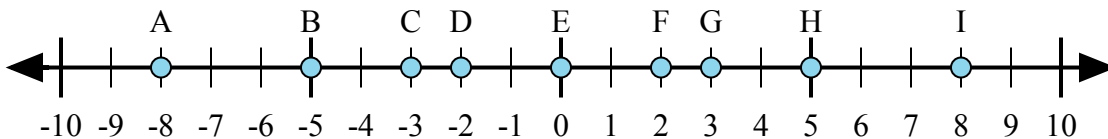
6) $(-5) + 4 =$

7) $(-4) + 5 =$

8) $5 + 4 =$

9) $(-5) + (-4) =$

10) $5 + (-4) =$



11) $5 + (-3) =$

12) $(-3) + (-5) =$

13) $3 + (-5) =$

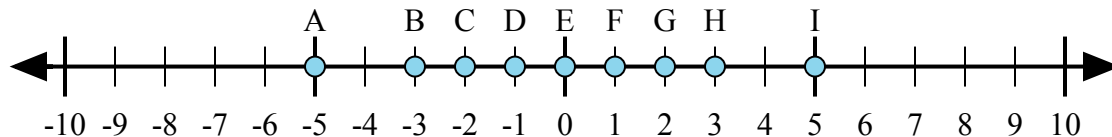
14) $(-5) + 3 =$

15) $3 + 5 =$

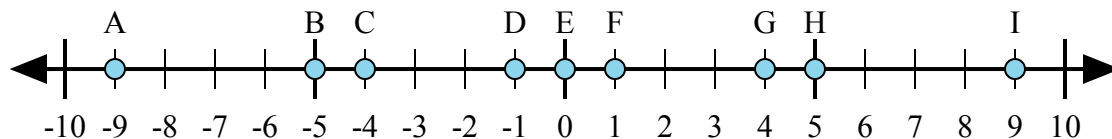
1. _____
2. _____
3. _____
4. _____
5. _____
6. _____
7. _____
8. _____
9. _____
10. _____
11. _____
12. _____
13. _____
14. _____
15. _____



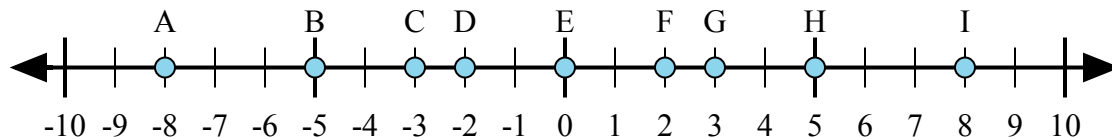
Определите какой ответ отражает ответ каждой задачи на числовой прямой.



- 1) $(-3) + 2 =$
- 2) $2 + 3 =$
- 3) $2 + (-3) =$
- 4) $3 + (-2) =$
- 5) $(-2) + 3 =$



- 6) $(-5) + 4 =$
- 7) $(-4) + 5 =$
- 8) $5 + 4 =$
- 9) $(-5) + (-4) =$
- 10) $5 + (-4) =$



- 11) $5 + (-3) =$
- 12) $(-3) + (-5) =$
- 13) $3 + (-5) =$
- 14) $(-5) + 3 =$
- 15) $3 + 5 =$

ОТВЕТЫ

1. **D**
2. **I**
3. **D**
4. **F**
5. **F**
6. **D**
7. **F**
8. **I**
9. **A**
10. **F**
11. **F**
12. **A**
13. **D**
14. **D**
15. **I**