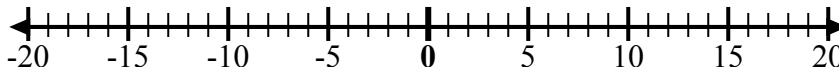




Используйте числовые линии, чтобы показать каждое выражение и решить.

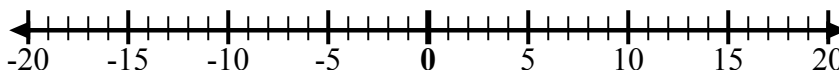
об) Начните с -4
и добавьте -6



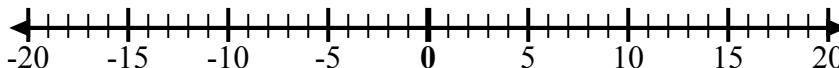
1) Начните с 7
и добавьте -7



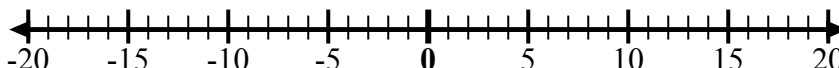
2) Начните с -4
и добавьте 9



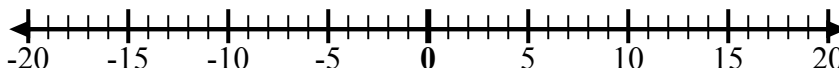
3) Начните с 4
и добавьте
-14



4) Начните с -2
и добавьте -7



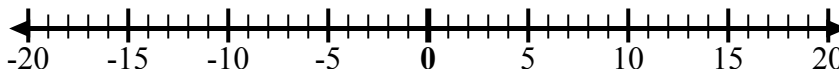
5) Начните с -3
и добавьте 7



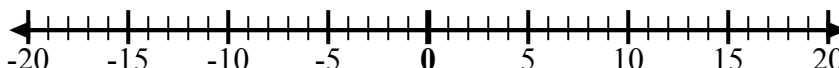
6) Начните с 1
и добавьте
-11



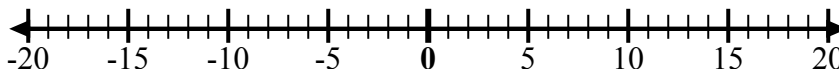
7) Начните с -6
и добавьте -3



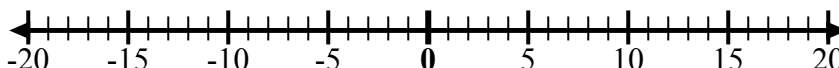
8) Начните с 10
и добавьте -1



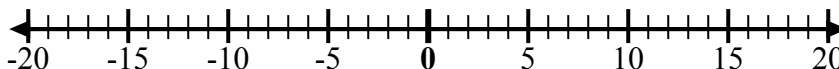
9) Начните с 0
и добавьте -5



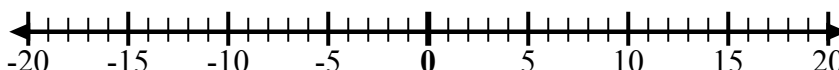
10) Начните с 0
и добавьте
-10



11) Начните с 6
и добавьте
-11



12) Начните с -5
и добавьте
10



ОТВЕТЫ

об. $-4 + -6 = -10$

1. _____

2. _____

3. _____

4. _____

5. _____

6. _____

7. _____

8. _____

9. _____

10. _____

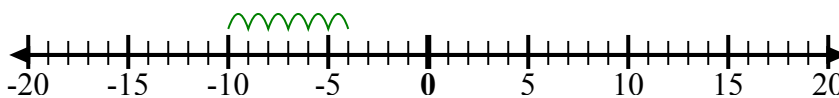
11. _____

12. _____

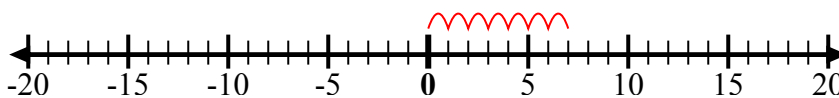


Используйте числовые линии, чтобы показать каждое выражение и решить.

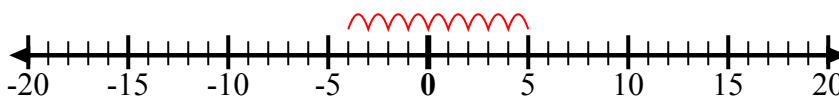
об) Начните с -4
и добавьте -6



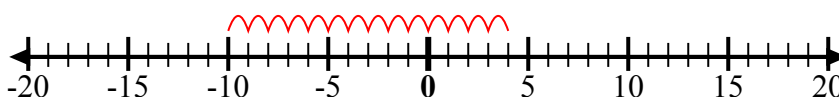
1) Начните с 7
и добавьте -7



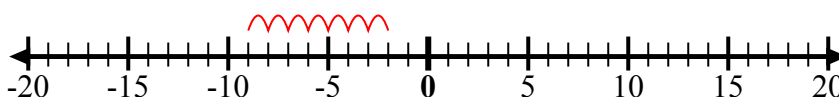
2) Начните с -4
и добавьте 9



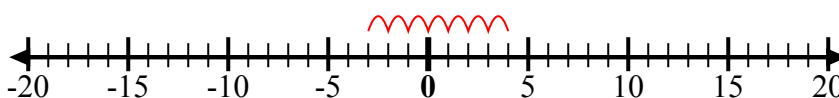
3) Начните с 4
и добавьте
-14



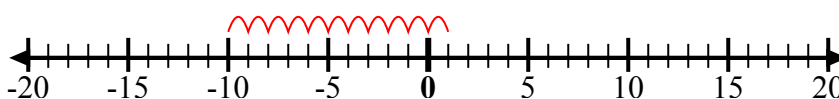
4) Начните с -2
и добавьте -7



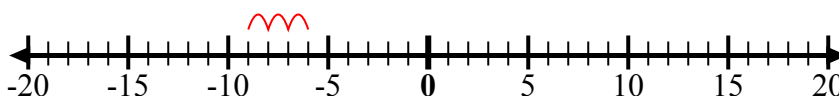
5) Начните с -3
и добавьте 7



6) Начните с 1
и добавьте
-11



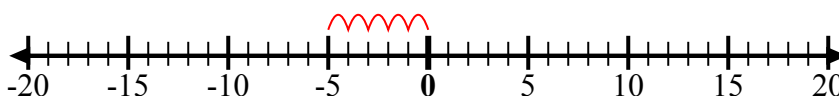
7) Начните с -6
и добавьте -3



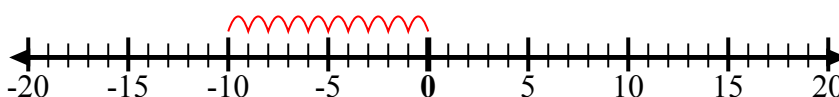
8) Начните с 10
и добавьте -1



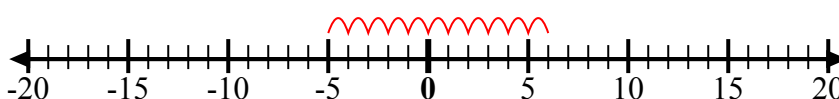
9) Начните с 0
и добавьте -5



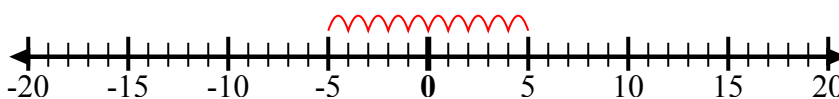
10) Начните с 0
и добавьте
-10



11) Начните с 6
и добавьте
-11



12) Начните с -5
и добавьте
10



ОТВЕТЫ

об. $-4 + -6 = -10$

1. $7 + -7 = 0$

2. $-4 + 9 = 5$

3. $4 + -14 = -10$

4. $-2 + -7 = -9$

5. $-3 + 7 = 4$

6. $1 + -11 = -10$

7. $-6 + -3 = -9$

8. $10 + -1 = 9$

9. $0 + -5 = -5$

10. $0 + -10 = -10$

11. $6 + -11 = -5$

12. $-5 + 10 = 5$