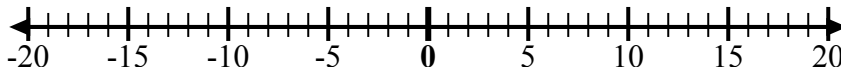


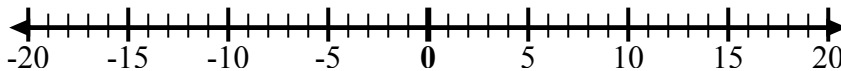


Используйте числовые линии, чтобы показать каждое выражение и решить.

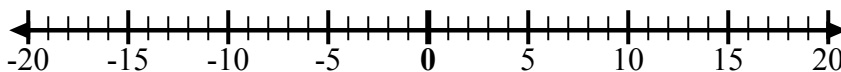
об) Начните с 4  
и добавьте -8



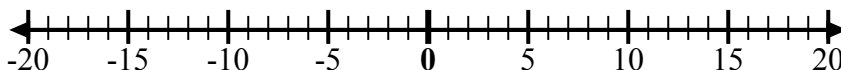
1) Начните с -9  
и добавьте 5



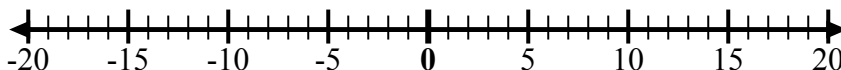
2) Начните с -6  
и добавьте -4



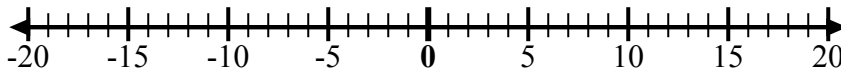
3) Начните с -5  
и добавьте 4



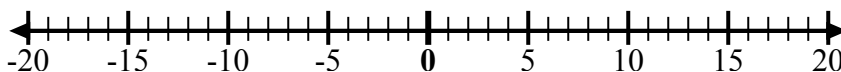
4) Начните с -7  
и добавьте -2



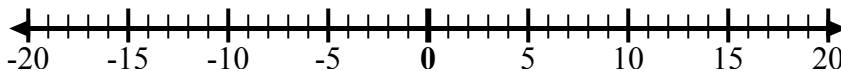
5) Начните с 9  
и добавьте  
-12



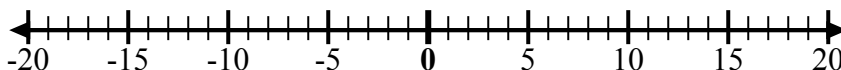
6) Начните с 7  
и добавьте -3



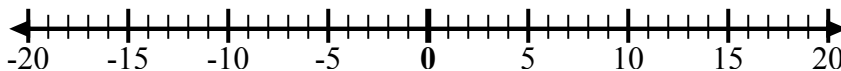
7) Начните с 1  
и добавьте  
-11



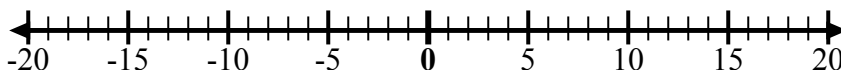
8) Начните с -2  
и добавьте -3



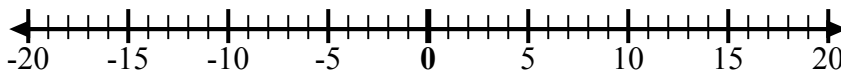
9) Начните с -3  
и добавьте -3



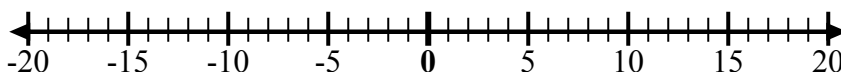
10) Начните с -5  
и добавьте 2



11) Начните с  
-10 и  
добавьте 6



12) Начните с -4  
и добавьте 8



ОТВЕТЫ

об.  $4 + -8 = -4$

1. \_\_\_\_\_

2. \_\_\_\_\_

3. \_\_\_\_\_

4. \_\_\_\_\_

5. \_\_\_\_\_

6. \_\_\_\_\_

7. \_\_\_\_\_

8. \_\_\_\_\_

9. \_\_\_\_\_

10. \_\_\_\_\_

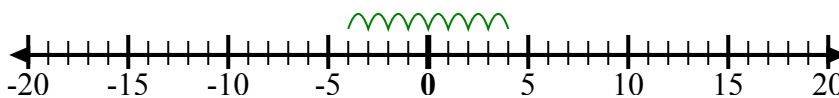
11. \_\_\_\_\_

12. \_\_\_\_\_

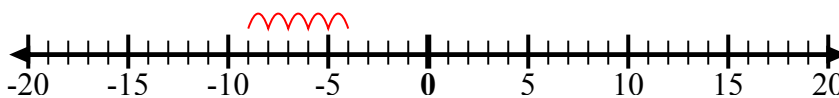


Используйте числовые линии, чтобы показать каждое выражение и решить.

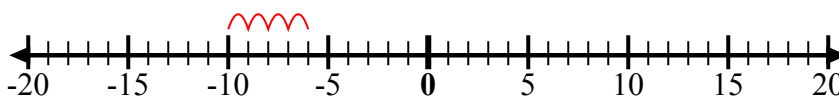
об) Начните с 4  
и добавьте -8



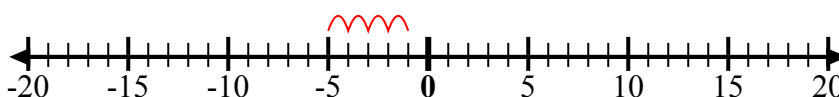
1) Начните с -9  
и добавьте 5



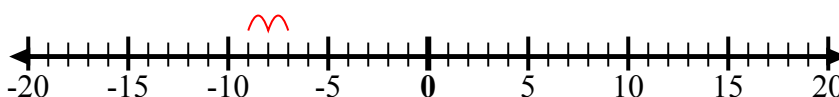
2) Начните с -6  
и добавьте -4



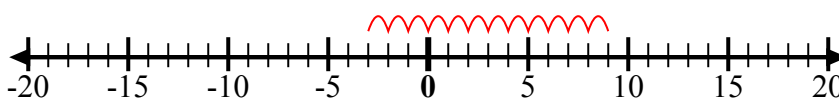
3) Начните с -5  
и добавьте 4



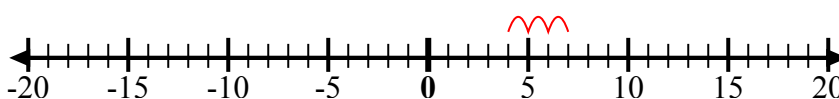
4) Начните с -7  
и добавьте -2



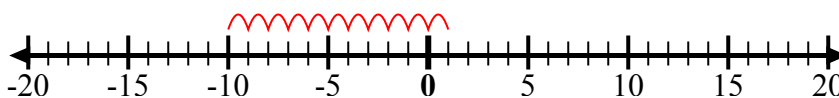
5) Начните с 9  
и добавьте  
-12



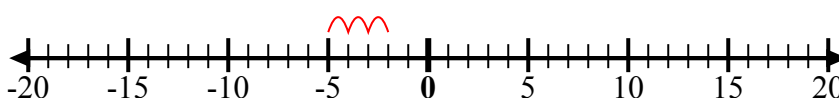
6) Начните с 7  
и добавьте -3



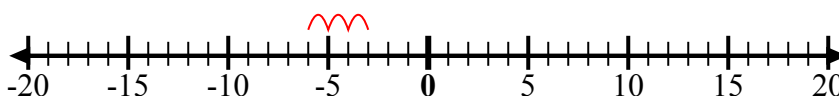
7) Начните с 1  
и добавьте  
-11



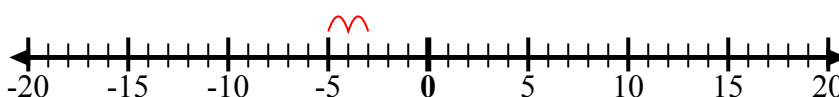
8) Начните с -2  
и добавьте -3



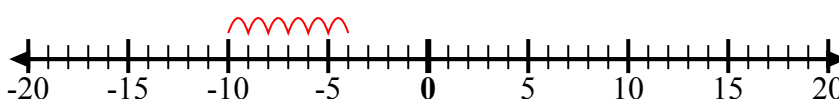
9) Начните с -3  
и добавьте -3



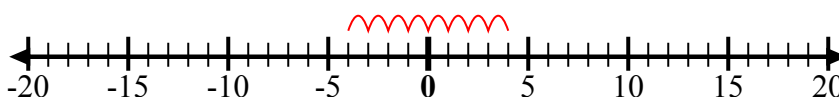
10) Начните с -5  
и добавьте 2



11) Начните с  
-10 и  
добавьте 6



12) Начните с -4  
и добавьте 8



**ОТВЕТЫ**

об.  $4 + -8 = -4$

1.  $-9 + 5 = -4$

2.  $-6 + -4 = -10$

3.  $-5 + 4 = -1$

4.  $-7 + -2 = -9$

5.  $9 + -12 = -3$

6.  $7 + -3 = 4$

7.  $1 + -11 = -10$

8.  $-2 + -3 = -5$

9.  $-3 + -3 = -6$

10.  $-5 + 2 = -3$

11.  $-10 + 6 = -4$

12.  $-4 + 8 = 4$