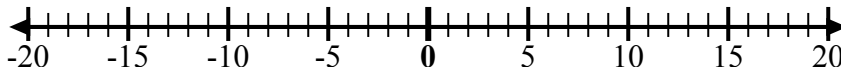


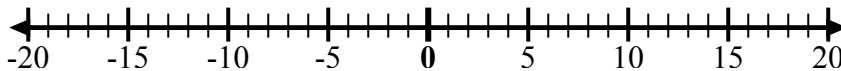


Используйте числовые линии, чтобы показать каждое выражение и решить.

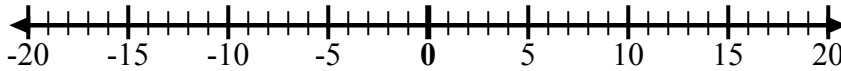
об) Начните с -2
и добавьте -8



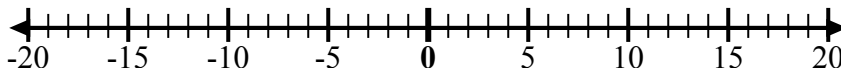
1) Начните с 8
и добавьте
-18



2) Начните с 4
и добавьте
-11



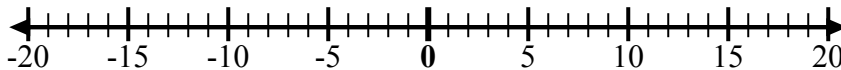
3) Начните с -5
и добавьте -5



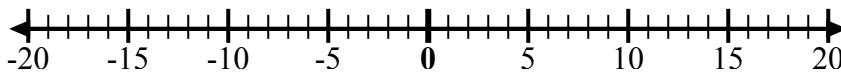
4) Начните с -8
и добавьте 5



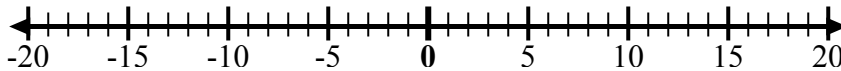
5) Начните с -6
и добавьте 3



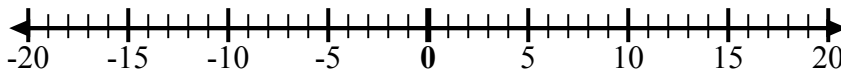
6) Начните с -1
и добавьте -7



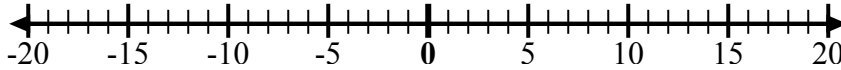
7) Начните с -2
и добавьте -6



8) Начните с -3
и добавьте
12



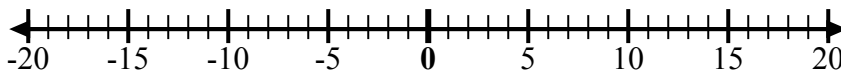
9) Начните с -1
и добавьте
11



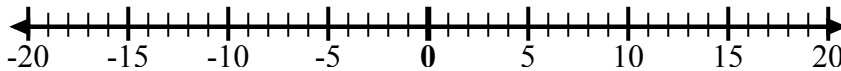
10) Начните с 2
и добавьте -9



11) Начните с -3
и добавьте
13



12) Начните с 10
и добавьте
-12



ОТВЕТЫ

об. $-2 + -8 = -10$

1. _____

2. _____

3. _____

4. _____

5. _____

6. _____

7. _____

8. _____

9. _____

10. _____

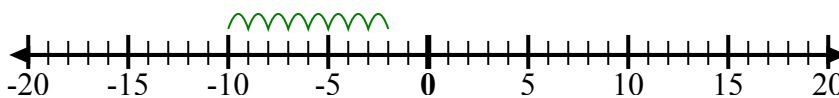
11. _____

12. _____

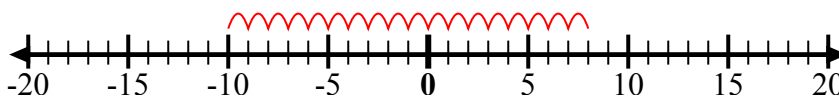


Используйте числовые линии, чтобы показать каждое выражение и решить.

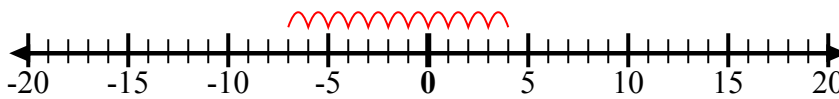
об) Начните с -2
и добавьте -8



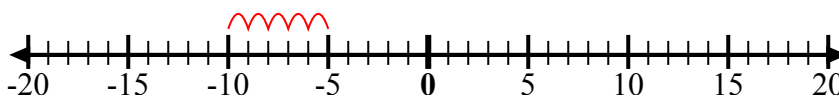
1) Начните с 8
и добавьте -18



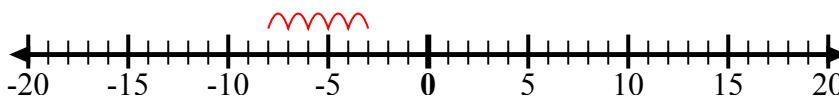
2) Начните с 4
и добавьте -11



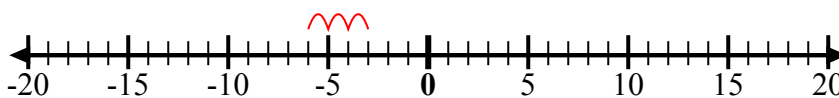
3) Начните с -5
и добавьте -5



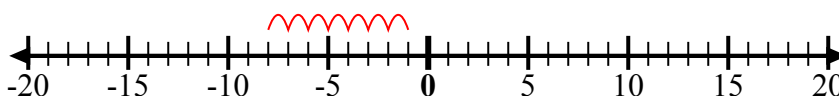
4) Начните с -8
и добавьте 5



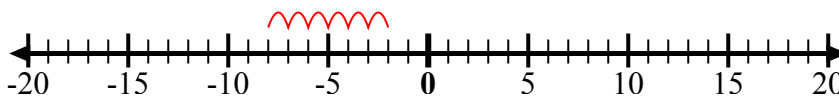
5) Начните с -6
и добавьте 3



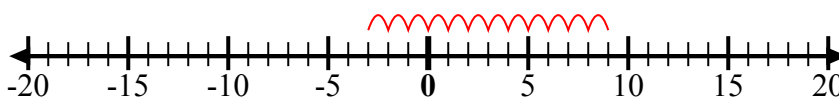
6) Начните с -1
и добавьте -7



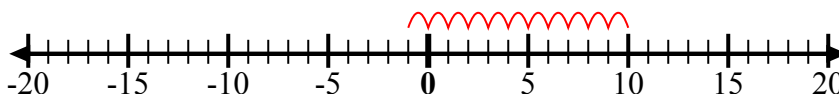
7) Начните с -2
и добавьте -6



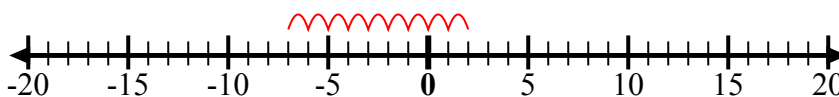
8) Начните с -3
и добавьте 12



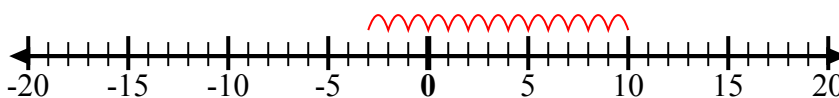
9) Начните с -1
и добавьте 11



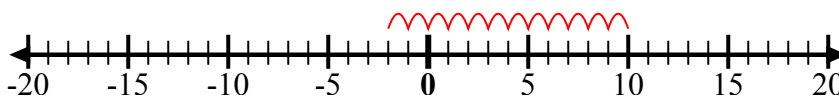
10) Начните с 2
и добавьте -9



11) Начните с -3
и добавьте 13



12) Начните с 10
и добавьте -12



ОТВЕТЫ

об. $-2 + -8 = -10$

1. $8 + -18 = -10$

2. $4 + -11 = -7$

3. $-5 + -5 = -10$

4. $-8 + 5 = -3$

5. $-6 + 3 = -3$

6. $-1 + -7 = -8$

7. $-2 + -6 = -8$

8. $-3 + 12 = 9$

9. $-1 + 11 = 10$

10. $2 + -9 = -7$

11. $-3 + 13 = 10$

12. $10 + -12 = -2$