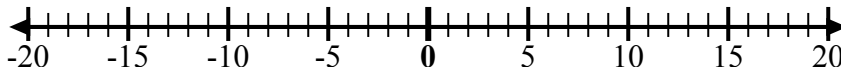


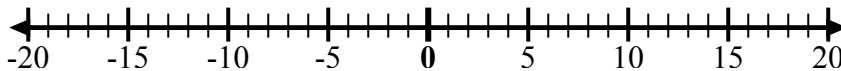


Используйте числовые линии, чтобы показать каждое выражение и решить.

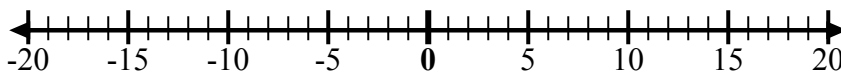
об) Начните с 0
и добавьте -2



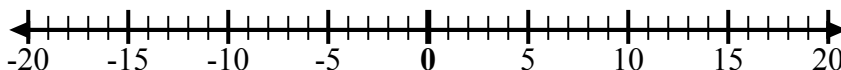
1) Начните с 0
и добавьте -5



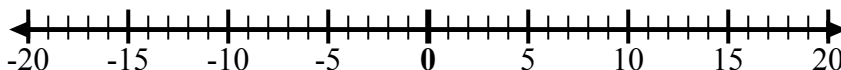
2) Начните с 0
и добавьте 7



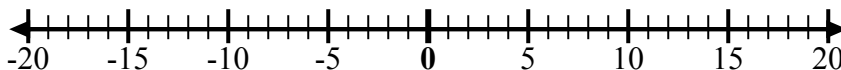
3) Начните с -6
и добавьте 12



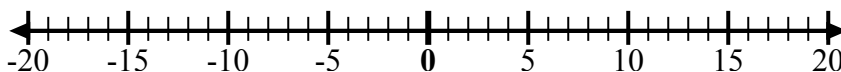
4) Начните с -2
и добавьте -2



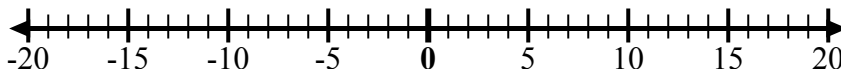
5) Начните с 2
и добавьте -8



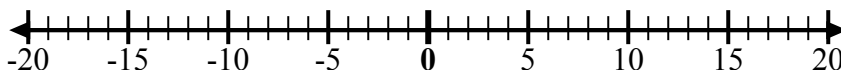
6) Начните с 3
и добавьте -11



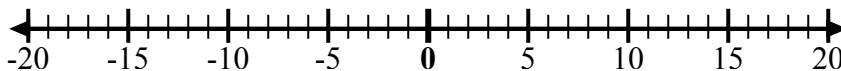
7) Начните с -7
и добавьте 16



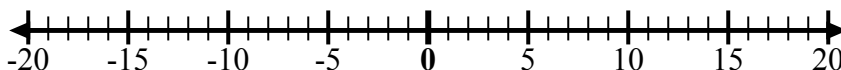
8) Начните с -9
и добавьте 7



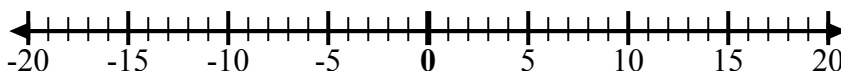
9) Начните с -8
и добавьте 3



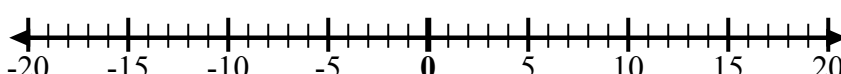
10) Начните с 5
и добавьте -15



11) Начните с -8
и добавьте 4



12) Начните с 5
и добавьте -6



ОТВЕТЫ

об. $0 + -2 = -2$

1. _____

2. _____

3. _____

4. _____

5. _____

6. _____

7. _____

8. _____

9. _____

10. _____

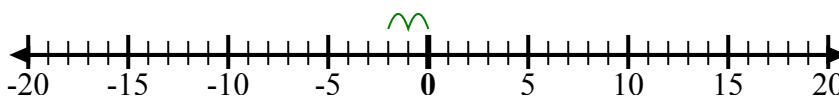
11. _____

12. _____

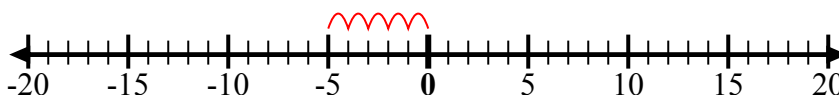


Используйте числовые линии, чтобы показать каждое выражение и решить.

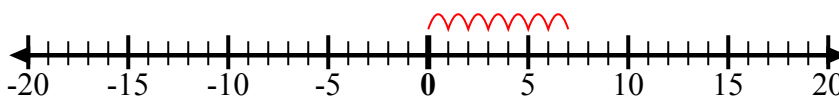
об) Начните с 0
и добавьте -2



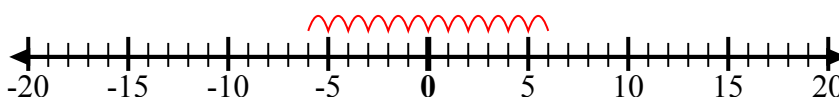
1) Начните с 0
и добавьте -5



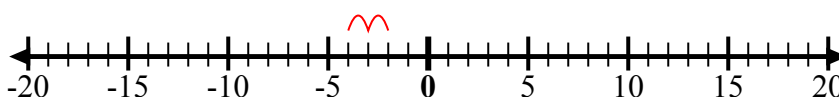
2) Начните с 0
и добавьте 7



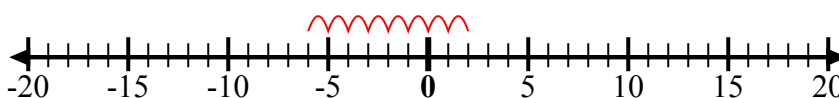
3) Начните с -6
и добавьте 12



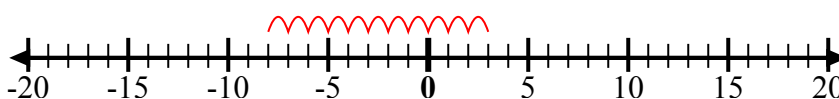
4) Начните с -2
и добавьте -2



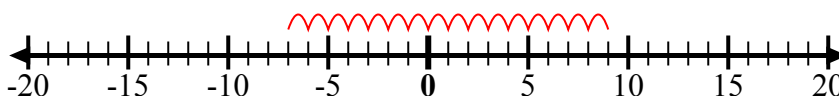
5) Начните с 2
и добавьте -8



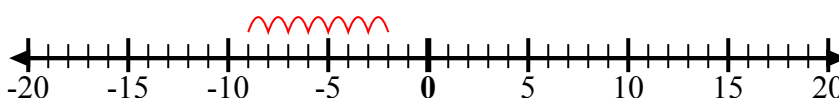
6) Начните с 3
и добавьте -11



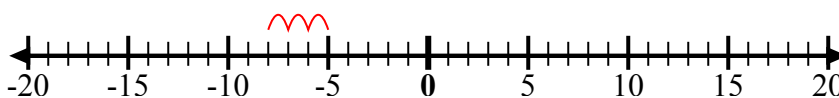
7) Начните с -7
и добавьте 16



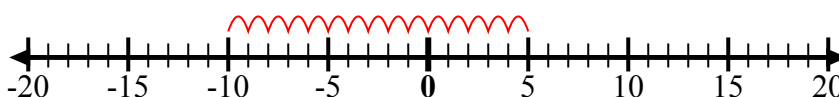
8) Начните с -9
и добавьте 7



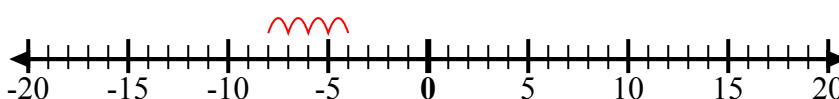
9) Начните с -8
и добавьте 3



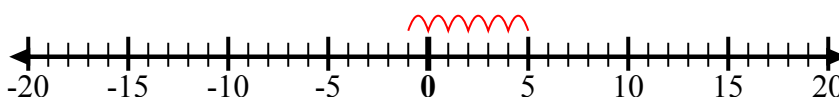
10) Начните с 5
и добавьте -15



11) Начните с -8
и добавьте 4



12) Начните с 5
и добавьте -6



ОТВЕТЫ

об. $0 + -2 = -2$

1. $0 + -5 = -5$

2. $0 + 7 = 7$

3. $-6 + 12 = 6$

4. $-2 + -2 = -4$

5. $2 + -8 = -6$

6. $3 + -11 = -8$

7. $-7 + 16 = 9$

8. $-9 + 7 = -2$

9. $-8 + 3 = -5$

10. $5 + -15 = -10$

11. $-8 + 4 = -4$

12. $5 + -6 = -1$