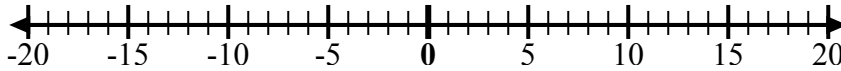


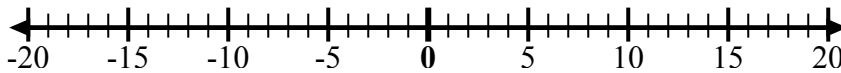


Используйте числовые линии, чтобы показать каждое выражение и решить.

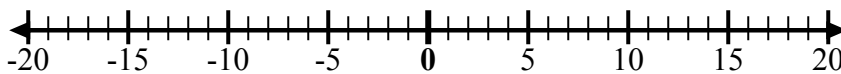
об) Начните с -6  
и добавьте  
15



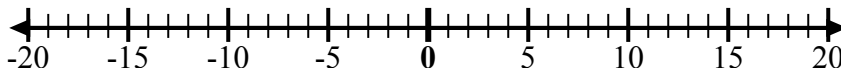
1) Начните с -3  
и добавьте -3



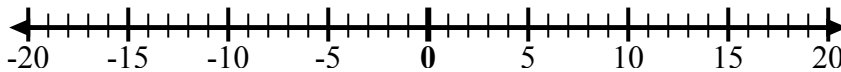
2) Начните с 10  
и добавьте 0



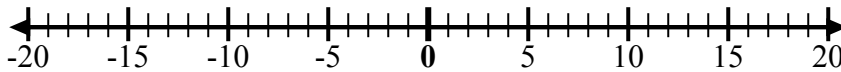
3) Начните с -1  
и добавьте  
10



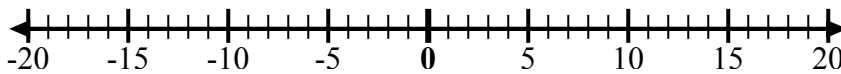
4) Начните с 2  
и добавьте  
-11



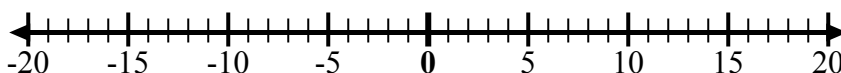
5) Начните с 3  
и добавьте  
-12



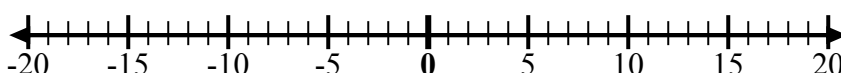
6) Начните с -8  
и добавьте 7



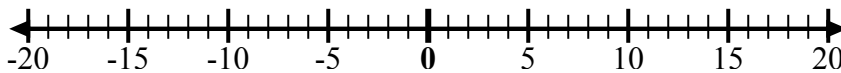
7) Начните с 0  
и добавьте -5



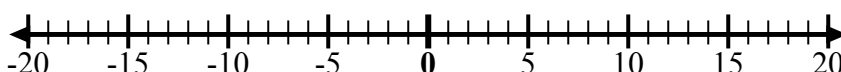
8) Начните с -6  
и добавьте -2



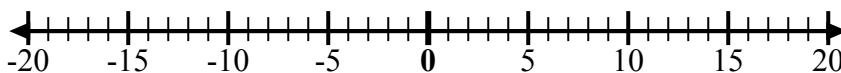
9) Начните с 9  
и добавьте  
-15



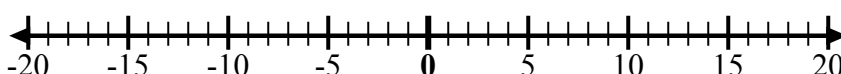
10) Начните с 4  
и добавьте -9



11) Начните с 1  
и добавьте  
-10



12) Начните с -5  
и добавьте -3



**ОТВЕТЫ**

об.  $-6 + 15 = 9$

1. \_\_\_\_\_

2. \_\_\_\_\_

3. \_\_\_\_\_

4. \_\_\_\_\_

5. \_\_\_\_\_

6. \_\_\_\_\_

7. \_\_\_\_\_

8. \_\_\_\_\_

9. \_\_\_\_\_

10. \_\_\_\_\_

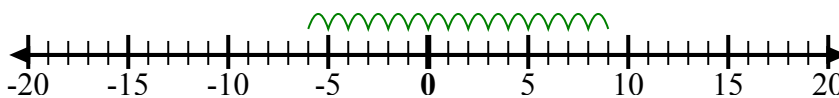
11. \_\_\_\_\_

12. \_\_\_\_\_

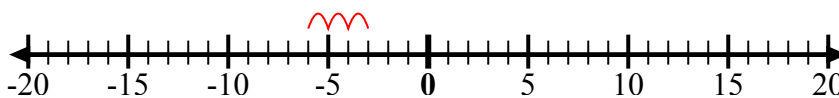


Используйте числовые линии, чтобы показать каждое выражение и решить.

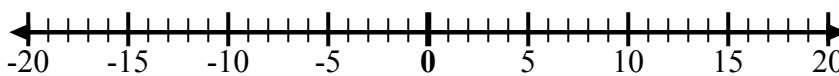
об) Начните с -6  
и добавьте  
15



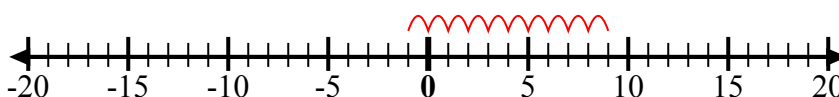
1) Начните с -3  
и добавьте -3



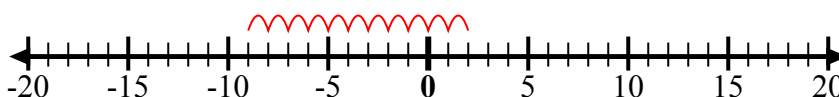
2) Начните с 10  
и добавьте 0



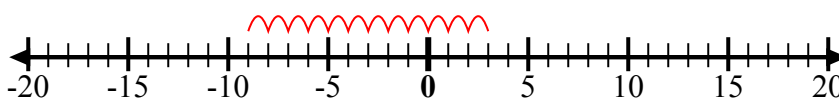
3) Начните с -1  
и добавьте  
10



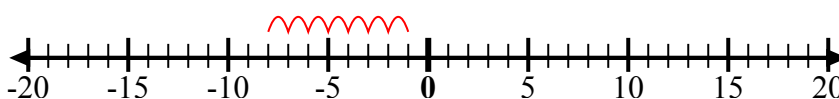
4) Начните с 2  
и добавьте  
-11



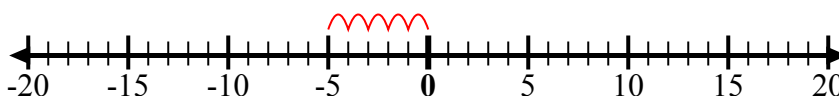
5) Начните с 3  
и добавьте  
-12



6) Начните с -8  
и добавьте 7



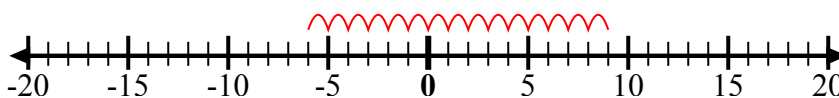
7) Начните с 0  
и добавьте -5



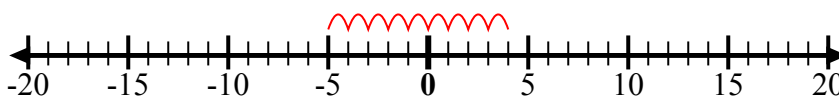
8) Начните с -6  
и добавьте -2



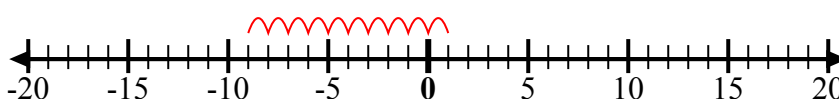
9) Начните с 9  
и добавьте  
-15



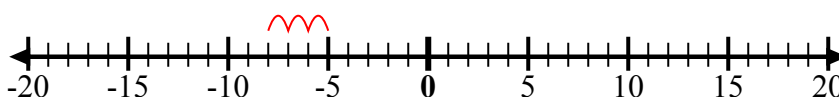
10) Начните с 4  
и добавьте -9



11) Начните с 1  
и добавьте  
-10



12) Начните с -5  
и добавьте -3



**ОТВЕТЫ**

об.  $-6 + 15 = 9$

1.  $-3 + -3 = -6$

2.  $10 + 0 = 10$

3.  $-1 + 10 = 9$

4.  $2 + -11 = -9$

5.  $3 + -12 = -9$

6.  $-8 + 7 = -1$

7.  $0 + -5 = -5$

8.  $-6 + -2 = -8$

9.  $9 + -15 = -6$

10.  $4 + -9 = -5$

11.  $1 + -10 = -9$

12.  $-5 + -3 = -8$