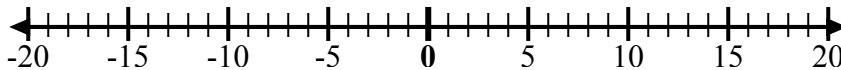


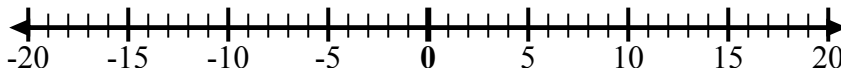


Используйте числовые линии, чтобы показать каждое выражение и решить.

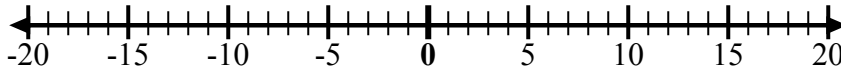
об) Начните с -9
и добавьте 5



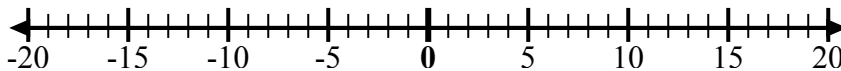
1) Начните с
-10 и
добавьте 14



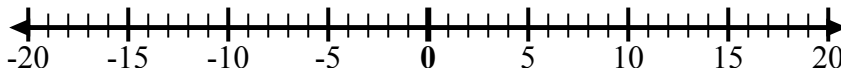
2) Начните с 3
и добавьте
-10



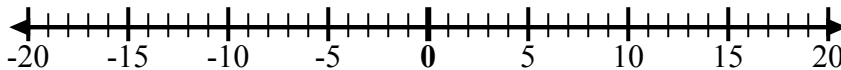
3) Начните с 7
и добавьте -6



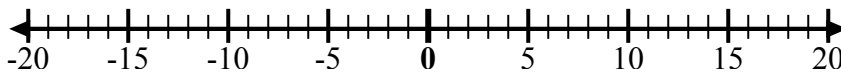
4) Начните с -8
и добавьте -2



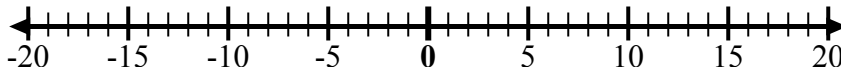
5) Начните с 5
и добавьте -9



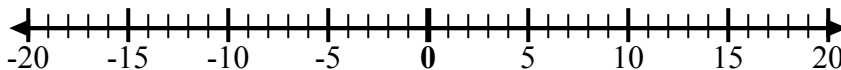
6) Начните с -5
и добавьте 4



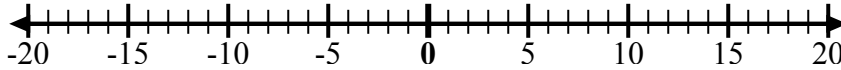
7) Начните с -6
и добавьте 9



8) Начните с -4
и добавьте
14



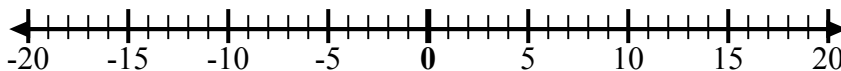
9) Начните с -4
и добавьте -3



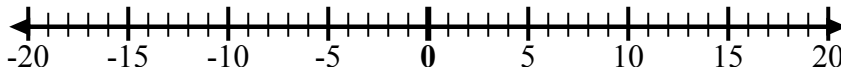
10) Начните с -7
и добавьте -2



11) Начните с 0
и добавьте -7



12) Начните с -2
и добавьте -2



ОТВЕТЫ

об. $-9 + 5 = -4$

1. _____

2. _____

3. _____

4. _____

5. _____

6. _____

7. _____

8. _____

9. _____

10. _____

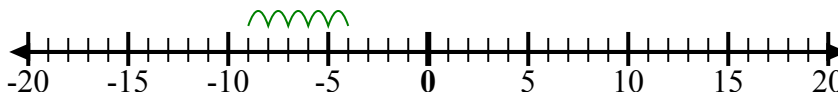
11. _____

12. _____

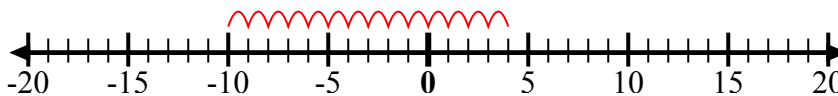


Используйте числовые линии, чтобы показать каждое выражение и решить.

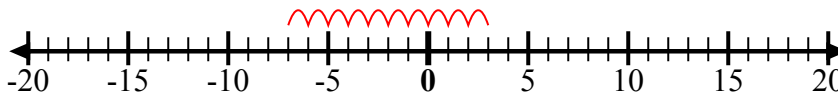
об) Начните с -9
и добавьте 5



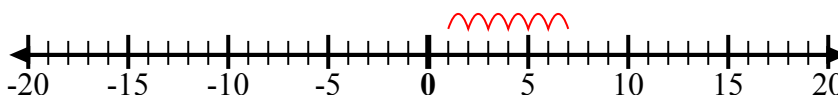
1) Начните с -10
и добавьте 14



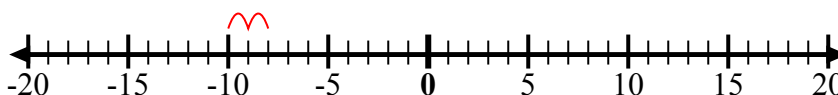
2) Начните с 3
и добавьте -10



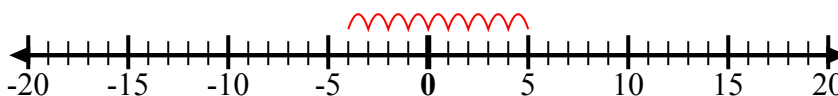
3) Начните с 7
и добавьте -6



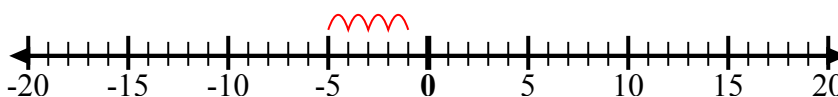
4) Начните с -8
и добавьте -2



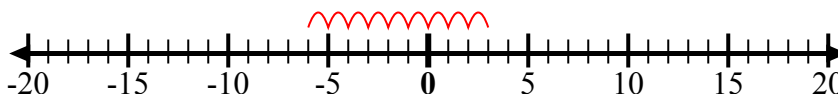
5) Начните с 5
и добавьте -9



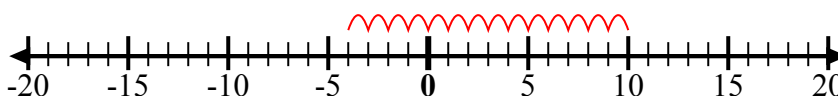
6) Начните с -5
и добавьте 4



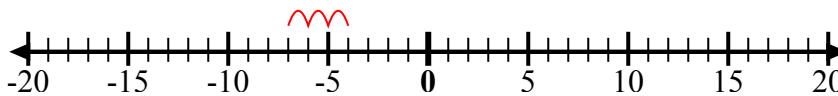
7) Начните с -6
и добавьте 9



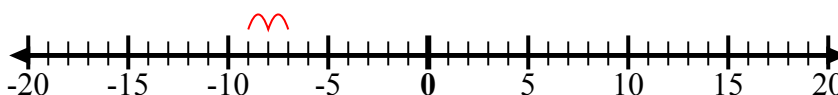
8) Начните с -4
и добавьте 14



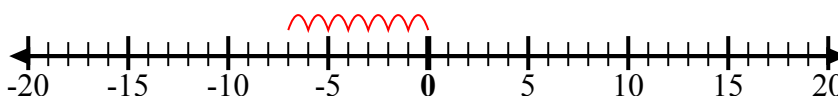
9) Начните с -4
и добавьте -3



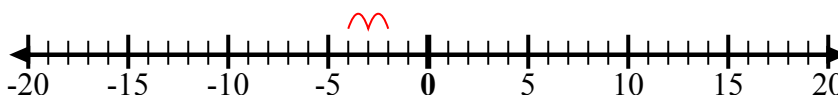
10) Начните с -7
и добавьте -2



11) Начните с 0
и добавьте -7



12) Начните с -2
и добавьте -2



ОТВЕТЫ

об. $-9 + 5 = -4$

1. $-10 + 14 = 4$

2. $3 + -10 = -7$

3. $7 + -6 = 1$

4. $-8 + -2 = -10$

5. $5 + -9 = -4$

6. $-5 + 4 = -1$

7. $-6 + 9 = 3$

8. $-4 + 14 = 10$

9. $-4 + -3 = -7$

10. $-7 + -2 = -9$

11. $0 + -7 = -7$

12. $-2 + -2 = -4$