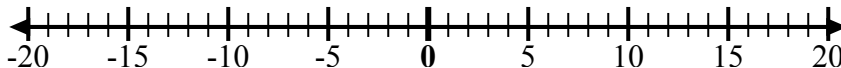


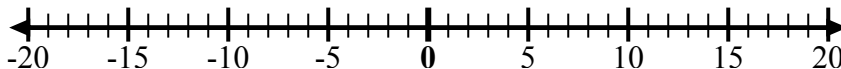


Используйте числовые линии, чтобы показать каждое выражение и решить.

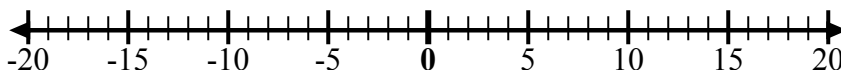
об) Начните с -4
и добавьте -5



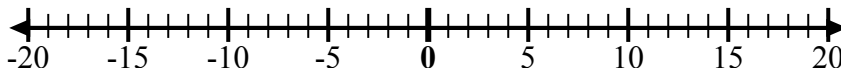
1) Начните с 2
и добавьте -9



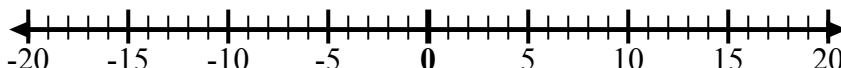
2) Начните с -2
и добавьте 6



3) Начните с 5
и добавьте -11



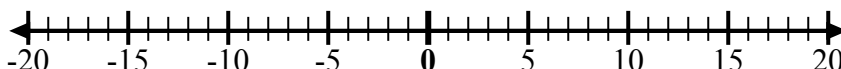
4) Начните с 4
и добавьте -8



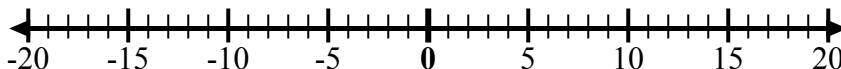
5) Начните с -2
и добавьте -4



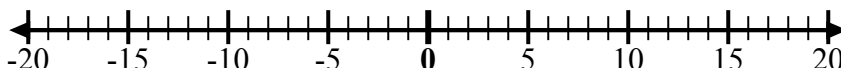
6) Начните с 10
и добавьте -11



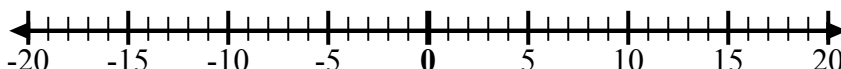
7) Начните с -8
и добавьте 15



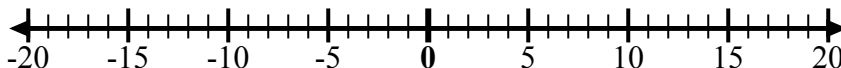
8) Начните с 0
и добавьте -4



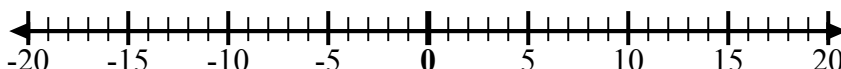
9) Начните с -6
и добавьте -4



10) Начните с 10
и добавьте -18



11) Начните с -1
и добавьте 9



12) Начните с 4
и добавьте -12



ОТВЕТЫ

об. $-4 + -5 = -9$

1. _____

2. _____

3. _____

4. _____

5. _____

6. _____

7. _____

8. _____

9. _____

10. _____

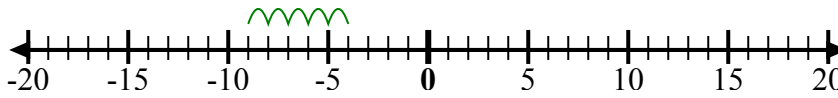
11. _____

12. _____

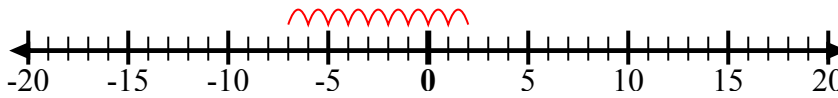


Используйте числовые линии, чтобы показать каждое выражение и решить.

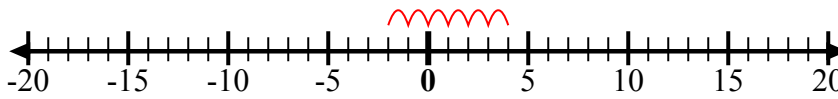
об) Начните с -4
и добавьте -5



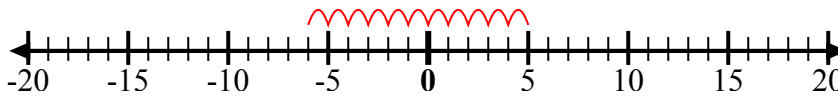
1) Начните с 2
и добавьте -9



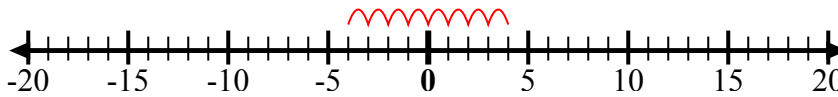
2) Начните с -2
и добавьте 6



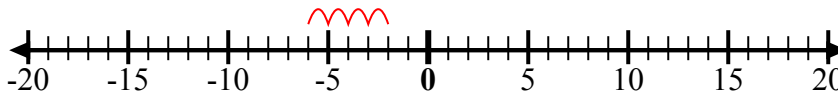
3) Начните с 5
и добавьте -11



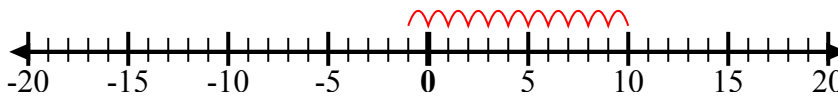
4) Начните с 4
и добавьте -8



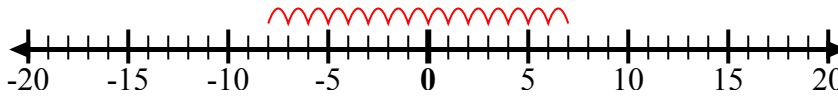
5) Начните с -2
и добавьте -4



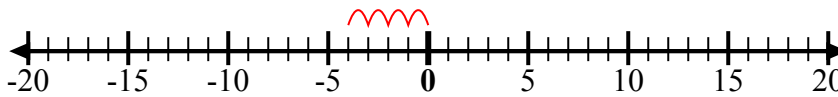
6) Начните с 10
и добавьте -11



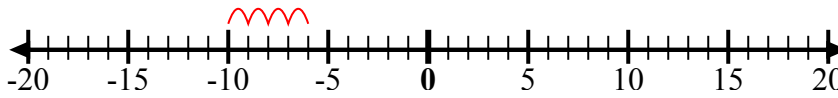
7) Начните с -8
и добавьте 15



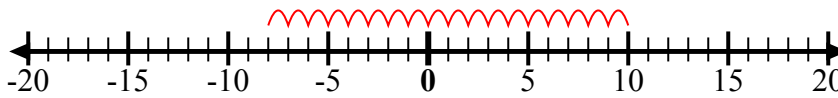
8) Начните с 0
и добавьте -4



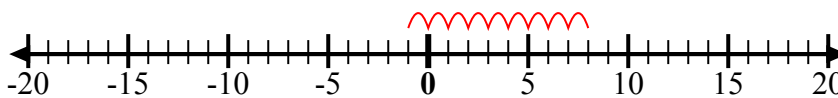
9) Начните с -6
и добавьте -4



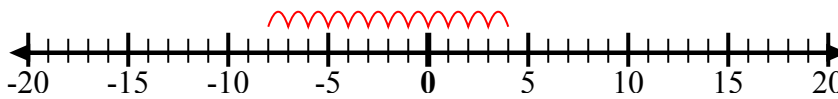
10) Начните с 10
и добавьте -18



11) Начните с -1
и добавьте 9



12) Начните с 4
и добавьте -12



ОТВЕТЫ

об. $-4 + -5 = -9$

1. $2 + -9 = -7$

2. $-2 + 6 = 4$

3. $5 + -11 = -6$

4. $4 + -8 = -4$

5. $-2 + -4 = -6$

6. $10 + -11 = -1$

7. $-8 + 15 = 7$

8. $0 + -4 = -4$

9. $-6 + -4 = -10$

10. $10 + -18 = -8$

11. $-1 + 9 = 8$

12. $4 + -12 = -8$