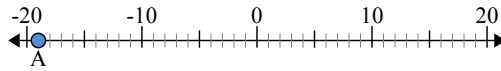




Используйте числовую прямую для нахождения абсолютной величины.

ОТВЕТЫ

1) а. Каково значение A?



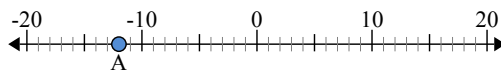
б. На каком расстоянии A от 0 (абсолютной величины)?

2) а. Каково значение A?



б. На каком расстоянии A от 0 (абсолютной величины)?

3) а. Каково значение A?

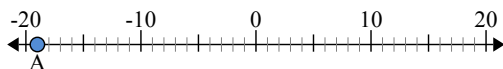


1. _____
2. _____
3. _____
4. _____
5. _____
6. _____
7. _____
8. _____
9. _____
10. _____



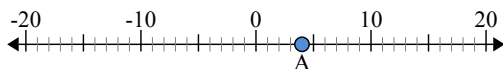
Используйте числовую прямую для нахождения абсолютной величины.

1) а. Каково значение А?



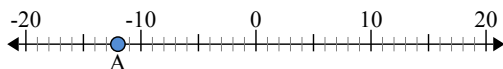
б. На каком расстоянии А от 0 (абсолютной величины)?

2) а. Каково значение А?



б. На каком расстоянии А от 0 (абсолютной величины)?

3) а. Каково значение А?



ОТВЕТЫ

1.	<u>-19</u>	<u>19</u>
2.	<u>4</u>	<u>4</u>
3.	<u>-12</u>	<u>12</u>
4.	<u>-5</u>	<u>5</u>
5.	<u>-14</u>	<u>14</u>
6.	<u>2</u>	<u>2</u>
7.	<u>7</u>	<u>7</u>
8.	<u>-20</u>	<u>20</u>
9.	<u>8</u>	<u>8</u>
10.	<u>-3</u>	<u>3</u>