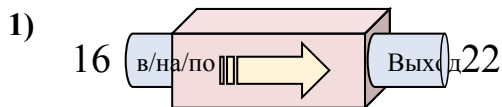


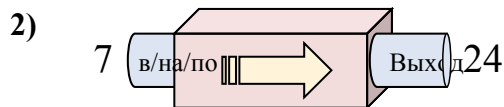


Определите какой закон используется в станке.

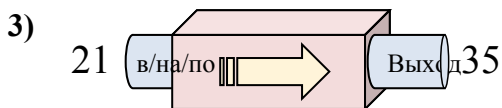
ОТВЕТЫ



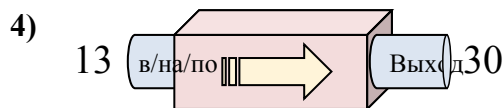
- A. Добавить 11
- B. Добавить 7
- C. Добавить 6
- D. Добавить 5



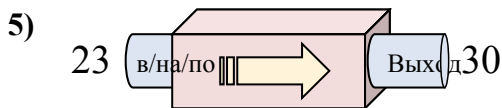
- A. Добавить 17
- B. Добавить 18
- C. Вычесть 14
- D. Вычесть 18



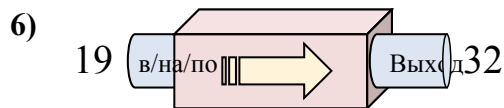
- A. Вычесть 11
- B. Добавить 18
- C. Добавить 14
- D. Вычесть 15



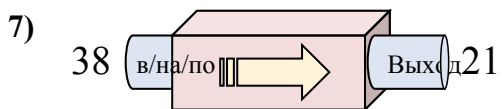
- A. Добавить 18
- B. Добавить 21
- C. Добавить 17
- D. Вычесть 19



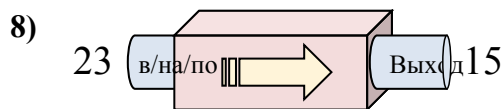
- A. Вычесть 11
- B. Добавить 7
- C. Вычесть 3
- D. Добавить 4



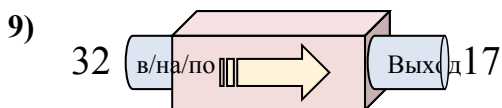
- A. Вычесть 13
- B. Добавить 13
- C. Добавить 17
- D. Вычесть 8



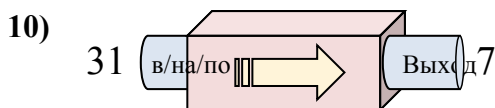
- A. Вычесть 18
- B. Вычесть 17
- C. Добавить 13
- D. Вычесть 14



- A. Вычесть 9
- B. Вычесть 11
- C. Вычесть 8
- D. Добавить 9



- A. Вычесть 11
- B. Вычесть 15
- C. Добавить 10
- D. Вычесть 20



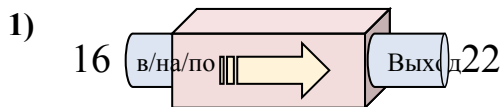
- A. Вычесть 19
- B. Вычесть 25
- C. Вычесть 24
- D. Добавить 22

1. _____
2. _____
3. _____
4. _____
5. _____
6. _____
7. _____
8. _____
9. _____
10. _____

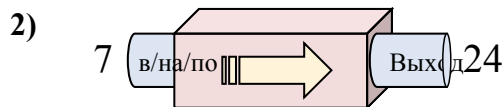


Определите какой закон используется в станке.

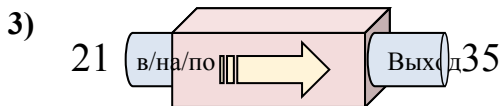
ОТВЕТЫ



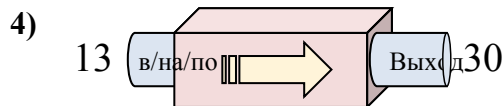
- A. Добавить 11
- B. Добавить 7
- C. Добавить 6
- D. Добавить 5



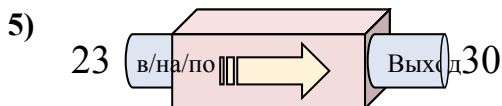
- A. Добавить 17
- B. Добавить 18
- C. Вычесть 14
- D. Вычесть 18



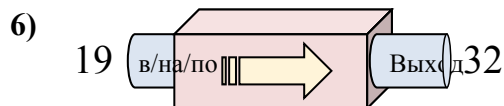
- A. Вычесть 11
- B. Добавить 18
- C. Добавить 14
- D. Вычесть 15



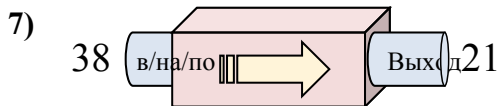
- A. Добавить 18
- B. Добавить 21
- C. Добавить 17
- D. Вычесть 19



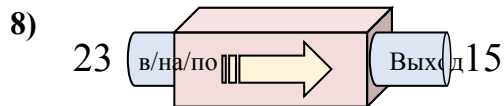
- A. Вычесть 11
- B. Добавить 7
- C. Вычесть 3
- D. Добавить 4



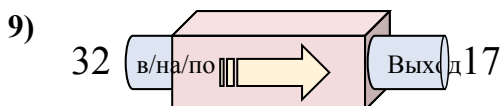
- A. Вычесть 13
- B. Добавить 13
- C. Добавить 17
- D. Вычесть 8



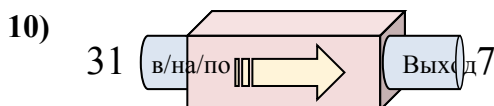
- A. Вычесть 18
- B. Вычесть 17
- C. Добавить 13
- D. Вычесть 14



- A. Вычесть 9
- B. Вычесть 11
- C. Вычесть 8
- D. Добавить 9



- A. Вычесть 11
- B. Вычесть 15
- C. Добавить 10
- D. Вычесть 20



- A. Вычесть 19
- B. Вычесть 25
- C. Вычесть 24
- D. Добавить 22

1. **C**
2. **A**
3. **C**
4. **C**
5. **B**
6. **B**
7. **B**
8. **C**
9. **B**
10. **C**