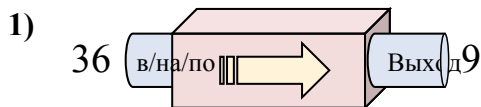


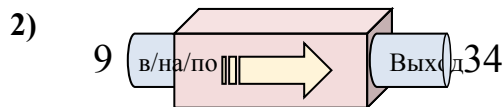


Определите какой закон используется в станке.

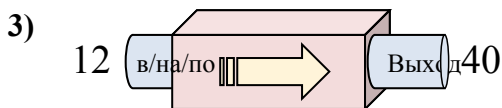
ОТВЕТЫ



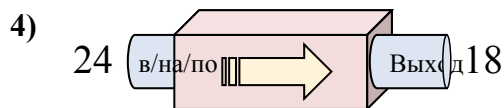
- A. Добавить 30
- B. Вычесть 32
- C. Вычесть 31
- D. Вычесть 27



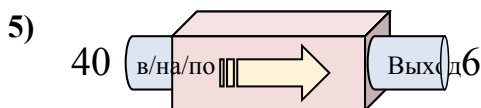
- A. Добавить 23
- B. Вычесть 29
- C. Вычесть 21
- D. Добавить 25



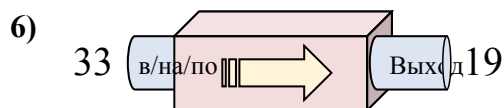
- A. Вычесть 30
- B. Добавить 33
- C. Добавить 29
- D. Добавить 28



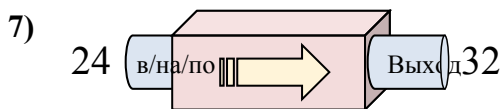
- A. Добавить 4
- B. Вычесть 2
- C. Вычесть 6
- D. Вычесть 5



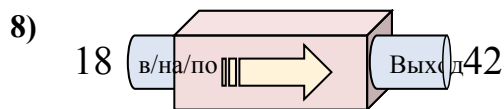
- A. Добавить 29
- B. Вычесть 39
- C. Вычесть 34
- D. Добавить 30



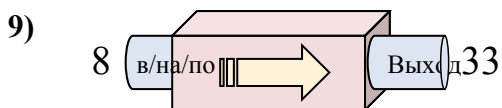
- A. Добавить 16
- B. Вычесть 17
- C. Вычесть 14
- D. Вычесть 9



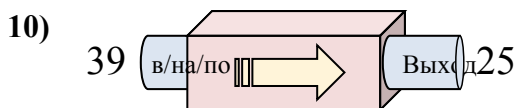
- A. Добавить 11
- B. Добавить 8
- C. Вычесть 12
- D. Добавить 12



- A. Добавить 24
- B. Добавить 23
- C. Вычесть 23
- D. Добавить 21



- A. Добавить 25
- B. Вычесть 24
- C. Вычесть 26
- D. Добавить 27



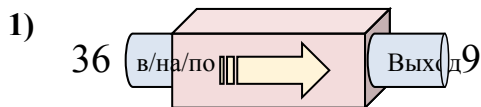
- A. Добавить 9
- B. Добавить 14
- C. Вычесть 10
- D. Вычесть 14

1. _____
2. _____
3. _____
4. _____
5. _____
6. _____
7. _____
8. _____
9. _____
10. _____

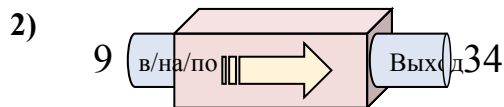


Определите какой закон используется в станке.

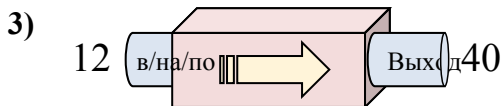
ОТВЕТЫ



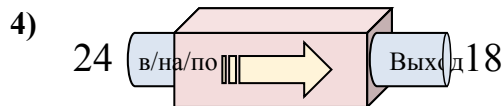
- A. Добавить 30
- B. Вычесть 32
- C. Вычесть 31
- D. Вычесть 27



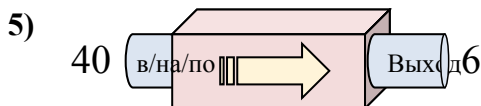
- A. Добавить 23
- B. Вычесть 29
- C. Вычесть 21
- D. Добавить 25



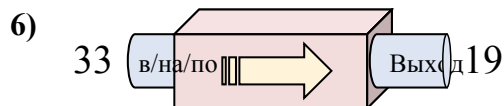
- A. Вычесть 30
- B. Добавить 33
- C. Добавить 29
- D. Добавить 28



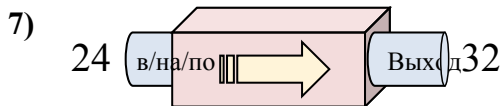
- A. Добавить 4
- B. Вычесть 2
- C. Вычесть 6
- D. Вычесть 5



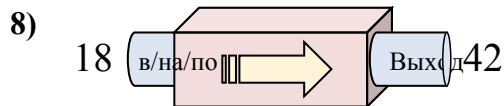
- A. Добавить 29
- B. Вычесть 39
- C. Вычесть 34
- D. Добавить 30



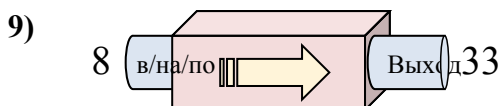
- A. Добавить 16
- B. Вычесть 17
- C. Вычесть 14
- D. Вычесть 9



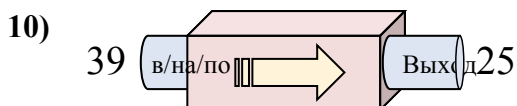
- A. Добавить 11
- B. Добавить 8
- C. Вычесть 12
- D. Добавить 12



- A. Добавить 24
- B. Добавить 23
- C. Вычесть 23
- D. Добавить 21



- A. Добавить 25
- B. Вычесть 24
- C. Вычесть 26
- D. Добавить 27



- A. Добавить 9
- B. Добавить 14
- C. Вычесть 10
- D. Вычесть 14

1. **D**
2. **D**
3. **D**
4. **C**
5. **C**
6. **C**
7. **B**
8. **A**
9. **A**
10. **D**