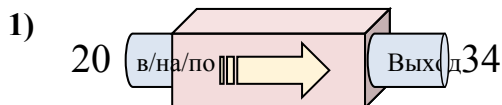


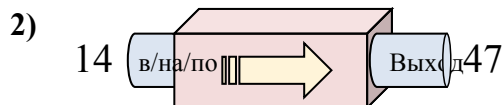


Определите какой закон используется в станке.

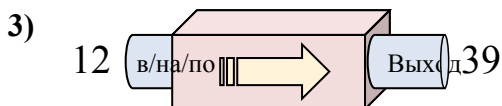
ОТВЕТЫ



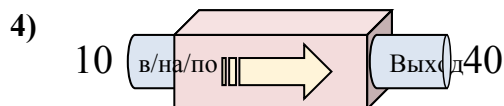
- A. Вычесть 13
- B. Добавить 14
- C. Добавить 12
- D. Добавить 9



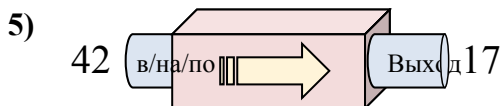
- A. Добавить 32
- B. Добавить 33
- C. Вычесть 35
- D. Добавить 37



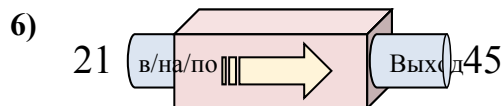
- A. Добавить 31
- B. Добавить 27
- C. Добавить 26
- D. Вычесть 24



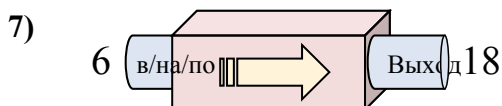
- A. Вычесть 28
- B. Вычесть 31
- C. Добавить 26
- D. Добавить 30



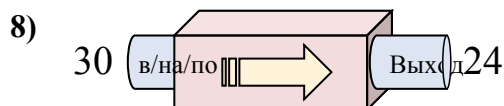
- A. Вычесть 29
- B. Добавить 24
- C. Вычесть 25
- D. Добавить 22



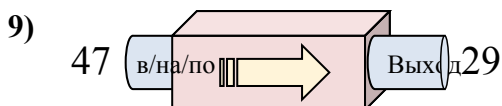
- A. Добавить 24
- B. Добавить 27
- C. Вычесть 29
- D. Добавить 25



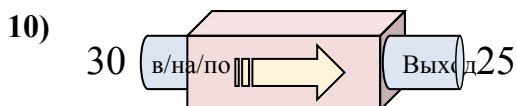
- A. Добавить 9
- B. Добавить 12
- C. Вычесть 9
- D. Добавить 14



- A. Вычесть 6
- B. Добавить 5
- C. Вычесть 11
- D. Вычесть 10



- A. Добавить 22
- B. Вычесть 18
- C. Вычесть 21
- D. Вычесть 19



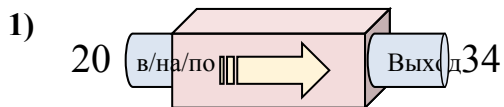
- A. Добавить 8
- B. Добавить 10
- C. Вычесть 7
- D. Вычесть 5

1. _____
2. _____
3. _____
4. _____
5. _____
6. _____
7. _____
8. _____
9. _____
10. _____

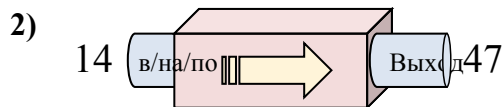


Определите какой закон используется в станке.

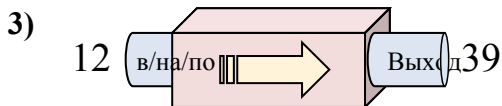
ОТВЕТЫ



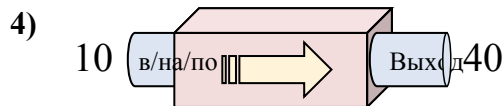
- A. Вычесть 13
- B. Добавить 14
- C. Добавить 12
- D. Добавить 9



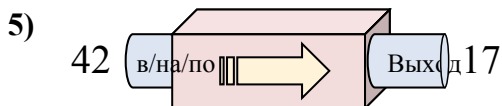
- A. Добавить 32
- B. Добавить 33
- C. Вычесть 35
- D. Добавить 37



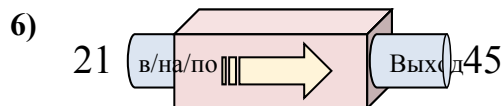
- A. Добавить 31
- B. Добавить 27
- C. Добавить 26
- D. Вычесть 24



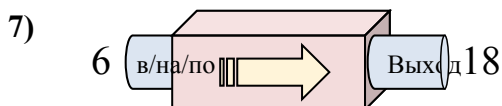
- A. Вычесть 28
- B. Вычесть 31
- C. Добавить 26
- D. Добавить 30



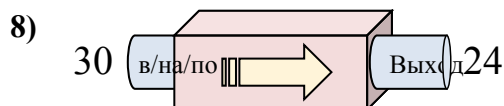
- A. Вычесть 29
- B. Добавить 24
- C. Вычесть 25
- D. Добавить 22



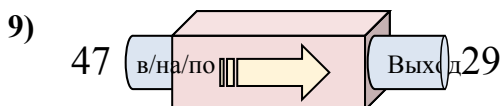
- A. Добавить 24
- B. Добавить 27
- C. Вычесть 29
- D. Добавить 25



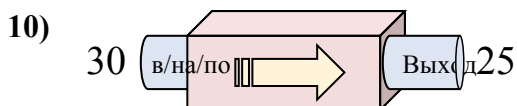
- A. Добавить 9
- B. Добавить 12
- C. Вычесть 9
- D. Добавить 14



- A. Вычесть 6
- B. Добавить 5
- C. Вычесть 11
- D. Вычесть 10



- A. Добавить 22
- B. Вычесть 18
- C. Вычесть 21
- D. Вычесть 19



- A. Добавить 8
- B. Добавить 10
- C. Вычесть 7
- D. Вычесть 5

1. **В**2. **В**3. **В**4. **Д**5. **С**6. **А**7. **В**8. **А**9. **В**10. **Д**