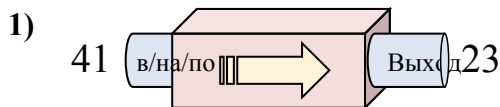


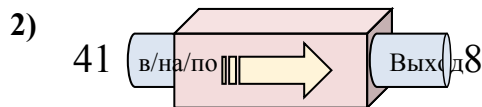


Определите какой закон используется в станке.

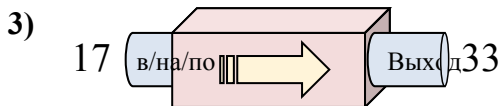
ОТВЕТЫ



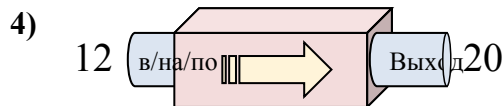
- A. Вычесть 18
- B. Добавить 21
- C. Добавить 16
- D. Вычесть 16



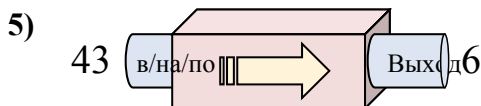
- A. Вычесть 33
- B. Вычесть 29
- C. Добавить 31
- D. Вычесть 31



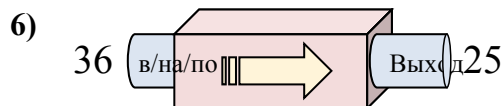
- A. Добавить 16
- B. Вычесть 18
- C. Добавить 20
- D. Добавить 18



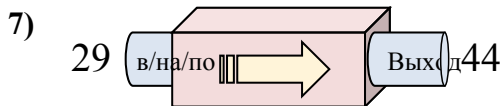
- A. Добавить 11
- B. Вычесть 7
- C. Добавить 7
- D. Добавить 8



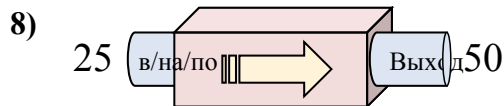
- A. Вычесть 37
- B. Вычесть 38
- C. Вычесть 34
- D. Добавить 42



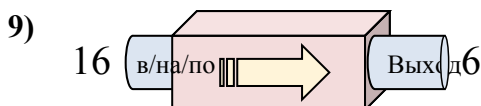
- A. Вычесть 14
- B. Вычесть 15
- C. Добавить 8
- D. Вычесть 11



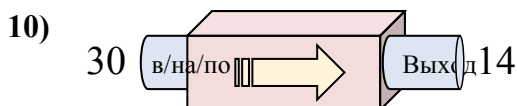
- A. Вычесть 12
- B. Добавить 16
- C. Добавить 17
- D. Добавить 15



- A. Добавить 30
- B. Вычесть 30
- C. Добавить 25
- D. Добавить 26



- A. Вычесть 6
- B. Вычесть 10
- C. Вычесть 15
- D. Вычесть 13

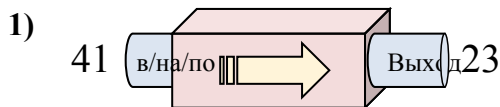


- A. Вычесть 19
- B. Вычесть 12
- C. Вычесть 16
- D. Добавить 12

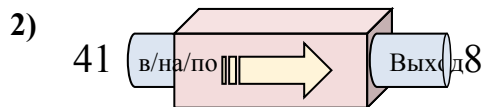
1. _____
2. _____
3. _____
4. _____
5. _____
6. _____
7. _____
8. _____
9. _____
10. _____



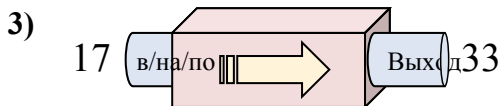
Определите какой закон используется в станке.



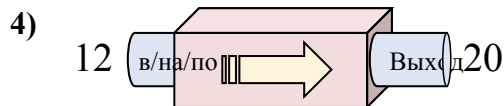
- A. Вычесть 18
- B. Добавить 21
- C. Добавить 16
- D. Вычесть 16



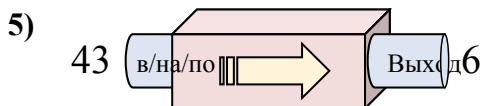
- A. Вычесть 33
- B. Вычесть 29
- C. Добавить 31
- D. Вычесть 31



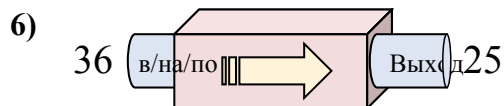
- A. Добавить 16
- B. Вычесть 18
- C. Добавить 20
- D. Добавить 18



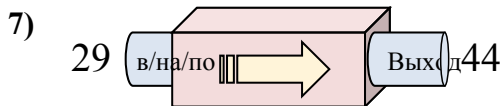
- A. Добавить 11
- B. Вычесть 7
- C. Добавить 7
- D. Добавить 8



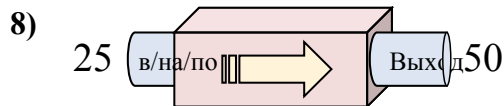
- A. Вычесть 37
- B. Вычесть 38
- C. Вычесть 34
- D. Добавить 42



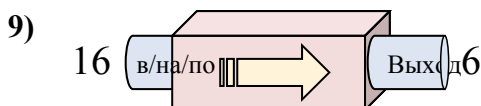
- A. Вычесть 14
- B. Вычесть 15
- C. Добавить 8
- D. Вычесть 11



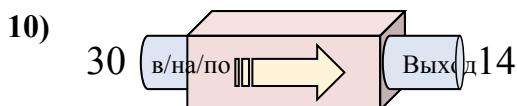
- A. Вычесть 12
- B. Добавить 16
- C. Добавить 17
- D. Добавить 15



- A. Добавить 30
- B. Вычесть 30
- C. Добавить 25
- D. Добавить 26



- A. Вычесть 6
- B. Вычесть 10
- C. Вычесть 15
- D. Вычесть 13



- A. Вычесть 19
- B. Вычесть 12
- C. Вычесть 16
- D. Добавить 12

ОТВЕТЫ1. **A**2. **A**3. **A**4. **D**5. **A**6. **D**7. **D**8. **C**9. **B**10. **C**