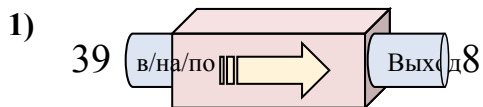


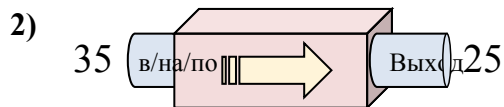


Определите какой закон используется в станке.

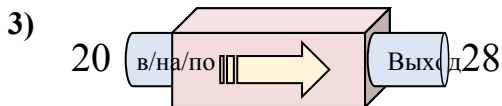
**ОТВЕТЫ**



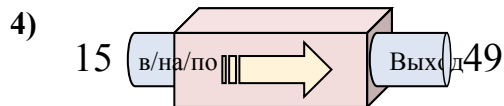
- A. Вычесть 34
- B. Добавить 28
- C. Добавить 26
- D. Вычесть 31



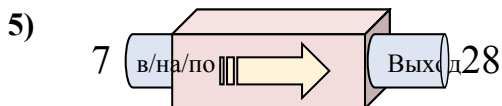
- A. Вычесть 6
- B. Вычесть 14
- C. Вычесть 10
- D. Добавить 9



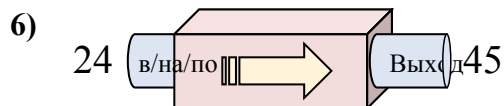
- A. Добавить 3
- B. Добавить 4
- C. Добавить 9
- D. Добавить 8



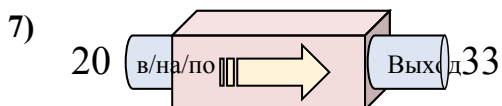
- A. Вычесть 36
- B. Добавить 29
- C. Добавить 34
- D. Добавить 31



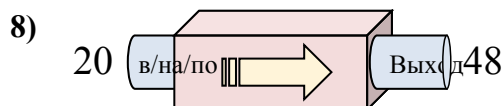
- A. Вычесть 20
- B. Добавить 23
- C. Добавить 20
- D. Добавить 21



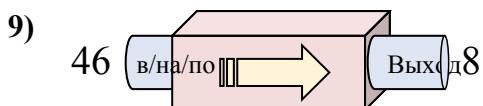
- A. Добавить 17
- B. Вычесть 22
- C. Добавить 18
- D. Добавить 21



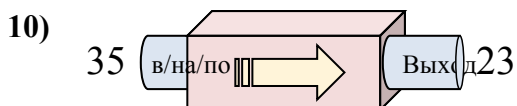
- A. Добавить 9
- B. Добавить 15
- C. Добавить 17
- D. Добавить 13



- A. Добавить 28
- B. Вычесть 27
- C. Добавить 25
- D. Добавить 29



- A. Вычесть 42
- B. Вычесть 40
- C. Добавить 34
- D. Вычесть 38

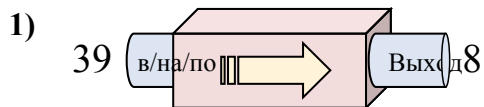


- A. Вычесть 10
- B. Вычесть 12
- C. Добавить 17
- D. Добавить 8

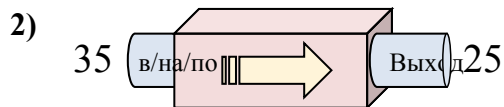
1. \_\_\_\_\_
2. \_\_\_\_\_
3. \_\_\_\_\_
4. \_\_\_\_\_
5. \_\_\_\_\_
6. \_\_\_\_\_
7. \_\_\_\_\_
8. \_\_\_\_\_
9. \_\_\_\_\_
10. \_\_\_\_\_



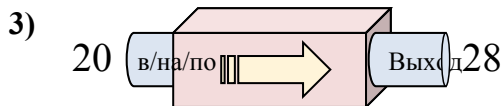
Определите какой закон используется в станке.



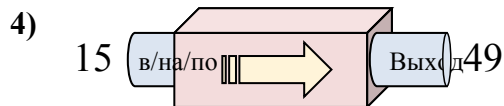
- A. Вычесть 34
- B. Добавить 28
- C. Добавить 26
- D. Вычесть 31



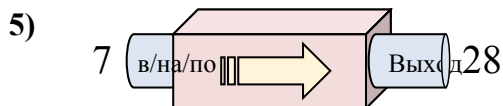
- A. Вычесть 6
- B. Вычесть 14
- C. Вычесть 10
- D. Добавить 9



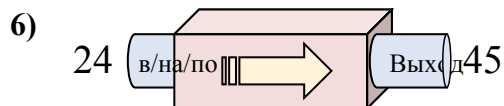
- A. Добавить 3
- B. Добавить 4
- C. Добавить 9
- D. Добавить 8



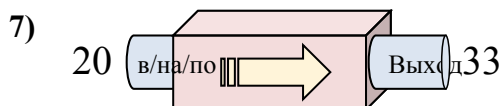
- A. Вычесть 36
- B. Добавить 29
- C. Добавить 34
- D. Добавить 31



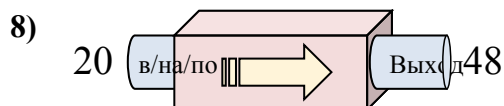
- A. Вычесть 20
- B. Добавить 23
- C. Добавить 20
- D. Добавить 21



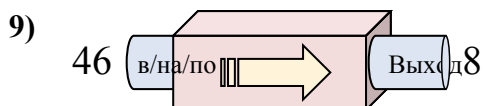
- A. Добавить 17
- B. Вычесть 22
- C. Добавить 18
- D. Добавить 21



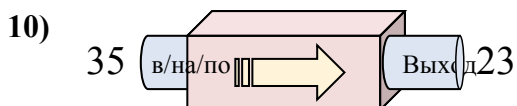
- A. Добавить 9
- B. Добавить 15
- C. Добавить 17
- D. Добавить 13



- A. Добавить 28
- B. Вычесть 27
- C. Добавить 25
- D. Добавить 29



- A. Вычесть 42
- B. Вычесть 40
- C. Добавить 34
- D. Вычесть 38



- A. Вычесть 10
- B. Вычесть 12
- C. Добавить 17
- D. Добавить 8

**ОТВЕТЫ**1. **D**2. **C**3. **D**4. **C**5. **D**6. **D**7. **D**8. **A**9. **D**10. **B**