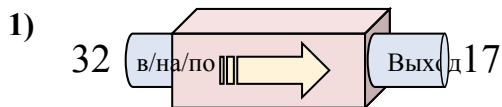


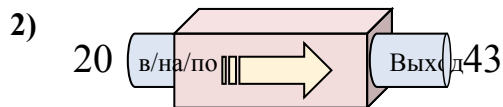


Определите какой закон используется в станке.

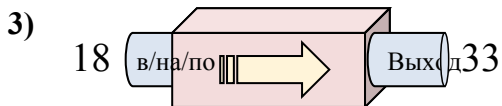
ОТВЕТЫ



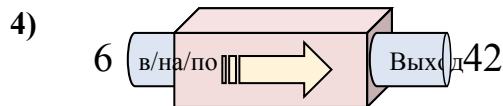
- A. Вычесть 20
- B. Вычесть 14
- C. Добавить 12
- D. Вычесть 15



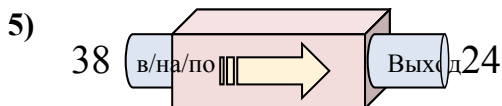
- A. Добавить 24
- B. Добавить 21
- C. Добавить 20
- D. Добавить 23



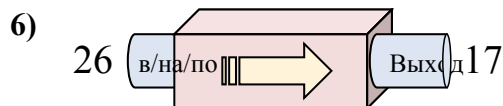
- A. Добавить 15
- B. Вычесть 19
- C. Добавить 17
- D. Добавить 10



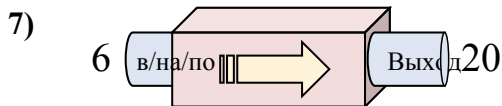
- A. Добавить 31
- B. Вычесть 31
- C. Добавить 36
- D. Вычесть 40



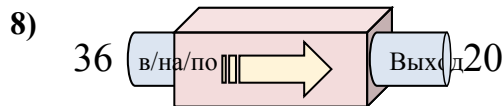
- A. Вычесть 12
- B. Вычесть 14
- C. Вычесть 13
- D. Добавить 11



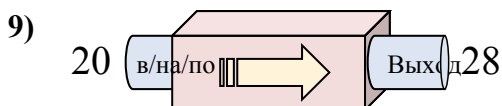
- A. Добавить 6
- B. Вычесть 8
- C. Вычесть 9
- D. Вычесть 4



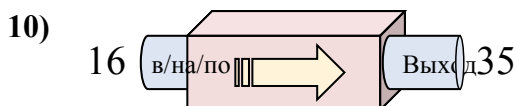
- A. Вычесть 13
- B. Вычесть 14
- C. Добавить 18
- D. Добавить 14



- A. Вычесть 16
- B. Вычесть 11
- C. Добавить 16
- D. Вычесть 13



- A. Добавить 5
- B. Добавить 8
- C. Вычесть 11
- D. Добавить 7



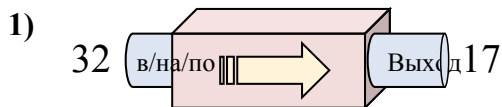
- A. Добавить 24
- B. Добавить 19
- C. Вычесть 16
- D. Вычесть 24

1. _____
2. _____
3. _____
4. _____
5. _____
6. _____
7. _____
8. _____
9. _____
10. _____

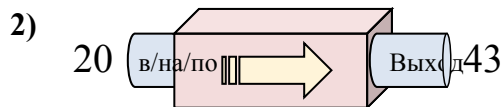


Определите какой закон используется в станке.

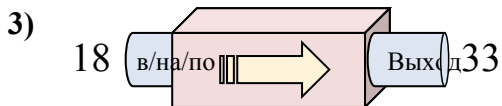
ОТВЕТЫ



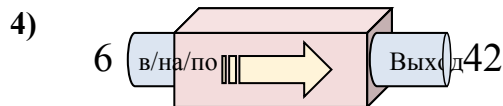
- A. Вычесть 20
- B. Вычесть 14
- C. Добавить 12
- D. Вычесть 15



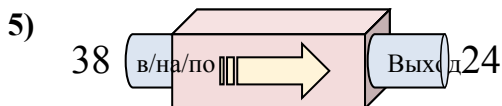
- A. Добавить 24
- B. Добавить 21
- C. Добавить 20
- D. Добавить 23



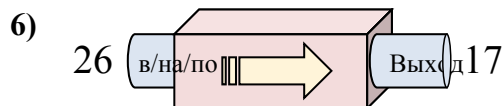
- A. Добавить 15
- B. Вычесть 19
- C. Добавить 17
- D. Добавить 10



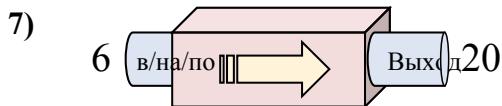
- A. Добавить 31
- B. Вычесть 31
- C. Добавить 36
- D. Вычесть 40



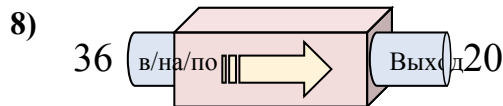
- A. Вычесть 12
- B. Вычесть 14
- C. Вычесть 13
- D. Добавить 11



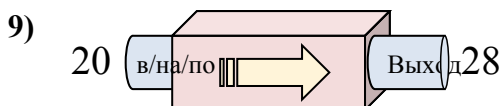
- A. Добавить 6
- B. Вычесть 8
- C. Вычесть 9
- D. Вычесть 4



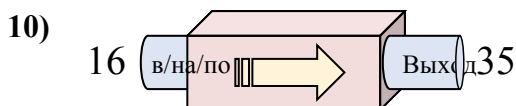
- A. Вычесть 13
- B. Вычесть 14
- C. Добавить 18
- D. Добавить 14



- A. Вычесть 16
- B. Вычесть 11
- C. Добавить 16
- D. Вычесть 13



- A. Добавить 5
- B. Добавить 8
- C. Вычесть 11
- D. Добавить 7



- A. Добавить 24
- B. Добавить 19
- C. Вычесть 16
- D. Вычесть 24

1. **D**2. **D**3. **A**4. **C**5. **B**6. **C**7. **D**8. **A**9. **B**10. **B**