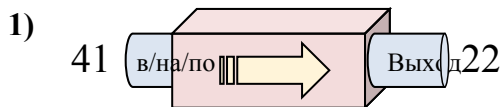


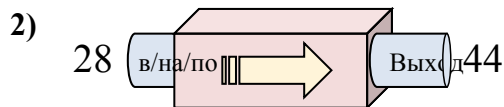


Определите какой закон используется в станке.

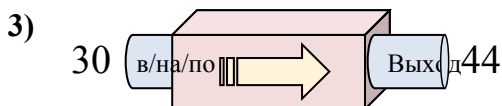
**ОТВЕТЫ**



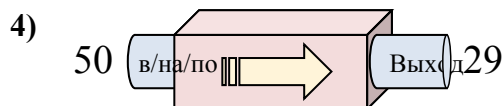
- A. Вычесть 19
- B. Добавить 16
- C. Вычесть 24
- D. Добавить 24



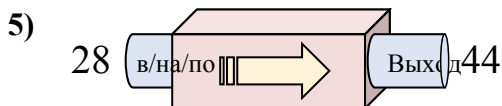
- A. Добавить 16
- B. Добавить 18
- C. Вычесть 16
- D. Добавить 21



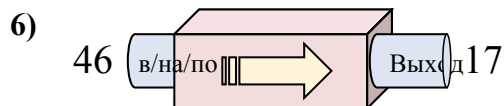
- A. Добавить 12
- B. Добавить 17
- C. Вычесть 18
- D. Добавить 14



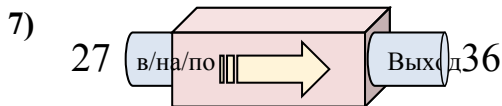
- A. Добавить 23
- B. Вычесть 21
- C. Добавить 24
- D. Вычесть 23



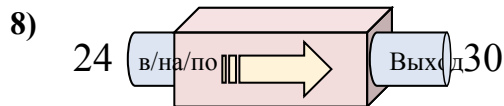
- A. Добавить 12
- B. Добавить 19
- C. Добавить 16
- D. Добавить 21



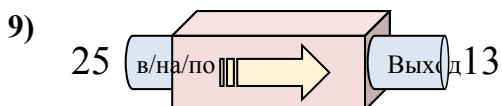
- A. Вычесть 25
- B. Вычесть 29
- C. Добавить 31
- D. Добавить 34



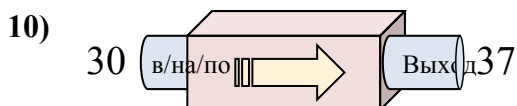
- A. Добавить 7
- B. Добавить 6
- C. Добавить 9
- D. Вычесть 13



- A. Вычесть 7
- B. Добавить 2
- C. Добавить 6
- D. Добавить 10



- A. Добавить 12
- B. Вычесть 8
- C. Добавить 11
- D. Вычесть 12



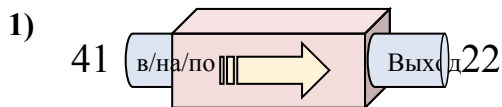
- A. Добавить 7
- B. Добавить 9
- C. Добавить 3
- D. Вычесть 3

1. \_\_\_\_\_
2. \_\_\_\_\_
3. \_\_\_\_\_
4. \_\_\_\_\_
5. \_\_\_\_\_
6. \_\_\_\_\_
7. \_\_\_\_\_
8. \_\_\_\_\_
9. \_\_\_\_\_
10. \_\_\_\_\_

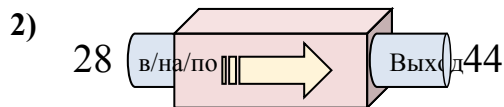


Определите какой закон используется в станке.

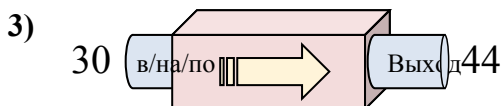
**ОТВЕТЫ**



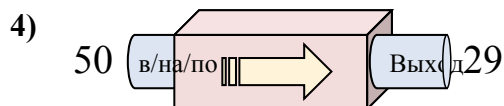
- A. Вычесть 19
- B. Добавить 16
- C. Вычесть 24
- D. Добавить 24



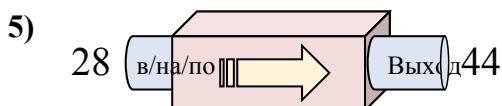
- A. Добавить 16
- B. Добавить 18
- C. Вычесть 16
- D. Добавить 21



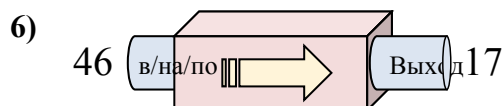
- A. Добавить 12
- B. Добавить 17
- C. Вычесть 18
- D. Добавить 14



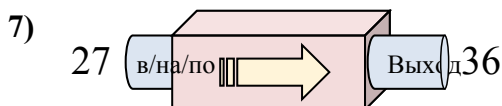
- A. Добавить 23
- B. Вычесть 21
- C. Добавить 24
- D. Вычесть 23



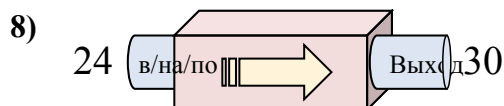
- A. Добавить 12
- B. Добавить 19
- C. Добавить 16
- D. Добавить 21



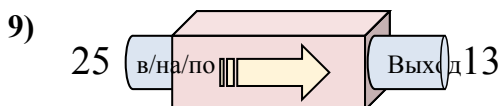
- A. Вычесть 25
- B. Вычесть 29
- C. Добавить 31
- D. Добавить 34



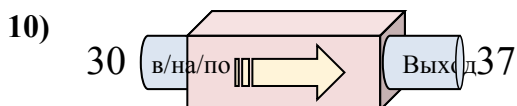
- A. Добавить 7
- B. Добавить 6
- C. Добавить 9
- D. Вычесть 13



- A. Вычесть 7
- B. Добавить 2
- C. Добавить 6
- D. Добавить 10



- A. Добавить 12
- B. Вычесть 8
- C. Добавить 11
- D. Вычесть 12



- A. Добавить 7
- B. Добавить 9
- C. Добавить 3
- D. Вычесть 3

1.   **A**  2.   **A**  3.   **D**  4.   **B**  5.   **C**  6.   **B**  7.   **C**  8.   **C**  9.   **D**  10.   **A**