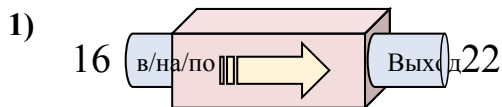


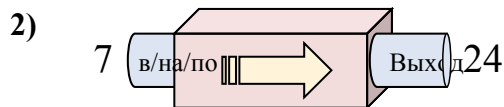


Определите какой закон используется в станке.

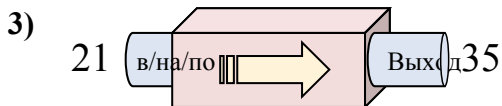
ОТВЕТЫ



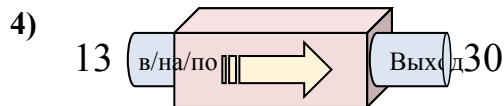
- A. Добавить 11
- B. Добавить 7
- C. Добавить 6
- D. Добавить 5



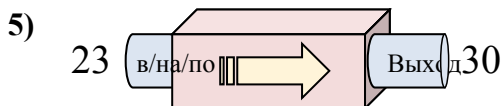
- A. Добавить 17
- B. Добавить 18
- C. Вычесть 14
- D. Вычесть 18



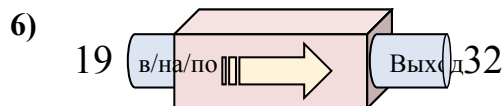
- A. Вычесть 11
- B. Добавить 18
- C. Добавить 14
- D. Вычесть 15



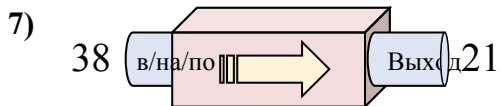
- A. Добавить 18
- B. Добавить 21
- C. Добавить 17
- D. Вычесть 19



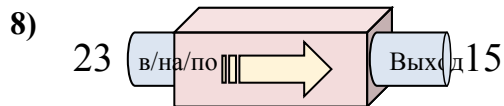
- A. Вычесть 11
- B. Добавить 7
- C. Вычесть 3
- D. Добавить 4



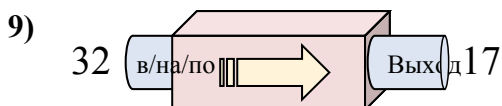
- A. Вычесть 13
- B. Добавить 13
- C. Добавить 17
- D. Вычесть 8



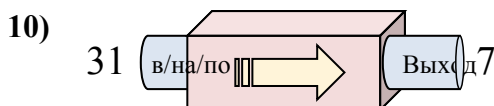
- A. Вычесть 18
- B. Вычесть 17
- C. Добавить 13
- D. Вычесть 14



- A. Вычесть 9
- B. Вычесть 11
- C. Вычесть 8
- D. Добавить 9



- A. Вычесть 11
- B. Вычесть 15
- C. Добавить 10
- D. Вычесть 20



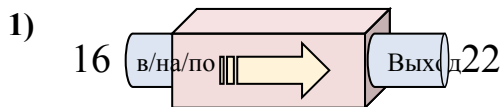
- A. Вычесть 19
- B. Вычесть 25
- C. Вычесть 24
- D. Добавить 22

1. _____
2. _____
3. _____
4. _____
5. _____
6. _____
7. _____
8. _____
9. _____
10. _____

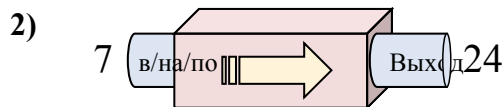


Определите какой закон используется в станке.

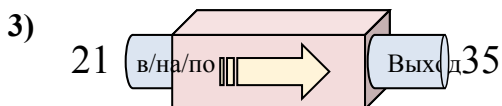
ОТВЕТЫ



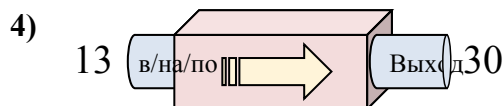
- A. Добавить 11
- B. Добавить 7
- C. Добавить 6
- D. Добавить 5



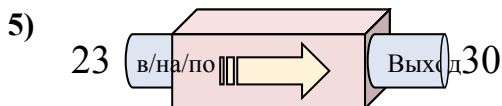
- A. Добавить 17
- B. Добавить 18
- C. Вычесть 14
- D. Вычесть 18



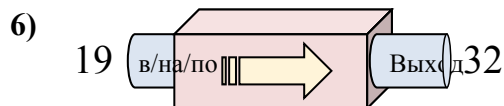
- A. Вычесть 11
- B. Добавить 18
- C. Добавить 14
- D. Вычесть 15



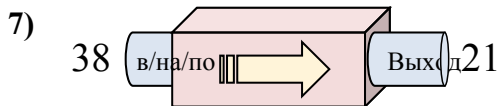
- A. Добавить 18
- B. Добавить 21
- C. Добавить 17
- D. Вычесть 19



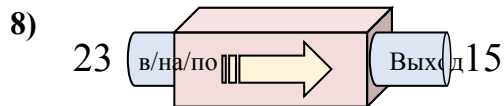
- A. Вычесть 11
- B. Добавить 7
- C. Вычесть 3
- D. Добавить 4



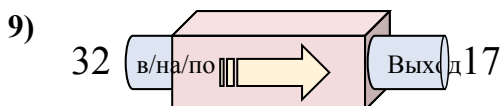
- A. Вычесть 13
- B. Добавить 13
- C. Добавить 17
- D. Вычесть 8



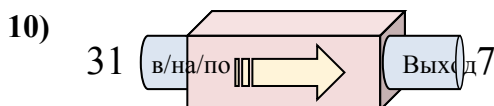
- A. Вычесть 18
- B. Вычесть 17
- C. Добавить 13
- D. Вычесть 14



- A. Вычесть 9
- B. Вычесть 11
- C. Вычесть 8
- D. Добавить 9



- A. Вычесть 11
- B. Вычесть 15
- C. Добавить 10
- D. Вычесть 20



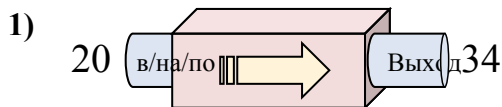
- A. Вычесть 19
- B. Вычесть 25
- C. Вычесть 24
- D. Добавить 22

1. **C**
2. **A**
3. **C**
4. **C**
5. **B**
6. **B**
7. **B**
8. **C**
9. **B**
10. **C**

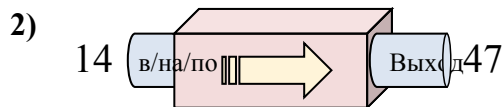


Определите какой закон используется в станке.

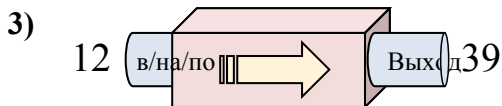
ОТВЕТЫ



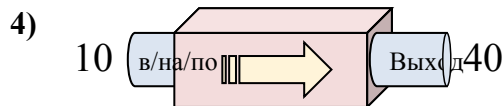
- A. Вычесть 13
- B. Добавить 14
- C. Добавить 12
- D. Добавить 9



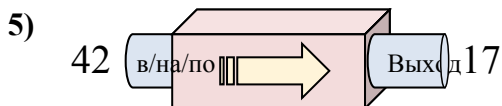
- A. Добавить 32
- B. Добавить 33
- C. Вычесть 35
- D. Добавить 37



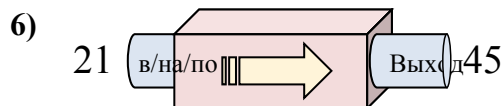
- A. Добавить 31
- B. Добавить 27
- C. Добавить 26
- D. Вычесть 24



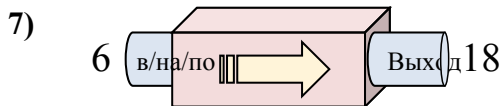
- A. Вычесть 28
- B. Вычесть 31
- C. Добавить 26
- D. Добавить 30



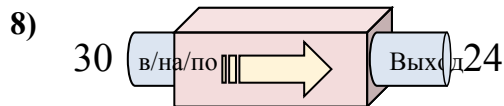
- A. Вычесть 29
- B. Добавить 24
- C. Вычесть 25
- D. Добавить 22



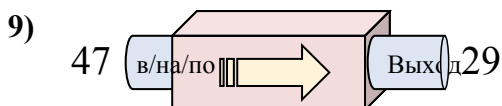
- A. Добавить 24
- B. Добавить 27
- C. Вычесть 29
- D. Добавить 25



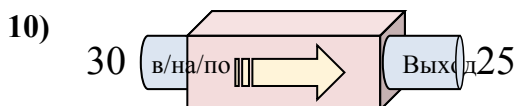
- A. Добавить 9
- B. Добавить 12
- C. Вычесть 9
- D. Добавить 14



- A. Вычесть 6
- B. Добавить 5
- C. Вычесть 11
- D. Вычесть 10



- A. Добавить 22
- B. Вычесть 18
- C. Вычесть 21
- D. Вычесть 19

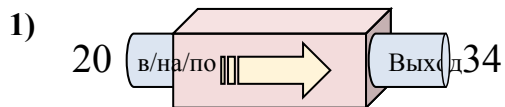


- A. Добавить 8
- B. Добавить 10
- C. Вычесть 7
- D. Вычесть 5

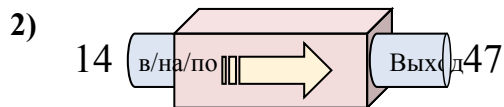
1. _____
2. _____
3. _____
4. _____
5. _____
6. _____
7. _____
8. _____
9. _____
10. _____



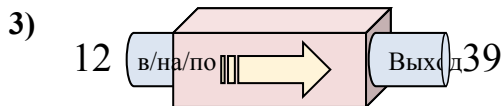
Определите какой закон используется в станке.



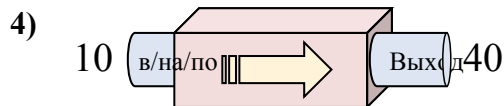
- A. Вычесть 13
- B. Добавить 14
- C. Добавить 12
- D. Добавить 9



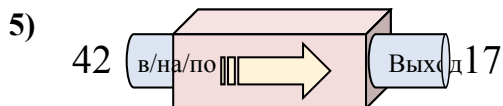
- A. Добавить 32
- B. Добавить 33
- C. Вычесть 35
- D. Добавить 37



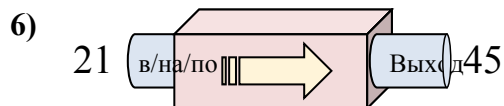
- A. Добавить 31
- B. Добавить 27
- C. Добавить 26
- D. Вычесть 24



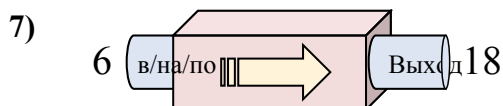
- A. Вычесть 28
- B. Вычесть 31
- C. Добавить 26
- D. Добавить 30



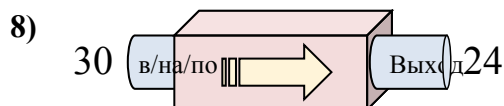
- A. Вычесть 29
- B. Добавить 24
- C. Вычесть 25
- D. Добавить 22



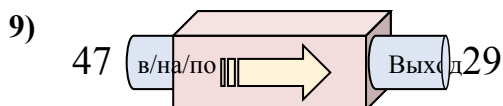
- A. Добавить 24
- B. Добавить 27
- C. Вычесть 29
- D. Добавить 25



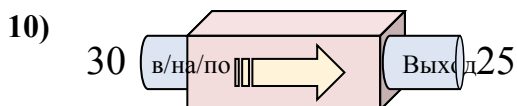
- A. Добавить 9
- B. Добавить 12
- C. Вычесть 9
- D. Добавить 14



- A. Вычесть 6
- B. Добавить 5
- C. Вычесть 11
- D. Вычесть 10



- A. Добавить 22
- B. Вычесть 18
- C. Вычесть 21
- D. Вычесть 19



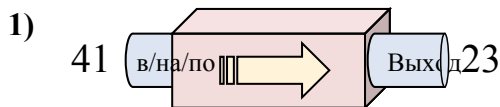
- A. Добавить 8
- B. Добавить 10
- C. Вычесть 7
- D. Вычесть 5

ОТВЕТЫ1. **В**2. **В**3. **В**4. **Д**5. **С**6. **А**7. **В**8. **А**9. **В**10. **Д**

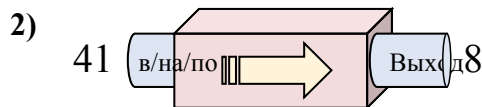


Определите какой закон используется в станке.

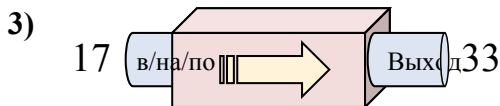
ОТВЕТЫ



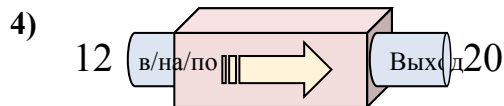
- A. Вычесть 18
- B. Добавить 21
- C. Добавить 16
- D. Вычесть 16



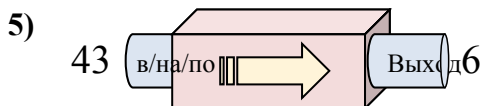
- A. Вычесть 33
- B. Вычесть 29
- C. Добавить 31
- D. Вычесть 31



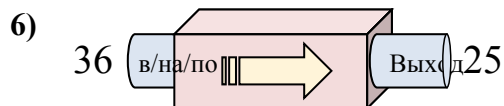
- A. Добавить 16
- B. Вычесть 18
- C. Добавить 20
- D. Добавить 18



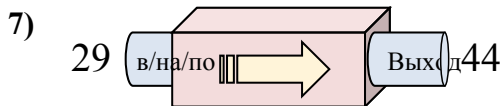
- A. Добавить 11
- B. Вычесть 7
- C. Добавить 7
- D. Добавить 8



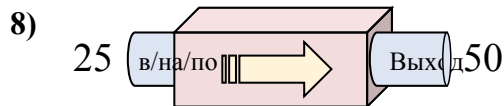
- A. Вычесть 37
- B. Вычесть 38
- C. Вычесть 34
- D. Добавить 42



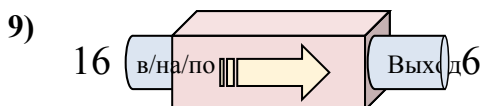
- A. Вычесть 14
- B. Вычесть 15
- C. Добавить 8
- D. Вычесть 11



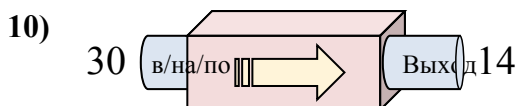
- A. Вычесть 12
- B. Добавить 16
- C. Добавить 17
- D. Добавить 15



- A. Добавить 30
- B. Вычесть 30
- C. Добавить 25
- D. Добавить 26



- A. Вычесть 6
- B. Вычесть 10
- C. Вычесть 15
- D. Вычесть 13



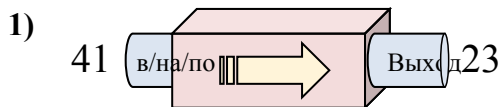
- A. Вычесть 19
- B. Вычесть 12
- C. Вычесть 16
- D. Добавить 12

1. _____
2. _____
3. _____
4. _____
5. _____
6. _____
7. _____
8. _____
9. _____
10. _____

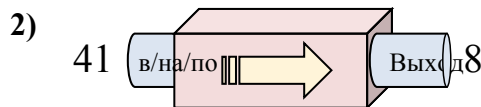


Определите какой закон используется в станке.

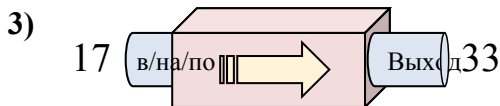
ОТВЕТЫ



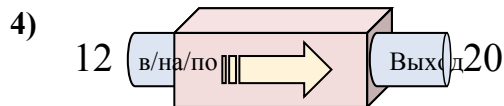
- A. Вычесть 18
- B. Добавить 21
- C. Добавить 16
- D. Вычесть 16



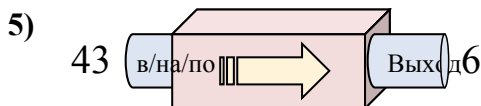
- A. Вычесть 33
- B. Вычесть 29
- C. Добавить 31
- D. Вычесть 31



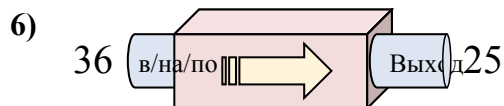
- A. Добавить 16
- B. Вычесть 18
- C. Добавить 20
- D. Добавить 18



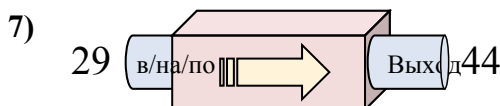
- A. Добавить 11
- B. Вычесть 7
- C. Добавить 7
- D. Добавить 8



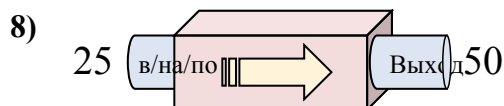
- A. Вычесть 37
- B. Вычесть 38
- C. Вычесть 34
- D. Добавить 42



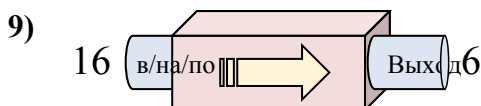
- A. Вычесть 14
- B. Вычесть 15
- C. Добавить 8
- D. Вычесть 11



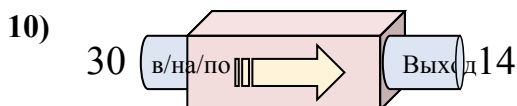
- A. Вычесть 12
- B. Добавить 16
- C. Добавить 17
- D. Добавить 15



- A. Добавить 30
- B. Вычесть 30
- C. Добавить 25
- D. Добавить 26



- A. Вычесть 6
- B. Вычесть 10
- C. Вычесть 15
- D. Вычесть 13



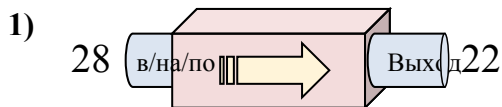
- A. Вычесть 19
- B. Вычесть 12
- C. Вычесть 16
- D. Добавить 12

1. **A**
2. **A**
3. **A**
4. **D**
5. **A**
6. **D**
7. **D**
8. **C**
9. **B**
10. **C**

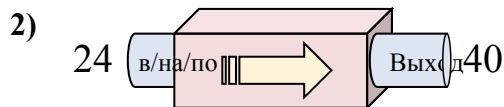


Определите какой закон используется в станке.

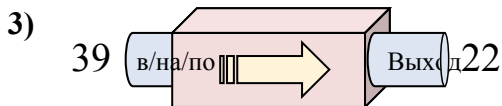
ОТВЕТЫ



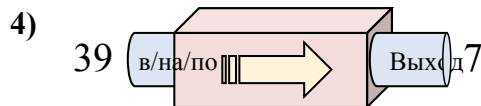
- A. Вычесть 5
- B. Вычесть 11
- C. Вычесть 6
- D. Добавить 5



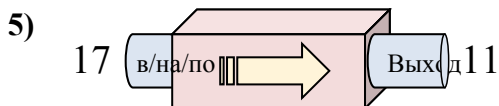
- A. Добавить 20
- B. Добавить 17
- C. Вычесть 19
- D. Добавить 16



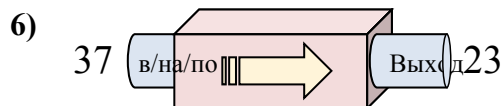
- A. Добавить 17
- B. Вычесть 17
- C. Вычесть 20
- D. Вычесть 19



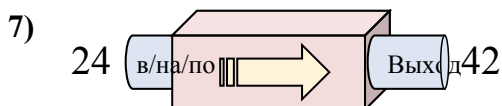
- A. Вычесть 30
- B. Вычесть 35
- C. Вычесть 32
- D. Вычесть 34



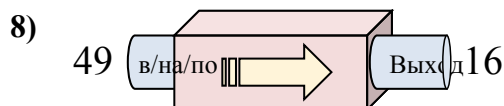
- A. Добавить 9
- B. Вычесть 8
- C. Вычесть 6
- D. Вычесть 2



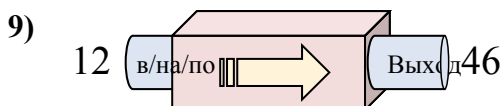
- A. Вычесть 12
- B. Добавить 10
- C. Вычесть 14
- D. Вычесть 15



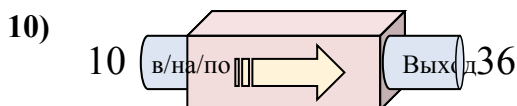
- A. Добавить 18
- B. Добавить 15
- C. Добавить 22
- D. Добавить 14



- A. Вычесть 33
- B. Вычесть 32
- C. Добавить 32
- D. Добавить 30



- A. Добавить 37
- B. Добавить 32
- C. Добавить 34
- D. Добавить 38

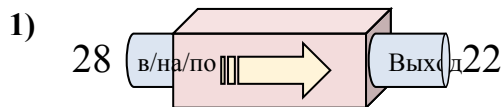


- A. Добавить 29
- B. Добавить 26
- C. Вычесть 29
- D. Добавить 30

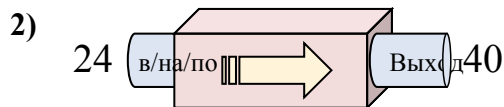
1. _____
2. _____
3. _____
4. _____
5. _____
6. _____
7. _____
8. _____
9. _____
10. _____



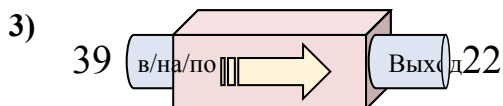
Определите какой закон используется в станке.



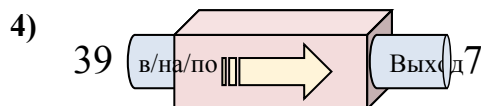
- A. Вычесть 5
- B. Вычесть 11
- C. Вычесть 6
- D. Добавить 5



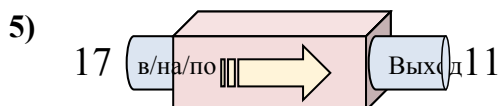
- A. Добавить 20
- B. Добавить 17
- C. Вычесть 19
- D. Добавить 16



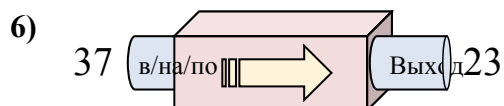
- A. Добавить 17
- B. Вычесть 17
- C. Вычесть 20
- D. Вычесть 19



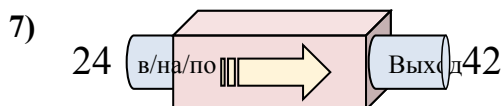
- A. Вычесть 30
- B. Вычесть 35
- C. Вычесть 32
- D. Вычесть 34



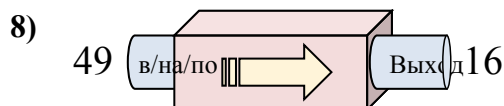
- A. Добавить 9
- B. Вычесть 8
- C. Вычесть 6
- D. Вычесть 2



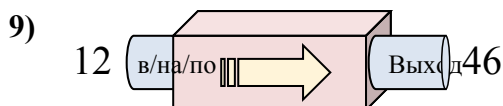
- A. Вычесть 12
- B. Добавить 10
- C. Вычесть 14
- D. Вычесть 15



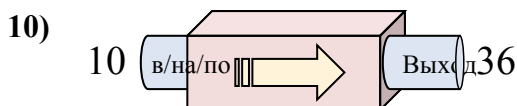
- A. Добавить 18
- B. Добавить 15
- C. Добавить 22
- D. Добавить 14



- A. Вычесть 33
- B. Вычесть 32
- C. Добавить 32
- D. Добавить 30



- A. Добавить 37
- B. Добавить 32
- C. Добавить 34
- D. Добавить 38



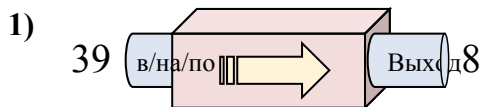
- A. Добавить 29
- B. Добавить 26
- C. Вычесть 29
- D. Добавить 30

ОТВЕТЫ1. **C**2. **D**3. **B**4. **C**5. **C**6. **C**7. **A**8. **A**9. **C**10. **B**

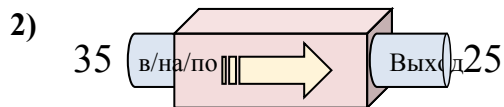


Определите какой закон используется в станке.

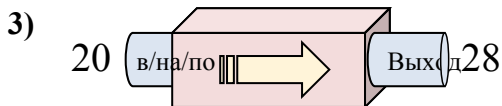
ОТВЕТЫ



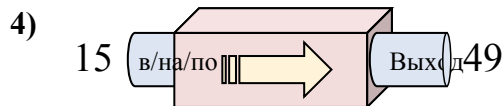
- A. Вычесть 34
- B. Добавить 28
- C. Добавить 26
- D. Вычесть 31



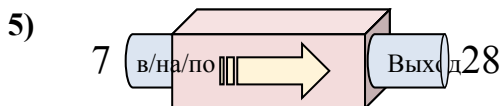
- A. Вычесть 6
- B. Вычесть 14
- C. Вычесть 10
- D. Добавить 9



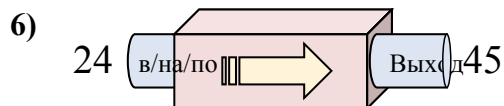
- A. Добавить 3
- B. Добавить 4
- C. Добавить 9
- D. Добавить 8



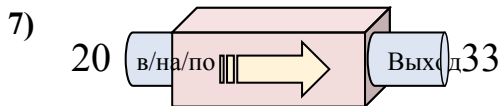
- A. Вычесть 36
- B. Добавить 29
- C. Добавить 34
- D. Добавить 31



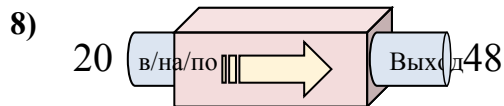
- A. Вычесть 20
- B. Добавить 23
- C. Добавить 20
- D. Добавить 21



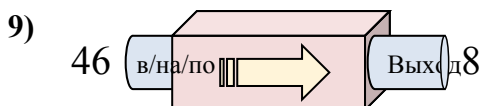
- A. Добавить 17
- B. Вычесть 22
- C. Добавить 18
- D. Добавить 21



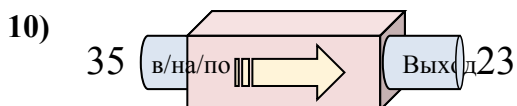
- A. Добавить 9
- B. Добавить 15
- C. Добавить 17
- D. Добавить 13



- A. Добавить 28
- B. Вычесть 27
- C. Добавить 25
- D. Добавить 29



- A. Вычесть 42
- B. Вычесть 40
- C. Добавить 34
- D. Вычесть 38



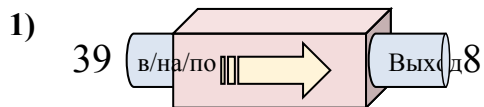
- A. Вычесть 10
- B. Вычесть 12
- C. Добавить 17
- D. Добавить 8

1. _____
2. _____
3. _____
4. _____
5. _____
6. _____
7. _____
8. _____
9. _____
10. _____

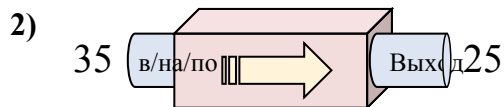


Определите какой закон используется в станке.

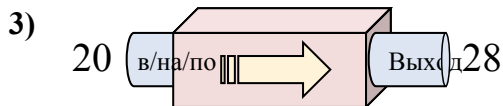
ОТВЕТЫ



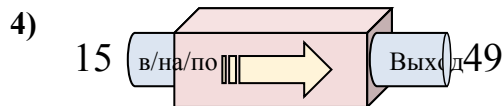
- A. Вычесть 34
- B. Добавить 28
- C. Добавить 26
- D. Вычесть 31



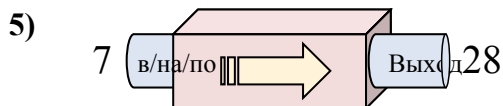
- A. Вычесть 6
- B. Вычесть 14
- C. Вычесть 10
- D. Добавить 9



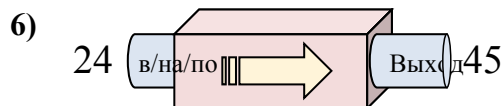
- A. Добавить 3
- B. Добавить 4
- C. Добавить 9
- D. Добавить 8



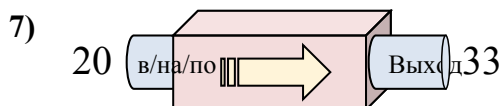
- A. Вычесть 36
- B. Добавить 29
- C. Добавить 34
- D. Добавить 31



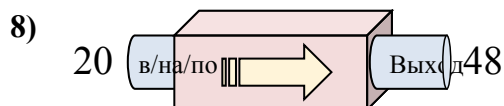
- A. Вычесть 20
- B. Добавить 23
- C. Добавить 20
- D. Добавить 21



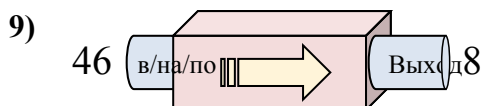
- A. Добавить 17
- B. Вычесть 22
- C. Добавить 18
- D. Добавить 21



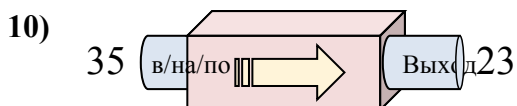
- A. Добавить 9
- B. Добавить 15
- C. Добавить 17
- D. Добавить 13



- A. Добавить 28
- B. Вычесть 27
- C. Добавить 25
- D. Добавить 29



- A. Вычесть 42
- B. Вычесть 40
- C. Добавить 34
- D. Вычесть 38



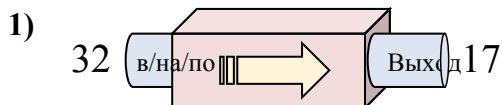
- A. Вычесть 10
- B. Вычесть 12
- C. Добавить 17
- D. Добавить 8

1. **D**2. **C**3. **D**4. **C**5. **D**6. **D**7. **D**8. **A**9. **D**10. **B**

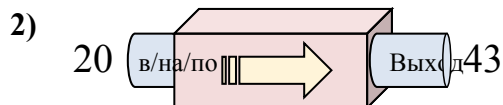


Определите какой закон используется в станке.

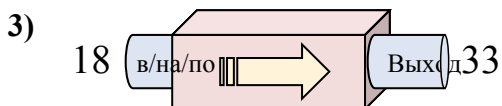
ОТВЕТЫ



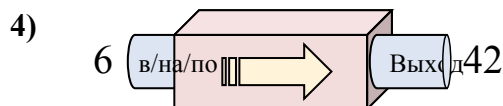
- A. Вычесть 20
- B. Вычесть 14
- C. Добавить 12
- D. Вычесть 15



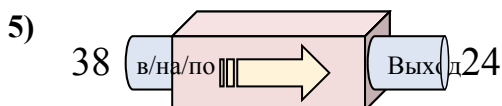
- A. Добавить 24
- B. Добавить 21
- C. Добавить 20
- D. Добавить 23



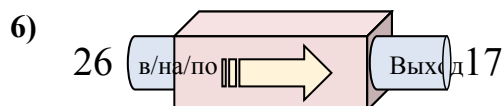
- A. Добавить 15
- B. Вычесть 19
- C. Добавить 17
- D. Добавить 10



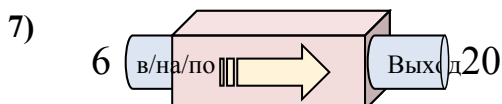
- A. Добавить 31
- B. Вычесть 31
- C. Добавить 36
- D. Вычесть 40



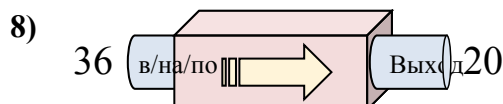
- A. Вычесть 12
- B. Вычесть 14
- C. Вычесть 13
- D. Добавить 11



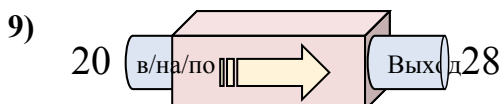
- A. Добавить 6
- B. Вычесть 8
- C. Вычесть 9
- D. Вычесть 4



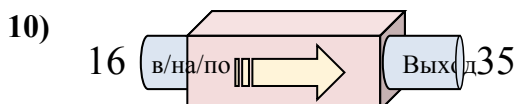
- A. Вычесть 13
- B. Вычесть 14
- C. Добавить 18
- D. Добавить 14



- A. Вычесть 16
- B. Вычесть 11
- C. Добавить 16
- D. Вычесть 13



- A. Добавить 5
- B. Добавить 8
- C. Вычесть 11
- D. Добавить 7



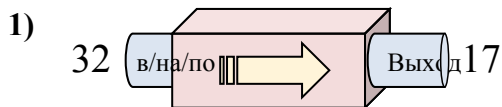
- A. Добавить 24
- B. Добавить 19
- C. Вычесть 16
- D. Вычесть 24

1. _____
2. _____
3. _____
4. _____
5. _____
6. _____
7. _____
8. _____
9. _____
10. _____

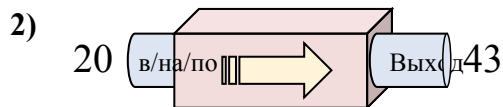


Определите какой закон используется в станке.

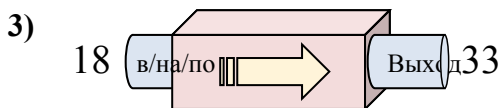
ОТВЕТЫ



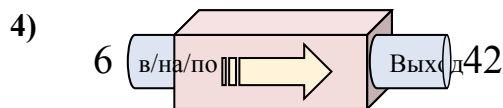
- A. Вычесть 20
- B. Вычесть 14
- C. Добавить 12
- D. Вычесть 15



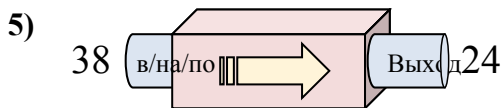
- A. Добавить 24
- B. Добавить 21
- C. Добавить 20
- D. Добавить 23



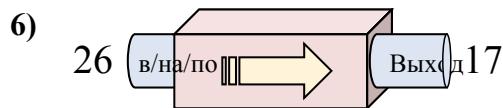
- A. Добавить 15
- B. Вычесть 19
- C. Добавить 17
- D. Добавить 10



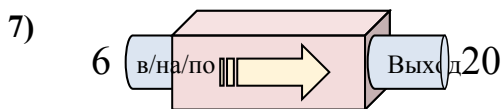
- A. Добавить 31
- B. Вычесть 31
- C. Добавить 36
- D. Вычесть 40



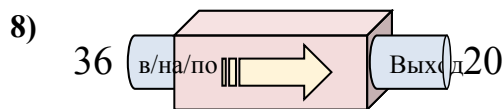
- A. Вычесть 12
- B. Вычесть 14
- C. Вычесть 13
- D. Добавить 11



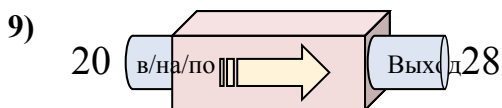
- A. Добавить 6
- B. Вычесть 8
- C. Вычесть 9
- D. Вычесть 4



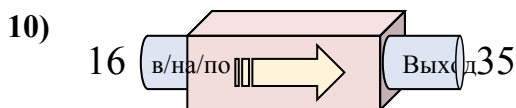
- A. Вычесть 13
- B. Вычесть 14
- C. Добавить 18
- D. Добавить 14



- A. Вычесть 16
- B. Вычесть 11
- C. Добавить 16
- D. Вычесть 13



- A. Добавить 5
- B. Добавить 8
- C. Вычесть 11
- D. Добавить 7



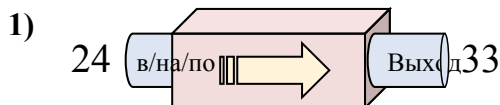
- A. Добавить 24
- B. Добавить 19
- C. Вычесть 16
- D. Вычесть 24

1. **D**2. **D**3. **A**4. **C**5. **B**6. **C**7. **D**8. **A**9. **B**10. **B**

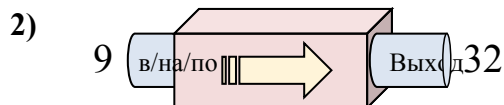


Определите какой закон используется в станке.

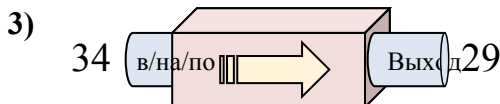
ОТВЕТЫ



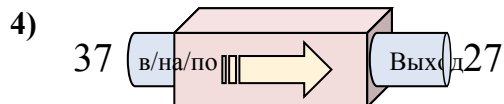
- A. Добавить 12
- B. Вычесть 8
- C. Добавить 13
- D. Добавить 9



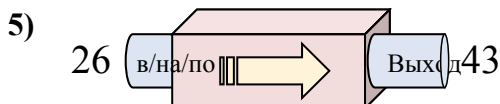
- A. Добавить 25
- B. Добавить 23
- C. Добавить 26
- D. Вычесть 19



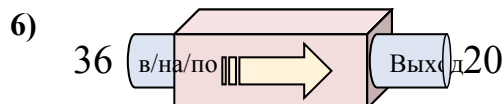
- A. Добавить 7
- B. Вычесть 5
- C. Вычесть 6
- D. Добавить 3



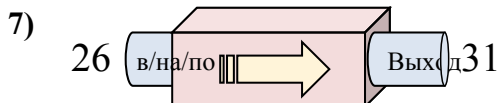
- A. Добавить 13
- B. Вычесть 10
- C. Вычесть 15
- D. Вычесть 13



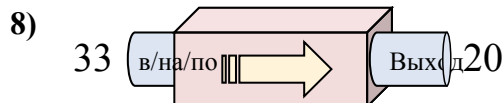
- A. Добавить 14
- B. Вычесть 22
- C. Добавить 15
- D. Добавить 17



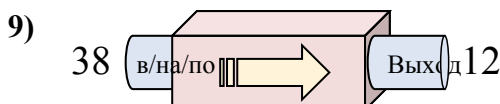
- A. Вычесть 16
- B. Добавить 19
- C. Добавить 21
- D. Вычесть 17



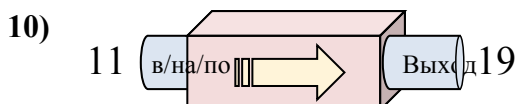
- A. Добавить 5
- B. Вычесть 7
- C. Добавить 7
- D. Вычесть 4



- A. Вычесть 16
- B. Добавить 16
- C. Вычесть 8
- D. Вычесть 13



- A. Вычесть 29
- B. Вычесть 30
- C. Вычесть 26
- D. Добавить 21



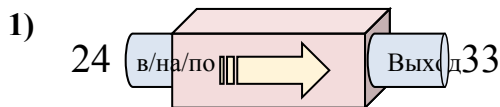
- A. Добавить 8
- B. Добавить 9
- C. Вычесть 13
- D. Добавить 5

1. _____
2. _____
3. _____
4. _____
5. _____
6. _____
7. _____
8. _____
9. _____
10. _____

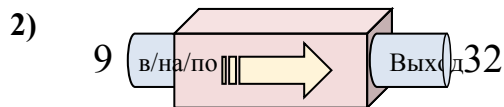


Определите какой закон используется в станке.

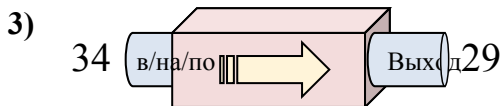
ОТВЕТЫ



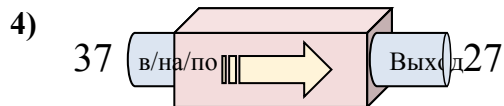
- A. Добавить 12
- B. Вычесть 8
- C. Добавить 13
- D. Добавить 9



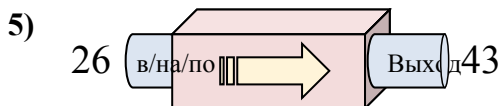
- A. Добавить 25
- B. Добавить 23
- C. Добавить 26
- D. Вычесть 19



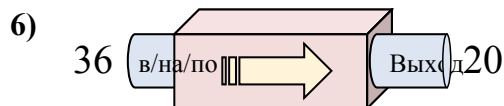
- A. Добавить 7
- B. Вычесть 5
- C. Вычесть 6
- D. Добавить 3



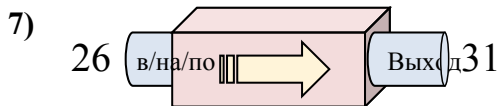
- A. Добавить 13
- B. Вычесть 10
- C. Вычесть 15
- D. Вычесть 13



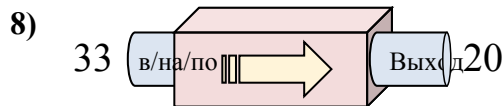
- A. Добавить 14
- B. Вычесть 22
- C. Добавить 15
- D. Добавить 17



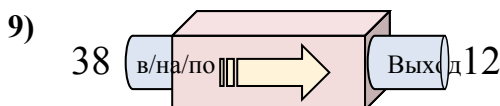
- A. Вычесть 16
- B. Добавить 19
- C. Добавить 21
- D. Вычесть 17



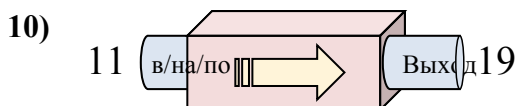
- A. Добавить 5
- B. Вычесть 7
- C. Добавить 7
- D. Вычесть 4



- A. Вычесть 16
- B. Добавить 16
- C. Вычесть 8
- D. Вычесть 13



- A. Вычесть 29
- B. Вычесть 30
- C. Вычесть 26
- D. Добавить 21



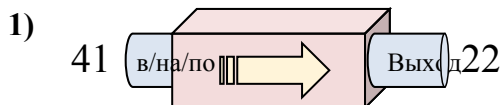
- A. Добавить 8
- B. Добавить 9
- C. Вычесть 13
- D. Добавить 5

1. **D**2. **B**3. **B**4. **B**5. **D**6. **A**7. **A**8. **D**9. **C**10. **A**

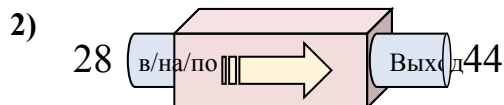


Определите какой закон используется в станке.

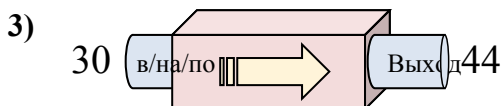
ОТВЕТЫ



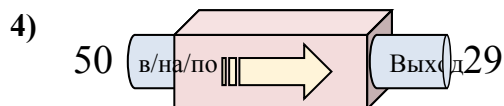
- A. Вычесть 19
- B. Добавить 16
- C. Вычесть 24
- D. Добавить 24



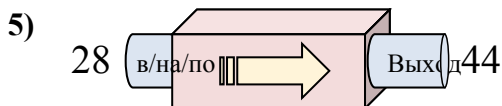
- A. Добавить 16
- B. Добавить 18
- C. Вычесть 16
- D. Добавить 21



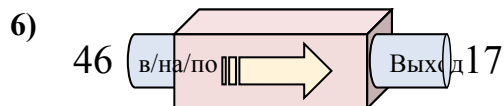
- A. Добавить 12
- B. Добавить 17
- C. Вычесть 18
- D. Добавить 14



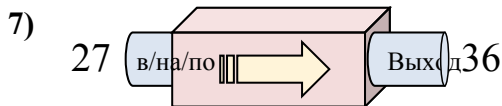
- A. Добавить 23
- B. Вычесть 21
- C. Добавить 24
- D. Вычесть 23



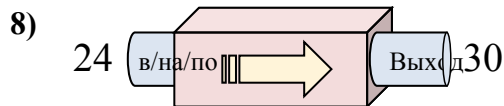
- A. Добавить 12
- B. Добавить 19
- C. Добавить 16
- D. Добавить 21



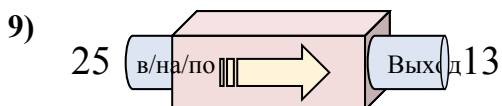
- A. Вычесть 25
- B. Вычесть 29
- C. Добавить 31
- D. Добавить 34



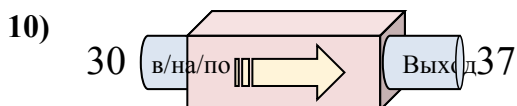
- A. Добавить 7
- B. Добавить 6
- C. Добавить 9
- D. Вычесть 13



- A. Вычесть 7
- B. Добавить 2
- C. Добавить 6
- D. Добавить 10



- A. Добавить 12
- B. Вычесть 8
- C. Добавить 11
- D. Вычесть 12



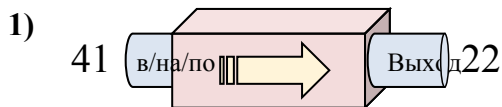
- A. Добавить 7
- B. Добавить 9
- C. Добавить 3
- D. Вычесть 3

1. _____
2. _____
3. _____
4. _____
5. _____
6. _____
7. _____
8. _____
9. _____
10. _____

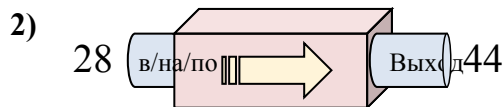


Определите какой закон используется в станке.

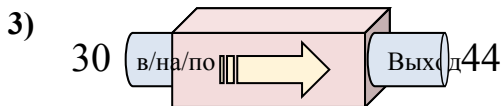
ОТВЕТЫ



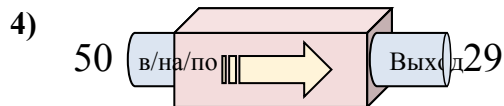
- A. Вычесть 19
B. Добавить 16
C. Вычесть 24
D. Добавить 24



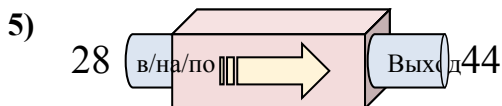
- A. Добавить 16
B. Добавить 18
C. Вычесть 16
D. Добавить 21



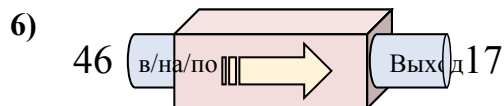
- A. Добавить 12
B. Добавить 17
C. Вычесть 18
D. Добавить 14



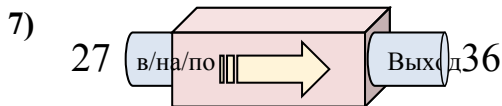
- A. Добавить 23
B. Вычесть 21
C. Добавить 24
D. Вычесть 23



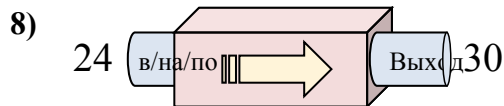
- A. Добавить 12
B. Добавить 19
C. Добавить 16
D. Добавить 21



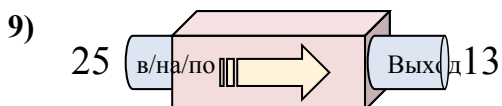
- A. Вычесть 25
B. Вычесть 29
C. Добавить 31
D. Добавить 34



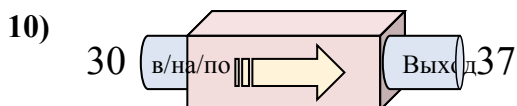
- A. Добавить 7
B. Добавить 6
C. Добавить 9
D. Вычесть 13



- A. Вычесть 7
B. Добавить 2
C. Добавить 6
D. Добавить 10



- A. Добавить 12
B. Вычесть 8
C. Добавить 11
D. Вычесть 12



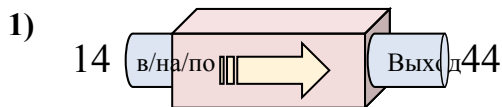
- A. Добавить 7
B. Добавить 9
C. Добавить 3
D. Вычесть 3

1. **A** 2. **A** 3. **D** 4. **B** 5. **C** 6. **B** 7. **C** 8. **C** 9. **D** 10. **A**

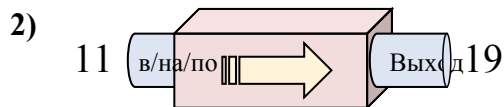


Определите какой закон используется в станке.

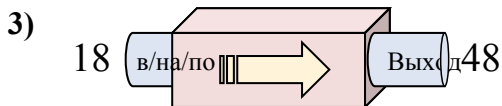
ОТВЕТЫ



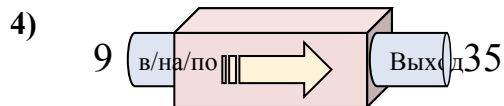
- A. Добавить 27
- B. Добавить 30
- C. Добавить 25
- D. Вычесть 32



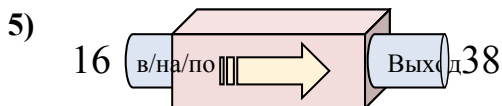
- A. Добавить 8
- B. Добавить 6
- C. Вычесть 3
- D. Добавить 4



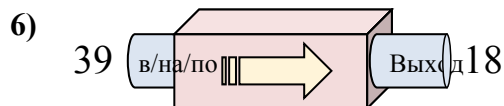
- A. Вычесть 25
- B. Добавить 30
- C. Добавить 29
- D. Добавить 34



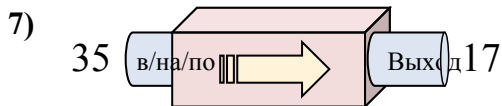
- A. Добавить 28
- B. Добавить 26
- C. Вычесть 30
- D. Вычесть 22



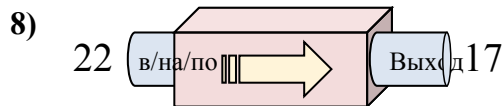
- A. Добавить 22
- B. Добавить 27
- C. Добавить 24
- D. Вычесть 17



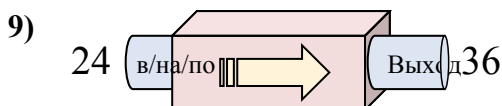
- A. Вычесть 20
- B. Вычесть 23
- C. Вычесть 16
- D. Вычесть 21



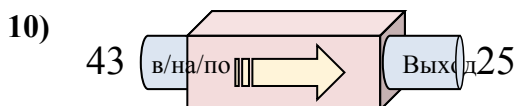
- A. Вычесть 17
- B. Добавить 21
- C. Вычесть 14
- D. Вычесть 18



- A. Вычесть 10
- B. Добавить 2
- C. Вычесть 6
- D. Вычесть 5



- A. Вычесть 17
- B. Вычесть 12
- C. Добавить 12
- D. Добавить 9



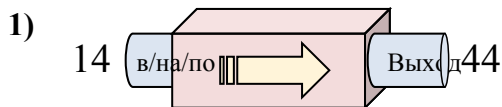
- A. Добавить 15
- B. Вычесть 16
- C. Добавить 13
- D. Вычесть 18

1. _____
2. _____
3. _____
4. _____
5. _____
6. _____
7. _____
8. _____
9. _____
10. _____

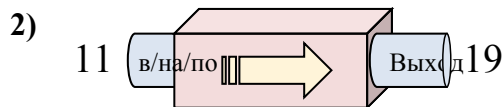


Определите какой закон используется в станке.

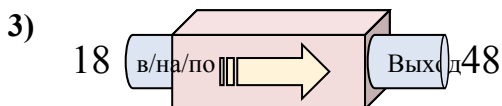
ОТВЕТЫ



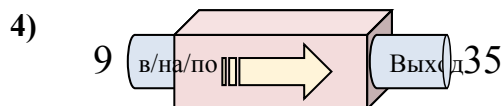
- A. Добавить 27
- B. Добавить 30
- C. Добавить 25
- D. Вычесть 32



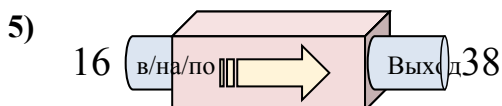
- A. Добавить 8
- B. Добавить 6
- C. Вычесть 3
- D. Добавить 4



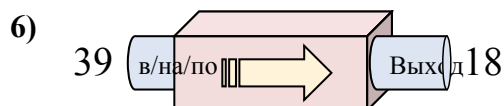
- A. Вычесть 25
- B. Добавить 30
- C. Добавить 29
- D. Добавить 34



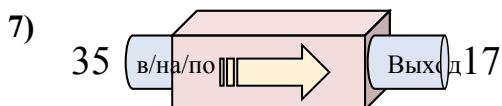
- A. Добавить 28
- B. Добавить 26
- C. Вычесть 30
- D. Вычесть 22



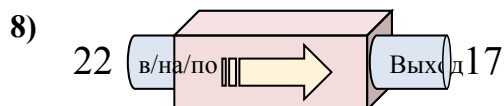
- A. Добавить 22
- B. Добавить 27
- C. Добавить 24
- D. Вычесть 17



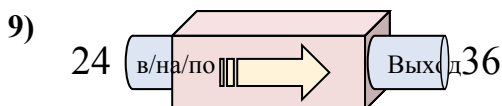
- A. Вычесть 20
- B. Вычесть 23
- C. Вычесть 16
- D. Вычесть 21



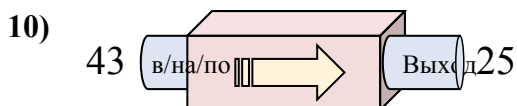
- A. Вычесть 17
- B. Добавить 21
- C. Вычесть 14
- D. Вычесть 18



- A. Вычесть 10
- B. Добавить 2
- C. Вычесть 6
- D. Вычесть 5



- A. Вычесть 17
- B. Вычесть 12
- C. Добавить 12
- D. Добавить 9



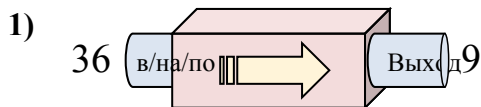
- A. Добавить 15
- B. Вычесть 16
- C. Добавить 13
- D. Вычесть 18

1. **В**2. **А**3. **В**4. **В**5. **А**6. **Д**7. **Д**8. **Д**9. **С**10. **Д**

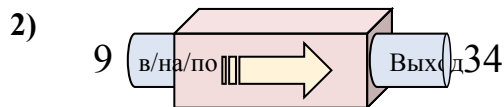


Определите какой закон используется в станке.

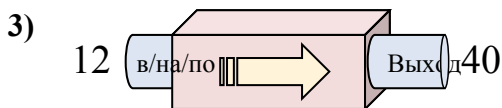
ОТВЕТЫ



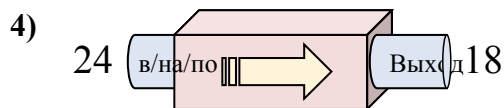
- A. Добавить 30
- B. Вычесть 32
- C. Вычесть 31
- D. Вычесть 27



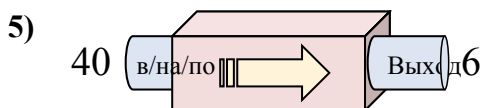
- A. Добавить 23
- B. Вычесть 29
- C. Вычесть 21
- D. Добавить 25



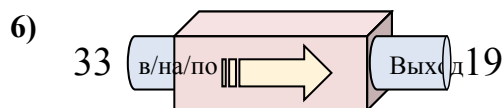
- A. Вычесть 30
- B. Добавить 33
- C. Добавить 29
- D. Добавить 28



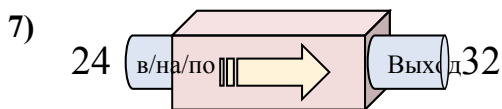
- A. Добавить 4
- B. Вычесть 2
- C. Вычесть 6
- D. Вычесть 5



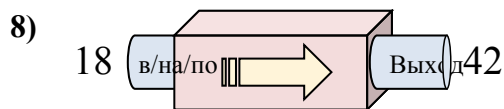
- A. Добавить 29
- B. Вычесть 39
- C. Вычесть 34
- D. Добавить 30



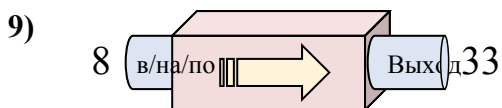
- A. Добавить 16
- B. Вычесть 17
- C. Вычесть 14
- D. Вычесть 9



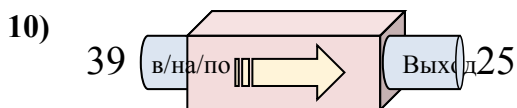
- A. Добавить 11
- B. Добавить 8
- C. Вычесть 12
- D. Добавить 12



- A. Добавить 24
- B. Добавить 23
- C. Вычесть 23
- D. Добавить 21



- A. Добавить 25
- B. Вычесть 24
- C. Вычесть 26
- D. Добавить 27



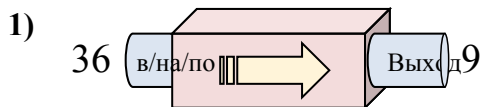
- A. Добавить 9
- B. Добавить 14
- C. Вычесть 10
- D. Вычесть 14

1. _____
2. _____
3. _____
4. _____
5. _____
6. _____
7. _____
8. _____
9. _____
10. _____

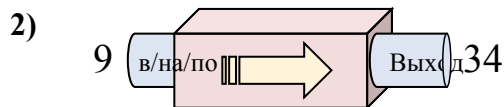


Определите какой закон используется в станке.

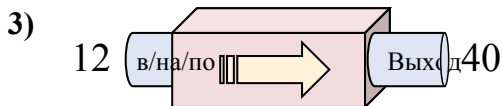
ОТВЕТЫ



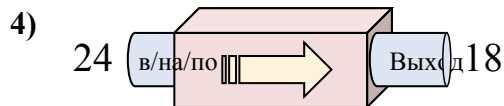
- A. Добавить 30
- B. Вычесть 32
- C. Вычесть 31
- D. Вычесть 27



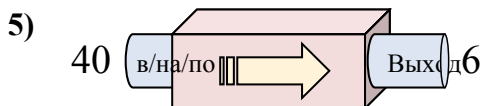
- A. Добавить 23
- B. Вычесть 29
- C. Вычесть 21
- D. Добавить 25



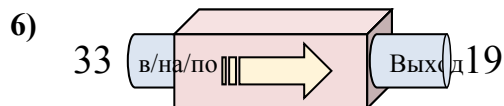
- A. Вычесть 30
- B. Добавить 33
- C. Добавить 29
- D. Добавить 28



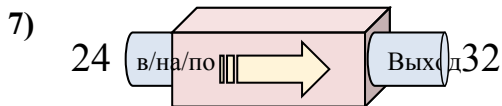
- A. Добавить 4
- B. Вычесть 2
- C. Вычесть 6
- D. Вычесть 5



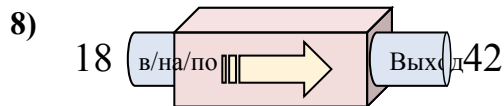
- A. Добавить 29
- B. Вычесть 39
- C. Вычесть 34
- D. Добавить 30



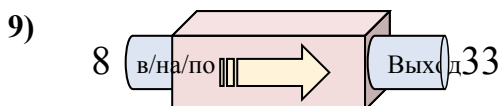
- A. Добавить 16
- B. Вычесть 17
- C. Вычесть 14
- D. Вычесть 9



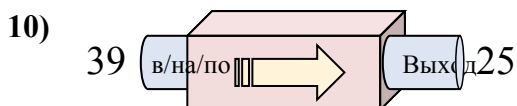
- A. Добавить 11
- B. Добавить 8
- C. Вычесть 12
- D. Добавить 12



- A. Добавить 24
- B. Добавить 23
- C. Вычесть 23
- D. Добавить 21



- A. Добавить 25
- B. Вычесть 24
- C. Вычесть 26
- D. Добавить 27



- A. Добавить 9
- B. Добавить 14
- C. Вычесть 10
- D. Вычесть 14

1. **D**2. **D**3. **D**4. **C**5. **C**6. **C**7. **B**8. **A**9. **A**10. **D**