



Определите какой закон используется в станке.

ОТВЕТЫ

об)
 11
 в/на/по
 Выход
 31
 Добавить 20

1)
 9
 в/на/по
 Выход
 36

2)
 9
 в/на/по
 Выход
 34

3)
 40
 в/на/по
 Выход
 12

4)
 24
 в/на/по
 Выход
 18

5)
 40
 в/на/по
 Выход
 6

6)
 19
 в/на/по
 Выход
 33

7)
 32
 в/на/по
 Выход
 24

8)
 42
 в/на/по
 Выход
 18

9)
 33
 в/на/по
 Выход
 8

10)
 25
 в/на/по
 Выход
 39

11)
 29
 в/на/по
 Выход
 38

об. **Добавить 20**

1. _____

2. _____

3. _____

4. _____

5. _____

6. _____

7. _____

8. _____

9. _____

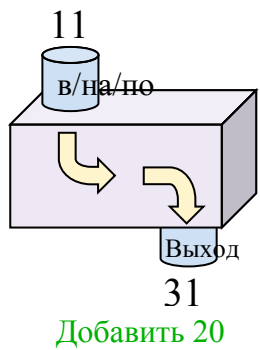
10. _____

11. _____

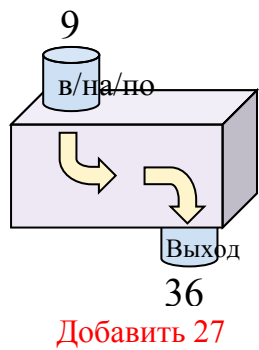


Определите какой закон используется в станке.

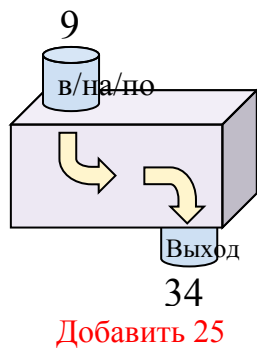
об)



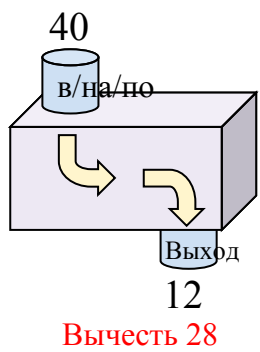
1)



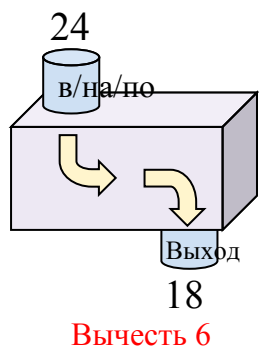
2)



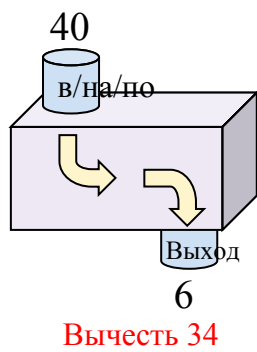
3)



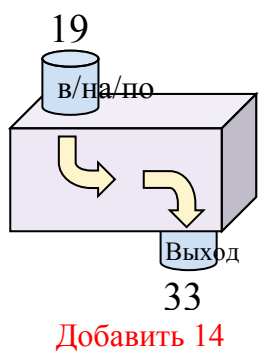
4)



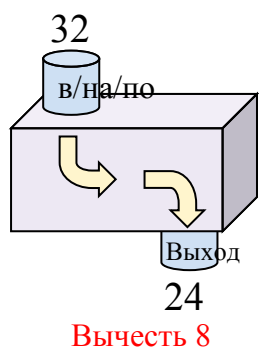
5)



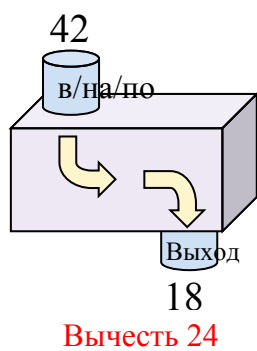
6)



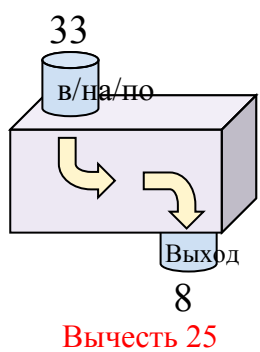
7)



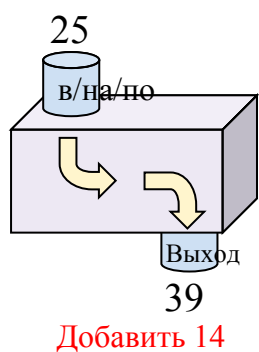
8)



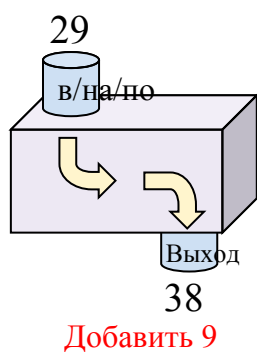
9)



10)



11)

**ОТВЕТЫ**об. **Добавить 20**1. **Добавить 27**2. **Добавить 25**3. **Вычесть 28**4. **Вычесть 6**5. **Вычесть 34**6. **Добавить 14**7. **Вычесть 8**8. **Вычесть 24**9. **Вычесть 25**10. **Добавить 14**11. **Добавить 9**