



Определите какой закон используется в станке.

ОТВЕТЫ

об)
 22
 в/на/по
 Выход
 42
 Добавить 20

1)
 41
 в/на/по
 Выход
 23

2)
 41
 в/на/по
 Выход
 8

3)
 33
 в/на/по
 Выход
 17

4)
 20
 в/на/по
 Выход
 12

5)
 6
 в/на/по
 Выход
 43

6)
 36
 в/на/по
 Выход
 25

7)
 29
 в/на/по
 Выход
 44

8)
 25
 в/на/по
 Выход
 50

9)
 6
 в/на/по
 Выход
 16

10)
 30
 в/на/по
 Выход
 14

11)
 49
 в/на/по
 Выход
 20

об. **Добавить 20**

1. _____

2. _____

3. _____

4. _____

5. _____

6. _____

7. _____

8. _____

9. _____

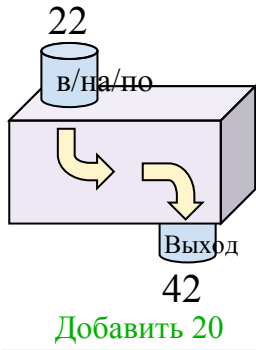
10. _____

11. _____

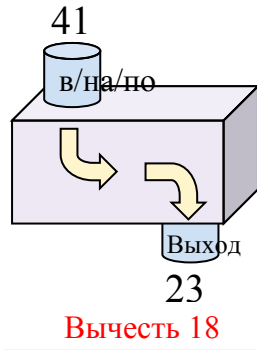


Определите какой закон используется в станке.

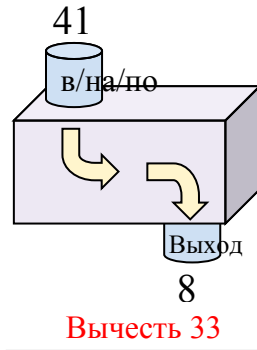
об)



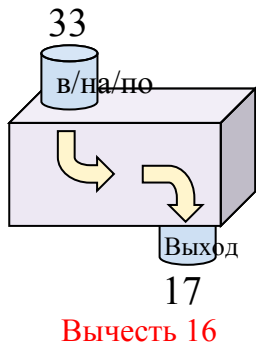
1)



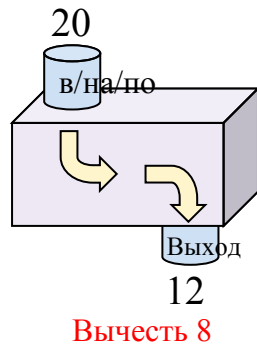
2)



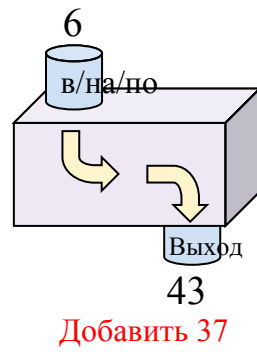
3)



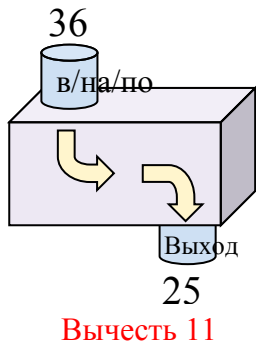
4)



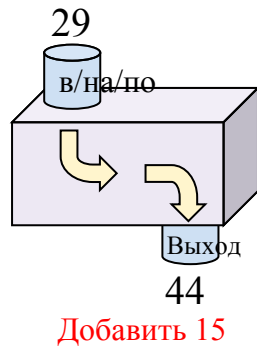
5)



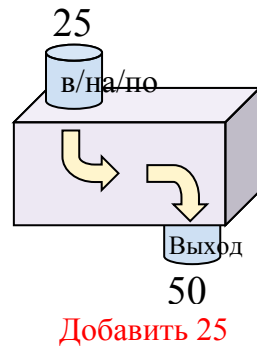
6)



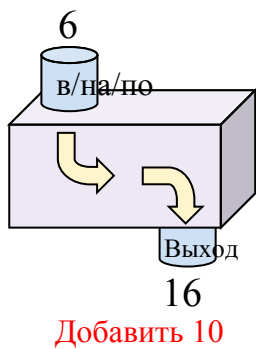
7)



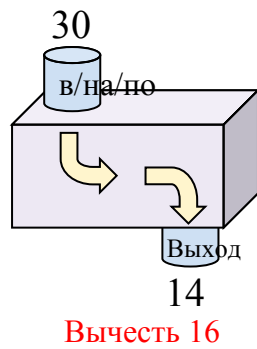
8)



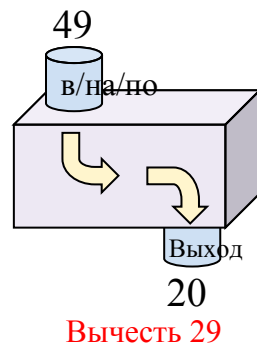
9)



10)



11)

**ОТВЕТЫ**об. **Добавить 20**1. **Вычесть 18**2. **Вычесть 33**3. **Вычесть 16**4. **Вычесть 8**5. **Добавить 37**6. **Вычесть 11**7. **Добавить 15**8. **Добавить 25**9. **Добавить 10**10. **Вычесть 16**11. **Вычесть 29**