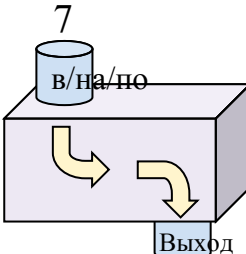




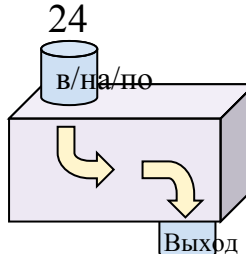
Определите какой закон используется в станке.

ОТВЕТЫ

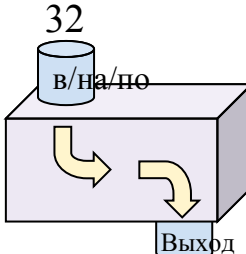
об) 

20

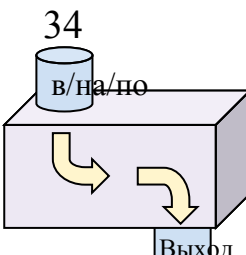
Добавить 13

1) 

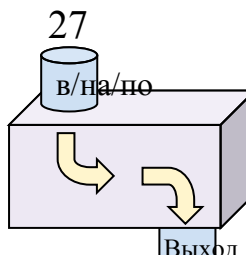
33

2) 

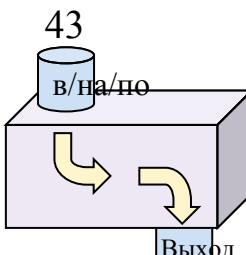
9

3) 

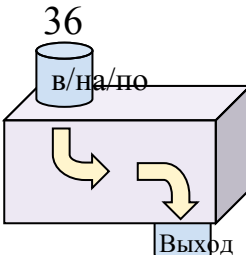
29

4) 

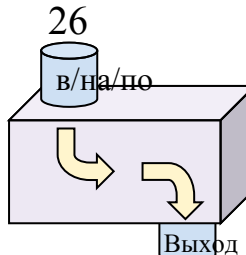
37

5) 

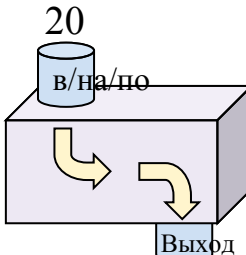
26

6) 

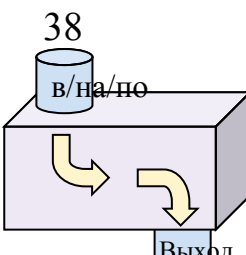
20

7) 

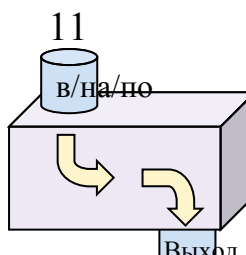
31

8) 

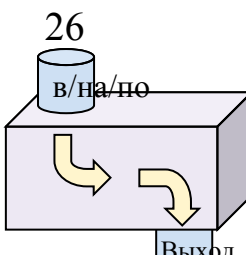
33

9) 

12

10) 

19

11) 

10

об. **Добавить 13**

1. _____

2. _____

3. _____

4. _____

5. _____

6. _____

7. _____

8. _____

9. _____

10. _____

11. _____



Определите какой закон используется в станке.

об)

7
в/на/по

Выход

20

Добавить 13

1)

24
в/на/по

Выход

33

Добавить 9

2)

32
в/на/по

Выход

9

Вычесть 23

3)

34
в/на/по

Выход

29

Вычесть 5

4)

27
в/на/по

Выход

37

Добавить 10

5)

43
в/на/по

Выход

26

Вычесть 17

6)

36
в/на/по

Выход

20

Вычесть 16

7)

26
в/на/по

Выход

31

Добавить 5

8)

20
в/на/по

Выход

33

Добавить 13

9)

38
в/на/по

Выход

12

Вычесть 26

10)

11
в/на/по

Выход

19

Добавить 8

11)

26
в/на/по

Выход

10

Вычесть 16

ОТВЕТЫоб. **Добавить 13**1. **Добавить 9**2. **Вычесть 23**3. **Вычесть 5**4. **Добавить 10**5. **Вычесть 17**6. **Вычесть 16**7. **Добавить 5**8. **Добавить 13**9. **Вычесть 26**10. **Добавить 8**11. **Вычесть 16**