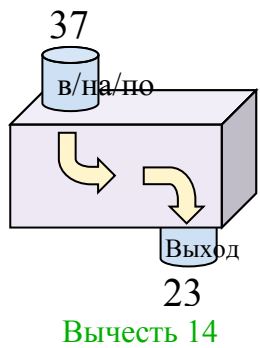


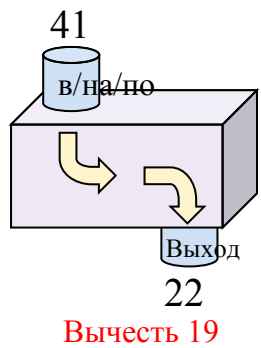


Определите какой закон используется в станке.

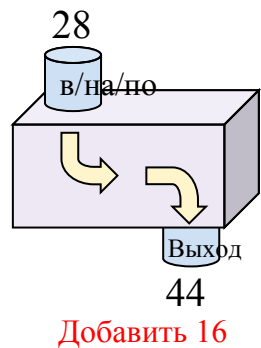
об)



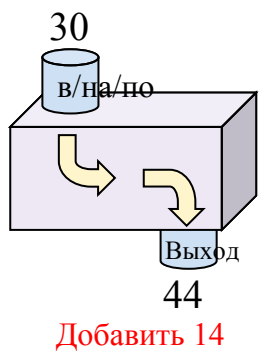
1)



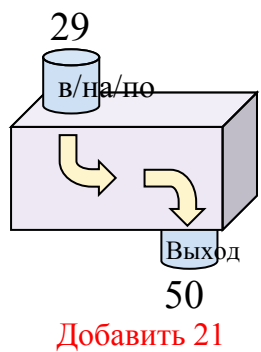
2)



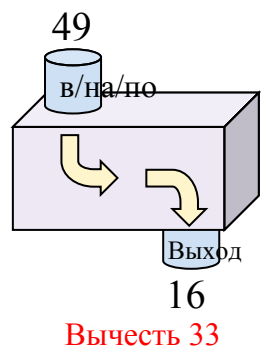
3)



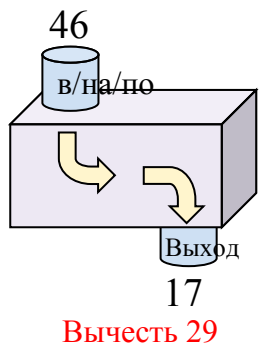
4)



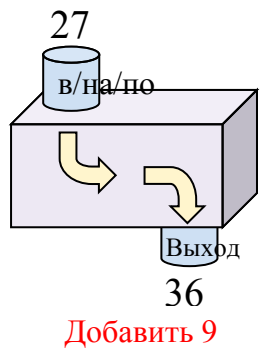
5)



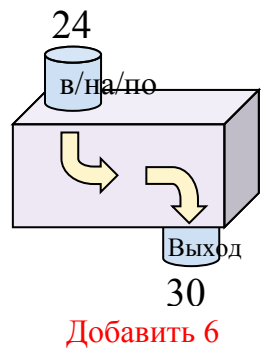
6)



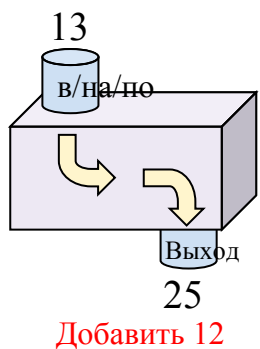
7)



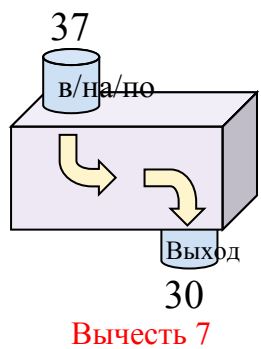
8)



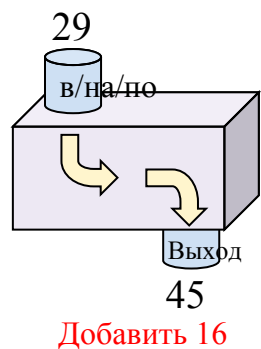
9)



10)



11)

**ОТВЕТЫ**об. **Вычесть 14**1. **Вычесть 19**2. **Добавить 16**3. **Добавить 14**4. **Добавить 21**5. **Вычесть 33**6. **Вычесть 29**7. **Добавить 9**8. **Добавить 6**9. **Добавить 12**10. **Вычесть 7**11. **Добавить 16**