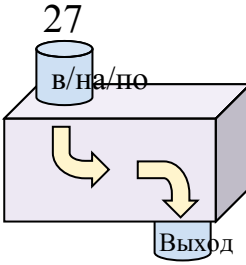


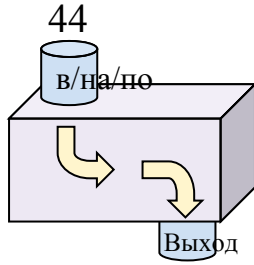


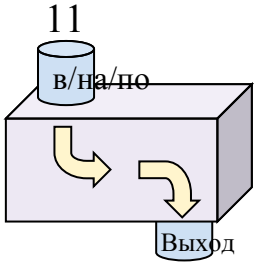
Определите какой закон используется в станке.

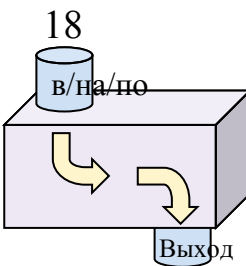
ОТВЕТЫ

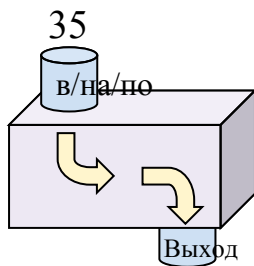
об) 

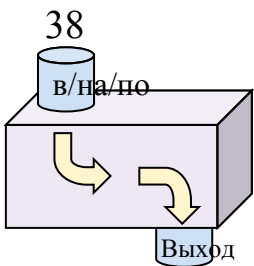
Добавить 12

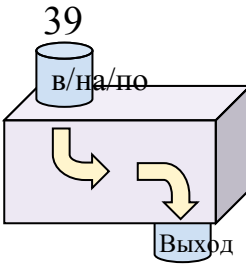
1) 

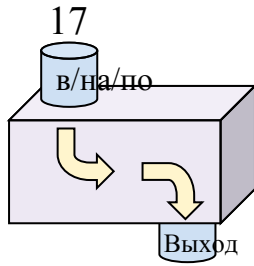
2) 

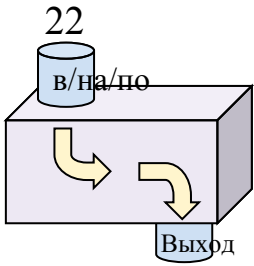
3) 

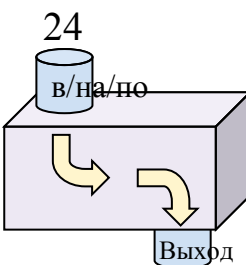
4) 

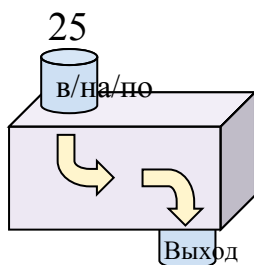
5) 

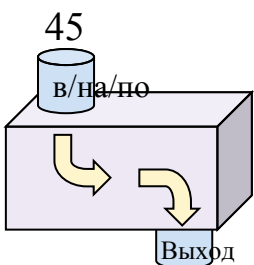
6) 

7) 

8) 

9) 

10) 

11) 

об. **Добавить 12**

1. _____

2. _____

3. _____

4. _____

5. _____

6. _____

7. _____

8. _____

9. _____

10. _____

11. _____



Определите какой закон используется в станке.

об)

27
в/на/по

Выход

39

Добавить 12

1)

44
в/на/по

Выход

14

Вычесть 30

2)

11
в/на/по

Выход

19

Добавить 8

3)

18
в/на/по

Выход

48

Добавить 30

4)

35
в/на/по

Выход

9

Вычесть 26

5)

38
в/на/по

Выход

16

Вычесть 22

6)

39
в/на/по

Выход

18

Вычесть 21

7)

17
в/на/по

Выход

35

Добавить 18

8)

22
в/на/по

Выход

17

Вычесть 5

9)

24
в/на/по

Выход

36

Добавить 12

10)

25
в/на/по

Выход

43

Добавить 18

11)

45
в/на/по

Выход

10

Вычесть 35

ОТВЕТЫоб. **Добавить 12**1. **Вычесть 30**2. **Добавить 8**3. **Добавить 30**4. **Вычесть 26**5. **Вычесть 22**6. **Вычесть 21**7. **Добавить 18**8. **Вычесть 5**9. **Добавить 12**10. **Добавить 18**11. **Вычесть 35**