



Определите какой закон используется в станке.

ОТВЕТЫ

об)
 16
 в/на/по
 Выход
 28
 Добавить 12

1)
 16
 в/на/по
 Выход
 22

2)
 24
 в/на/по
 Выход
 7

3)
 21
 в/на/по
 Выход
 35

4)
 30
 в/на/по
 Выход
 13

5)
 30
 в/на/по
 Выход
 23

6)
 19
 в/на/по
 Выход
 32

7)
 38
 в/на/по
 Выход
 21

8)
 15
 в/на/по
 Выход
 23

9)
 17
 в/на/по
 Выход
 32

10)
 31
 в/на/по
 Выход
 7

11)
 28
 в/на/по
 Выход
 10

об. **Добавить 12**

1. _____
2. _____
3. _____
4. _____
5. _____
6. _____
7. _____
8. _____
9. _____
10. _____
11. _____



Определите какой закон используется в станке.

ОТВЕТЫ

об)
27
в/на/по
Выход
22
Вычесть 5

1)
20
в/на/по
Выход
34

2)
47
в/на/по
Выход
14

3)
12
в/на/по
Выход
39

4)
10
в/на/по
Выход
40

5)
17
в/на/по
Выход
42

6)
21
в/на/по
Выход
45

7)
18
в/на/по
Выход
6

8)
30
в/на/по
Выход
24

9)
29
в/на/по
Выход
47

10)
25
в/на/по
Выход
30

11)
48
в/на/по
Выход
17

- об. **Вычесть 5**
1. _____
 2. _____
 3. _____
 4. _____
 5. _____
 6. _____
 7. _____
 8. _____
 9. _____
 10. _____
 11. _____



Определите какой закон используется в станке.

об)

27
в/на/по

Выход

22

Вычесть 5

1)

20
в/на/по

Выход

34

Добавить 14

2)

47
в/на/по

Выход

14

Вычесть 33

3)

12
в/на/по

Выход

39

Добавить 27

4)

10
в/на/по

Выход

40

Добавить 30

5)

17
в/на/по

Выход

42

Добавить 25

6)

21
в/на/по

Выход

45

Добавить 24

7)

18
в/на/по

Выход

6

Вычесть 12

8)

30
в/на/по

Выход

24

Вычесть 6

9)

29
в/на/по

Выход

47

Добавить 18

10)

25
в/на/по

Выход

30

Добавить 5

11)

48
в/на/по

Выход

17

Вычесть 31

ОТВЕТЫ

- об. Вычесть 5
1. Добавить 14
2. Вычесть 33
3. Добавить 27
4. Добавить 30
5. Добавить 25
6. Добавить 24
7. Вычесть 12
8. Вычесть 6
9. Добавить 18
10. Добавить 5
11. Вычесть 31



Определите какой закон используется в станке.

ОТВЕТЫ

об)
 22
 в/на/по
 Выход
 42
 Добавить 20

1)
 41
 в/на/по
 Выход
 23

2)
 41
 в/на/по
 Выход
 8

3)
 33
 в/на/по
 Выход
 17

4)
 20
 в/на/по
 Выход
 12

5)
 6
 в/на/по
 Выход
 43

6)
 36
 в/на/по
 Выход
 25

7)
 29
 в/на/по
 Выход
 44

8)
 25
 в/на/по
 Выход
 50

9)
 6
 в/на/по
 Выход
 16

10)
 30
 в/на/по
 Выход
 14

11)
 49
 в/на/по
 Выход
 20

об. **Добавить 20**

1. _____

2. _____

3. _____

4. _____

5. _____

6. _____

7. _____

8. _____

9. _____

10. _____

11. _____



Определите какой закон используется в станке.

об)

22
в/на/по
Выход
42
Добавить 20

1)

41
в/на/по
Выход
23
Вычесть 18

2)

41
в/на/по
Выход
8
Вычесть 33

3)

33
в/на/по
Выход
17
Вычесть 16

4)

20
в/на/по
Выход
12
Вычесть 8

5)

6
в/на/по
Выход
43
Добавить 37

6)

36
в/на/по
Выход
25
Вычесть 11

7)

29
в/на/по
Выход
44
Добавить 15

8)

25
в/на/по
Выход
50
Добавить 25

9)

6
в/на/по
Выход
16
Добавить 10

10)

30
в/на/по
Выход
14
Вычесть 16

11)

49
в/на/по
Выход
20
Вычесть 29

ОТВЕТЫоб. **Добавить 20**1. **Вычесть 18**2. **Вычесть 33**3. **Вычесть 16**4. **Вычесть 8**5. **Добавить 37**6. **Вычесть 11**7. **Добавить 15**8. **Добавить 25**9. **Добавить 10**10. **Вычесть 16**11. **Вычесть 29**



Определите какой закон используется в станке.

ОТВЕТЫ

об)
 28
 в/на/по
 Выход
 36
 Добавить 8

1)
 22
 в/на/по
 Выход
 28

2)
 40
 в/на/по
 Выход
 24

3)
 39
 в/на/по
 Выход
 22

4)
 39
 в/на/по
 Выход
 7

5)
 17
 в/на/по
 Выход
 11

6)
 37
 в/на/по
 Выход
 23

7)
 24
 в/на/по
 Выход
 42

8)
 16
 в/на/по
 Выход
 49

9)
 12
 в/на/по
 Выход
 46

10)
 36
 в/на/по
 Выход
 10

11)
 38
 в/на/по
 Выход
 29

- об. **Добавить 8**
1. _____
 2. _____
 3. _____
 4. _____
 5. _____
 6. _____
 7. _____
 8. _____
 9. _____
 10. _____
 11. _____



Определите какой закон используется в станке.

об)

28
в/на/по
Выход
36
Добавить 8

1)

22
в/на/по
Выход
28
Добавить 6

2)

40
в/на/по
Выход
24
Вычесть 16

3)

39
в/на/по
Выход
22
Вычесть 17

4)

39
в/на/по
Выход
7
Вычесть 32

5)

17
в/на/по
Выход
11
Вычесть 6

6)

37
в/на/по
Выход
23
Вычесть 14

7)

24
в/на/по
Выход
42
Добавить 18

8)

16
в/на/по
Выход
49
Добавить 33

9)

12
в/на/по
Выход
46
Добавить 34

10)

36
в/на/по
Выход
10
Вычесть 26

11)

38
в/на/по
Выход
29
Вычесть 9

ОТВЕТЫоб. **Добавить 8**1. **Добавить 6**2. **Вычесть 16**3. **Вычесть 17**4. **Вычесть 32**5. **Вычесть 6**6. **Вычесть 14**7. **Добавить 18**8. **Добавить 33**9. **Добавить 34**10. **Вычесть 26**11. **Вычесть 9**



Определите какой закон используется в станке.

об)

35
в/на/по

Выход

22

Вычесть 13

1)

39
в/на/по

Выход

8

Вычесть 31

2)

25
в/на/по

Выход

35

Добавить 10

3)

20
в/на/по

Выход

28

Добавить 8

4)

15
в/на/по

Выход

49

Добавить 34

5)

7
в/на/по

Выход

28

Добавить 21

6)

45
в/на/по

Выход

24

Вычесть 21

7)

33
в/на/по

Выход

20

Вычесть 13

8)

48
в/на/по

Выход

20

Вычесть 28

9)

8
в/на/по

Выход

46

Добавить 38

10)

23
в/на/по

Выход

35

Добавить 12

11)

18
в/на/по

Выход

24

Добавить 6

ОТВЕТЫоб. **Вычесть 13**1. **Вычесть 31**2. **Добавить 10**3. **Добавить 8**4. **Добавить 34**5. **Добавить 21**6. **Вычесть 21**7. **Вычесть 13**8. **Вычесть 28**9. **Добавить 38**10. **Добавить 12**11. **Добавить 6**



Определите какой закон используется в станке.

об)

48
в/на/по

Выход

15
Вычесть 33

1)

17
в/на/по

Выход

32
Добавить 15

2)

43
в/на/по

Выход

20
Вычесть 23

3)

33
в/на/по

Выход

18
Вычесть 15

4)

6
в/на/по

Выход

42
Добавить 36

5)

24
в/на/по

Выход

38
Добавить 14

6)

17
в/на/по

Выход

26
Добавить 9

7)

6
в/на/по

Выход

20
Добавить 14

8)

36
в/на/по

Выход

20
Вычесть 16

9)

20
в/на/по

Выход

28
Добавить 8

10)

16
в/на/по

Выход

35
Добавить 19

11)

28
в/на/по

Выход

19
Вычесть 9

ОТВЕТЫоб. **Вычесть 33**1. **Добавить 15**2. **Вычесть 23**3. **Вычесть 15**4. **Добавить 36**5. **Добавить 14**6. **Добавить 9**7. **Добавить 14**8. **Вычесть 16**9. **Добавить 8**10. **Добавить 19**11. **Вычесть 9**



Определите какой закон используется в станке.

ОТВЕТЫ

об)
 7
 в/на/по
 Выход
 20
 Добавить 13

1)
 24
 в/на/по
 Выход
 33

2)
 32
 в/на/по
 Выход
 9

3)
 34
 в/на/по
 Выход
 29

4)
 27
 в/на/по
 Выход
 37

5)
 43
 в/на/по
 Выход
 26

6)
 36
 в/на/по
 Выход
 20

7)
 26
 в/на/по
 Выход
 31

8)
 20
 в/на/по
 Выход
 33

9)
 38
 в/на/по
 Выход
 12

10)
 11
 в/на/по
 Выход
 19

11)
 26
 в/на/по
 Выход
 10

об. **Добавить 13**

1. _____

2. _____

3. _____

4. _____

5. _____

6. _____

7. _____

8. _____

9. _____

10. _____

11. _____



Определите какой закон используется в станке.

об)

7
в/на/по

Выход

20

Добавить 13

1)

24
в/на/по

Выход

33

Добавить 9

2)

32
в/на/по

Выход

9

Вычесть 23

3)

34
в/на/по

Выход

29

Вычесть 5

4)

27
в/на/по

Выход

37

Добавить 10

5)

43
в/на/по

Выход

26

Вычесть 17

6)

36
в/на/по

Выход

20

Вычесть 16

7)

26
в/на/по

Выход

31

Добавить 5

8)

20
в/на/по

Выход

33

Добавить 13

9)

38
в/на/по

Выход

12

Вычесть 26

10)

11
в/на/по

Выход

19

Добавить 8

11)

26
в/на/по

Выход

10

Вычесть 16

ОТВЕТЫоб. **Добавить 13**1. **Добавить 9**2. **Вычесть 23**3. **Вычесть 5**4. **Добавить 10**5. **Вычесть 17**6. **Вычесть 16**7. **Добавить 5**8. **Добавить 13**9. **Вычесть 26**10. **Добавить 8**11. **Вычесть 16**



Определите какой закон используется в станке.

ОТВЕТЫ

об)
 37
 в/на/по
 Выход
 23
 Вычесть 14

1)
 41
 в/на/по
 Выход
 22

2)
 28
 в/на/по
 Выход
 44

3)
 30
 в/на/по
 Выход
 44

4)
 29
 в/на/по
 Выход
 50

5)
 49
 в/на/по
 Выход
 16

6)
 46
 в/на/по
 Выход
 17

7)
 27
 в/на/по
 Выход
 36

8)
 24
 в/на/по
 Выход
 30

9)
 13
 в/на/по
 Выход
 25

10)
 37
 в/на/по
 Выход
 30

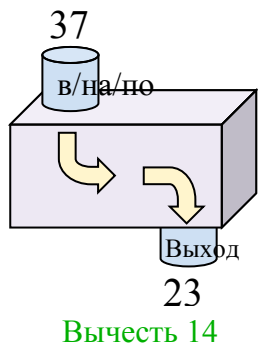
11)
 29
 в/на/по
 Выход
 45

- об. **Вычесть 14**
1. _____
 2. _____
 3. _____
 4. _____
 5. _____
 6. _____
 7. _____
 8. _____
 9. _____
 10. _____
 11. _____

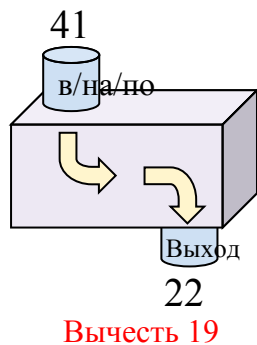


Определите какой закон используется в станке.

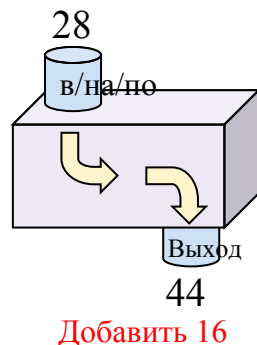
об)



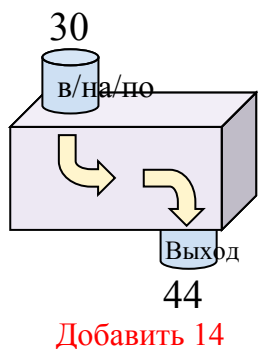
1)



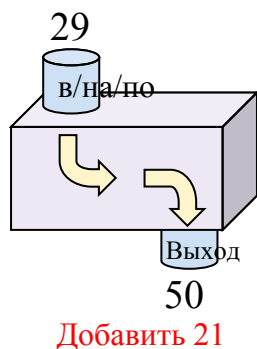
2)



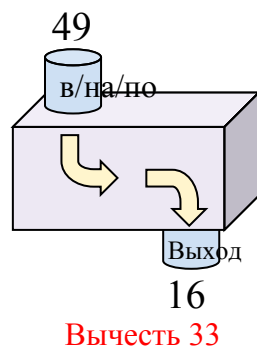
3)



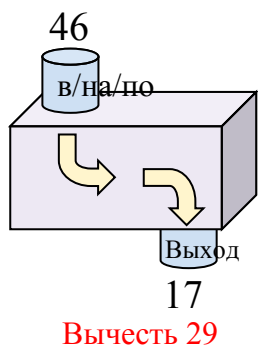
4)



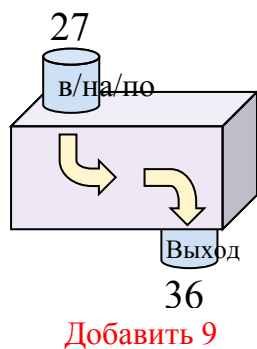
5)



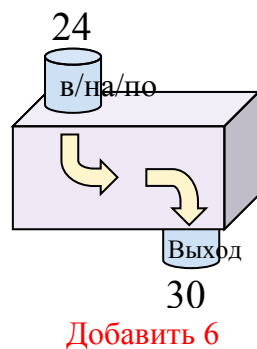
6)



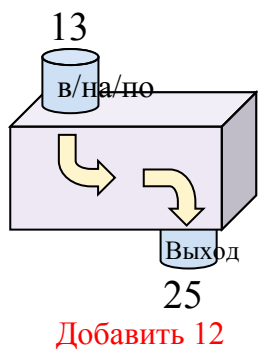
7)



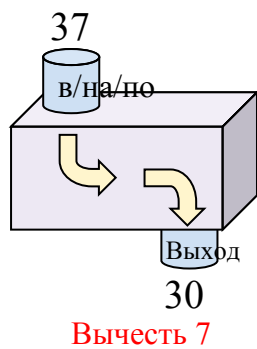
8)



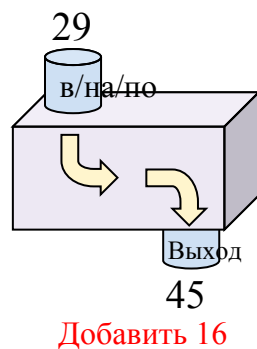
9)



10)



11)

**ОТВЕТЫ**об. **Вычесть 14**1. **Вычесть 19**2. **Добавить 16**3. **Добавить 14**4. **Добавить 21**5. **Вычесть 33**6. **Вычесть 29**7. **Добавить 9**8. **Добавить 6**9. **Добавить 12**10. **Вычесть 7**11. **Добавить 16**



Определите какой закон используется в станке.

ОТВЕТЫ

об)
 27
 в/на/по
 Выход
 39
 Добавить 12

1)
 44
 в/на/по
 Выход
 14

2)
 11
 в/на/по
 Выход
 19

3)
 18
 в/на/по
 Выход
 48

4)
 35
 в/на/по
 Выход
 9

5)
 38
 в/на/по
 Выход
 16

6)
 39
 в/на/по
 Выход
 18

7)
 17
 в/на/по
 Выход
 35

8)
 22
 в/на/по
 Выход
 17

9)
 24
 в/на/по
 Выход
 36

10)
 25
 в/на/по
 Выход
 43

11)
 45
 в/на/по
 Выход
 10

об. **Добавить 12**

1. _____

2. _____

3. _____

4. _____

5. _____

6. _____

7. _____

8. _____

9. _____

10. _____

11. _____



Определите какой закон используется в станке.

об)

27
в/на/по

Выход

39

Добавить 12

1)

44
в/на/по

Выход

14

Вычесть 30

2)

11
в/на/по

Выход

19

Добавить 8

3)

18
в/на/по

Выход

48

Добавить 30

4)

35
в/на/по

Выход

9

Вычесть 26

5)

38
в/на/по

Выход

16

Вычесть 22

6)

39
в/на/по

Выход

18

Вычесть 21

7)

17
в/на/по

Выход

35

Добавить 18

8)

22
в/на/по

Выход

17

Вычесть 5

9)

24
в/на/по

Выход

36

Добавить 12

10)

25
в/на/по

Выход

43

Добавить 18

11)

45
в/на/по

Выход

10

Вычесть 35

ОТВЕТЫоб. **Добавить 12**1. **Вычесть 30**2. **Добавить 8**3. **Добавить 30**4. **Вычесть 26**5. **Вычесть 22**6. **Вычесть 21**7. **Добавить 18**8. **Вычесть 5**9. **Добавить 12**10. **Добавить 18**11. **Вычесть 35**



Определите какой закон используется в станке.

ОТВЕТЫ

об)
 11
 в/на/по
 Выход
 31
 Добавить 20

1)
 9
 в/на/по
 Выход
 36

2)
 9
 в/на/по
 Выход
 34

3)
 40
 в/на/по
 Выход
 12

4)
 24
 в/на/по
 Выход
 18

5)
 40
 в/на/по
 Выход
 6

6)
 19
 в/на/по
 Выход
 33

7)
 32
 в/на/по
 Выход
 24

8)
 42
 в/на/по
 Выход
 18

9)
 33
 в/на/по
 Выход
 8

10)
 25
 в/на/по
 Выход
 39

11)
 29
 в/на/по
 Выход
 38

об. **Добавить 20**

1. _____

2. _____

3. _____

4. _____

5. _____

6. _____

7. _____

8. _____

9. _____

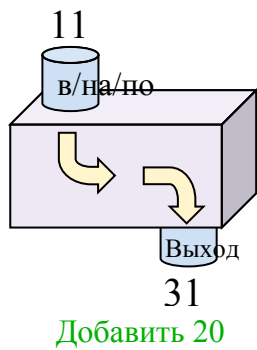
10. _____

11. _____

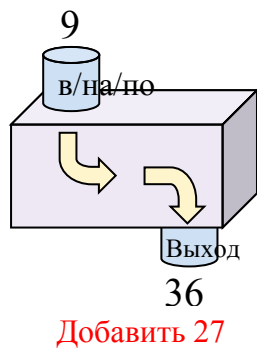


Определите какой закон используется в станке.

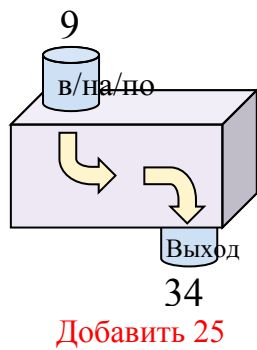
об)



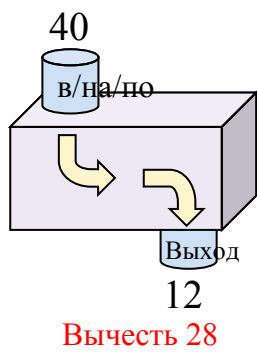
1)



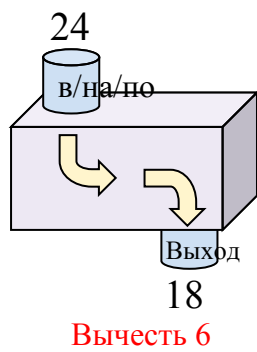
2)



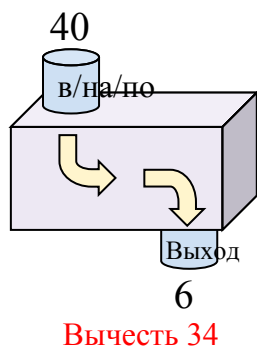
3)



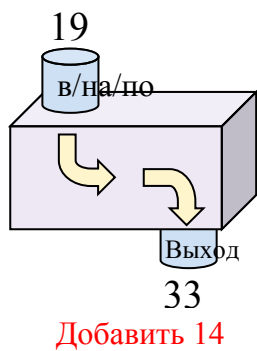
4)



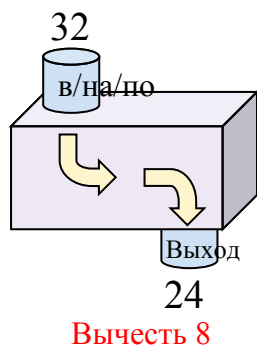
5)



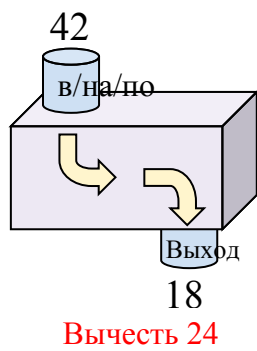
6)



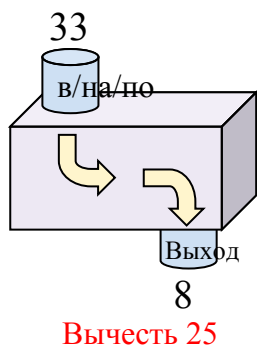
7)



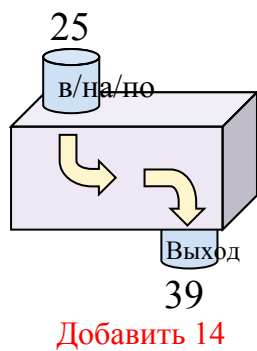
8)



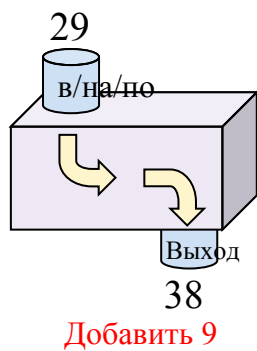
9)



10)



11)

**ОТВЕТЫ**об. **Добавить 20**1. **Добавить 27**2. **Добавить 25**3. **Вычесть 28**4. **Вычесть 6**5. **Вычесть 34**6. **Добавить 14**7. **Вычесть 8**8. **Вычесть 24**9. **Вычесть 25**10. **Добавить 14**11. **Добавить 9**