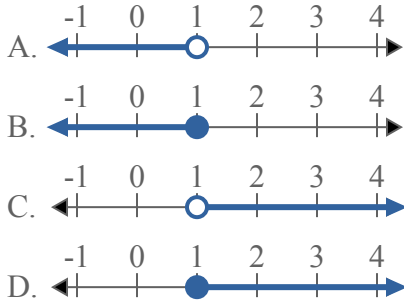




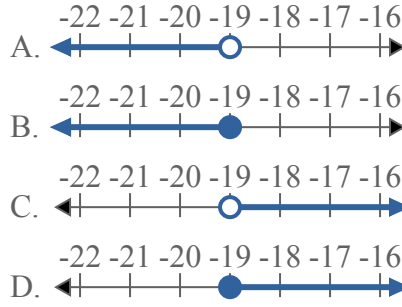
Решите каждую задачу.

ОТВЕТЫ

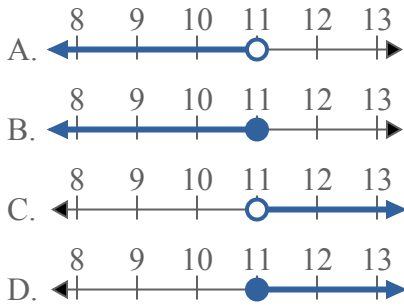
1) Какой вариант наиболее соответствует $X \leq 1$



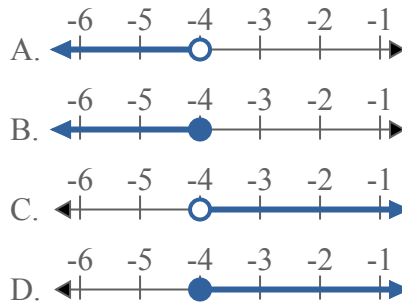
2) Какой вариант наиболее соответствует $X < -19$



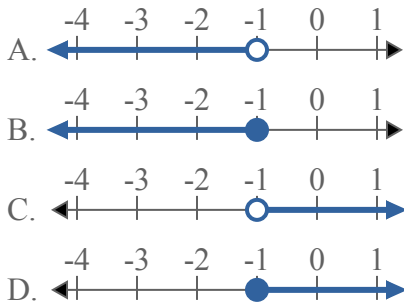
3) Какой вариант наиболее соответствует $X \geq 11$



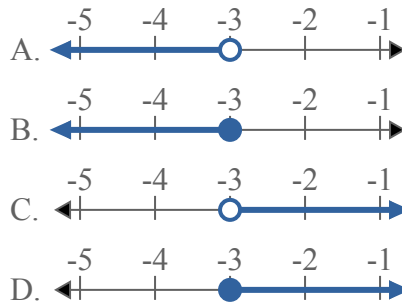
4) Какой вариант наиболее соответствует $X \geq -4$



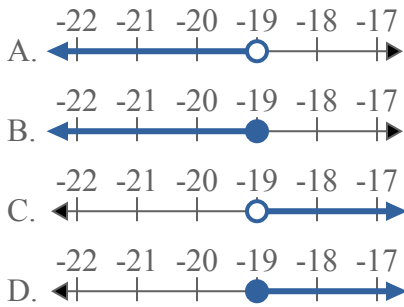
5) Какой вариант наиболее соответствует $X \geq -1$



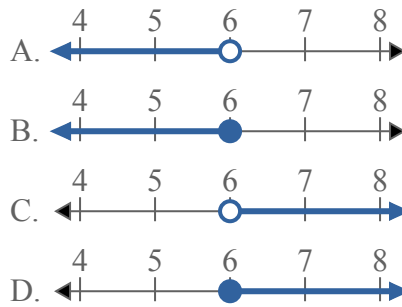
6) Какой вариант наиболее соответствует $X \leq -3$



7) Какой вариант наиболее соответствует $X > -19$



8) Какой вариант наиболее соответствует $X > 6$

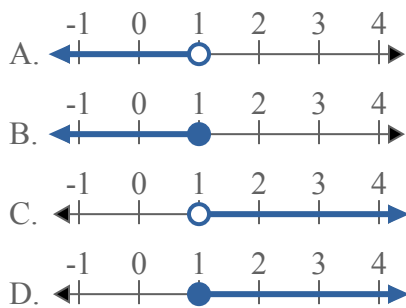


1. _____
2. _____
3. _____
4. _____
5. _____
6. _____
7. _____
8. _____

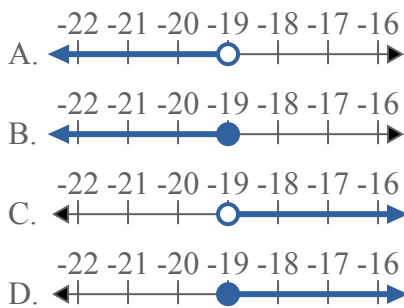


Решите каждую задачу.

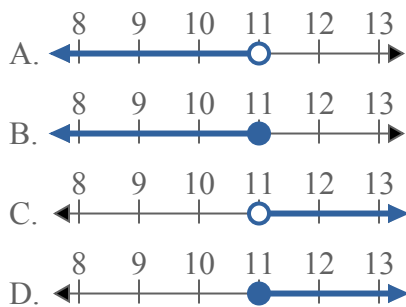
1) Какой вариант наиболее соответствует $X \leq 1$



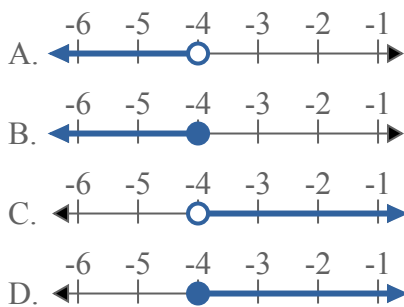
2) Какой вариант наиболее соответствует $X < -19$



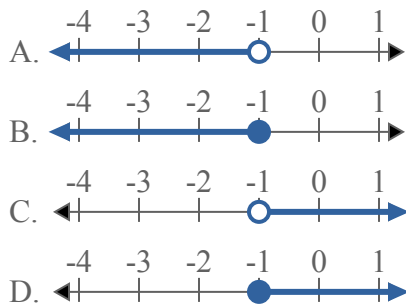
3) Какой вариант наиболее соответствует $X \geq 11$



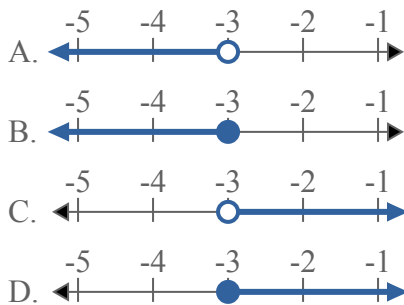
4) Какой вариант наиболее соответствует $X \geq -4$



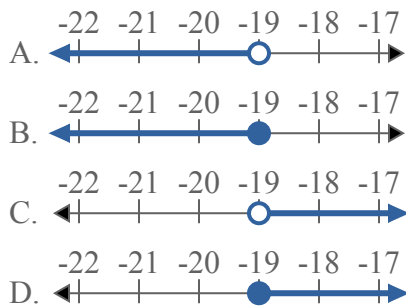
5) Какой вариант наиболее соответствует $X \geq -1$



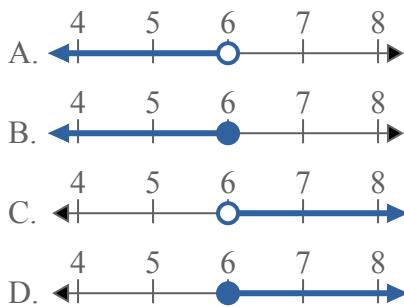
6) Какой вариант наиболее соответствует $X \leq -3$



7) Какой вариант наиболее соответствует $X > -19$



8) Какой вариант наиболее соответствует $X > 6$



ОТВЕТЫ

1. В

2. А

3. D

4. D

5. D

6. В

7. С

8. С