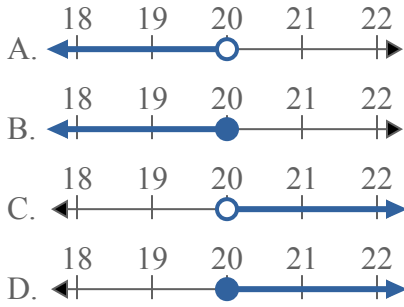




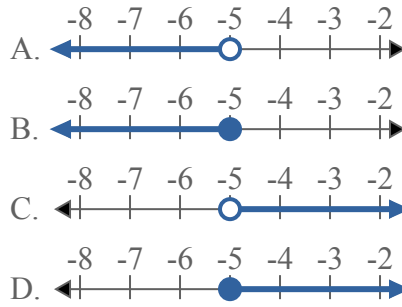
Решите каждую задачу.

**ОТВЕТЫ**

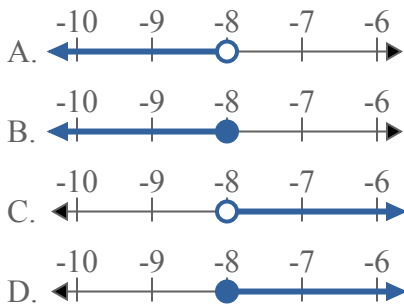
1) Какой вариант наиболее соответствует  $X < 20$



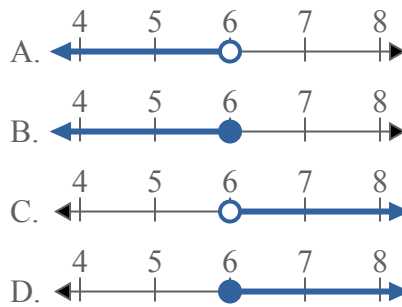
2) Какой вариант наиболее соответствует  $X \geq -5$



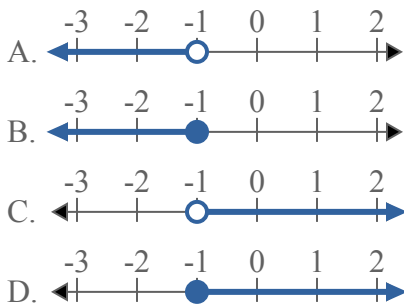
3) Какой вариант наиболее соответствует  $X \leq -8$



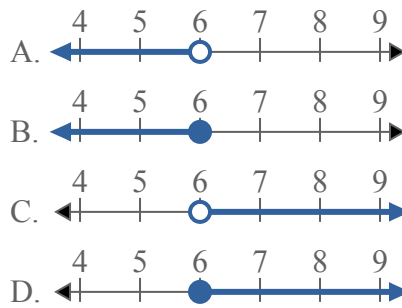
4) Какой вариант наиболее соответствует  $X \geq 6$



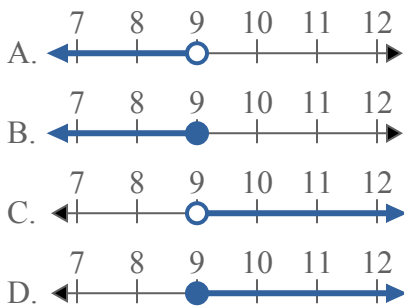
5) Какой вариант наиболее соответствует  $X > -1$



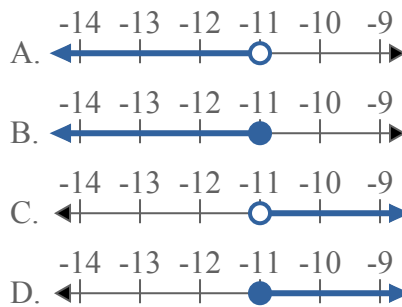
6) Какой вариант наиболее соответствует  $X \leq 6$



7) Какой вариант наиболее соответствует  $X < 9$



8) Какой вариант наиболее соответствует  $X \leq -11$

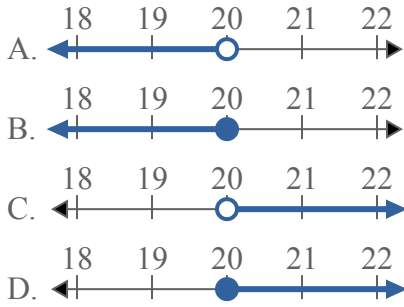


1. \_\_\_\_\_
2. \_\_\_\_\_
3. \_\_\_\_\_
4. \_\_\_\_\_
5. \_\_\_\_\_
6. \_\_\_\_\_
7. \_\_\_\_\_
8. \_\_\_\_\_

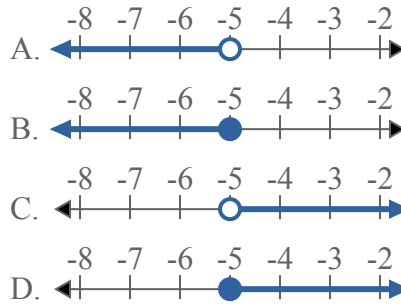


Решите каждую задачу.

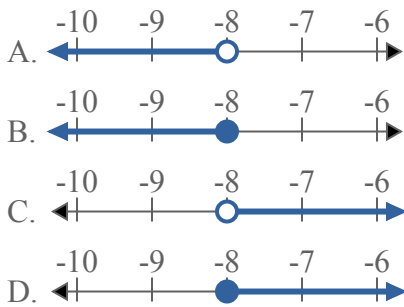
1) Какой вариант наиболее соответствует  $X < 20$



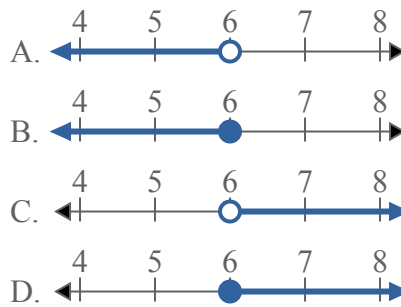
2) Какой вариант наиболее соответствует  $X \geq -5$



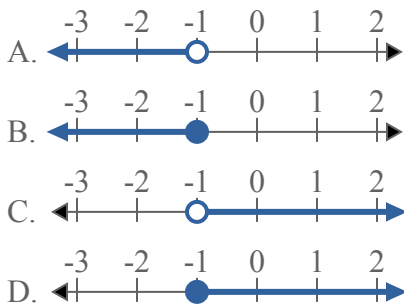
3) Какой вариант наиболее соответствует  $X \leq -8$



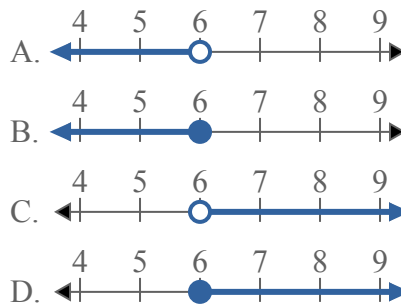
4) Какой вариант наиболее соответствует  $X \geq 6$



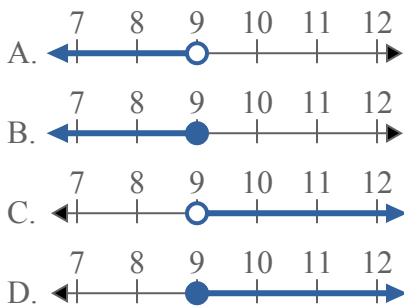
5) Какой вариант наиболее соответствует  $X > -1$



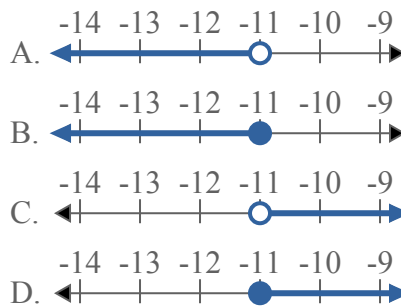
6) Какой вариант наиболее соответствует  $X \leq 6$



7) Какой вариант наиболее соответствует  $X < 9$



8) Какой вариант наиболее соответствует  $X \leq -11$



**ОТВЕТЫ**

1.   **A**
2.   **D**
3.   **B**
4.   **D**
5.   **C**
6.   **B**
7.   **A**
8.   **B**