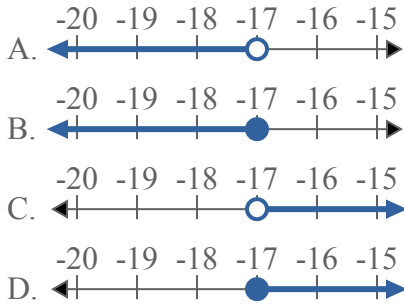




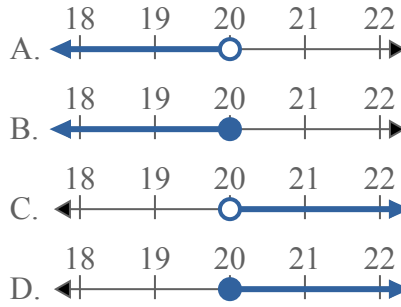
Решите каждую задачу.

ОТВЕТЫ

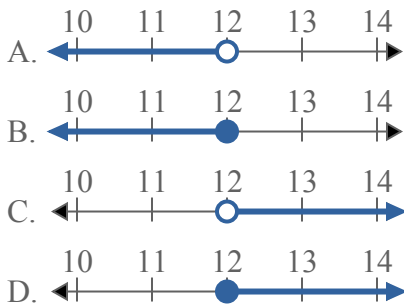
1) Какой вариант наиболее соответствует $X < -17$



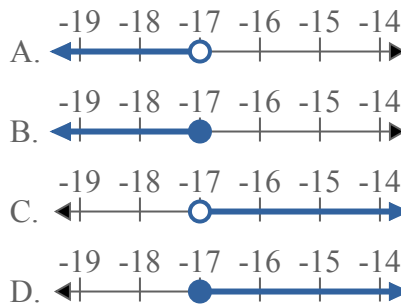
2) Какой вариант наиболее соответствует $X \leq 20$



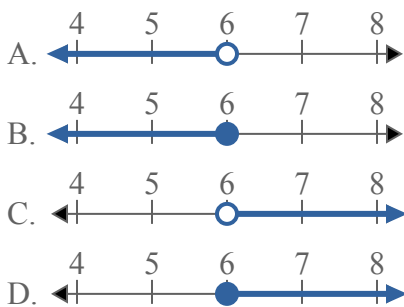
3) Какой вариант наиболее соответствует $X \geq 12$



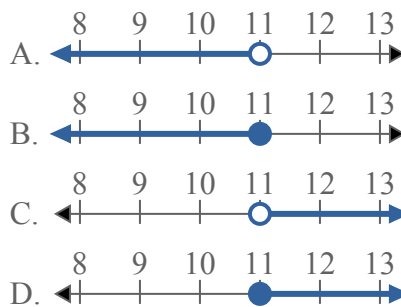
4) Какой вариант наиболее соответствует $X \geq -17$



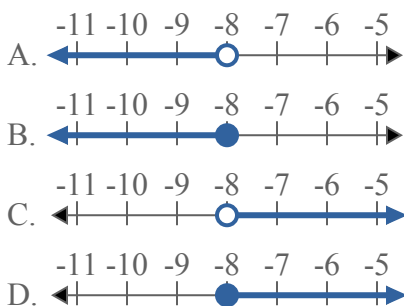
5) Какой вариант наиболее соответствует $X \geq 6$



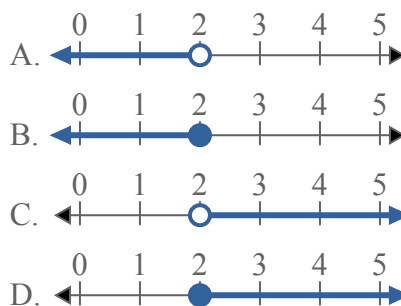
6) Какой вариант наиболее соответствует $X \leq 11$



7) Какой вариант наиболее соответствует $X \leq -8$



8) Какой вариант наиболее соответствует $X > 2$

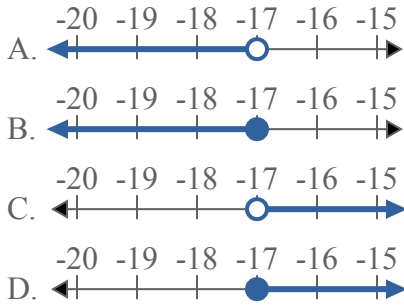


1. _____
2. _____
3. _____
4. _____
5. _____
6. _____
7. _____
8. _____

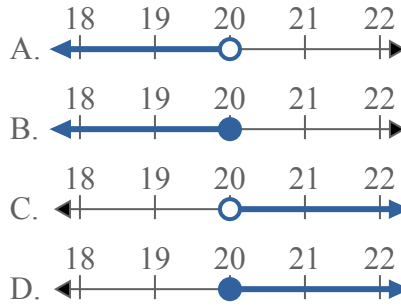


Решите каждую задачу.

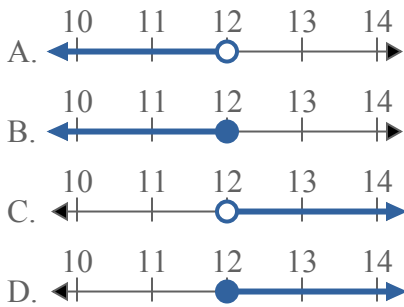
1) Какой вариант наиболее соответствует $X < -17$



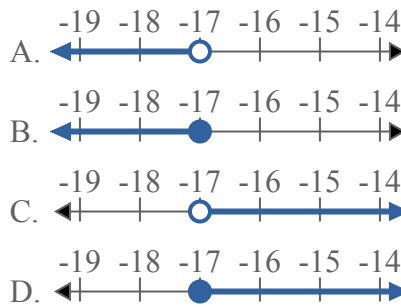
2) Какой вариант наиболее соответствует $X \leq 20$



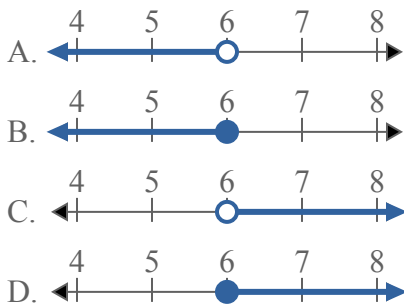
3) Какой вариант наиболее соответствует $X \geq 12$



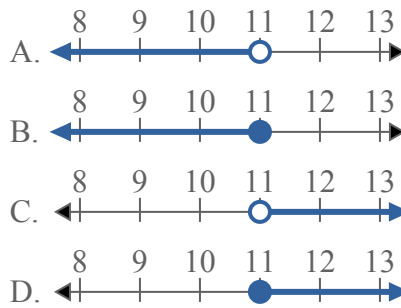
4) Какой вариант наиболее соответствует $X \geq -17$



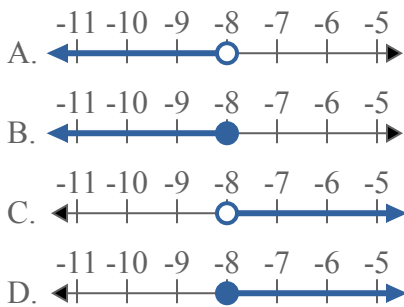
5) Какой вариант наиболее соответствует $X \geq 6$



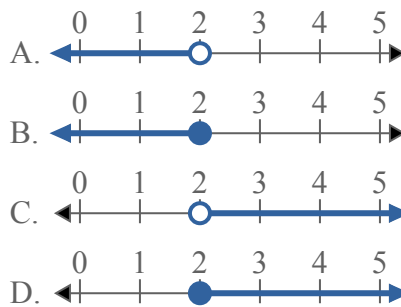
6) Какой вариант наиболее соответствует $X \leq 11$



7) Какой вариант наиболее соответствует $X \leq -8$



8) Какой вариант наиболее соответствует $X > 2$



ОТВЕТЫ

1. **A**
2. **B**
3. **D**
4. **D**
5. **D**
6. **B**
7. **B**
8. **C**