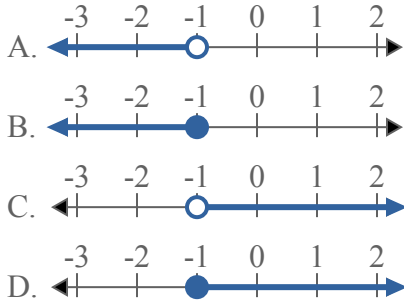




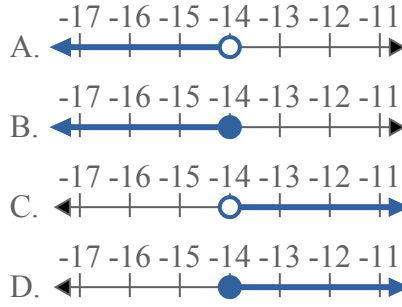
Решите каждую задачу.

**ОТВЕТЫ**

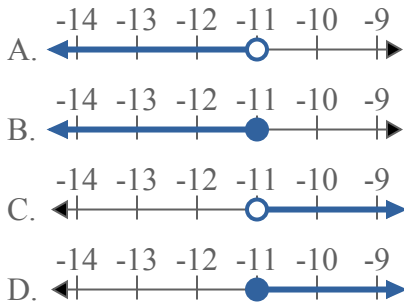
1) Какой вариант наиболее соответствует  $X > -1$



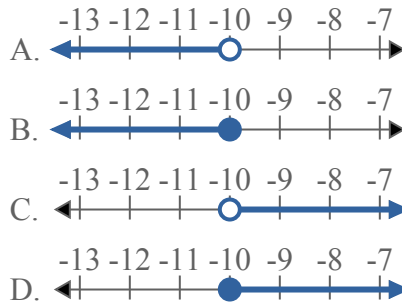
2) Какой вариант наиболее соответствует  $X < -14$



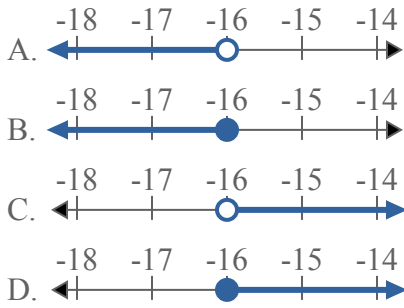
3) Какой вариант наиболее соответствует  $X \leq -11$



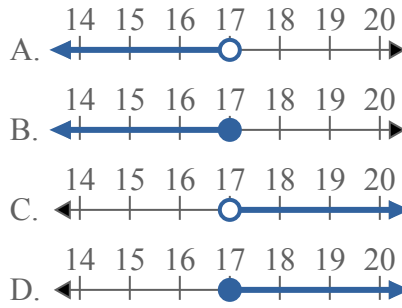
4) Какой вариант наиболее соответствует  $X < -10$



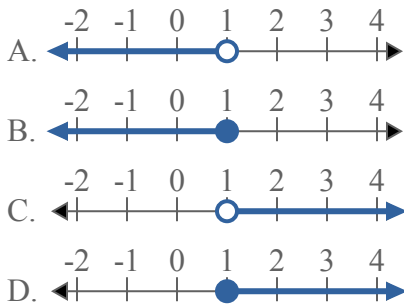
5) Какой вариант наиболее соответствует  $X \leq -16$



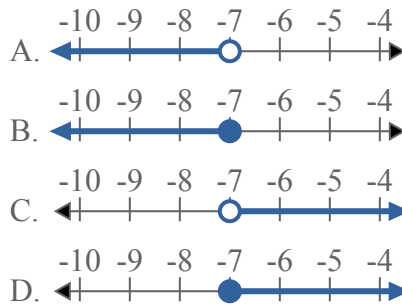
6) Какой вариант наиболее соответствует  $X > 17$



7) Какой вариант наиболее соответствует  $X > 1$



8) Какой вариант наиболее соответствует  $X > -7$

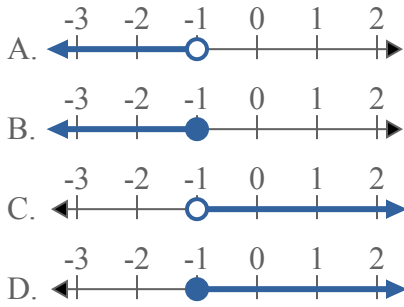


1. \_\_\_\_\_
2. \_\_\_\_\_
3. \_\_\_\_\_
4. \_\_\_\_\_
5. \_\_\_\_\_
6. \_\_\_\_\_
7. \_\_\_\_\_
8. \_\_\_\_\_

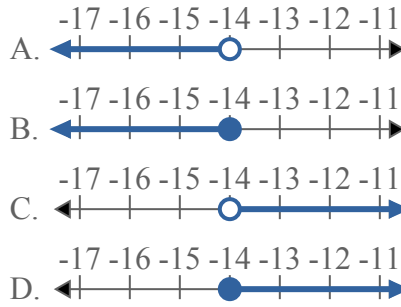


Решите каждую задачу.

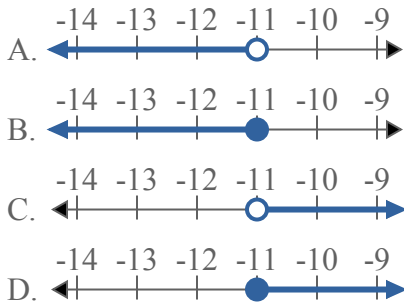
1) Какой вариант наиболее соответствует  $X > -1$



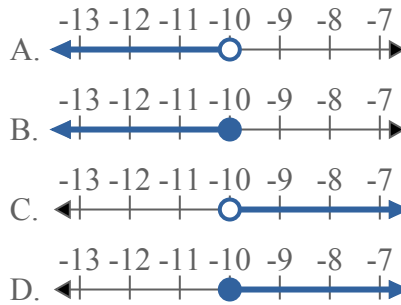
2) Какой вариант наиболее соответствует  $X < -14$



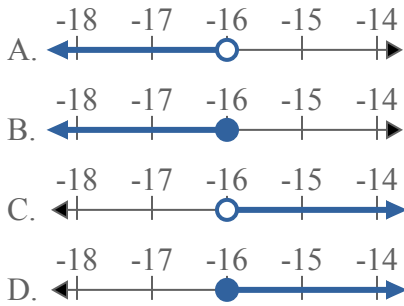
3) Какой вариант наиболее соответствует  $X \leq -11$



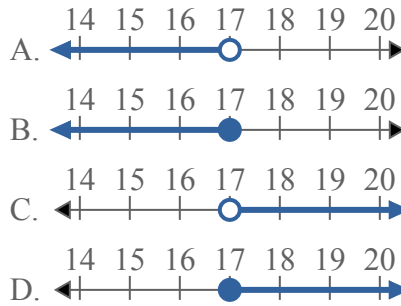
4) Какой вариант наиболее соответствует  $X < -10$



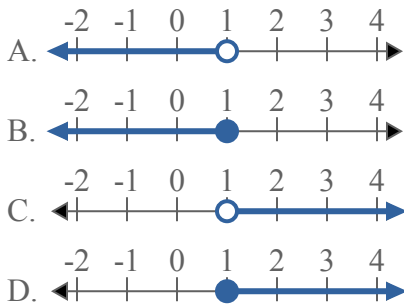
5) Какой вариант наиболее соответствует  $X \leq -16$



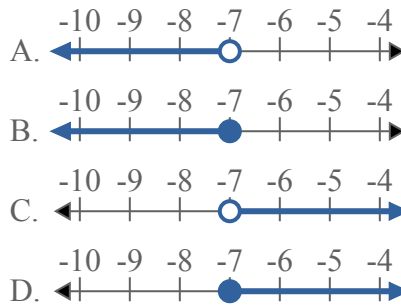
6) Какой вариант наиболее соответствует  $X > 17$



7) Какой вариант наиболее соответствует  $X > 1$



8) Какой вариант наиболее соответствует  $X > -7$



**ОТВЕТЫ**

1.     **C**
2.     **A**
3.     **B**
4.     **A**
5.     **B**
6.     **C**
7.     **C**
8.     **C**