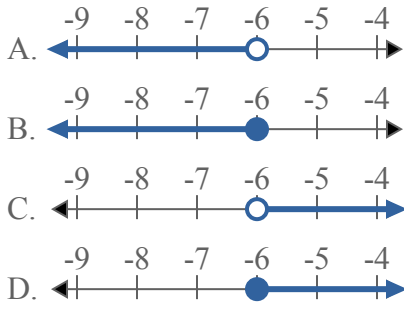




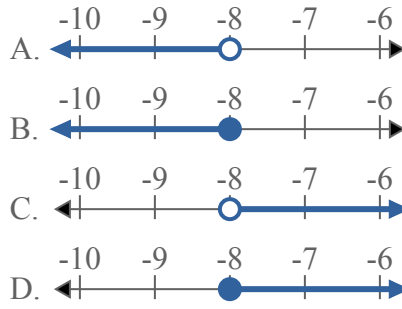
Решите каждую задачу.

**ОТВЕТЫ**

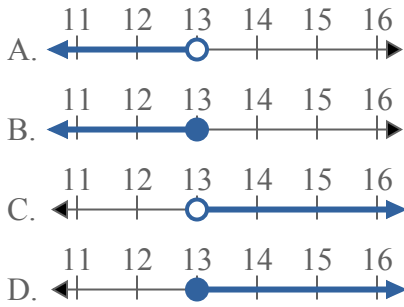
1) Какой вариант наиболее соответствует  $X \leq -6$



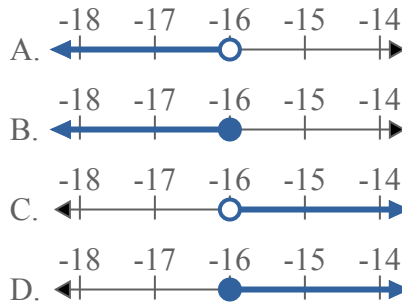
2) Какой вариант наиболее соответствует  $X > -8$



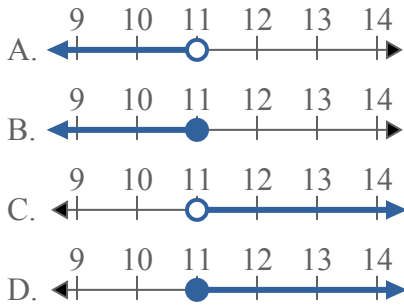
3) Какой вариант наиболее соответствует  $X < 13$



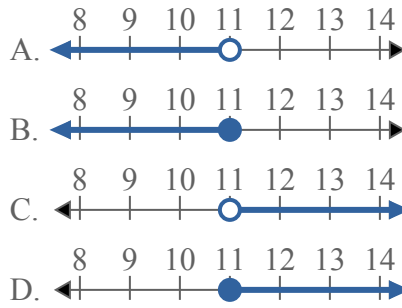
4) Какой вариант наиболее соответствует  $X < -16$



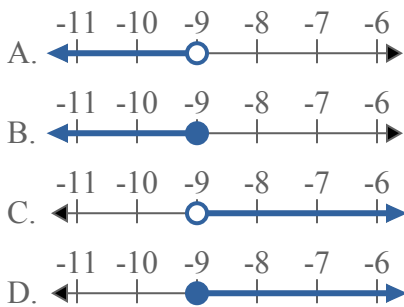
5) Какой вариант наиболее соответствует  $X \leq 11$



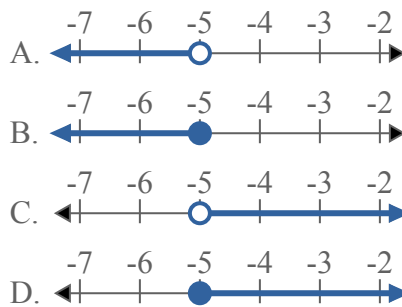
6) Какой вариант наиболее соответствует  $X \geq 11$



7) Какой вариант наиболее соответствует  $X > -9$



8) Какой вариант наиболее соответствует  $X \geq -5$

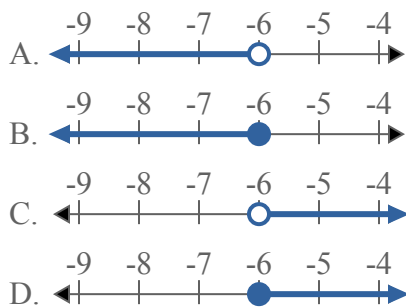


1. \_\_\_\_\_
2. \_\_\_\_\_
3. \_\_\_\_\_
4. \_\_\_\_\_
5. \_\_\_\_\_
6. \_\_\_\_\_
7. \_\_\_\_\_
8. \_\_\_\_\_

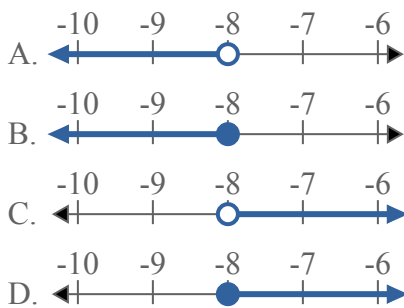


Решите каждую задачу.

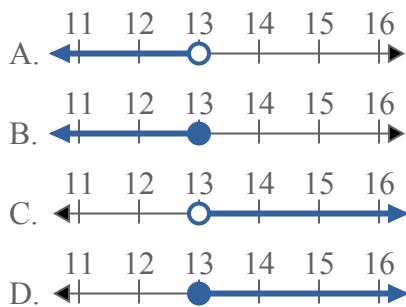
1) Какой вариант наиболее соответствует  $X \leq -6$



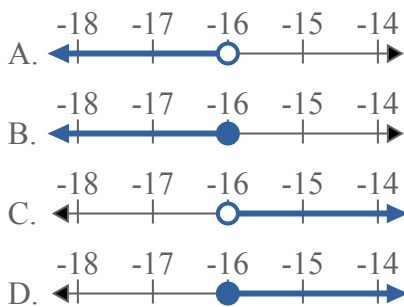
2) Какой вариант наиболее соответствует  $X > -8$



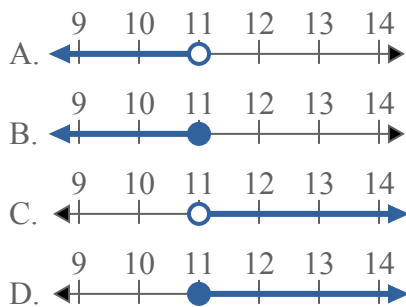
3) Какой вариант наиболее соответствует  $X < 13$



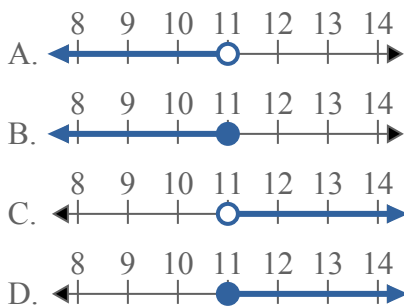
4) Какой вариант наиболее соответствует  $X < -16$



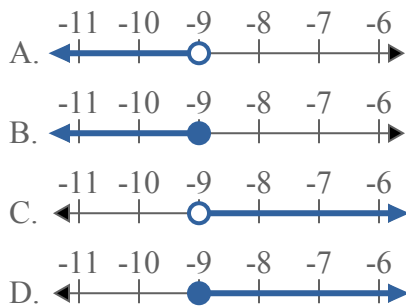
5) Какой вариант наиболее соответствует  $X \leq 11$



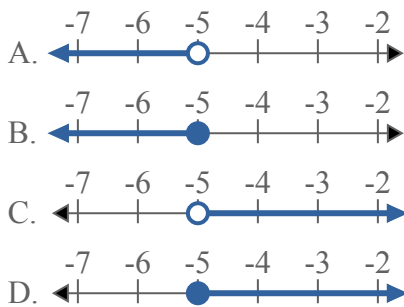
6) Какой вариант наиболее соответствует  $X \geq 11$



7) Какой вариант наиболее соответствует  $X > -9$



8) Какой вариант наиболее соответствует  $X \geq -5$



**ОТВЕТЫ**

1. **B**

2. **C**

3. **A**

4. **A**

5. **B**

6. **D**

7. **C**

8. **D**