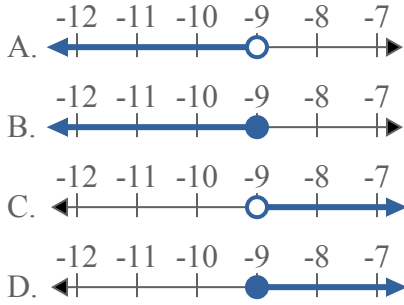




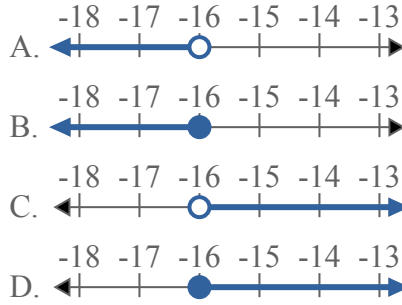
Решите каждую задачу.

ОТВЕТЫ

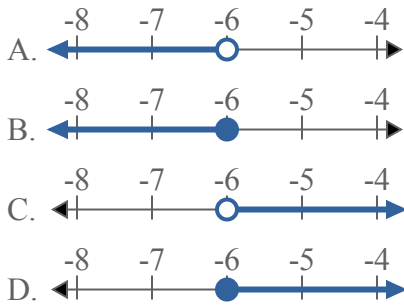
1) Какой вариант наиболее соответствует $X < -9$



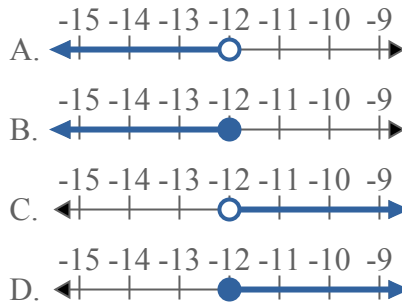
2) Какой вариант наиболее соответствует $X \leq -16$



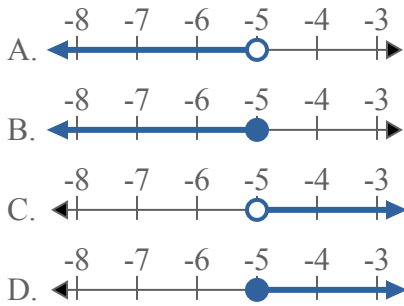
3) Какой вариант наиболее соответствует $X \geq -6$



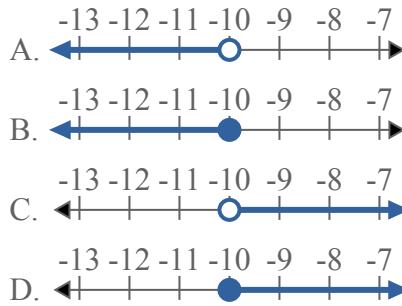
4) Какой вариант наиболее соответствует $X > -12$



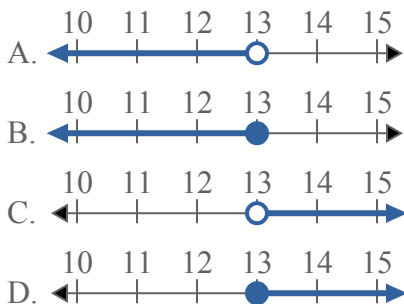
5) Какой вариант наиболее соответствует $X \leq -5$



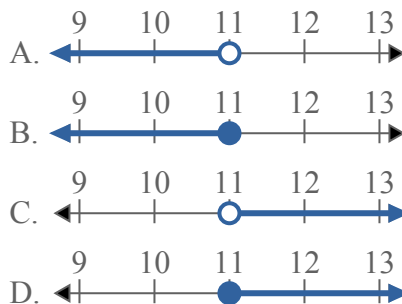
6) Какой вариант наиболее соответствует $X < -10$



7) Какой вариант наиболее соответствует $X > 13$



8) Какой вариант наиболее соответствует $X < 11$

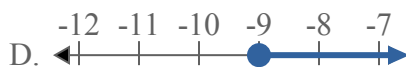
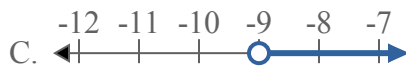


1. _____
2. _____
3. _____
4. _____
5. _____
6. _____
7. _____
8. _____

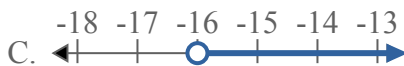
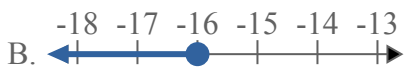
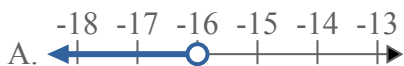


Решите каждую задачу.

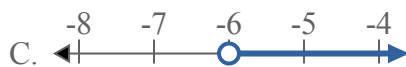
1) Какой вариант наиболее соответствует $X < -9$



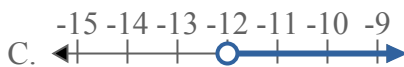
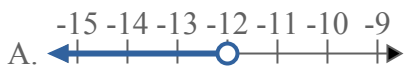
2) Какой вариант наиболее соответствует $X \leq -16$



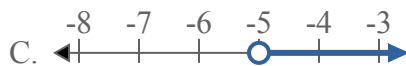
3) Какой вариант наиболее соответствует $X \geq -6$



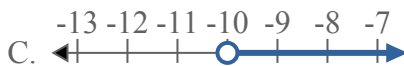
4) Какой вариант наиболее соответствует $X > -12$



5) Какой вариант наиболее соответствует $X \leq -5$



6) Какой вариант наиболее соответствует $X < -10$



7) Какой вариант наиболее соответствует $X > 13$



8) Какой вариант наиболее соответствует $X < 11$



ОТВЕТЫ

1. **A**

2. **B**

3. **D**

4. **C**

5. **B**

6. **A**

7. **C**

8. **A**