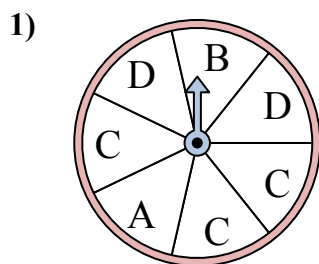
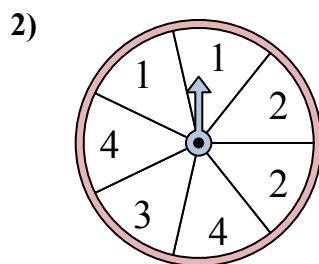




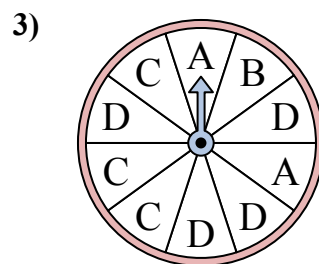
Решайте каждую проблему. Округлите ответ до ближайшей десятой.



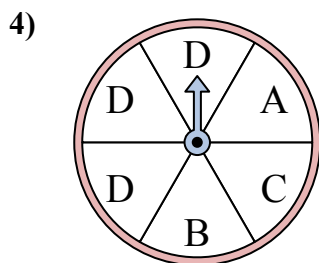
У спиннера есть {ПУСТО}% шанс приземлиться на D.



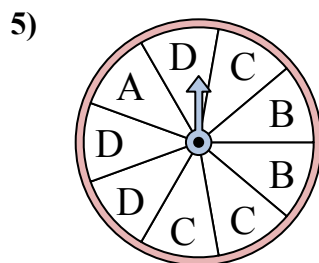
У спиннера есть {ПУСТО}% шанс приземлиться на 3.



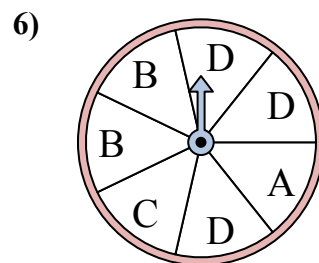
У спиннера есть {ПУСТО}% шанс приземлиться на B.



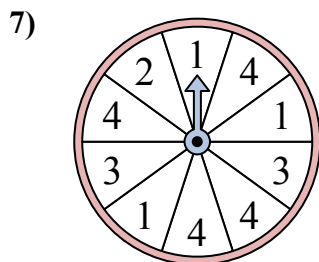
У спиннера есть {ПУСТО}% шанс приземлиться на B.



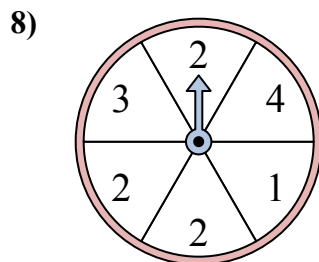
У спиннера есть {ПУСТО}% шанс приземлиться на C.



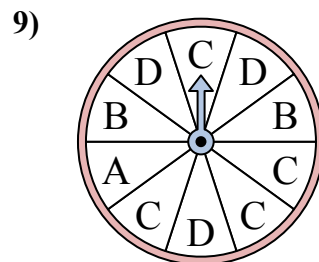
У спиннера есть {ПУСТО}% шанс приземлиться на B.



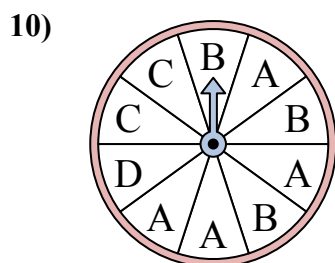
У спиннера есть {ПУСТО}% шанс приземлиться на 4.



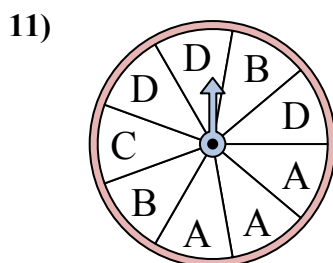
У спиннера есть {ПУСТО}% шанс приземлиться на 1.



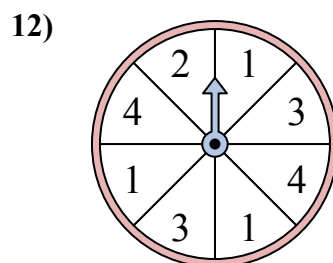
У спиннера есть {ПУСТО}% шанс приземлиться на C.



У спиннера есть {ПУСТО}% шанс приземлиться на D.



У спиннера есть {ПУСТО}% шанс приземлиться на B.



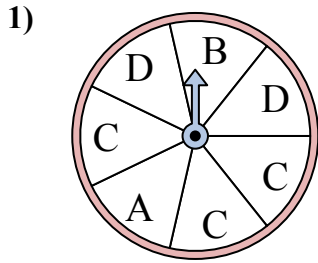
У спиннера есть {ПУСТО}% шанс приземлиться на 4.

**ОТВЕТЫ**

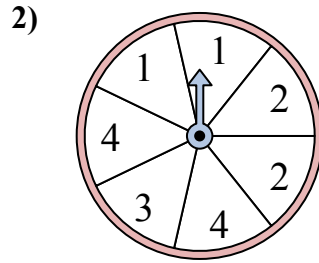
1. \_\_\_\_\_
2. \_\_\_\_\_
3. \_\_\_\_\_
4. \_\_\_\_\_
5. \_\_\_\_\_
6. \_\_\_\_\_
7. \_\_\_\_\_
8. \_\_\_\_\_
9. \_\_\_\_\_
10. \_\_\_\_\_
11. \_\_\_\_\_
12. \_\_\_\_\_



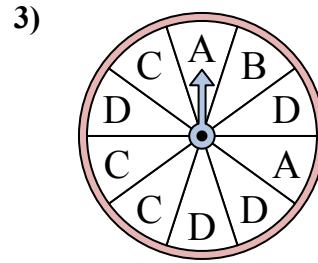
Решайте каждую проблему. Округлите ответ до ближайшей десятой.



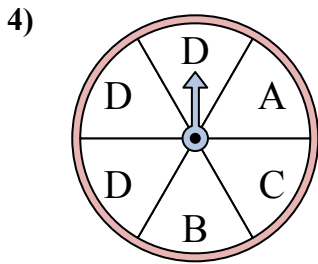
У спиннера есть {ПУСТО}% шанс приземлиться на D.



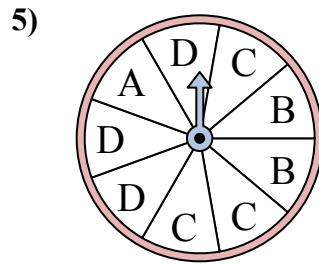
У спиннера есть {ПУСТО}% шанс приземлиться на 3.



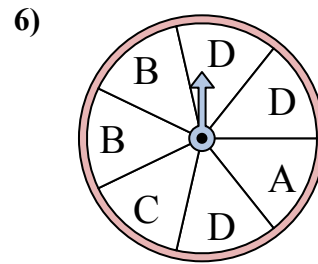
У спиннера есть {ПУСТО}% шанс приземлиться на B.



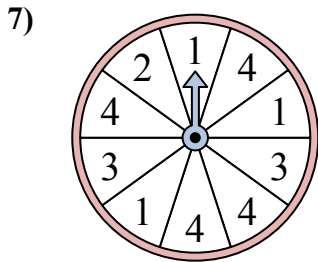
У спиннера есть {ПУСТО}% шанс приземлиться на B.



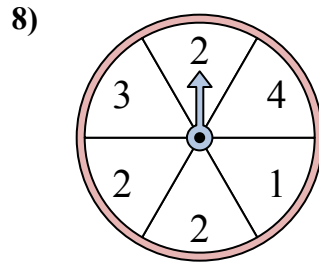
У спиннера есть {ПУСТО}% шанс приземлиться на C.



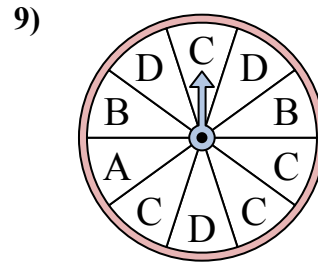
У спиннера есть {ПУСТО}% шанс приземлиться на B.



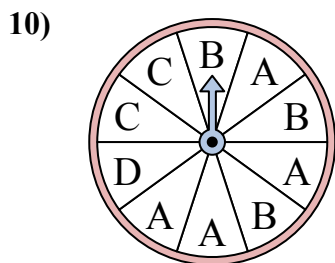
У спиннера есть {ПУСТО}% шанс приземлиться на 4.



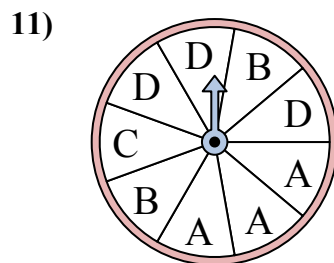
У спиннера есть {ПУСТО}% шанс приземлиться на 1.



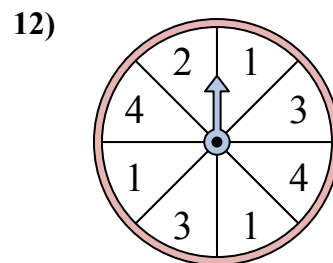
У спиннера есть {ПУСТО}% шанс приземлиться на C.



У спиннера есть {ПУСТО}% шанс приземлиться на D.



У спиннера есть {ПУСТО}% шанс приземлиться на B.



У спиннера есть {ПУСТО}% шанс приземлиться на 4.

**ОТВЕТЫ**

1. 28,6
2. 14,3
3. 10
4. 16,7
5. 33,3
6. 28,6
7. 40
8. 16,7
9. 40
10. 10
11. 22,2
12. 25