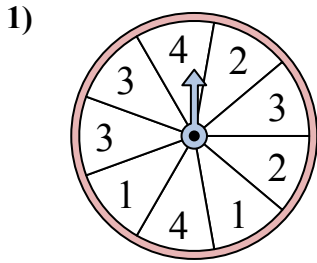


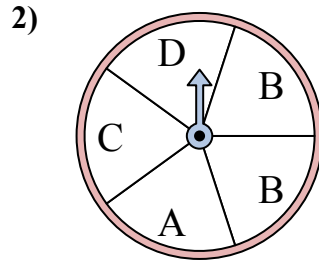


Решайте каждую проблему. Округлите ответ до ближайшей десятой.

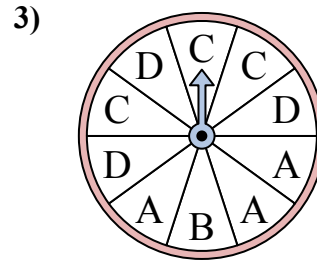
Ответы



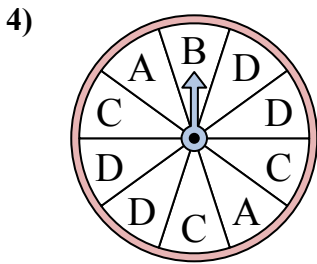
У спиннера есть {ПУСТО}% шанс приземлиться на 2.



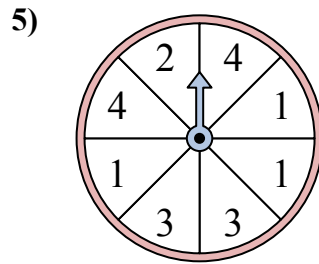
У спиннера есть {ПУСТО}% шанс приземлиться на D.



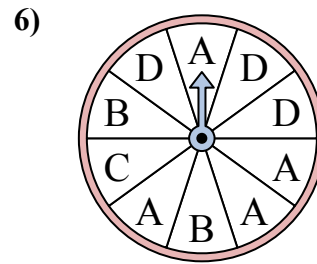
У спиннера есть {ПУСТО}% шанс приземлиться на B.



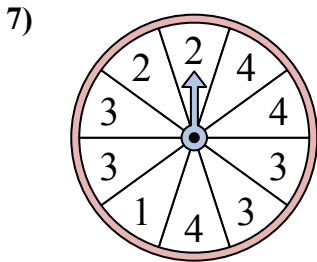
У спиннера есть {ПУСТО}% шанс приземлиться на A.



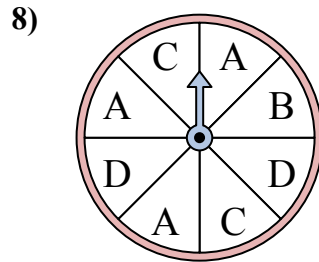
У спиннера есть {ПУСТО}% шанс приземлиться на 3.



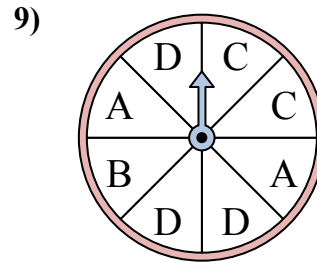
У спиннера есть {ПУСТО}% шанс приземлиться на C.



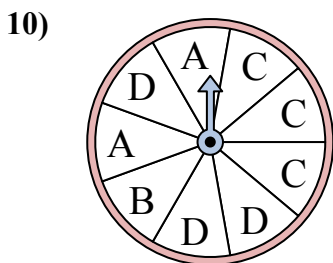
У спиннера есть {ПУСТО}% шанс приземлиться на 4.



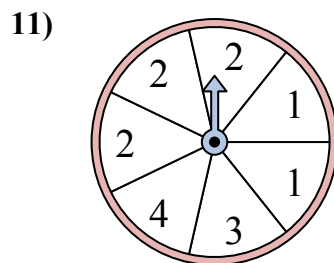
У спиннера есть {ПУСТО}% шанс приземлиться на C.



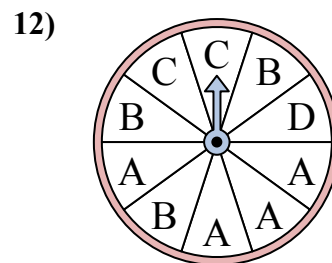
У спиннера есть {ПУСТО}% шанс приземлиться на D.



У спиннера есть {ПУСТО}% шанс приземлиться на A.



У спиннера есть {ПУСТО}% шанс приземлиться на 1.

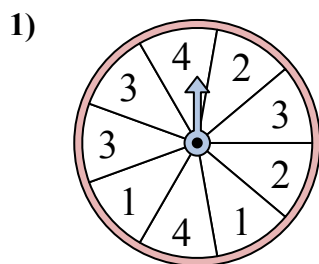


У спиннера есть {ПУСТО}% шанс приземлиться на A.

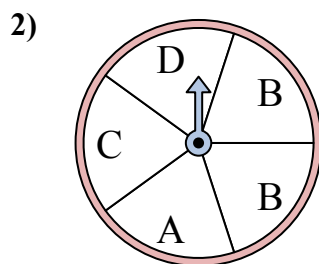
1. _____
2. _____
3. _____
4. _____
5. _____
6. _____
7. _____
8. _____
9. _____
10. _____
11. _____
12. _____



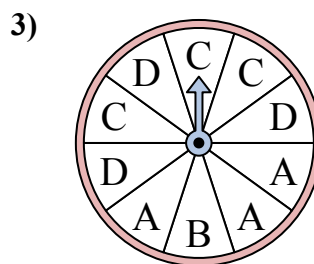
Решайте каждую проблему. Округлите ответ до ближайшей десятой.



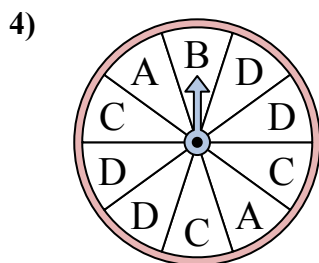
У спиннера есть {ПУСТО}% шанс приземлиться на 2.



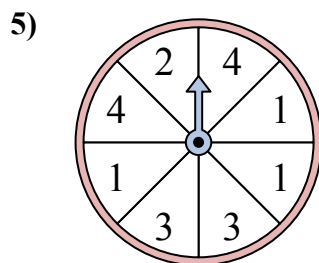
У спиннера есть {ПУСТО}% шанс приземлиться на D.



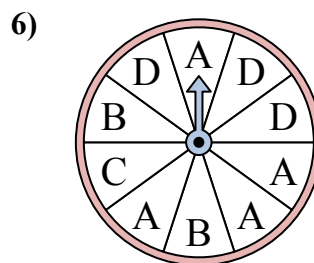
У спиннера есть {ПУСТО}% шанс приземлиться на B.



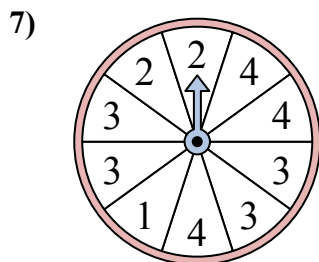
У спиннера есть {ПУСТО}% шанс приземлиться на A.



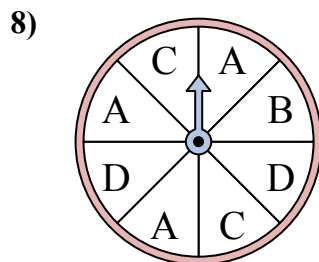
У спиннера есть {ПУСТО}% шанс приземлиться на 3.



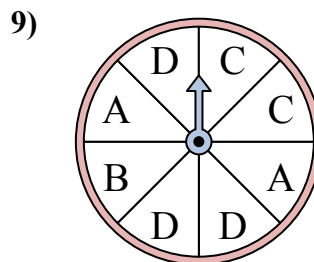
У спиннера есть {ПУСТО}% шанс приземлиться на C.



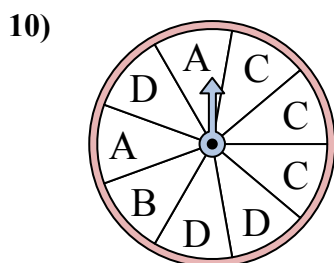
У спиннера есть {ПУСТО}% шанс приземлиться на 4.



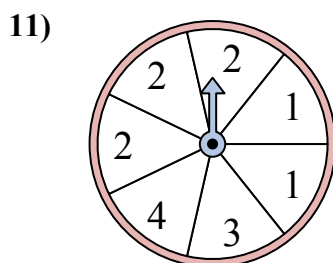
У спиннера есть {ПУСТО}% шанс приземлиться на C.



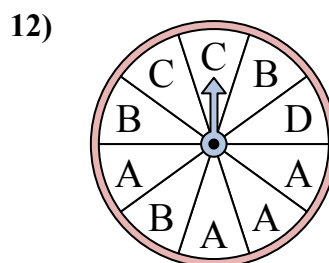
У спиннера есть {ПУСТО}% шанс приземлиться на D.



У спиннера есть {ПУСТО}% шанс приземлиться на A.



У спиннера есть {ПУСТО}% шанс приземлиться на 1.



У спиннера есть {ПУСТО}% шанс приземлиться на A.

ОТВЕТЫ

1. 22,2
2. 20
3. 10
4. 20
5. 25
6. 10
7. 30
8. 25
9. 37,5
10. 22,2
11. 28,6
12. 40