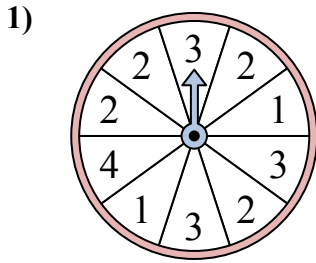


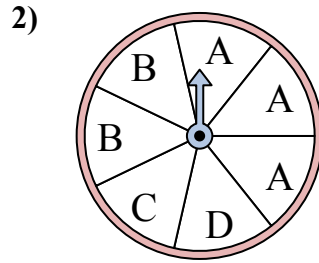


Решайте каждую проблему. Округлите ответ до ближайшей десятой.

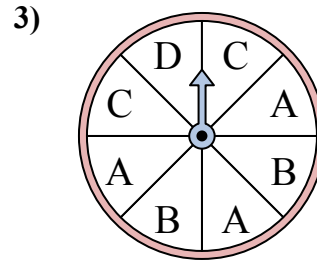
ОТВЕТЫ



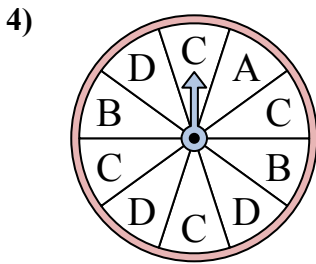
У спиннера есть {ПУСТО}% шанс приземлиться на 2.



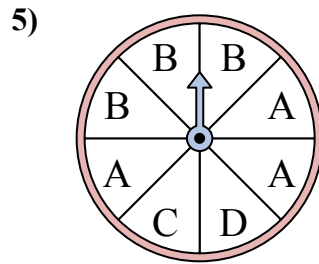
У спиннера есть {ПУСТО}% шанс приземлиться на D.



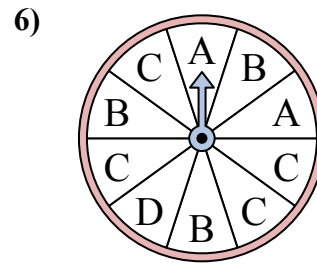
У спиннера есть {ПУСТО}% шанс приземлиться на A.



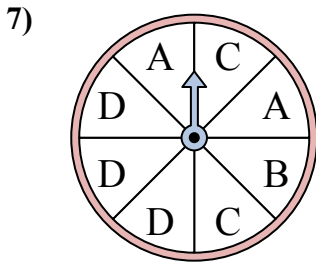
У спиннера есть {ПУСТО}% шанс приземлиться на D.



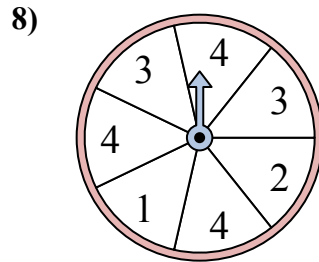
У спиннера есть {ПУСТО}% шанс приземлиться на D.



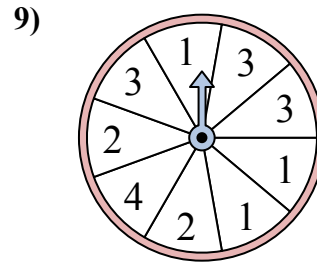
У спиннера есть {ПУСТО}% шанс приземлиться на B.



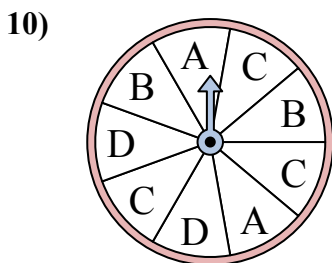
У спиннера есть {ПУСТО}% шанс приземлиться на D.



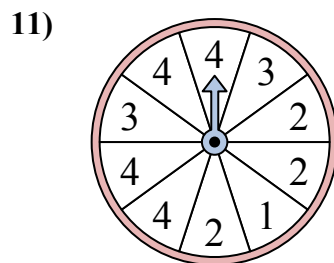
У спиннера есть {ПУСТО}% шанс приземлиться на 2.



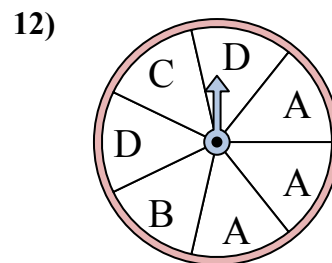
У спиннера есть {ПУСТО}% шанс приземлиться на 1.



У спиннера есть {ПУСТО}% шанс приземлиться на C.



У спиннера есть {ПУСТО}% шанс приземлиться на 4.

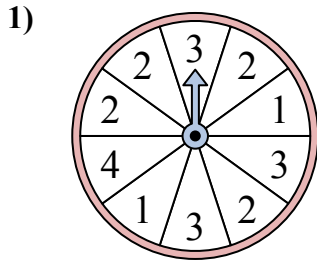


У спиннера есть {ПУСТО}% шанс приземлиться на D.

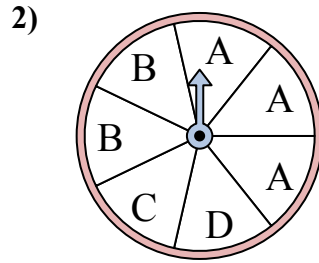
1. _____
2. _____
3. _____
4. _____
5. _____
6. _____
7. _____
8. _____
9. _____
10. _____
11. _____
12. _____



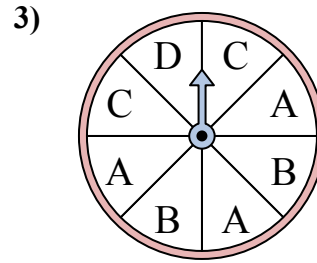
Решайте каждую проблему. Округлите ответ до ближайшей десятой.



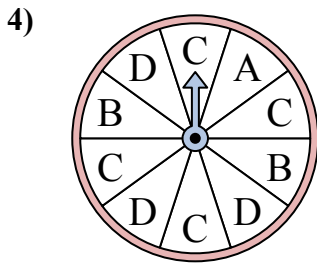
У спиннера есть {ПУСТО}% шанс приземлиться на 2.



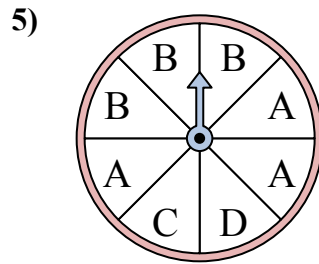
У спиннера есть {ПУСТО}% шанс приземлиться на D.



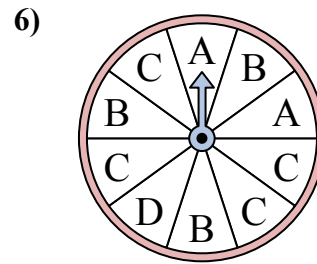
У спиннера есть {ПУСТО}% шанс приземлиться на A.



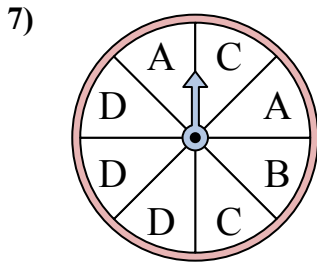
У спиннера есть {ПУСТО}% шанс приземлиться на D.



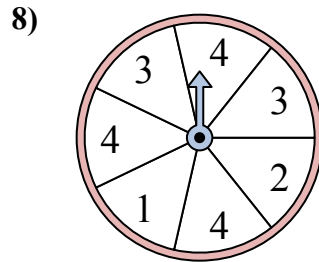
У спиннера есть {ПУСТО}% шанс приземлиться на D.



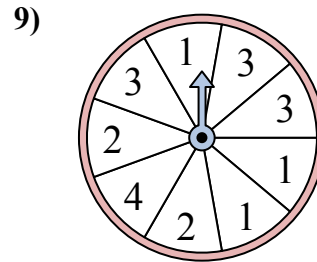
У спиннера есть {ПУСТО}% шанс приземлиться на B.



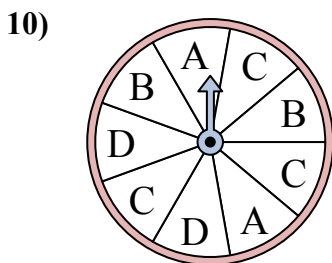
У спиннера есть {ПУСТО}% шанс приземлиться на D.



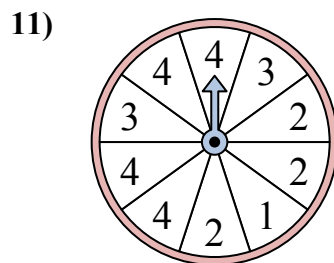
У спиннера есть {ПУСТО}% шанс приземлиться на 2.



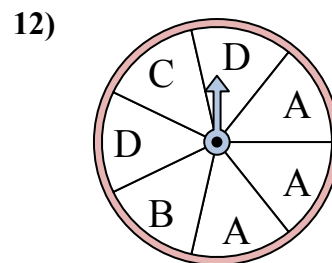
У спиннера есть {ПУСТО}% шанс приземлиться на 1.



У спиннера есть {ПУСТО}% шанс приземлиться на C.



У спиннера есть {ПУСТО}% шанс приземлиться на 4.



У спиннера есть {ПУСТО}% шанс приземлиться на D.

ОТВЕТЫ

1. 40
2. 14,3
3. 37,5
4. 30
5. 12,5
6. 30
7. 37,5
8. 14,3
9. 33,3
10. 33,3
11. 40
12. 28,6