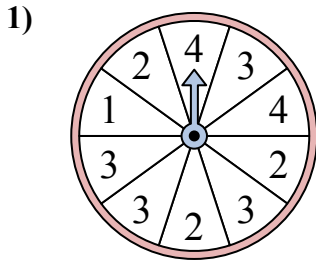


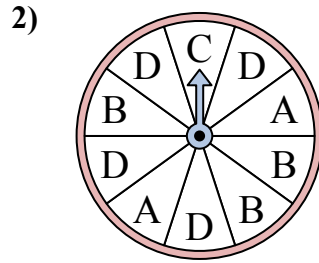


Решайте каждую проблему. Округлите ответ до ближайшей десятой.

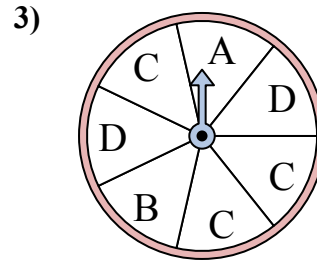
ОТВЕТЫ



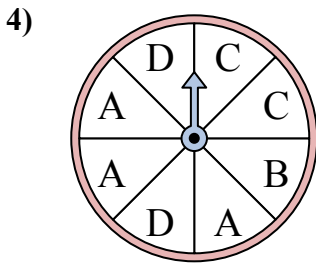
У спиннера есть {ПУСТО}% шанс приземлиться на 2.



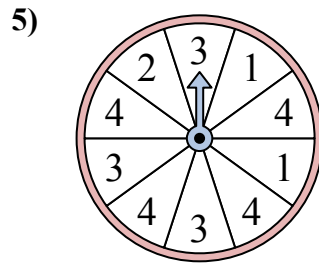
У спиннера есть {ПУСТО}% шанс приземлиться на D.



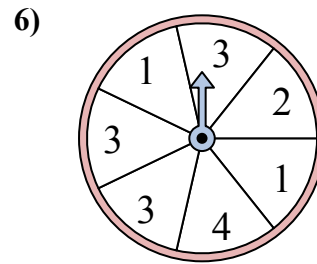
У спиннера есть {ПУСТО}% шанс приземлиться на C.



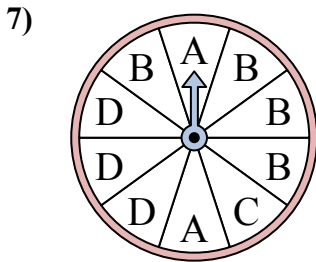
У спиннера есть {ПУСТО}% шанс приземлиться на A.



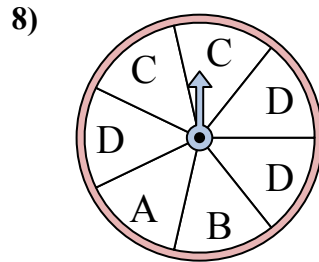
У спиннера есть {ПУСТО}% шанс приземлиться на 2.



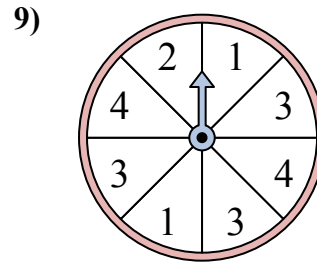
У спиннера есть {ПУСТО}% шанс приземлиться на 2.



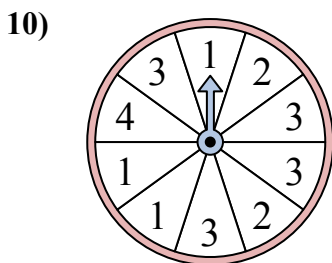
У спиннера есть {ПУСТО}% шанс приземлиться на B.



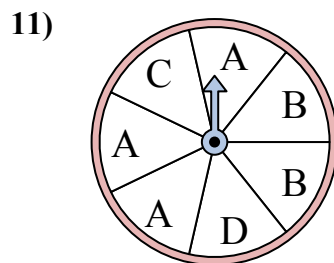
У спиннера есть {ПУСТО}% шанс приземлиться на C.



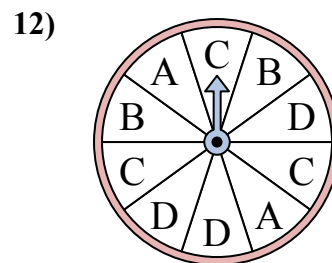
У спиннера есть {ПУСТО}% шанс приземлиться на 1.



У спиннера есть {ПУСТО}% шанс приземлиться на 4.



У спиннера есть {ПУСТО}% шанс приземлиться на D.

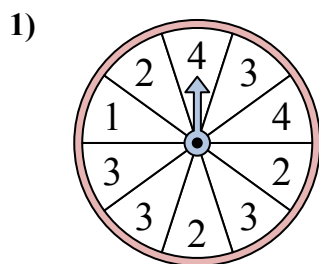


У спиннера есть {ПУСТО}% шанс приземлиться на C.

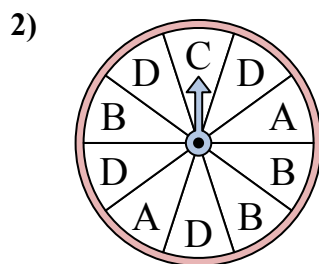
1. _____
2. _____
3. _____
4. _____
5. _____
6. _____
7. _____
8. _____
9. _____
10. _____
11. _____
12. _____



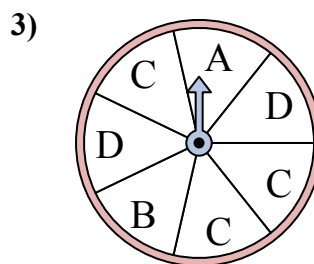
Решайте каждую проблему. Округлите ответ до ближайшей десятой.



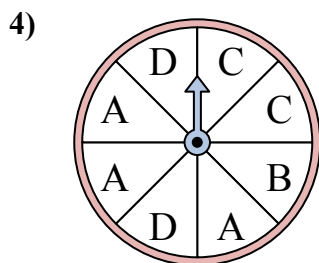
У спиннера есть {ПУСТО}% шанс приземлиться на 2.



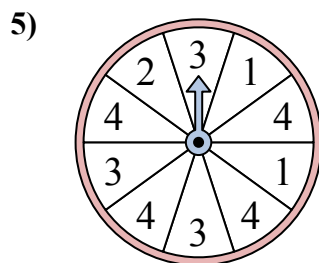
У спиннера есть {ПУСТО}% шанс приземлиться на D.



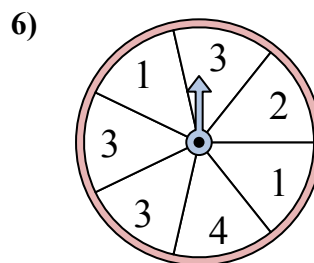
У спиннера есть {ПУСТО}% шанс приземлиться на C.



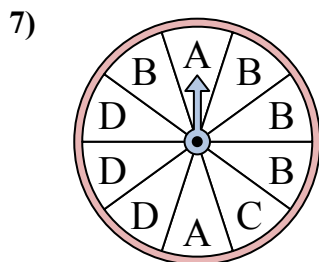
У спиннера есть {ПУСТО}% шанс приземлиться на A.



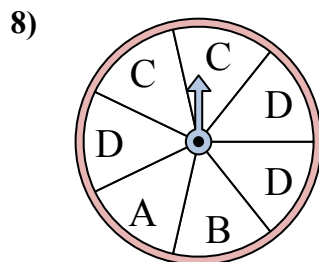
У спиннера есть {ПУСТО}% шанс приземлиться на 2.



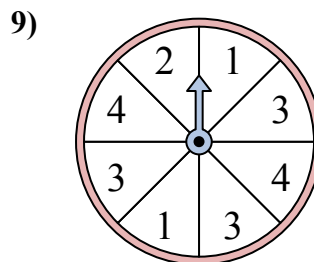
У спиннера есть {ПУСТО}% шанс приземлиться на 2.



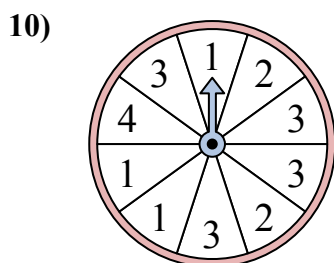
У спиннера есть {ПУСТО}% шанс приземлиться на B.



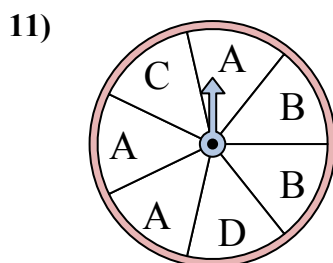
У спиннера есть {ПУСТО}% шанс приземлиться на C.



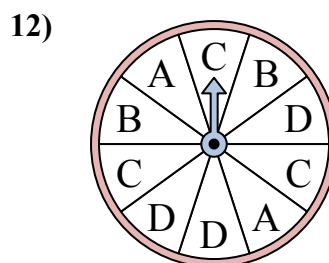
У спиннера есть {ПУСТО}% шанс приземлиться на 1.



У спиннера есть {ПУСТО}% шанс приземлиться на 4.



У спиннера есть {ПУСТО}% шанс приземлиться на D.



У спиннера есть {ПУСТО}% шанс приземлиться на C.

ОТВЕТЫ

1. 30
2. 40
3. 42,9
4. 37,5
5. 10
6. 14,3
7. 40
8. 28,6
9. 25
10. 10
11. 14,3
12. 30