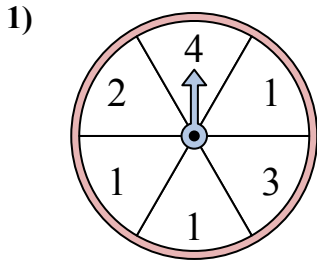


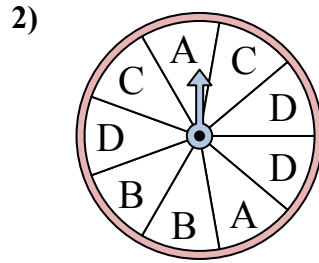


Решайте каждую проблему. Округлите ответ до ближайшей десятой.

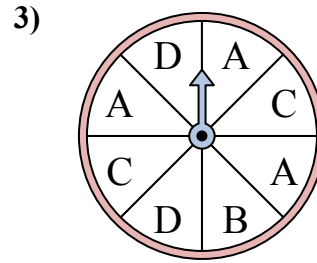
**ОТВЕТЫ**



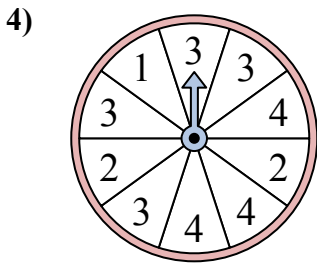
У спиннера есть {ПУСТО}% шанс приземлиться на 2.



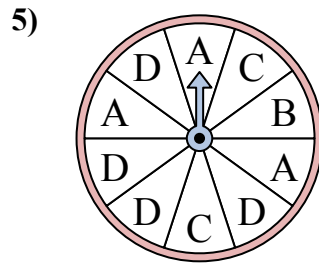
У спиннера есть {ПУСТО}% шанс приземлиться на B.



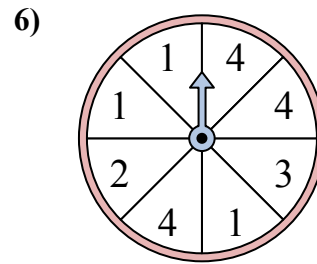
У спиннера есть {ПУСТО}% шанс приземлиться на C.



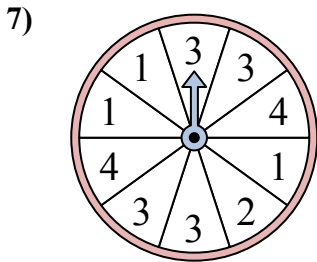
У спиннера есть {ПУСТО}% шанс приземлиться на 3.



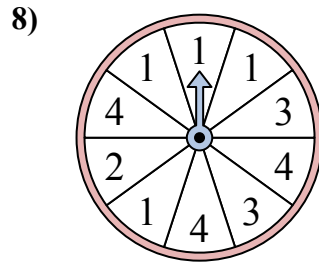
У спиннера есть {ПУСТО}% шанс приземлиться на D.



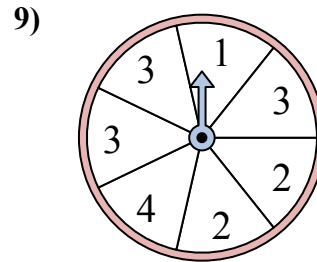
У спиннера есть {ПУСТО}% шанс приземлиться на 4.



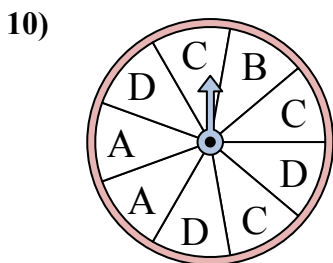
У спиннера есть {ПУСТО}% шанс приземлиться на 4.



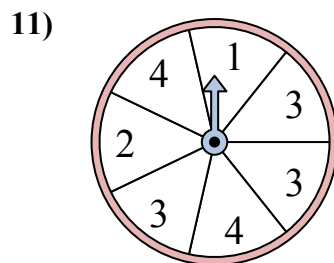
У спиннера есть {ПУСТО}% шанс приземлиться на 1.



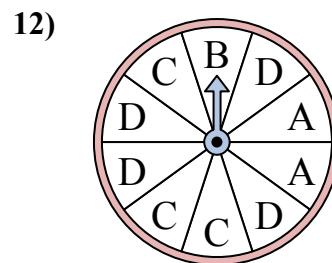
У спиннера есть {ПУСТО}% шанс приземлиться на 3.



У спиннера есть {ПУСТО}% шанс приземлиться на C.



У спиннера есть {ПУСТО}% шанс приземлиться на 2.

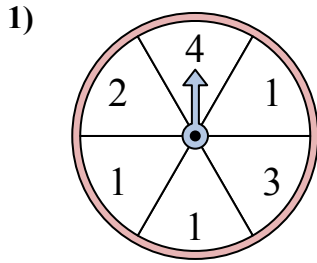


У спиннера есть {ПУСТО}% шанс приземлиться на D.

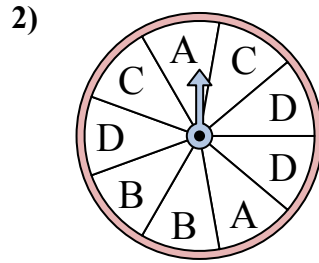
1. \_\_\_\_\_
2. \_\_\_\_\_
3. \_\_\_\_\_
4. \_\_\_\_\_
5. \_\_\_\_\_
6. \_\_\_\_\_
7. \_\_\_\_\_
8. \_\_\_\_\_
9. \_\_\_\_\_
10. \_\_\_\_\_
11. \_\_\_\_\_
12. \_\_\_\_\_



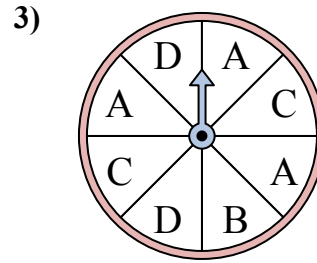
Решайте каждую проблему. Округлите ответ до ближайшей десятой.



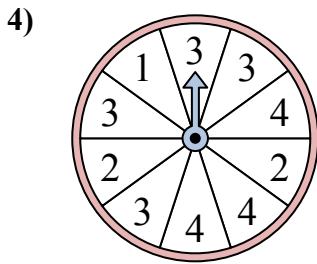
У спиннера есть {ПУСТО}% шанс приземлиться на 2.



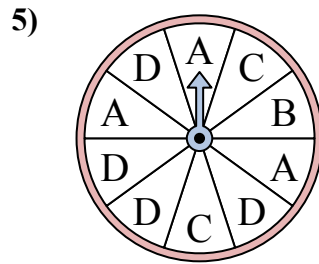
У спиннера есть {ПУСТО}% шанс приземлиться на B.



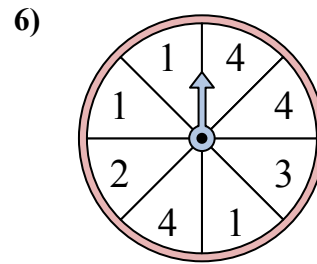
У спиннера есть {ПУСТО}% шанс приземлиться на C.



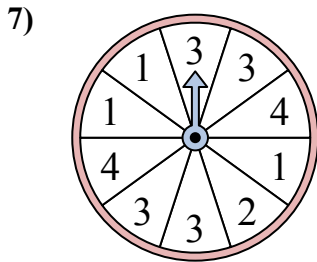
У спиннера есть {ПУСТО}% шанс приземлиться на 3.



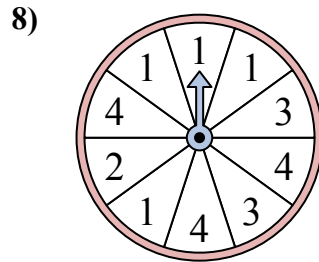
У спиннера есть {ПУСТО}% шанс приземлиться на D.



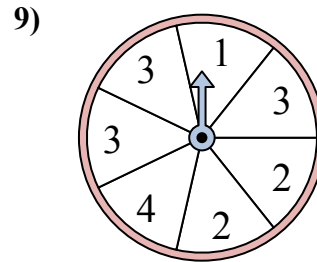
У спиннера есть {ПУСТО}% шанс приземлиться на 4.



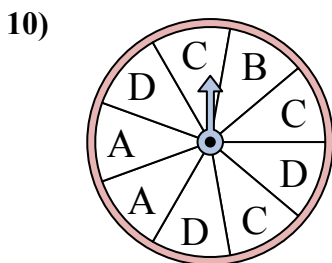
У спиннера есть {ПУСТО}% шанс приземлиться на 4.



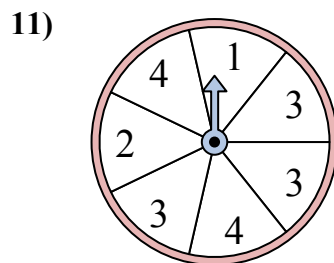
У спиннера есть {ПУСТО}% шанс приземлиться на 1.



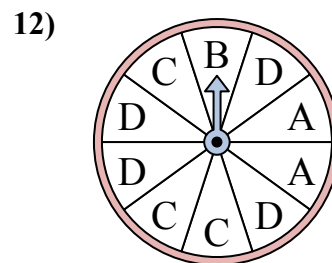
У спиннера есть {ПУСТО}% шанс приземлиться на 3.



У спиннера есть {ПУСТО}% шанс приземлиться на C.



У спиннера есть {ПУСТО}% шанс приземлиться на 2.



У спиннера есть {ПУСТО}% шанс приземлиться на D.

**ОТВЕТЫ**

1. 16,7
2. 22,2
3. 25
4. 40
5. 40
6. 37,5
7. 20
8. 40
9. 42,9
10. 33,3
11. 14,3
12. 40