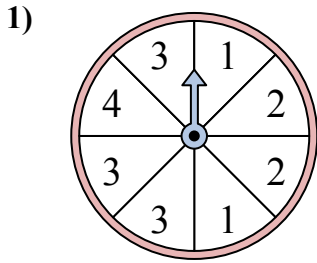


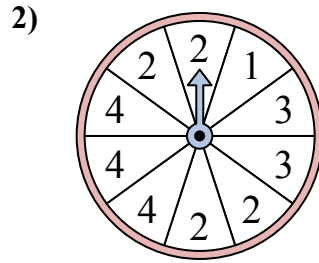


Решайте каждую проблему. Округлите ответ до ближайшей десятой.

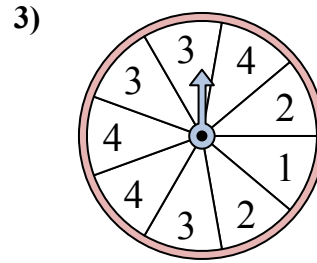
ОТВЕТЫ



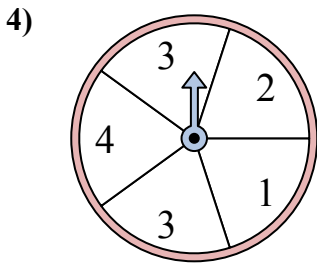
У спиннера есть {ПУСТО}% шанс приземлиться на 3.



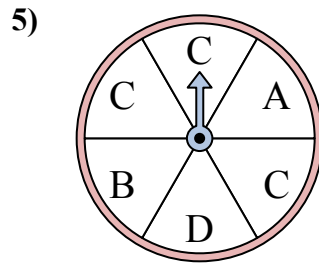
У спиннера есть {ПУСТО}% шанс приземлиться на 4.



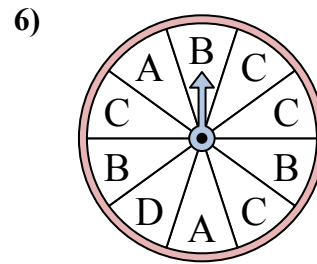
У спиннера есть {ПУСТО}% шанс приземлиться на 3.



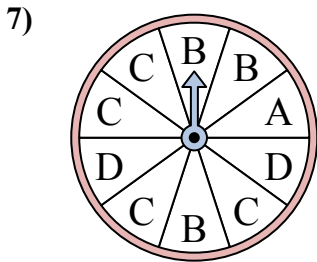
У спиннера есть {ПУСТО}% шанс приземлиться на 1.



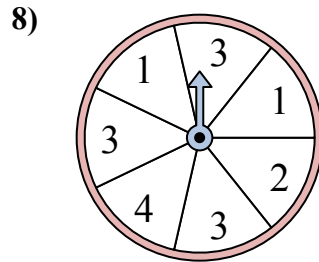
У спиннера есть {ПУСТО}% шанс приземлиться на C.



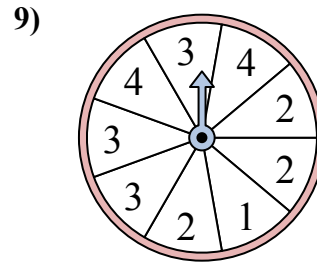
У спиннера есть {ПУСТО}% шанс приземлиться на D.



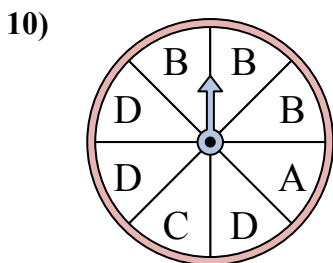
У спиннера есть {ПУСТО}% шанс приземлиться на A.



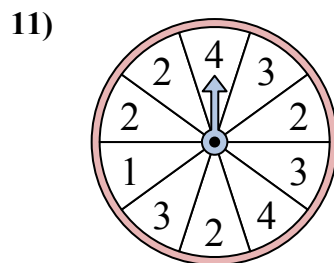
У спиннера есть {ПУСТО}% шанс приземлиться на 3.



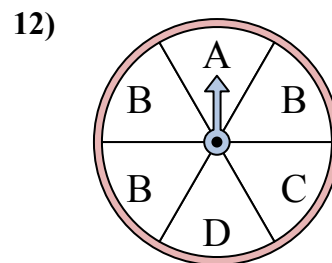
У спиннера есть {ПУСТО}% шанс приземлиться на 4.



У спиннера есть {ПУСТО}% шанс приземлиться на B.



У спиннера есть {ПУСТО}% шанс приземлиться на 1.

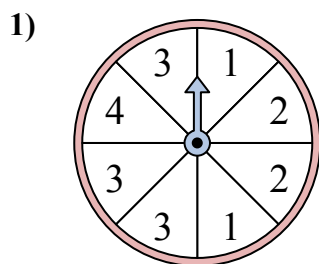


У спиннера есть {ПУСТО}% шанс приземлиться на C.

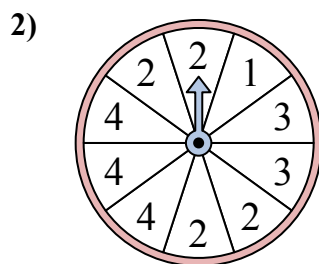
1. _____
2. _____
3. _____
4. _____
5. _____
6. _____
7. _____
8. _____
9. _____
10. _____
11. _____
12. _____



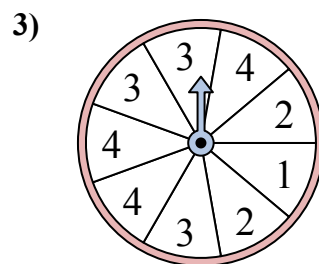
Решайте каждую проблему. Округлите ответ до ближайшей десятой.



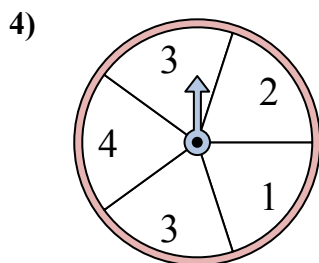
У спиннера есть {ПУСТО}% шанс приземлиться на 3.



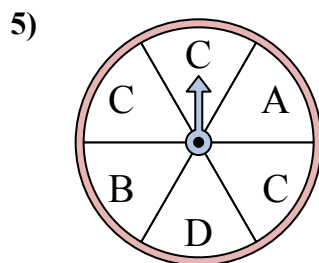
У спиннера есть {ПУСТО}% шанс приземлиться на 4.



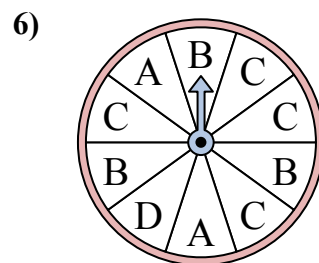
У спиннера есть {ПУСТО}% шанс приземлиться на 3.



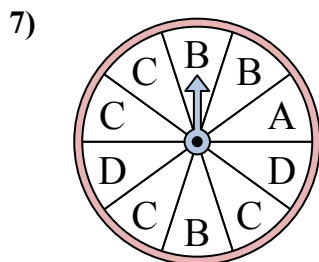
У спиннера есть {ПУСТО}% шанс приземлиться на 1.



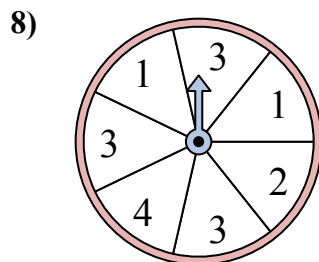
У спиннера есть {ПУСТО}% шанс приземлиться на C.



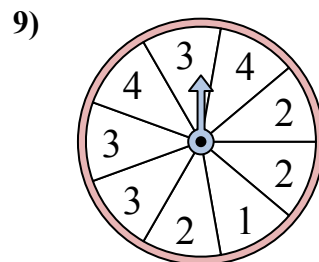
У спиннера есть {ПУСТО}% шанс приземлиться на D.



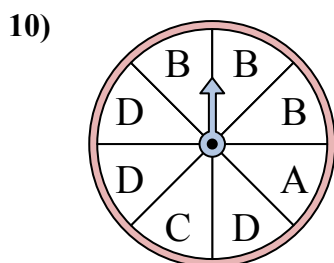
У спиннера есть {ПУСТО}% шанс приземлиться на A.



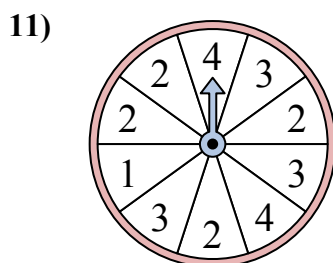
У спиннера есть {ПУСТО}% шанс приземлиться на 3.



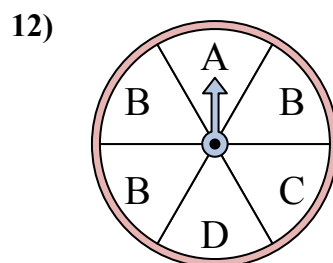
У спиннера есть {ПУСТО}% шанс приземлиться на 4.



У спиннера есть {ПУСТО}% шанс приземлиться на B.



У спиннера есть {ПУСТО}% шанс приземлиться на 1.



У спиннера есть {ПУСТО}% шанс приземлиться на C.

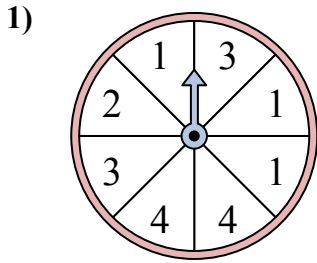
ОТВЕТЫ

1. 37,5
2. 30
3. 33,3
4. 20
5. 50
6. 10
7. 10
8. 42,9
9. 22,2
10. 37,5
11. 10
12. 16,7

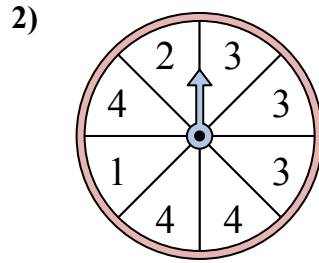


Решайте каждую проблему. Округлите ответ до ближайшей десятой.

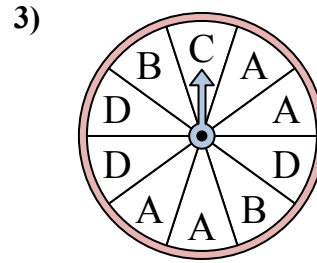
Ответы



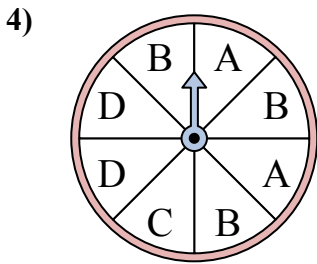
У спиннера есть {ПУСТО}% шанс приземлиться на 3.



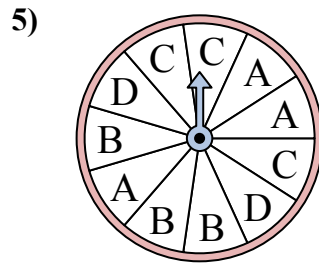
У спиннера есть {ПУСТО}% шанс приземлиться на 3.



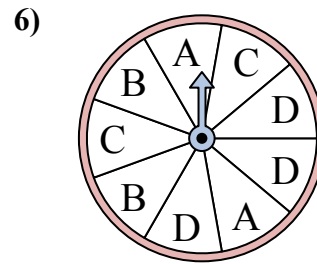
У спиннера есть {ПУСТО}% шанс приземлиться на B.



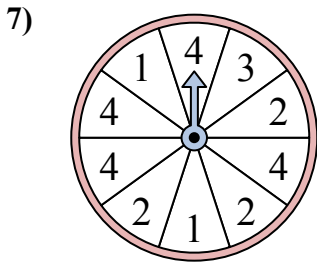
У спиннера есть {ПУСТО}% шанс приземлиться на C.



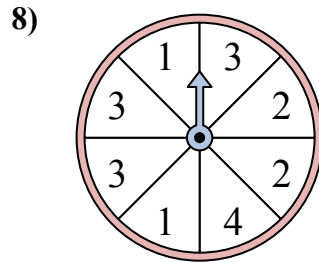
У спиннера есть {ПУСТО}% шанс приземлиться на D.



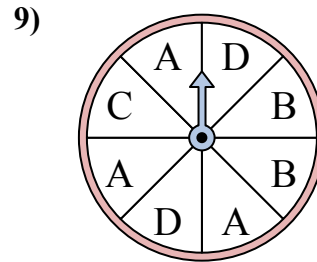
У спиннера есть {ПУСТО}% шанс приземлиться на C.



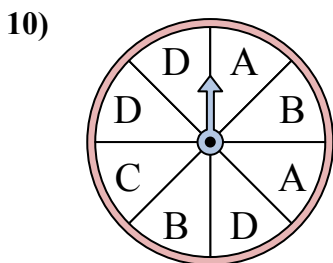
У спиннера есть {ПУСТО}% шанс приземлиться на 1.



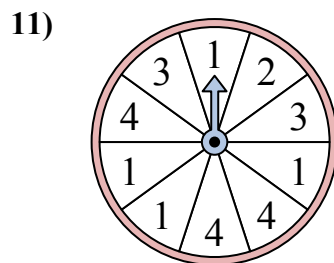
У спиннера есть {ПУСТО}% шанс приземлиться на 3.



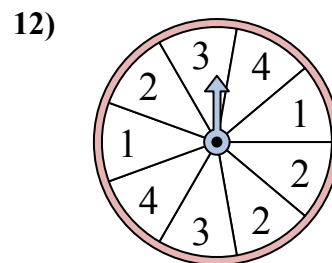
У спиннера есть {ПУСТО}% шанс приземлиться на B.



У спиннера есть {ПУСТО}% шанс приземлиться на B.



У спиннера есть {ПУСТО}% шанс приземлиться на 3.

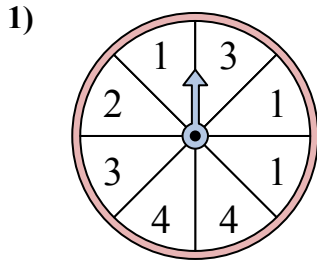


У спиннера есть {ПУСТО}% шанс приземлиться на 1.

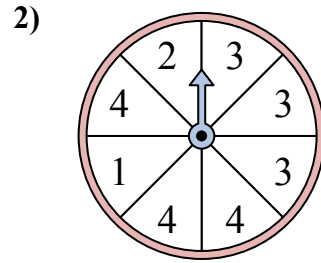
1. _____
2. _____
3. _____
4. _____
5. _____
6. _____
7. _____
8. _____
9. _____
10. _____
11. _____
12. _____



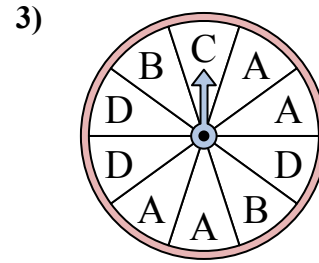
Решайте каждую проблему. Округлите ответ до ближайшей десятой.



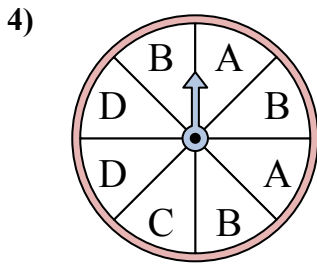
У спиннера есть {ПУСТО}% шанс приземлиться на 3.



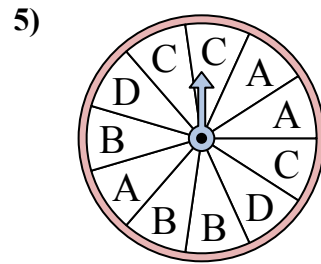
У спиннера есть {ПУСТО}% шанс приземлиться на 3.



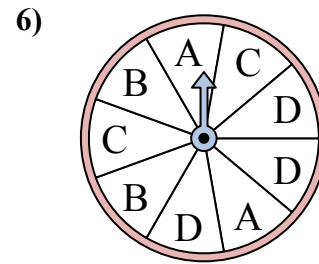
У спиннера есть {ПУСТО}% шанс приземлиться на B.



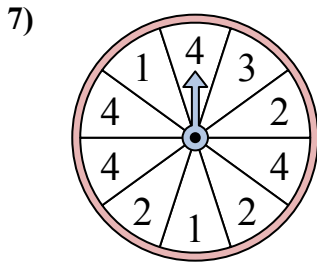
У спиннера есть {ПУСТО}% шанс приземлиться на C.



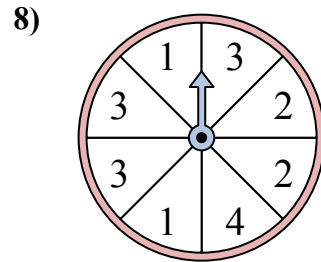
У спиннера есть {ПУСТО}% шанс приземлиться на D.



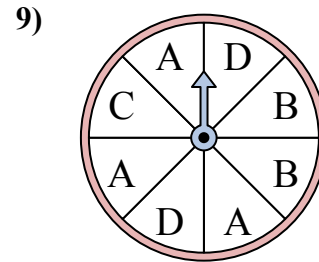
У спиннера есть {ПУСТО}% шанс приземлиться на C.



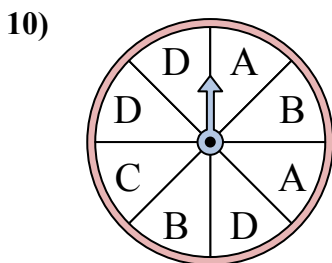
У спиннера есть {ПУСТО}% шанс приземлиться на 1.



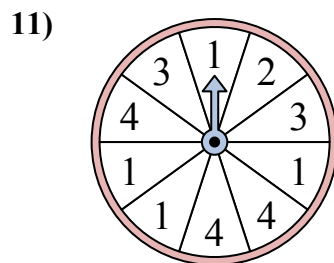
У спиннера есть {ПУСТО}% шанс приземлиться на 3.



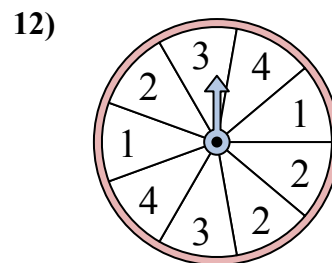
У спиннера есть {ПУСТО}% шанс приземлиться на B.



У спиннера есть {ПУСТО}% шанс приземлиться на B.



У спиннера есть {ПУСТО}% шанс приземлиться на 3.



У спиннера есть {ПУСТО}% шанс приземлиться на 1.

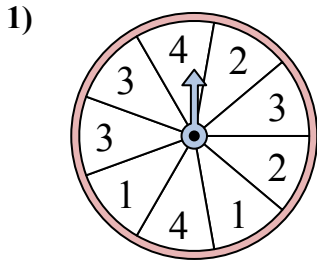
ОТВЕТЫ

1. 25
2. 37,5
3. 20
4. 12,5
5. 18,2
6. 22,2
7. 20
8. 37,5
9. 25
10. 25
11. 20
12. 22,2

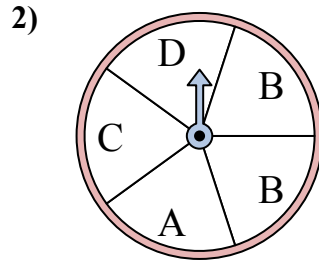


Решайте каждую проблему. Округлите ответ до ближайшей десятой.

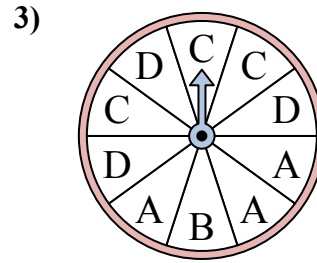
Ответы



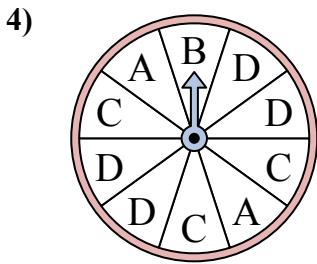
У спиннера есть {ПУСТО}% шанс приземлиться на 2.



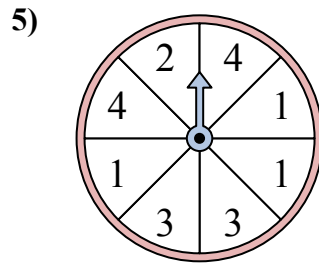
У спиннера есть {ПУСТО}% шанс приземлиться на D.



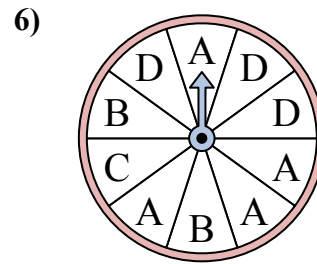
У спиннера есть {ПУСТО}% шанс приземлиться на B.



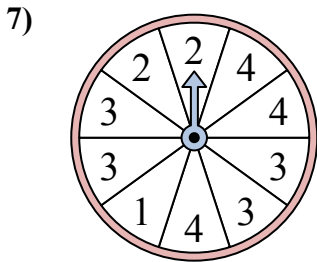
У спиннера есть {ПУСТО}% шанс приземлиться на A.



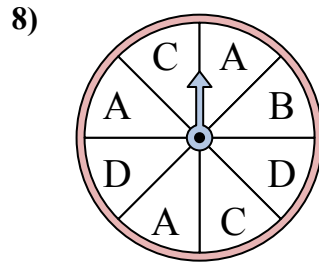
У спиннера есть {ПУСТО}% шанс приземлиться на 3.



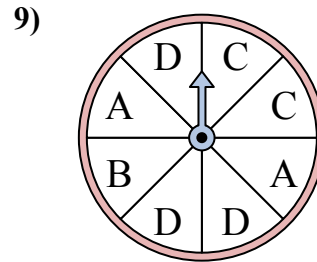
У спиннера есть {ПУСТО}% шанс приземлиться на C.



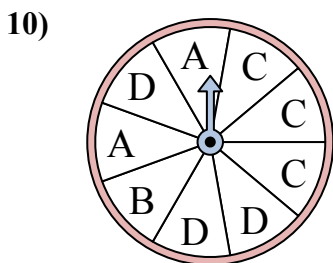
У спиннера есть {ПУСТО}% шанс приземлиться на 4.



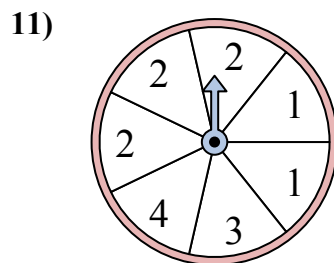
У спиннера есть {ПУСТО}% шанс приземлиться на C.



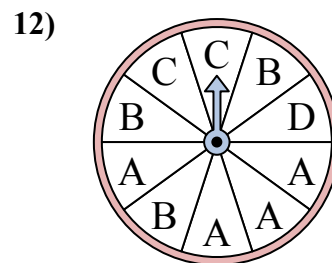
У спиннера есть {ПУСТО}% шанс приземлиться на D.



У спиннера есть {ПУСТО}% шанс приземлиться на A.



У спиннера есть {ПУСТО}% шанс приземлиться на 1.

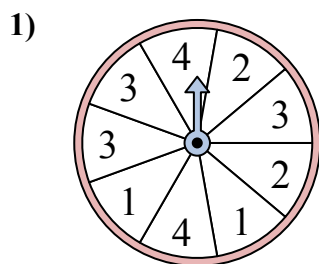


У спиннера есть {ПУСТО}% шанс приземлиться на A.

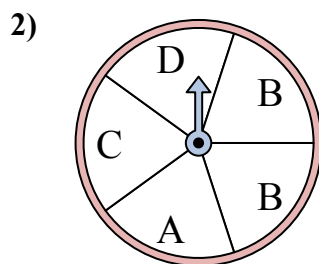
1. _____
2. _____
3. _____
4. _____
5. _____
6. _____
7. _____
8. _____
9. _____
10. _____
11. _____
12. _____



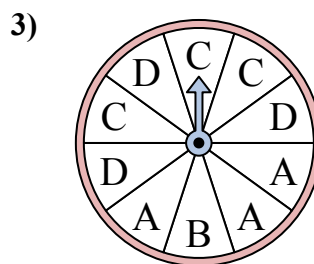
Решайте каждую проблему. Округлите ответ до ближайшей десятой.



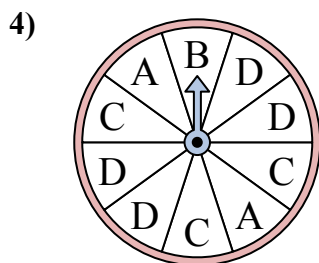
У спиннера есть {ПУСТО}% шанс приземлиться на 2.



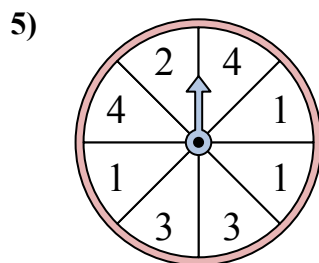
У спиннера есть {ПУСТО}% шанс приземлиться на D.



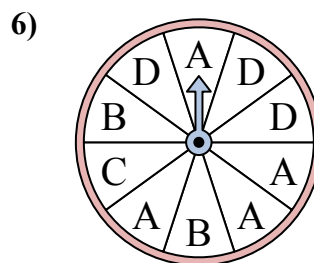
У спиннера есть {ПУСТО}% шанс приземлиться на B.



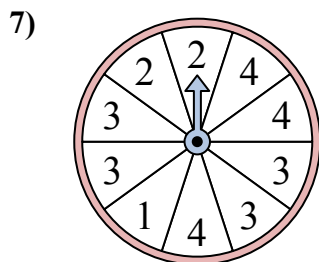
У спиннера есть {ПУСТО}% шанс приземлиться на A.



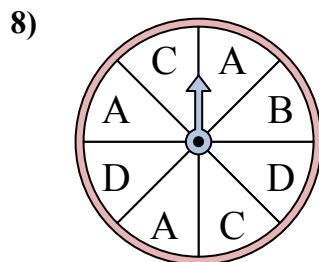
У спиннера есть {ПУСТО}% шанс приземлиться на 3.



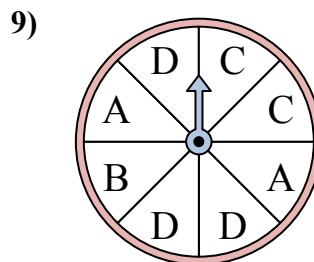
У спиннера есть {ПУСТО}% шанс приземлиться на C.



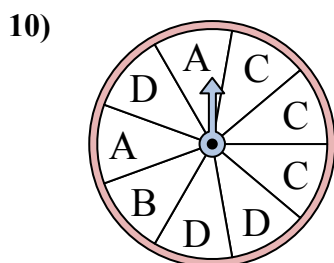
У спиннера есть {ПУСТО}% шанс приземлиться на 4.



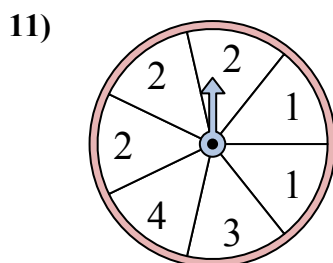
У спиннера есть {ПУСТО}% шанс приземлиться на C.



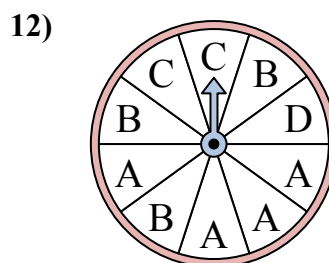
У спиннера есть {ПУСТО}% шанс приземлиться на D.



У спиннера есть {ПУСТО}% шанс приземлиться на A.



У спиннера есть {ПУСТО}% шанс приземлиться на 1.



У спиннера есть {ПУСТО}% шанс приземлиться на A.

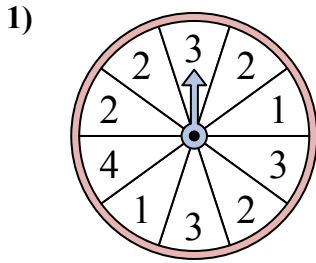
ОТВЕТЫ

1. 22,2
2. 20
3. 10
4. 20
5. 25
6. 10
7. 30
8. 25
9. 37,5
10. 22,2
11. 28,6
12. 40

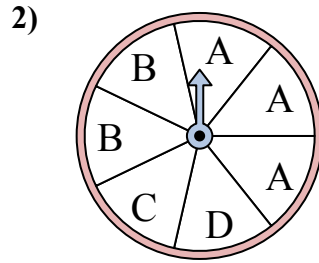


Решайте каждую проблему. Округлите ответ до ближайшей десятой.

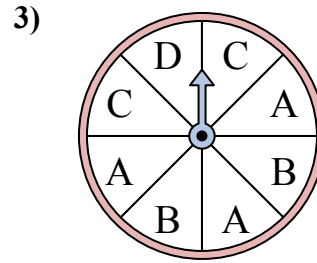
ОТВЕТЫ



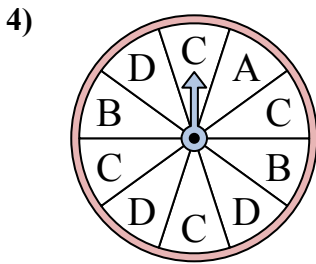
У спиннера есть {ПУСТО}% шанс приземлиться на 2.



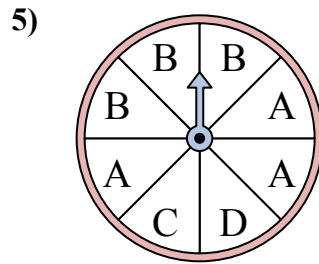
У спиннера есть {ПУСТО}% шанс приземлиться на D.



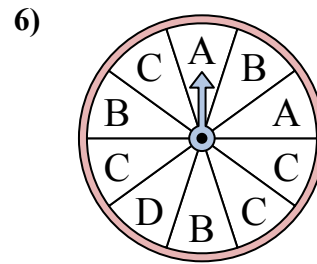
У спиннера есть {ПУСТО}% шанс приземлиться на A.



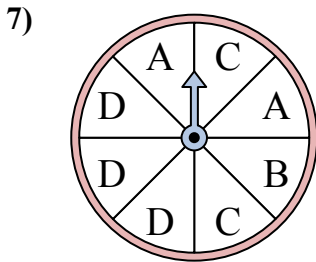
У спиннера есть {ПУСТО}% шанс приземлиться на D.



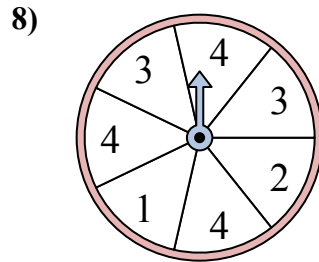
У спиннера есть {ПУСТО}% шанс приземлиться на D.



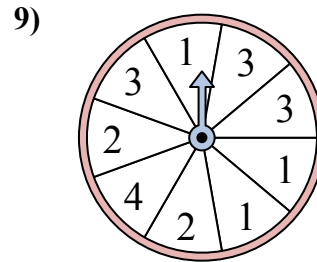
У спиннера есть {ПУСТО}% шанс приземлиться на B.



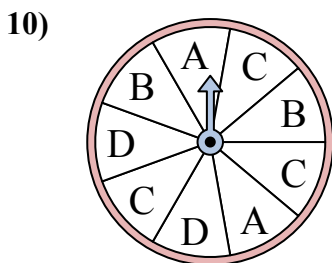
У спиннера есть {ПУСТО}% шанс приземлиться на D.



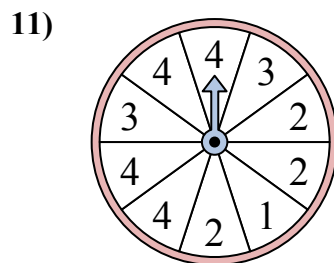
У спиннера есть {ПУСТО}% шанс приземлиться на 2.



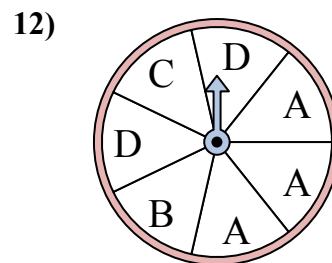
У спиннера есть {ПУСТО}% шанс приземлиться на 1.



У спиннера есть {ПУСТО}% шанс приземлиться на C.



У спиннера есть {ПУСТО}% шанс приземлиться на 4.

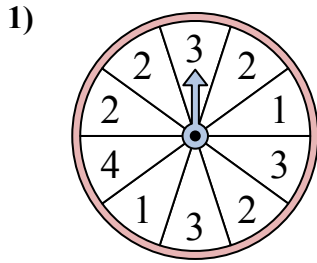


У спиннера есть {ПУСТО}% шанс приземлиться на D.

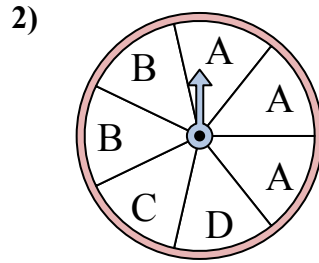
1. _____
2. _____
3. _____
4. _____
5. _____
6. _____
7. _____
8. _____
9. _____
10. _____
11. _____
12. _____



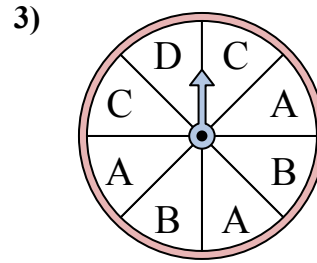
Решайте каждую проблему. Округлите ответ до ближайшей десятой.



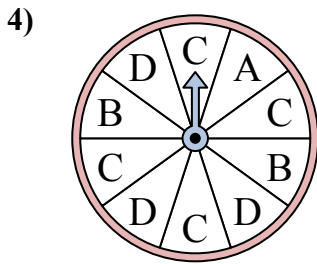
У спиннера есть {ПУСТО}% шанс приземлиться на 2.



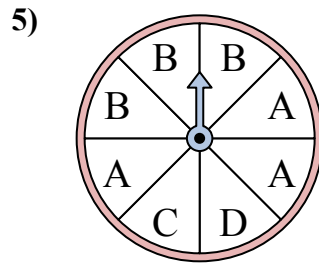
У спиннера есть {ПУСТО}% шанс приземлиться на D.



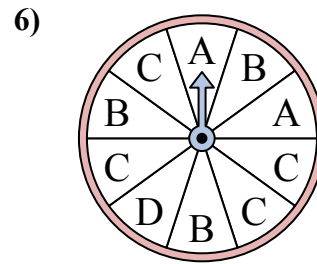
У спиннера есть {ПУСТО}% шанс приземлиться на A.



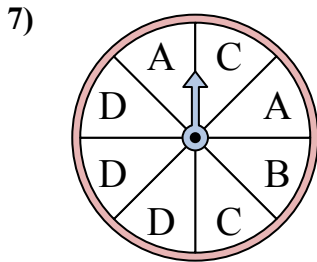
У спиннера есть {ПУСТО}% шанс приземлиться на D.



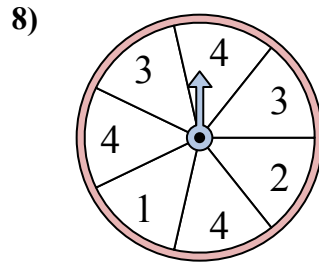
У спиннера есть {ПУСТО}% шанс приземлиться на D.



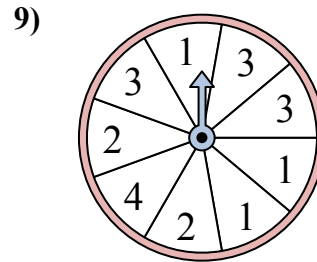
У спиннера есть {ПУСТО}% шанс приземлиться на B.



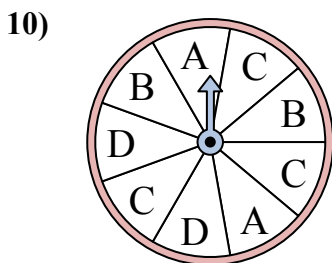
У спиннера есть {ПУСТО}% шанс приземлиться на D.



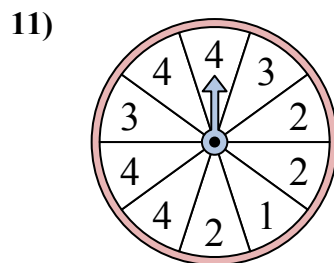
У спиннера есть {ПУСТО}% шанс приземлиться на 2.



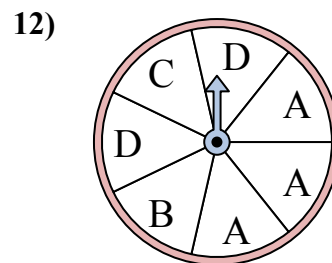
У спиннера есть {ПУСТО}% шанс приземлиться на 1.



У спиннера есть {ПУСТО}% шанс приземлиться на C.



У спиннера есть {ПУСТО}% шанс приземлиться на 4.



У спиннера есть {ПУСТО}% шанс приземлиться на D.

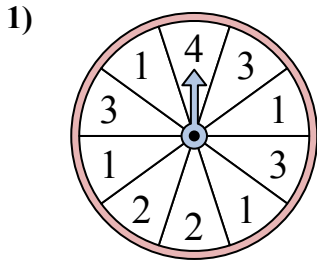
ОТВЕТЫ

1. 40
2. 14,3
3. 37,5
4. 30
5. 12,5
6. 30
7. 37,5
8. 14,3
9. 33,3
10. 33,3
11. 40
12. 28,6

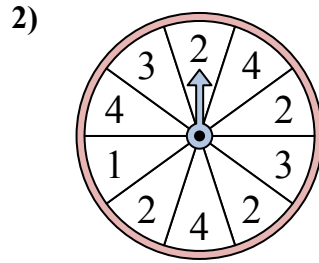


Решайте каждую проблему. Округлите ответ до ближайшей десятой.

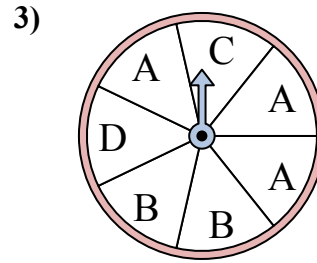
ОТВЕТЫ



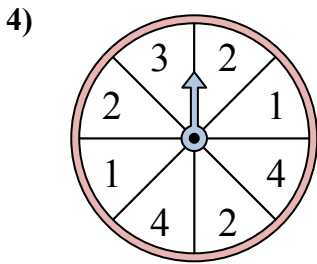
У спиннера есть {ПУСТО}% шанс приземлиться на 3.



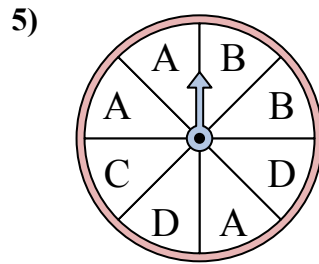
У спиннера есть {ПУСТО}% шанс приземлиться на 3.



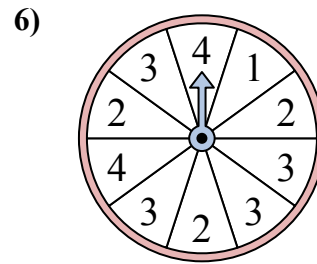
У спиннера есть {ПУСТО}% шанс приземлиться на А.



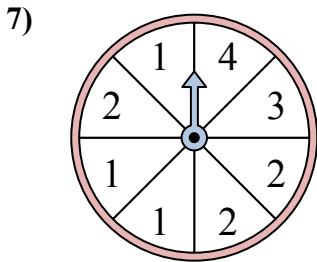
У спиннера есть {ПУСТО}% шанс приземлиться на 2.



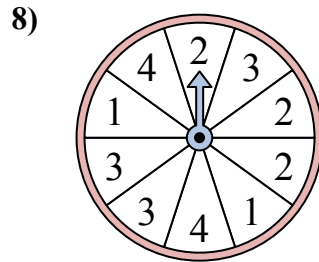
У спиннера есть {ПУСТО}% шанс приземлиться на А.



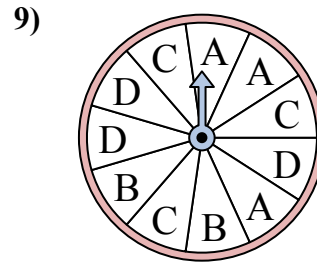
У спиннера есть {ПУСТО}% шанс приземлиться на 3.



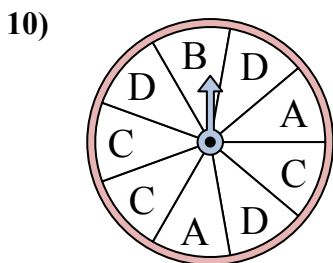
У спиннера есть {ПУСТО}% шанс приземлиться на 2.



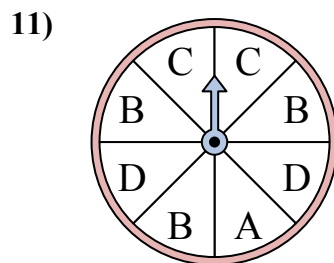
У спиннера есть {ПУСТО}% шанс приземлиться на 3.



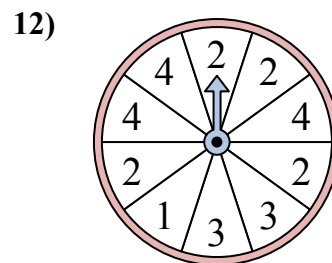
У спиннера есть {ПУСТО}% шанс приземлиться на С.



У спиннера есть {ПУСТО}% шанс приземлиться на В.



У спиннера есть {ПУСТО}% шанс приземлиться на С.

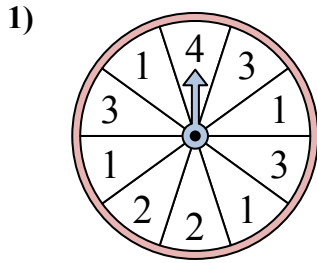


У спиннера есть {ПУСТО}% шанс приземлиться на 4.

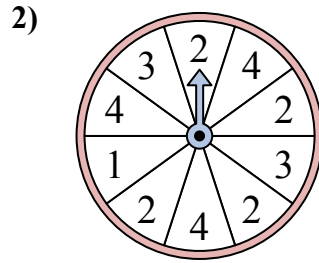
1. _____
2. _____
3. _____
4. _____
5. _____
6. _____
7. _____
8. _____
9. _____
10. _____
11. _____
12. _____



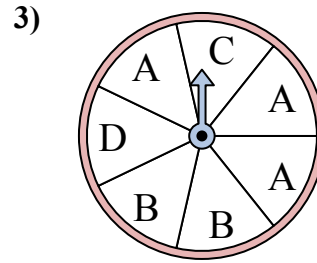
Решайте каждую проблему. Округлите ответ до ближайшей десятой.



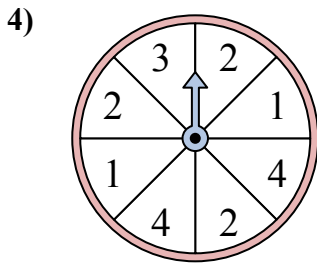
У спиннера есть {ПУСТО}% шанс приземлиться на 3.



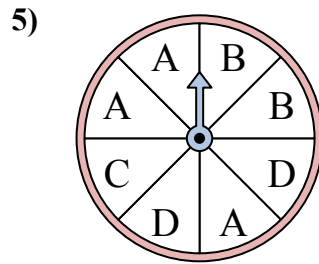
У спиннера есть {ПУСТО}% шанс приземлиться на 3.



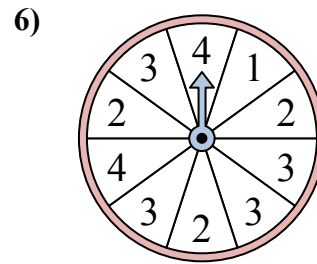
У спиннера есть {ПУСТО}% шанс приземлиться на А.



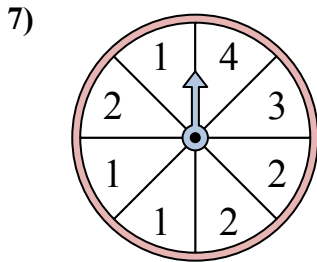
У спиннера есть {ПУСТО}% шанс приземлиться на 2.



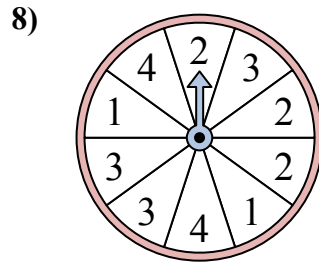
У спиннера есть {ПУСТО}% шанс приземлиться на С.



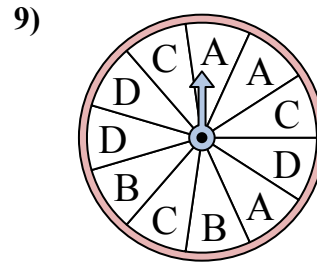
У спиннера есть {ПУСТО}% шанс приземлиться на 3.



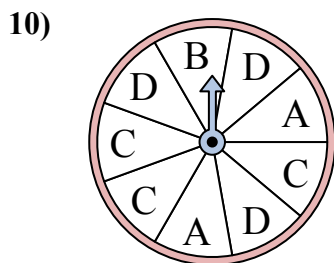
У спиннера есть {ПУСТО}% шанс приземлиться на 2.



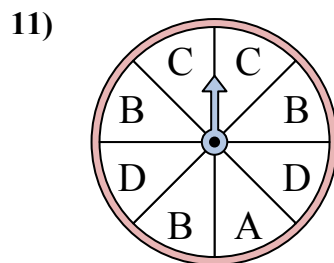
У спиннера есть {ПУСТО}% шанс приземлиться на 3.



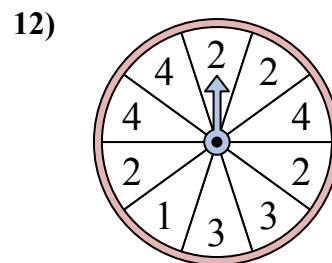
У спиннера есть {ПУСТО}% шанс приземлиться на С.



У спиннера есть {ПУСТО}% шанс приземлиться на В.



У спиннера есть {ПУСТО}% шанс приземлиться на С.



У спиннера есть {ПУСТО}% шанс приземлиться на 4.

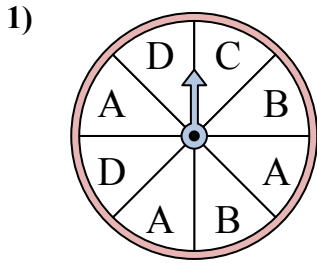
ОТВЕТЫ

1. 30
2. 20
3. 42,9
4. 37,5
5. 12,5
6. 40
7. 37,5
8. 30
9. 27,3
10. 11,1
11. 25
12. 30

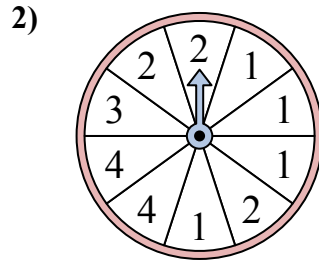


Решайте каждую проблему. Округлите ответ до ближайшей десятой.

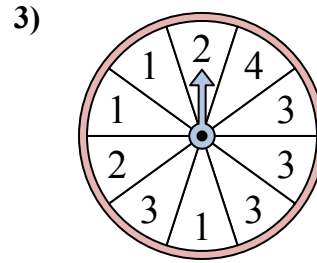
ОТВЕТЫ



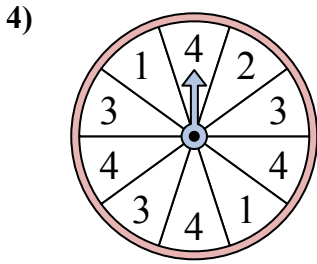
У спиннера есть {ПУСТО}% шанс приземлиться на C.



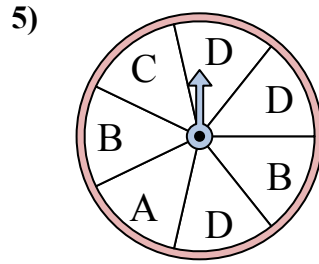
У спиннера есть {ПУСТО}% шанс приземлиться на 3.



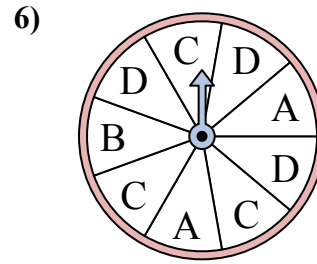
У спиннера есть {ПУСТО}% шанс приземлиться на 4.



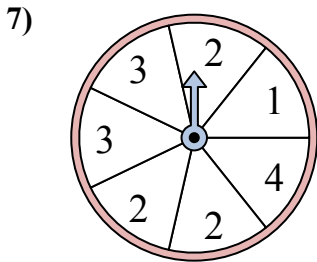
У спиннера есть {ПУСТО}% шанс приземлиться на 4.



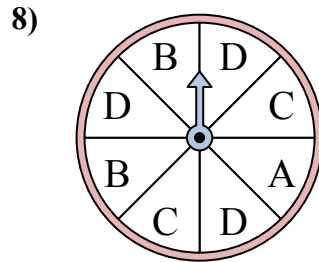
У спиннера есть {ПУСТО}% шанс приземлиться на C.



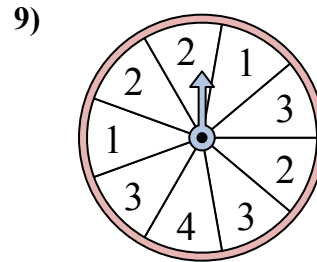
У спиннера есть {ПУСТО}% шанс приземлиться на C.



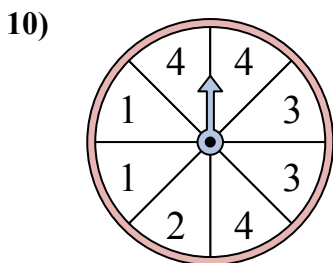
У спиннера есть {ПУСТО}% шанс приземлиться на 2.



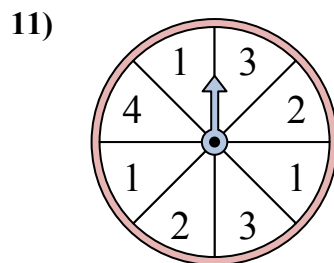
У спиннера есть {ПУСТО}% шанс приземлиться на D.



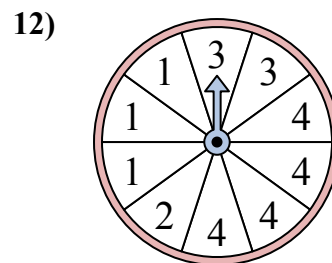
У спиннера есть {ПУСТО}% шанс приземлиться на 4.



У спиннера есть {ПУСТО}% шанс приземлиться на 4.



У спиннера есть {ПУСТО}% шанс приземлиться на 4.

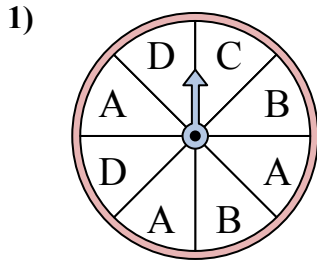


У спиннера есть {ПУСТО}% шанс приземлиться на 1.

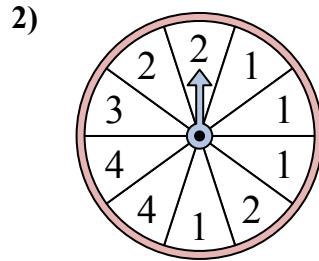
1. _____
2. _____
3. _____
4. _____
5. _____
6. _____
7. _____
8. _____
9. _____
10. _____
11. _____
12. _____



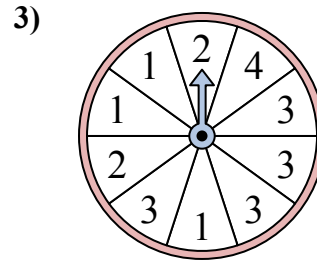
Решайте каждую проблему. Округлите ответ до ближайшей десятой.



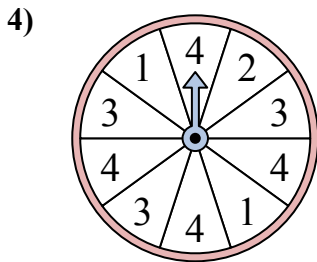
У спиннера есть {ПУСТО}% шанс приземлиться на С.



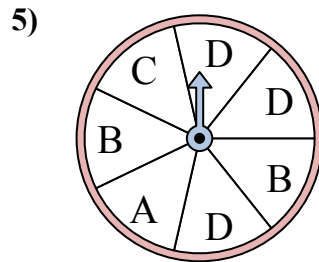
У спиннера есть {ПУСТО}% шанс приземлиться на 3.



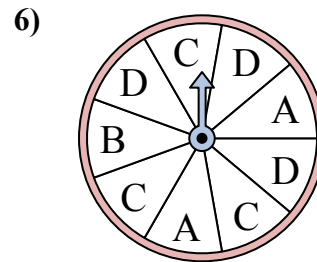
У спиннера есть {ПУСТО}% шанс приземлиться на 4.



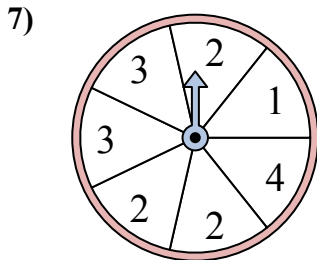
У спиннера есть {ПУСТО}% шанс приземлиться на 4.



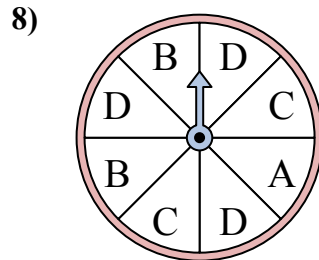
У спиннера есть {ПУСТО}% шанс приземлиться на С.



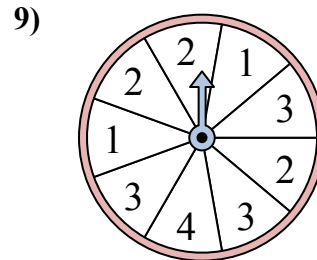
У спиннера есть {ПУСТО}% шанс приземлиться на С.



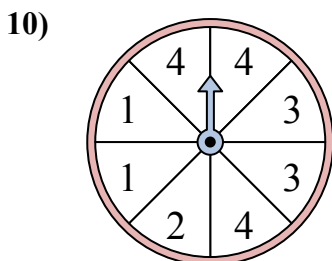
У спиннера есть {ПУСТО}% шанс приземлиться на 2.



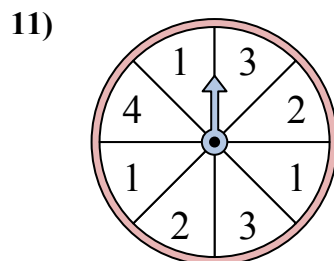
У спиннера есть {ПУСТО}% шанс приземлиться на D.



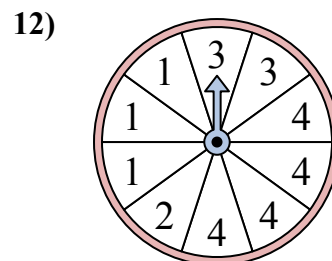
У спиннера есть {ПУСТО}% шанс приземлиться на 4.



У спиннера есть {ПУСТО}% шанс приземлиться на 4.



У спиннера есть {ПУСТО}% шанс приземлиться на 4.



У спиннера есть {ПУСТО}% шанс приземлиться на 1.

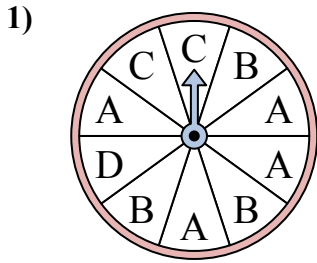
ОТВЕТЫ

1. 12,5
2. 10
3. 10
4. 40
5. 14,3
6. 33,3
7. 42,9
8. 37,5
9. 11,1
10. 37,5
11. 12,5
12. 30

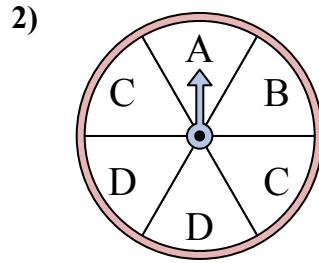


Решайте каждую проблему. Округлите ответ до ближайшей десятой.

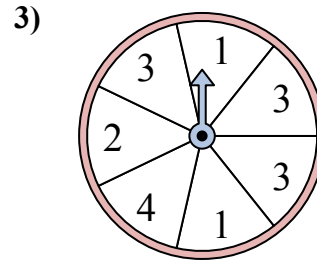
ОТВЕТЫ



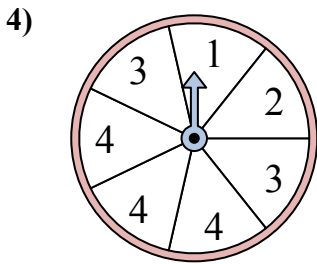
У спиннера есть {ПУСТО}% шанс приземлиться на B.



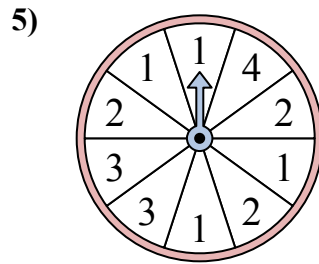
У спиннера есть {ПУСТО}% шанс приземлиться на B.



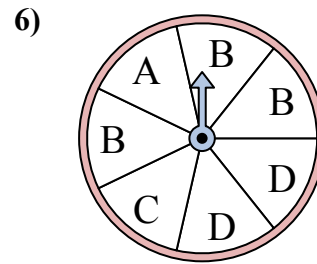
У спиннера есть {ПУСТО}% шанс приземлиться на 2.



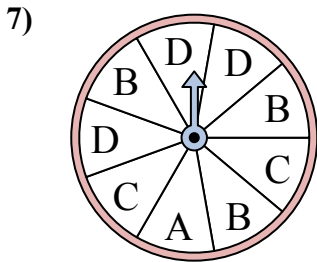
У спиннера есть {ПУСТО}% шанс приземлиться на 4.



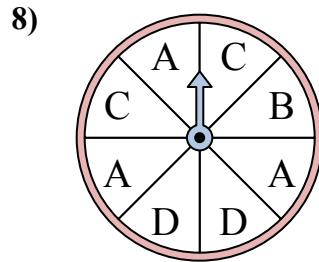
У спиннера есть {ПУСТО}% шанс приземлиться на 2.



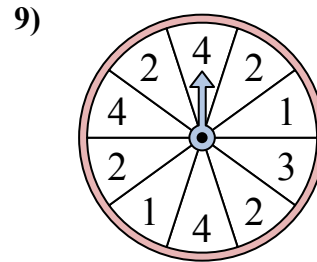
У спиннера есть {ПУСТО}% шанс приземлиться на C.



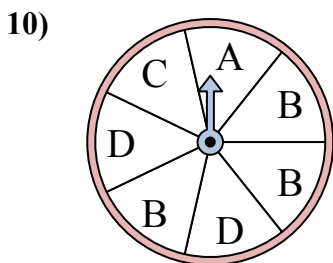
У спиннера есть {ПУСТО}% шанс приземлиться на A.



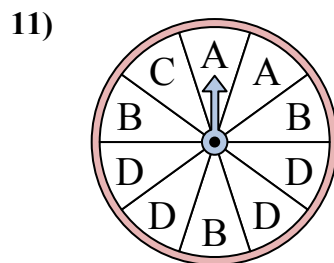
У спиннера есть {ПУСТО}% шанс приземлиться на C.



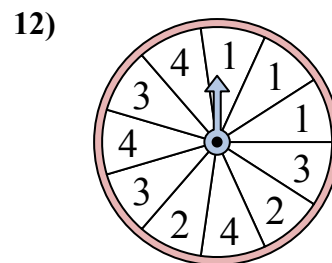
У спиннера есть {ПУСТО}% шанс приземлиться на 2.



У спиннера есть {ПУСТО}% шанс приземлиться на C.



У спиннера есть {ПУСТО}% шанс приземлиться на A.

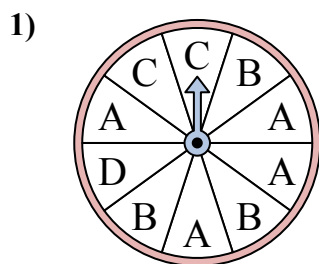


У спиннера есть {ПУСТО}% шанс приземлиться на 2.

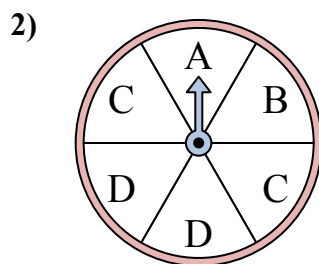
1. _____
2. _____
3. _____
4. _____
5. _____
6. _____
7. _____
8. _____
9. _____
10. _____
11. _____
12. _____



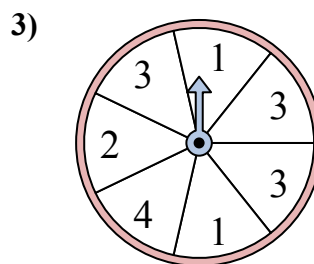
Решайте каждую проблему. Округлите ответ до ближайшей десятой.



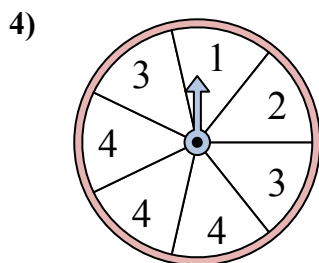
У спиннера есть {ПУСТО}% шанс приземлиться на B.



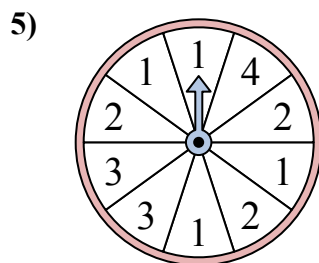
У спиннера есть {ПУСТО}% шанс приземлиться на B.



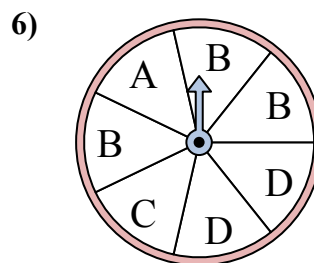
У спиннера есть {ПУСТО}% шанс приземлиться на 2.



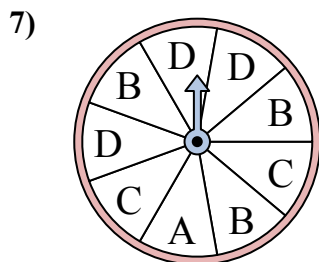
У спиннера есть {ПУСТО}% шанс приземлиться на 4.



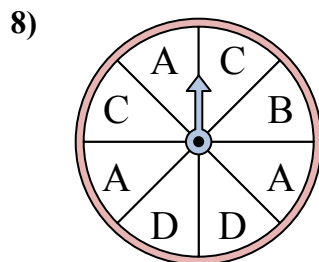
У спиннера есть {ПУСТО}% шанс приземлиться на 2.



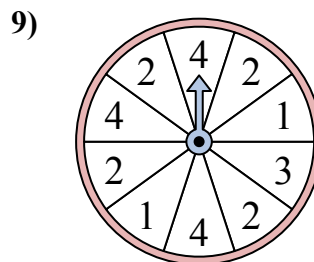
У спиннера есть {ПУСТО}% шанс приземлиться на C.



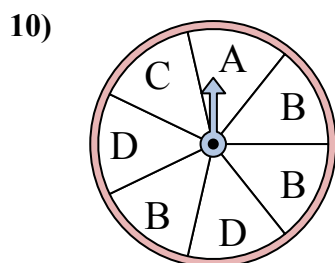
У спиннера есть {ПУСТО}% шанс приземлиться на A.



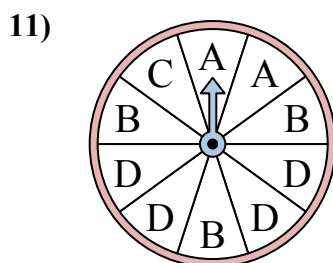
У спиннера есть {ПУСТО}% шанс приземлиться на C.



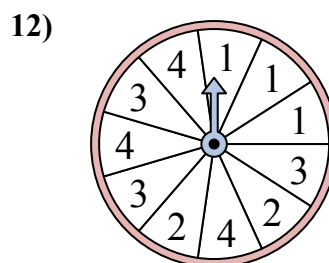
У спиннера есть {ПУСТО}% шанс приземлиться на 2.



У спиннера есть {ПУСТО}% шанс приземлиться на C.



У спиннера есть {ПУСТО}% шанс приземлиться на A.



У спиннера есть {ПУСТО}% шанс приземлиться на 2.

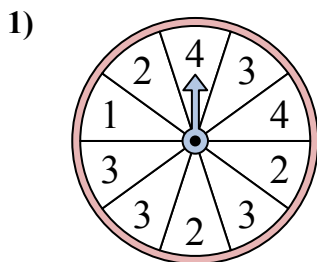
ОТВЕТЫ

1. 30
2. 16,7
3. 14,3
4. 42,9
5. 30
6. 14,3
7. 11,1
8. 25
9. 40
10. 14,3
11. 20
12. 18,2

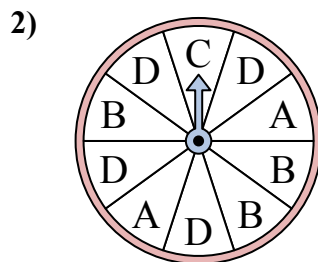


Решайте каждую проблему. Округлите ответ до ближайшей десятой.

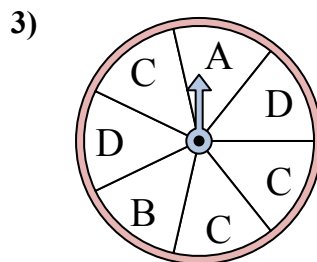
ОТВЕТЫ



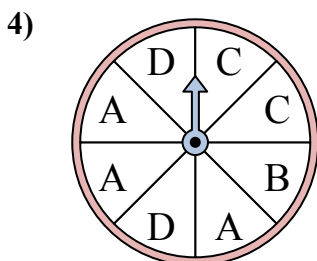
У спиннера есть {ПУСТО}% шанс приземлиться на 2.



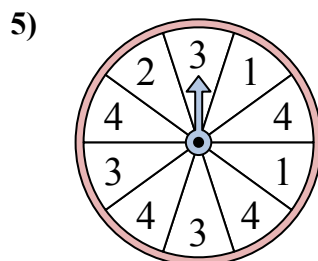
У спиннера есть {ПУСТО}% шанс приземлиться на D.



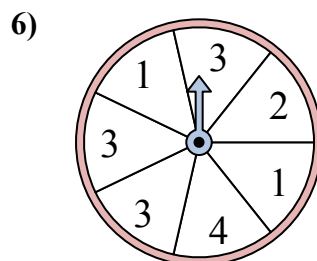
У спиннера есть {ПУСТО}% шанс приземлиться на C.



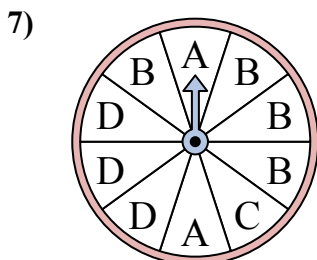
У спиннера есть {ПУСТО}% шанс приземлиться на A.



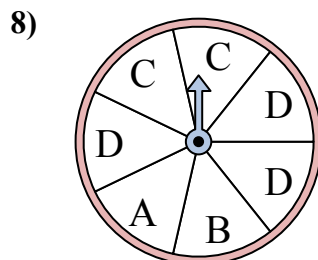
У спиннера есть {ПУСТО}% шанс приземлиться на 2.



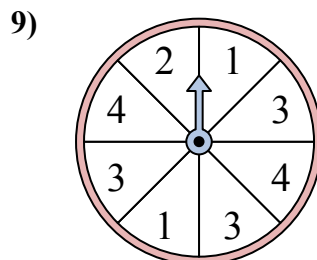
У спиннера есть {ПУСТО}% шанс приземлиться на 2.



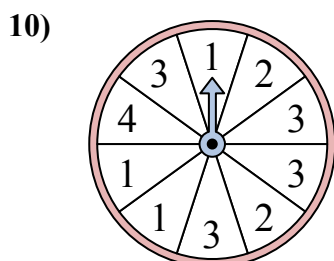
У спиннера есть {ПУСТО}% шанс приземлиться на B.



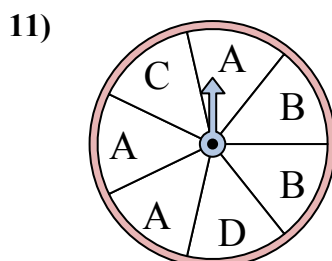
У спиннера есть {ПУСТО}% шанс приземлиться на C.



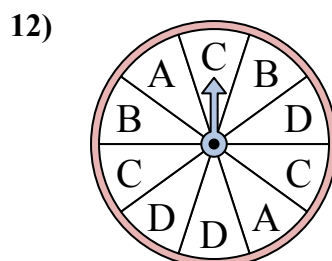
У спиннера есть {ПУСТО}% шанс приземлиться на 1.



У спиннера есть {ПУСТО}% шанс приземлиться на 4.



У спиннера есть {ПУСТО}% шанс приземлиться на D.

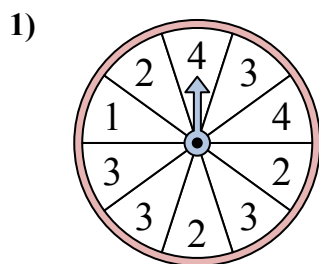


У спиннера есть {ПУСТО}% шанс приземлиться на C.

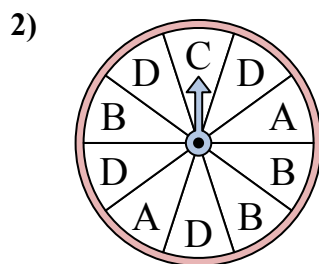
1. _____
2. _____
3. _____
4. _____
5. _____
6. _____
7. _____
8. _____
9. _____
10. _____
11. _____
12. _____



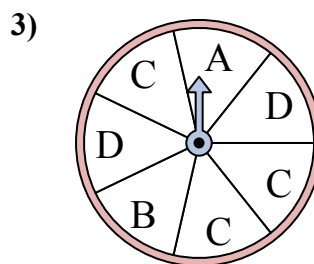
Решайте каждую проблему. Округлите ответ до ближайшей десятой.



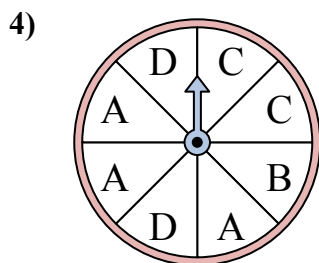
У спиннера есть {ПУСТО}% шанс приземлиться на 2.



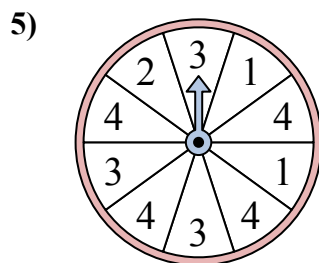
У спиннера есть {ПУСТО}% шанс приземлиться на D.



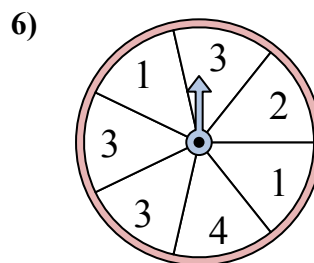
У спиннера есть {ПУСТО}% шанс приземлиться на C.



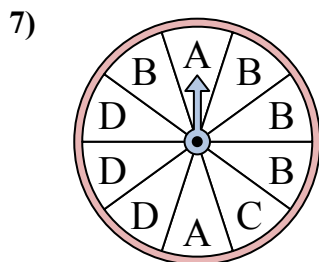
У спиннера есть {ПУСТО}% шанс приземлиться на A.



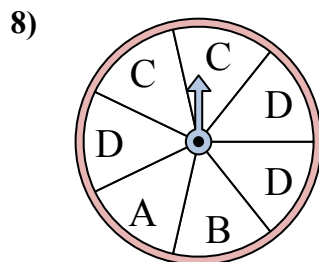
У спиннера есть {ПУСТО}% шанс приземлиться на 2.



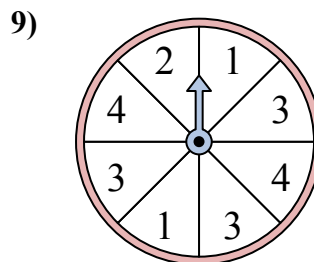
У спиннера есть {ПУСТО}% шанс приземлиться на 2.



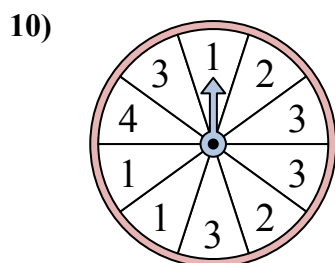
У спиннера есть {ПУСТО}% шанс приземлиться на B.



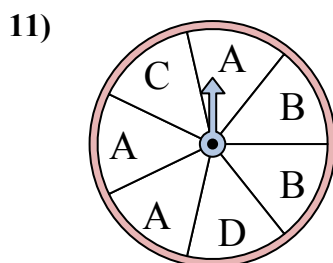
У спиннера есть {ПУСТО}% шанс приземлиться на C.



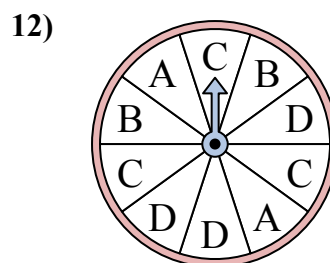
У спиннера есть {ПУСТО}% шанс приземлиться на 1.



У спиннера есть {ПУСТО}% шанс приземлиться на 4.



У спиннера есть {ПУСТО}% шанс приземлиться на D.



У спиннера есть {ПУСТО}% шанс приземлиться на C.

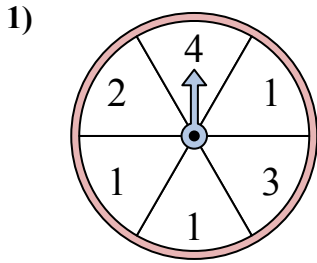
ОТВЕТЫ

1. 30
2. 40
3. 42,9
4. 37,5
5. 10
6. 14,3
7. 40
8. 28,6
9. 25
10. 10
11. 14,3
12. 30

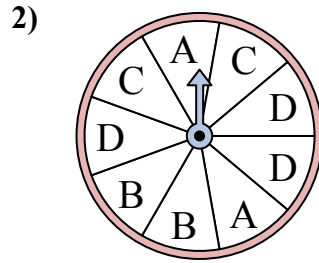


Решайте каждую проблему. Округлите ответ до ближайшей десятой.

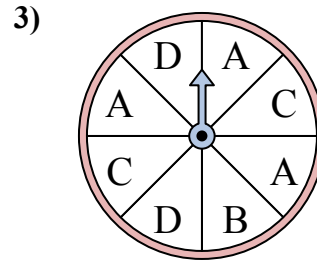
ОТВЕТЫ



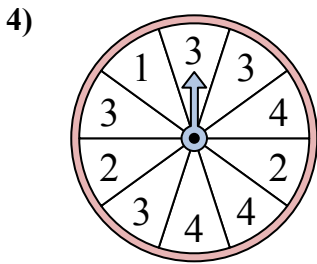
У спиннера есть {ПУСТО}% шанс приземлиться на 2.



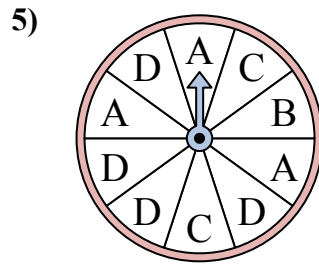
У спиннера есть {ПУСТО}% шанс приземлиться на B.



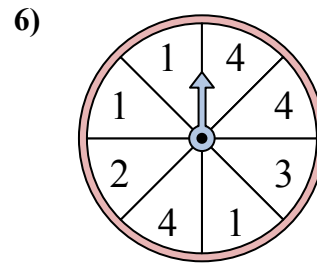
У спиннера есть {ПУСТО}% шанс приземлиться на C.



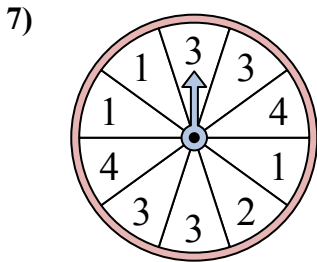
У спиннера есть {ПУСТО}% шанс приземлиться на 3.



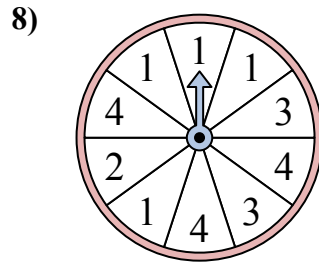
У спиннера есть {ПУСТО}% шанс приземлиться на D.



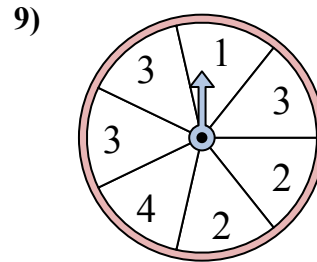
У спиннера есть {ПУСТО}% шанс приземлиться на 4.



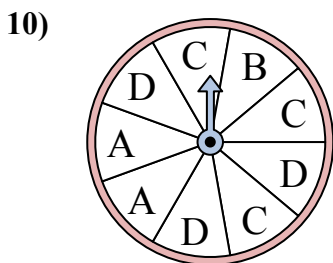
У спиннера есть {ПУСТО}% шанс приземлиться на 4.



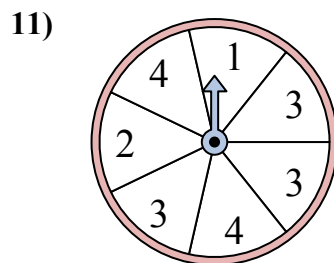
У спиннера есть {ПУСТО}% шанс приземлиться на 1.



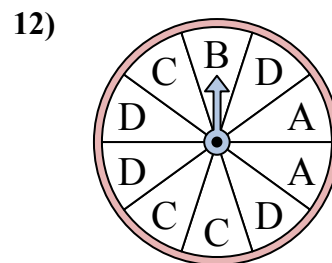
У спиннера есть {ПУСТО}% шанс приземлиться на 3.



У спиннера есть {ПУСТО}% шанс приземлиться на C.



У спиннера есть {ПУСТО}% шанс приземлиться на 2.

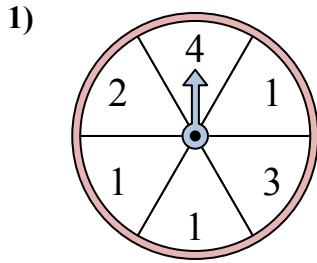


У спиннера есть {ПУСТО}% шанс приземлиться на D.

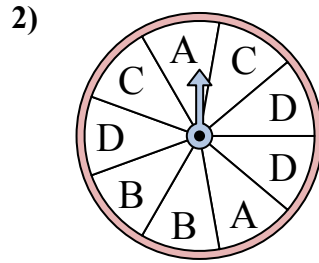
1. _____
2. _____
3. _____
4. _____
5. _____
6. _____
7. _____
8. _____
9. _____
10. _____
11. _____
12. _____



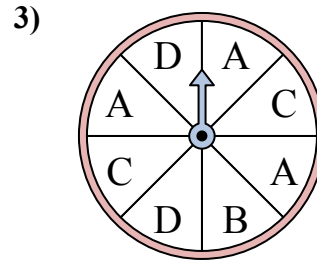
Решайте каждую проблему. Округлите ответ до ближайшей десятой.



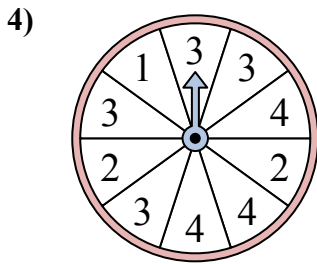
У спиннера есть {ПУСТО}% шанс приземлиться на 2.



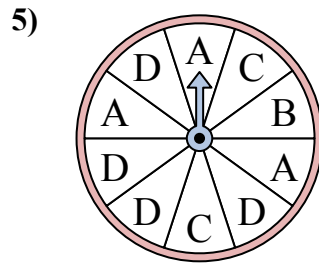
У спиннера есть {ПУСТО}% шанс приземлиться на B.



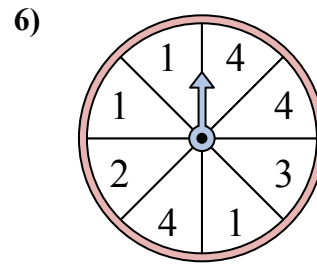
У спиннера есть {ПУСТО}% шанс приземлиться на C.



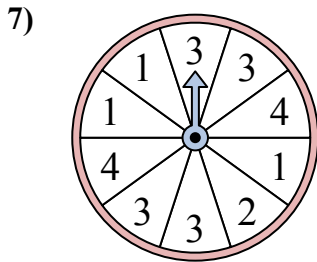
У спиннера есть {ПУСТО}% шанс приземлиться на 3.



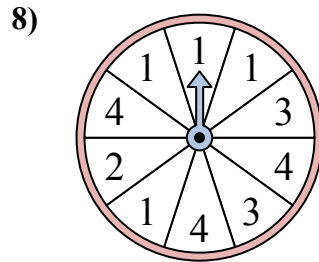
У спиннера есть {ПУСТО}% шанс приземлиться на D.



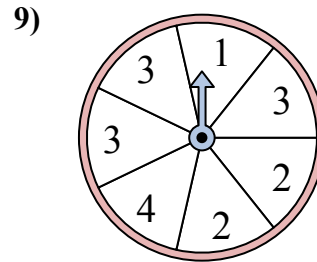
У спиннера есть {ПУСТО}% шанс приземлиться на 4.



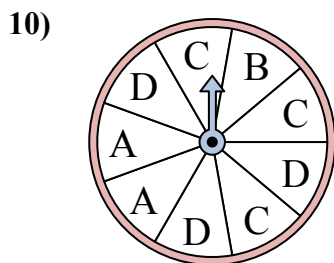
У спиннера есть {ПУСТО}% шанс приземлиться на 4.



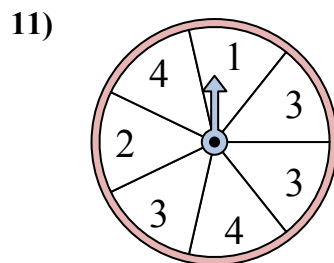
У спиннера есть {ПУСТО}% шанс приземлиться на 1.



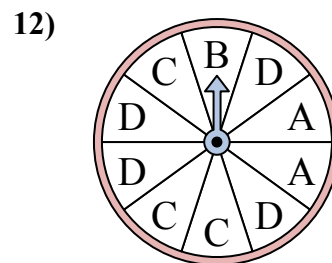
У спиннера есть {ПУСТО}% шанс приземлиться на 3.



У спиннера есть {ПУСТО}% шанс приземлиться на C.



У спиннера есть {ПУСТО}% шанс приземлиться на 2.



У спиннера есть {ПУСТО}% шанс приземлиться на D.

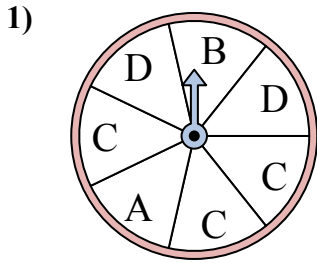
ОТВЕТЫ

1. 16,7
2. 22,2
3. 25
4. 40
5. 40
6. 37,5
7. 20
8. 40
9. 42,9
10. 33,3
11. 14,3
12. 40

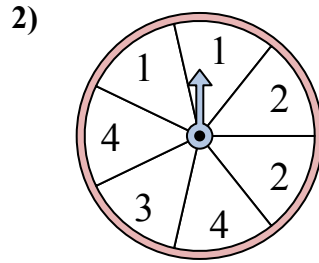


Решайте каждую проблему. Округлите ответ до ближайшей десятой.

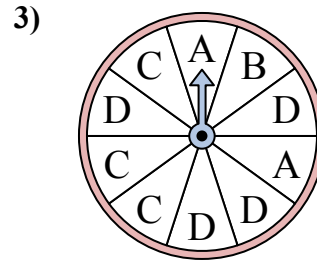
ОТВЕТЫ



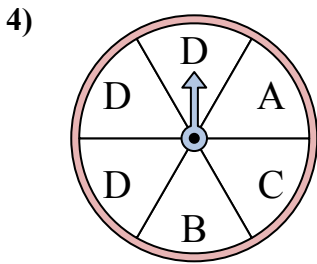
У спиннера есть {ПУСТО}% шанс приземлиться на D.



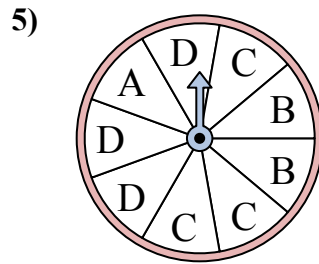
У спиннера есть {ПУСТО}% шанс приземлиться на 3.



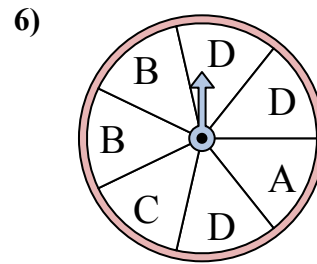
У спиннера есть {ПУСТО}% шанс приземлиться на B.



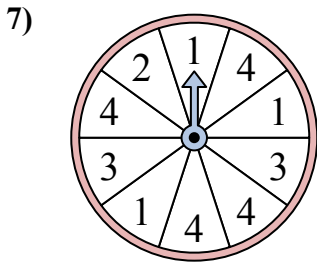
У спиннера есть {ПУСТО}% шанс приземлиться на B.



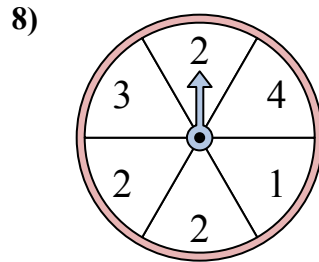
У спиннера есть {ПУСТО}% шанс приземлиться на C.



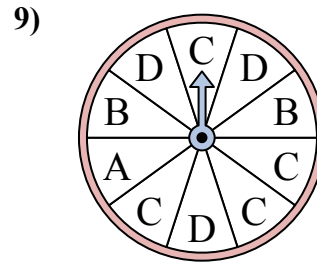
У спиннера есть {ПУСТО}% шанс приземлиться на B.



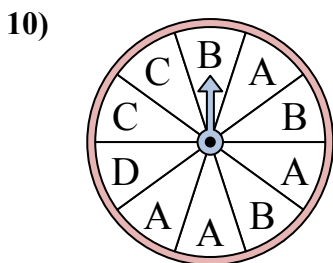
У спиннера есть {ПУСТО}% шанс приземлиться на 4.



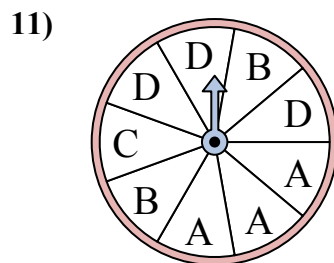
У спиннера есть {ПУСТО}% шанс приземлиться на 1.



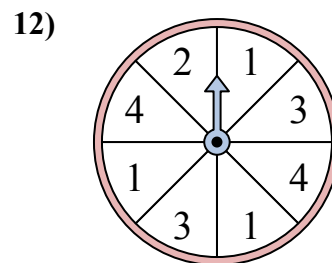
У спиннера есть {ПУСТО}% шанс приземлиться на C.



У спиннера есть {ПУСТО}% шанс приземлиться на D.



У спиннера есть {ПУСТО}% шанс приземлиться на B.

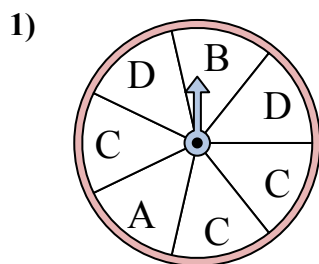


У спиннера есть {ПУСТО}% шанс приземлиться на 4.

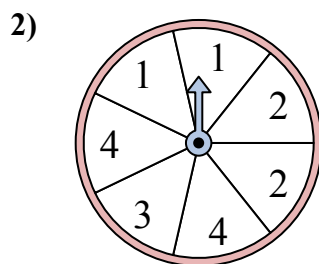
1. _____
2. _____
3. _____
4. _____
5. _____
6. _____
7. _____
8. _____
9. _____
10. _____
11. _____
12. _____



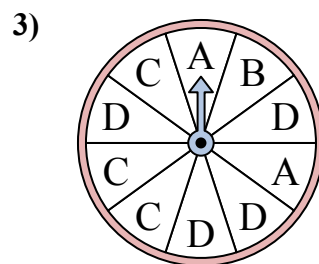
Решайте каждую проблему. Округлите ответ до ближайшей десятой.



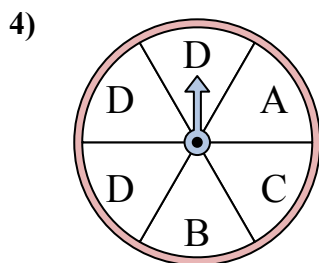
У спиннера есть {ПУСТО}% шанс приземлиться на D.



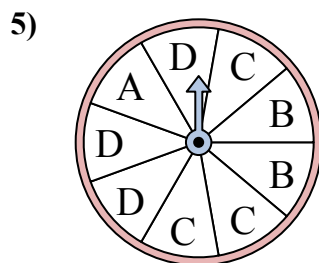
У спиннера есть {ПУСТО}% шанс приземлиться на 3.



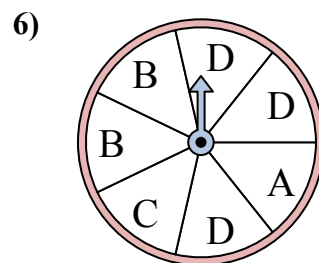
У спиннера есть {ПУСТО}% шанс приземлиться на B.



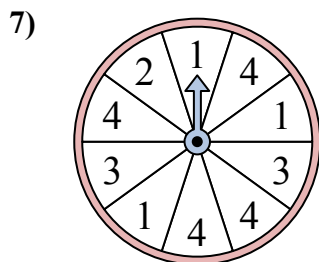
У спиннера есть {ПУСТО}% шанс приземлиться на B.



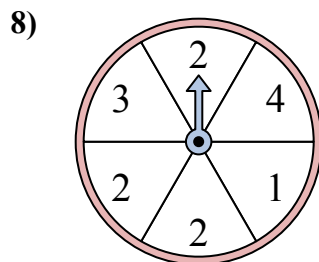
У спиннера есть {ПУСТО}% шанс приземлиться на C.



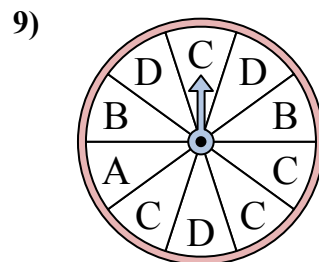
У спиннера есть {ПУСТО}% шанс приземлиться на B.



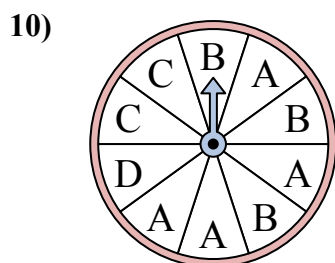
У спиннера есть {ПУСТО}% шанс приземлиться на 4.



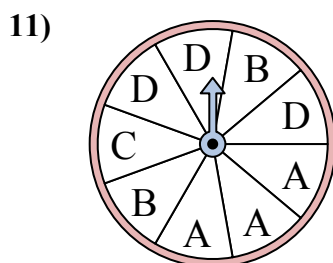
У спиннера есть {ПУСТО}% шанс приземлиться на 1.



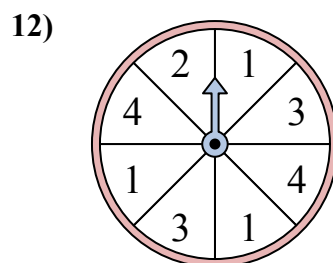
У спиннера есть {ПУСТО}% шанс приземлиться на C.



У спиннера есть {ПУСТО}% шанс приземлиться на D.



У спиннера есть {ПУСТО}% шанс приземлиться на B.



У спиннера есть {ПУСТО}% шанс приземлиться на 4.

ОТВЕТЫ

1. 28,6
2. 14,3
3. 10
4. 16,7
5. 33,3
6. 28,6
7. 40
8. 16,7
9. 40
10. 10
11. 22,2
12. 25