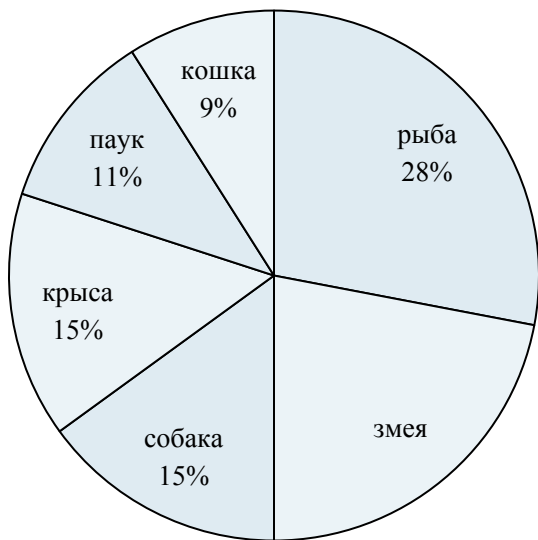




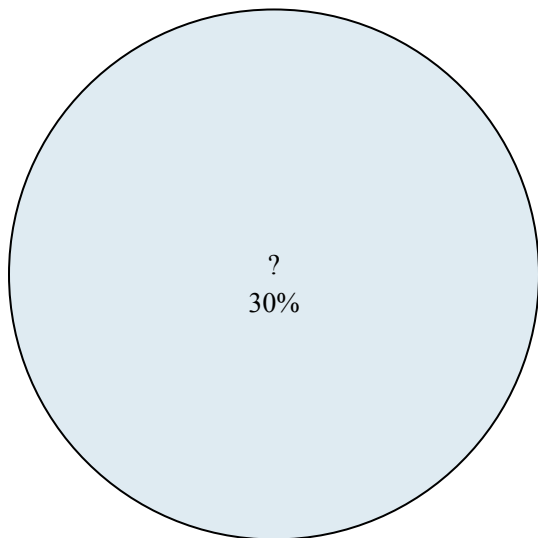
Используйте график при решении.

Любимое животное



- 1) Каких двух животных предпочли половина опрошиваемых ?
- 2) Скольким процентам людей предпочтительна крыса или кошка?
- 3) Какое животное люди любят больше всего?
- 4) Какое животное люди предпочитают меньше всего?
- 5) Сколько процентов людей сказали, что {VAR1} - это их любимое животное?

Результаты голосования в классе



- 6) Сколько процентов голосов получил(а) {VAR1}?
- 7) Кто выиграл голосование?
- 8) За каких двух кандидатов проголосовала половина голосовавших?
- 9) Сколько процентов голосов получили ? и ??
- 10) Кто набрал меньше число голосов?

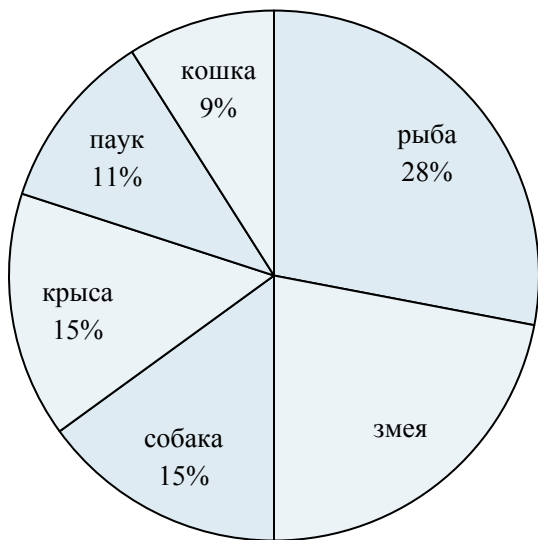
**ОТВЕТЫ**

1. \_\_\_\_\_
2. \_\_\_\_\_
3. \_\_\_\_\_
4. \_\_\_\_\_
5. \_\_\_\_\_
6. \_\_\_\_\_
7. \_\_\_\_\_
8. \_\_\_\_\_
9. \_\_\_\_\_
10. \_\_\_\_\_



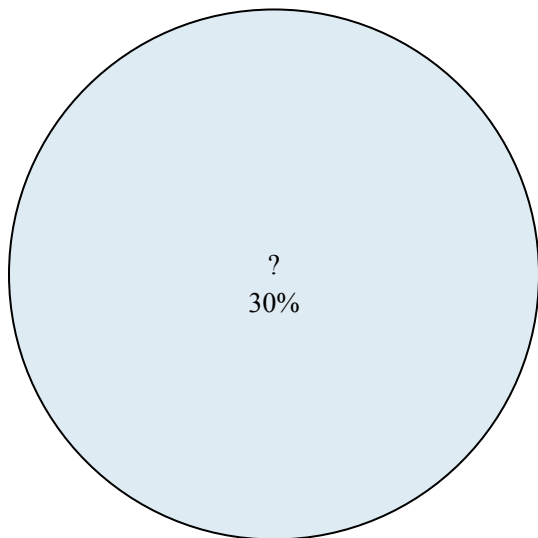
Используйте график при решении.

Любимое животное



- 1) Каких двух животных предпочли половина опрошиваемых ?
- 2) Скольким процентам людей предпочтительна крыса или кошка?
- 3) Какое животное люди любят больше всего?
- 4) Какое животное люди предпочитают меньше всего?
- 5) Сколько процентов людей сказали, что {VAR1} - это их любимое животное?

Результаты голосования в классе



- 6) Сколько процентов голосов получил(а) {VAR1}?
- 7) Кто выиграл голосование?
- 8) За каких двух кандидатов проголосовала половина голосовавших?
- 9) Сколько процентов голосов получили ? и ??
- 10) Кто набрал меньшее число голосов?

**ОТВЕТЫ**

1. рыба & змея
2. 24%
3. рыба
4. кошка
5. 15%
6. 30%
7. ?
8. ? &
9. 60%
10. ?