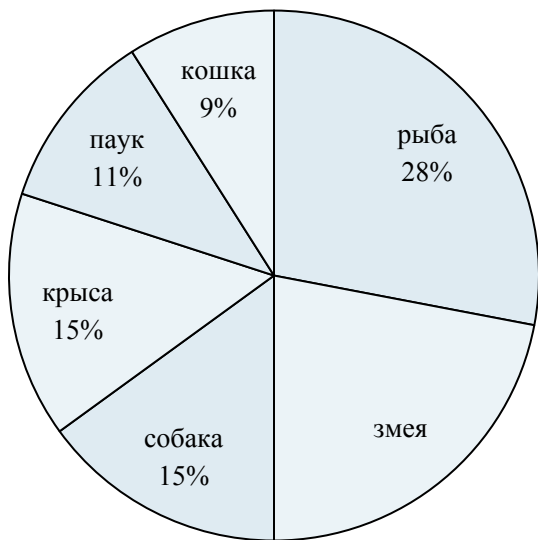




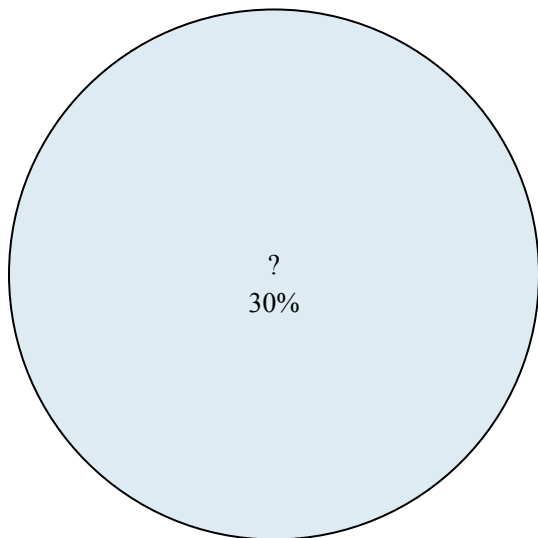
Используйте график при решении.

Любимое животное



- 1) Каких двух животных предпочли половина опрошиваемых ?
- 2) Скольким процентам людей предпочтительна крыса или кошка?
- 3) Какое животное люди любят больше всего?
- 4) Какое животное люди предпочитают меньше всего?
- 5) Сколько процентов людей сказали, что {VAR1} - это их любимое животное?

Результаты голосования в классе



- 6) Сколько процентов голосов получил(а) {VAR1}?
- 7) Кто выиграл голосование?
- 8) За каких двух кандидатов проголосовала половина голосовавших?
- 9) Сколько процентов голосов получили ? и ??
- 10) Кто набрал меньше число голосов?

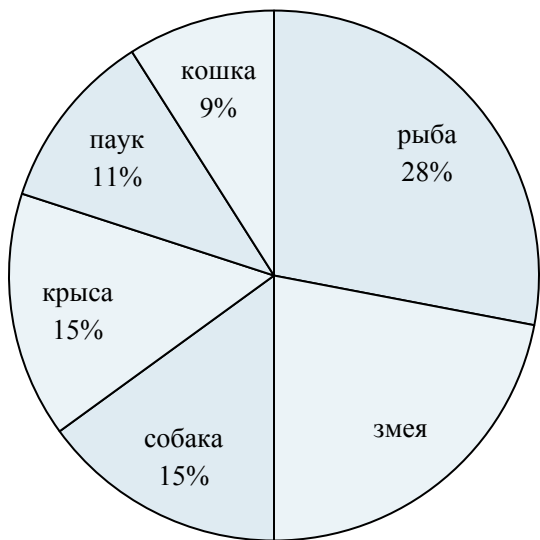
ОТВЕТЫ

1. _____
2. _____
3. _____
4. _____
5. _____
6. _____
7. _____
8. _____
9. _____
10. _____



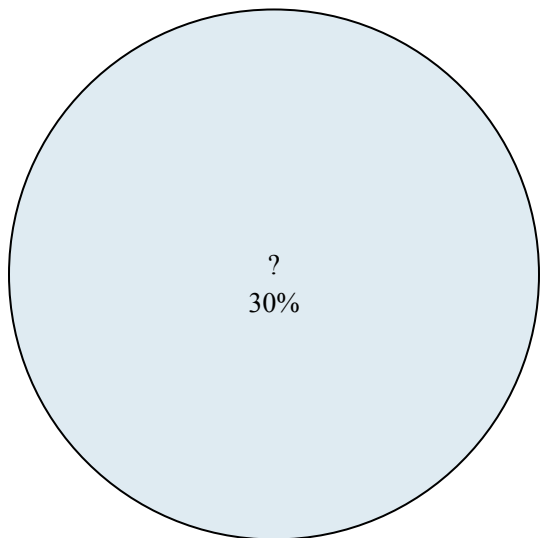
Используйте график при решении.

Любимое животное



- 1) Каких двух животных предпочли половина опрошиваемых ?
- 2) Скольким процентам людей предпочтительна крыса или кошка?
- 3) Какое животное люди любят больше всего?
- 4) Какое животное люди предпочитают меньше всего?
- 5) Сколько процентов людей сказали, что {VAR1} - это их любимое животное?

Результаты голосования в классе



- 6) Сколько процентов голосов получил(а) {VAR1}?
- 7) Кто выиграл голосование?
- 8) За каких двух кандидатов проголосовала половина голосовавших?
- 9) Сколько процентов голосов получили ? и ??
- 10) Кто набрал меньшее число голосов?

ОТВЕТЫ

1. рыба & змея
2. 24%
3. рыба
4. кошка
5. 15%
6. 30%
7. ?
8. ? &
9. 60%
10. ?



Используйте график при решении.

Продажи в школьном магазине



- 1) Как продаются в процентах папки и бумага?
- 2) Как продается в процентах {VAR1}?
- 3) Какой товар продается хуже всего?
- 4) Какие два тродукта составляют почти половину продаж?
- 5) Какой товар продается лучше всего?

Любимый диснеевский мультфильм



- 6) Какой мультфильм самый популярный?
- 7) Сколько голосов получил мультфильм {VAR1}?
- 8) Сколько голосов получили мультфильмы Тачки и Думбо?
- 9) За какие два мультфильма проголосовали почти половина голосовавших?
- 10) Какой мультфильм самый непопулярный?

Ответы

1. _____
2. _____
3. _____
4. _____
5. _____
6. _____
7. _____
8. _____
9. _____
10. _____



Используйте график при решении.

Продажи в школьном магазине



- 1) Как продаются в процентах папки и бумага?
- 2) Как продается в процентах {VAR1}?
- 3) Какой товар продается хуже всего?
- 4) Какие два тродукта составляют почти половину продаж?
- 5) Какой товар продается лучше всего?

Любимый диснеевский мультфильм



- 6) Какой мультфильм самый популярный?
- 7) Сколько голосов получил мультфильм {VAR1}?
- 8) Сколько голосов получили мультфильмы Тачки и Думбо?
- 9) За какие два мультфильма проголосовали почти половина голосовавших?
- 10) Какой мультфильм самый непопулярный?

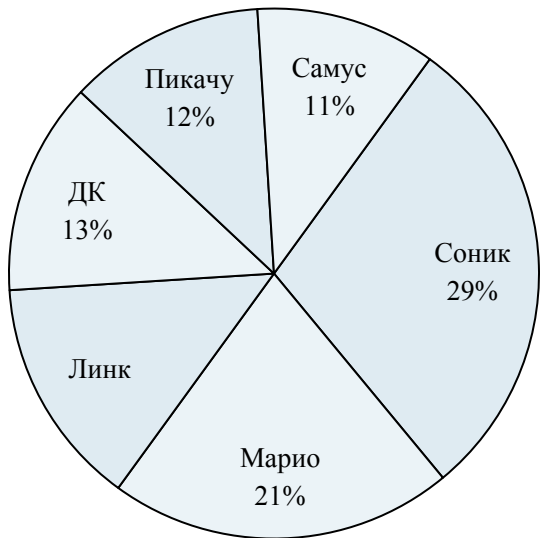
ОТВЕТЫ

1. 27%
2. 30%
3. линейки
4. ластики & карандаши
5. ластики
6. Ледниковый период
7. 27%
8. 26%
9. Ледниковый период & Пинокио
10. История игрушек



Используйте график при решении.

Любимый герой игры



- 1) Сколько процентов голосов заработали ДК и Марио ?
- 2) Какой герой самый популярный?
- 3) Сколько процентов голосов заработал {VAR1}?
- 4) За каких двух героев проголосовали почти половина опрошиваемых?
- 5) Какой герой самый непопулярный?

Любимый диснеевский мультфильм



- 6) Какой мультфильм самый популярный?
- 7) За какие два мультфильма проголосовали почти половина голосовавших?
- 8) Какой мультфильм самый непопулярный?
- 9) Сколько голосов получил мультфильм {VAR1}?
- 10) Сколько голосов получили мультфильмы Тачки и История игрушек?

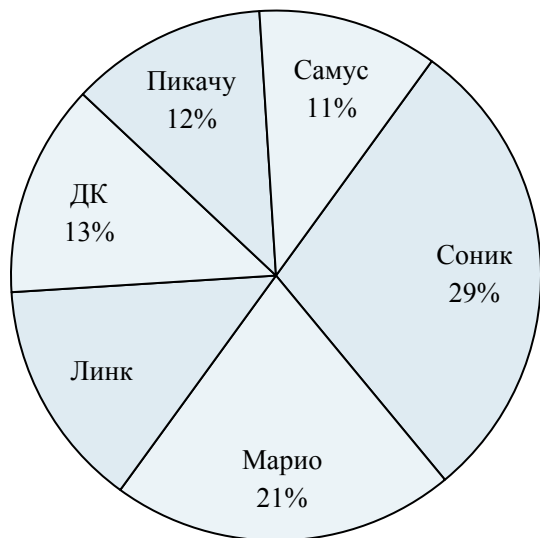
Ответы

1. _____
2. _____
3. _____
4. _____
5. _____
6. _____
7. _____
8. _____
9. _____
10. _____



Используйте график при решении.

Любимый герой игры



- 1) Сколько процентов голосов заработали ДК и Марио ?
- 2) Какой герой самый популярный?
- 3) Сколько процентов голосов заработал {VAR1}?
- 4) За каких двух героев проголосовали почти половина опрошиваемых?
- 5) Какой герой самый непопулярный?

Любимый диснеевский мультфильм



- 6) Какой мультфильм самый популярный?
- 7) За какие два мультфильма проголосовали почти половина голосовавших?
- 8) Какой мультфильм самый непопулярный?
- 9) Сколько голосов получил мультфильм {VAR1}?
- 10) Сколько голосов получили мультфильмы Тачки и История игрушек?

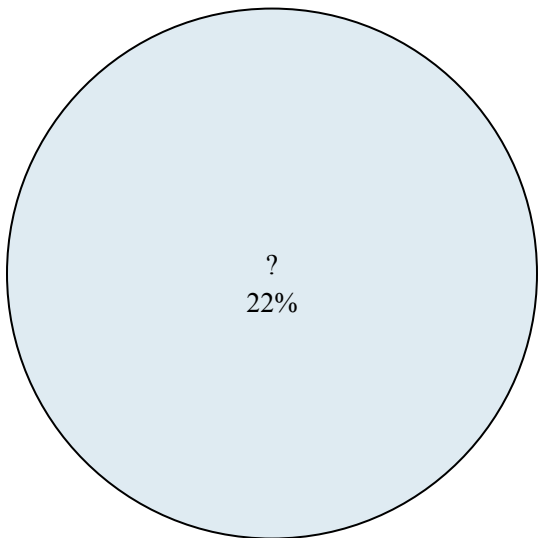
ОТВЕТЫ

1. 34%
2. Соник
3. 14%
4. Соник & Марио
5. Самус
6. Ледниковый период
7. Ледниковый период & Король Лев
8. История игрушек
9. 28%
10. 23%



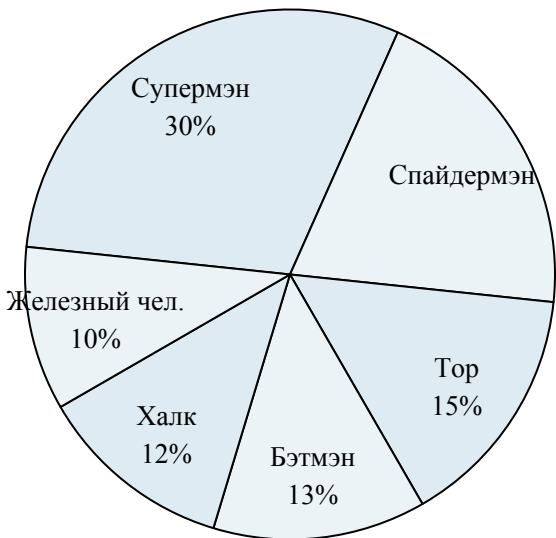
Используйте график при решении.

Результаты голосования в классе



- 1) Кто выиграл голосование?
- 2) Сколько процентов голосов получил(а) {VAR1}?
- 3) Кто набрал меньшее число голосов?
- 4) Сколько процентов голосов получили ? и ??
- 5) За каких двух кандидатов проголосовала половина голосовавших?

Любимый супер-герой



- 6) Какой герой самый непопулярный?
- 7) Сколько процентов голосов заработал {VAR1}?
- 8) Сколько процентов голосов заработали Спайдермэн и Тор ?
- 9) Какой герой самый популярный?
- 10) Каких двух героев предпочли почти половина опрошиваемых?

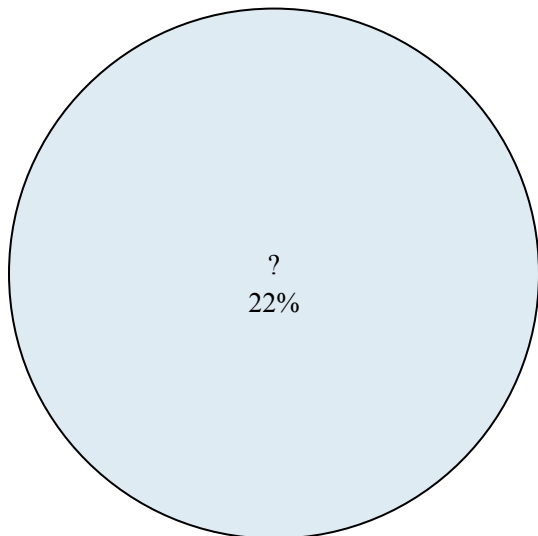
Ответы

1. _____
2. _____
3. _____
4. _____
5. _____
6. _____
7. _____
8. _____
9. _____
10. _____



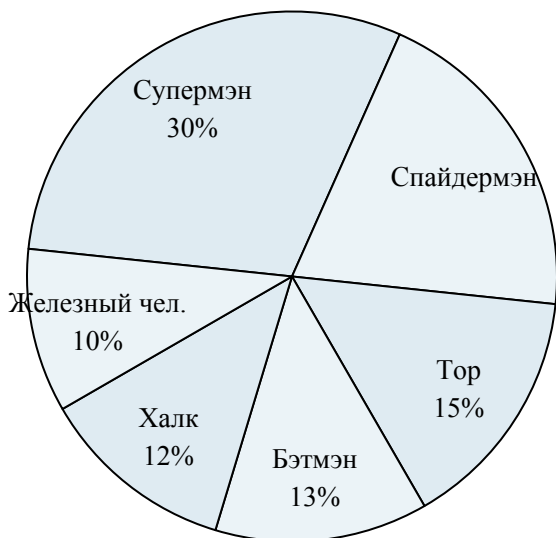
Используйте график при решении.

Результаты голосования в классе



- 1) Кто выиграл голосование?
- 2) Сколько процентов голосов получил(а) {VAR1}?
- 3) Кто набрал меньшее число голосов?
- 4) Сколько процентов голосов получили ? и ??
- 5) За каких двух кандидатов проголосовала половина голосовавших?

Любимый супер-герой



- 6) Какой герой самый непопулярный?
- 7) Сколько процентов голосов заработал {VAR1}?
- 8) Сколько процентов голосов заработали Спайдермэн и Тор ?
- 9) Какой герой самый популярный?
- 10) Каких двух героев предпочли почти половина опрошенных?

ОТВЕТЫ

1. ?
2. 22%
3. ?
4. 44%
5. ? &
6. Железный чел.
7. 12%
8. 35%
9. Супермэн
10. Супермэн & Спайдермэн



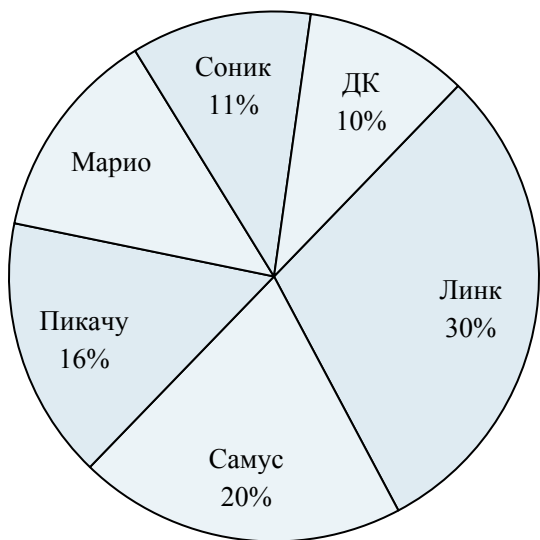
Используйте график при решении.

Рейтинг начинок пицц



- 1) Сколько процентов голосов заслужила {VAR1} начинка?
- 2) Какая начинка наименее популярная?
- 3) Какие две начинки являются самыми популярными?
- 4) Сколько процентов голосов заслужили начинки колбаса и грибы?
- 5) Какая начинка самая популярная?

Любимый герой игры



- 6) Какой герой самый непопулярный?
- 7) Сколько процентов голосов заработал {VAR1}?
- 8) За каких двух героев проголосовали почти половина опрошиваемых?
- 9) Сколько процентов голосов заработали Самус и Соник ?
- 10) Какой герой самый популярный?

Ответы

1. _____
2. _____
3. _____
4. _____
5. _____
6. _____
7. _____
8. _____
9. _____
10. _____



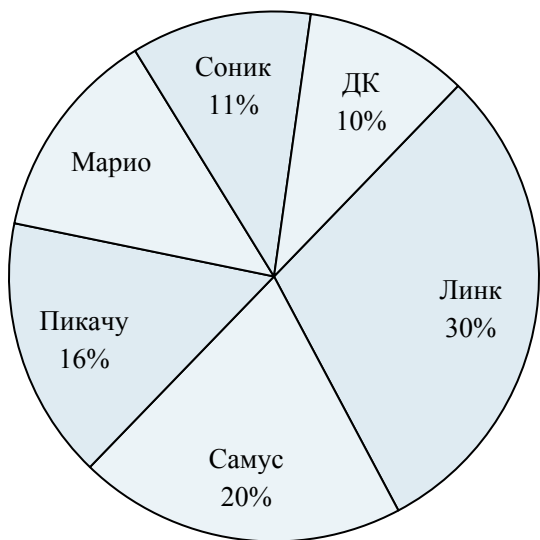
Используйте график при решении.

Рейтинг начинок пицц



- 1) Сколько процентов голосов заслужила {VAR1} начинка?
- 2) Какая начинка наименее популярная?
- 3) Какие две начинки являются самыми популярными?
- 4) Сколько процентов голосов заслужили начинки колбаса и грибы?
- 5) Какая начинка самая популярная?

Любимый герой игры



- 6) Какой герой самый непопулярный?
- 7) Сколько процентов голосов заработал {VAR1}?
- 8) За каких двух героев проголосовали почти половина опрошиваемых?
- 9) Сколько процентов голосов заработали Самус и Соник ?
- 10) Какой герой самый популярный?

ОТВЕТЫ

1. 15%
2. анчоус
3. пепперони & бекон
4. 30%
5. пепперони
6. ДК
7. 16%
8. Линк & Самус
9. 31%
10. Линк



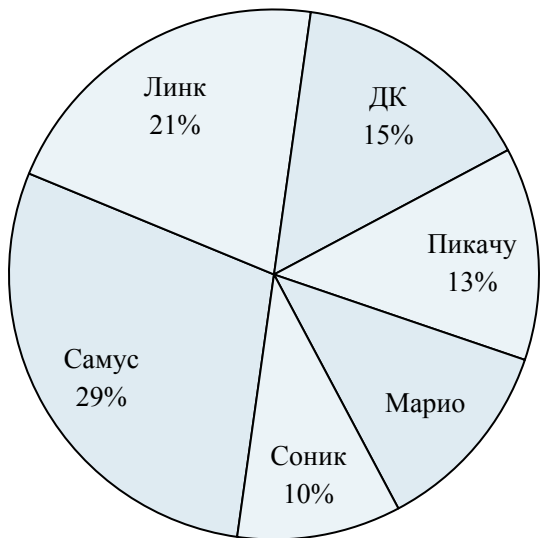
Используйте график при решении.

Время при выполнении домашней работы



- 1) Какой процент времени занимают письмо и соц наука?
- 2) На какой предмет потрачено больше всего времени?
- 3) Какой процент времени занимает {VAR1}?
- 4) На какой предмет потрачено меньше всего времени?
- 5) Какие два предмета занимают почти половину времени?

Любимый герой игры



- 6) Сколько процентов голосов заработал {VAR1}?
- 7) За каких двух героев проголосовали почти половина опрошиваемых?
- 8) Сколько процентов голосов заработали Пикачу и Марио ?
- 9) Какой герой самый непопулярный?
- 10) Какой герой самый популярный?

Ответы

1. _____
2. _____
3. _____
4. _____
5. _____
6. _____
7. _____
8. _____
9. _____
10. _____



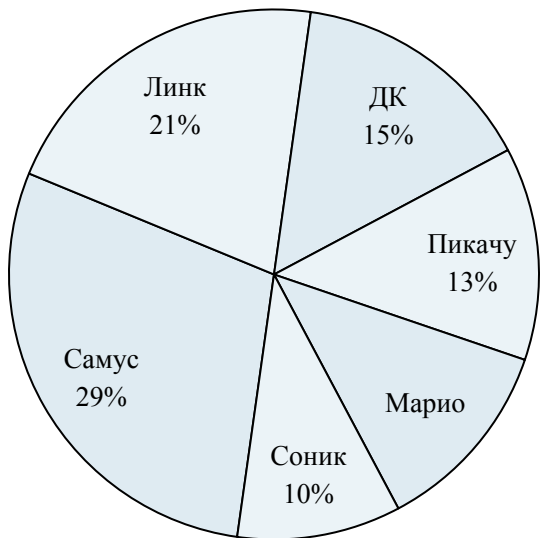
Используйте график при решении.

Время при выполнении домашней работы



- 1) Какой процент времени занимают письмо и соц наука?
- 2) На какой предмет потрачено больше всего времени?
- 3) Какой процент времени занимает {VAR1}?
- 4) На какой предмет потрачено меньше всего времени?
- 5) Какие два предмета занимают почти половину времени?

Любимый герой игры



- 6) Сколько процентов голосов заработал {VAR1}?
- 7) За каких двух героев проголосовали почти половина опрошиваемых?
- 8) Сколько процентов голосов заработали Пикачу и Марио ?
- 9) Какой герой самый непопулярный?
- 10) Какой герой самый популярный?

ОТВЕТЫ

1. 25%
2. наука
3. 20%
4. соц наука
5. наука & чтение
6. 15%
7. Самус & Линк
8. 25%
9. Соник
10. Самус



Используйте график при решении.

Продажи в школьном магазине



- 1) Какой товар продается лучше всего?
- 2) Какие два продукта составляют почти половину продаж?
- 3) Как продается в процентах {VAR1}?
- 4) Какой товар продается хуже всего?
- 5) Как продаются в процентах ручки и папки?

Рейтинг начинок пицц



- 6) Какая начинка наименее популярная?
- 7) Сколько процентов голосов заслужила {VAR1} начинка?
- 8) Какие две начинки являются самыми популярными?
- 9) Какая начинка самая популярная?
- 10) Сколько процентов голосов заслужили начинки колбаса и ветчина?


Ответы

1. _____
2. _____
3. _____
4. _____
5. _____
6. _____
7. _____
8. _____
9. _____
10. _____



Используйте график при решении.

Продажи в школьном магазине



- 1) Какой товар продается лучше всего?
- 2) Какие два продукта составляют почти половину продаж?
- 3) Как продается в процентах {VAR1}?
- 4) Какой товар продается хуже всего?
- 5) Как продаются в процентах ручки и папки?

Рейтинг начинок пицц



- 6) Какая начинка наименее популярная?
- 7) Сколько процентов голосов заслужила {VAR1} начинка?
- 8) Какие две начинки являются самыми популярными?
- 9) Какая начинка самая популярная?
- 10) Сколько процентов голосов заслужили начинки колбаса и ветчина?

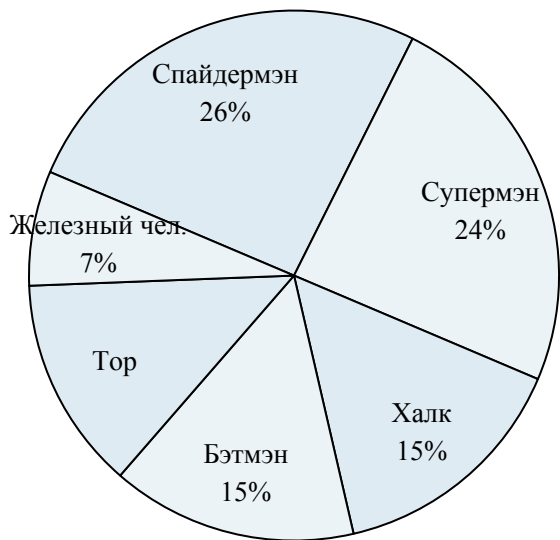
ОТВЕТЫ

1. ручки
2. ручки & ластики
3. 14%
4. бумага
5. 45%
6. ветчина
7. 20%
8. колбаса & анчоус
9. колбаса
10. 40%



Используйте график при решении.

Любимый супер-герой



- 1) Какой герой самый непопулярный?
- 2) Сколько процентов голосов заработали Супермэн и Тор ?
- 3) Каких двух героев предпочли почти половина опрошиваемых?
- 4) Сколько процентов голосов заработал {VAR1}?
- 5) Какой герой самый популярный?

Продажи в школьном магазине



- 6) Как продаются в процентах бумага и ластики?
- 7) Какие два тродукта составляют почти половину продаж?
- 8) Какой товар продается хуже всего?
- 9) Как продается в процентах {VAR1}?
- 10) Какой товар продается лучше всего?

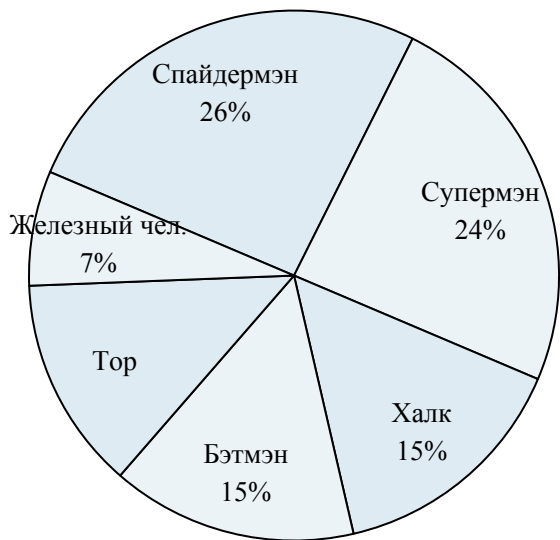
ОТВЕТЫ

1. _____
2. _____
3. _____
4. _____
5. _____
6. _____
7. _____
8. _____
9. _____
10. _____



Используйте график при решении.

Любимый супер-герой



- 1) Какой герой самый непопулярный?
- 2) Сколько процентов голосов заработали Супермэн и Тор ?
- 3) Каких двух героев предпочли почти половина опрошиваемых?
- 4) Сколько процентов голосов заработал {VAR1}?
- 5) Какой герой самый популярный?

Продажи в школьном магазине



- 6) Как продаются в процентах бумага и ластики?
- 7) Какие два тродукта составляют почти половину продаж?
- 8) Какой товар продается хуже всего?
- 9) Как продается в процентах {VAR1}?
- 10) Какой товар продается лучше всего?

ОТВЕТЫ

1. Железный чел.
2. 37%
3. Спайдермэн & Супермэн
4. 26%
5. Спайдермэн
6. 42%
7. ластики & линейки
8. ручки
9. 23%
10. ластики



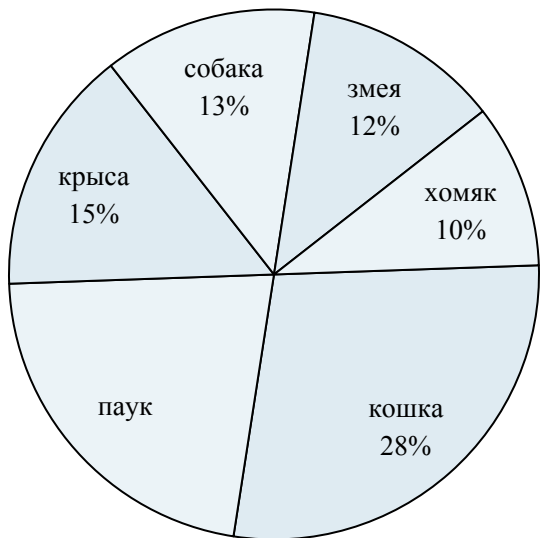
Используйте график при решении.

Любимый диснеевский мультфильм



- 1) Сколько голосов получили мультфильмы Тачки и Думбо?
- 2) Какой мультфильм самый популярный?
- 3) Какой мультфильм самый непопулярный?
- 4) За какие два мультфильма проголосовали почти половина голосовавших?
- 5) Сколько голосов получил мультфильм {VAR1}?

Любимое животное



- 6) Сколько процентов людей сказали, что {VAR1} - это их любимое животное?
- 7) Скольким процентам людей предпочтительна хомяк или паук?
- 8) Какое животное люди любят больше всего?
- 9) Каких двух животных предпочли половина опрошиваемых ?
- 10) Какое животное люди предпочитают меньше всего?

Ответы

1. _____
2. _____
3. _____
4. _____
5. _____
6. _____
7. _____
8. _____
9. _____
10. _____



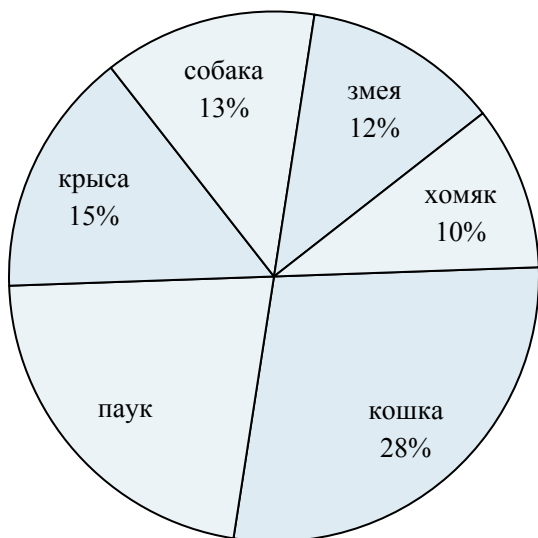
Используйте график при решении.

Любимый диснеевский мультфильм



- 1) Сколько голосов получили мультфильмы Тачки и Думбо?
- 2) Какой мультфильм самый популярный?
- 3) Какой мультфильм самый непопулярный?
- 4) За какие два мультфильма проголосовали почти половина голосовавших?
- 5) Сколько голосов получил мультфильм {VAR1}?

Любимое животное



- 6) Сколько процентов людей сказали, что {VAR1} - это их любимое животное?
- 7) Скольким процентам людей предпочтительна хомяк или паук?
- 8) Какое животное люди любят больше всего?
- 9) Каких двух животных предпочли половина опрошиваемых ?
- 10) Какое животное люди предпочитают меньше всего?

ОТВЕТЫ

1. 42%
2. Думбо
3. Пинокио
4. Думбо & Ледниковый период
5. 14%
6. 28%
7. 32%
8. кошка
9. кошка & паук
10. ХОМЯК



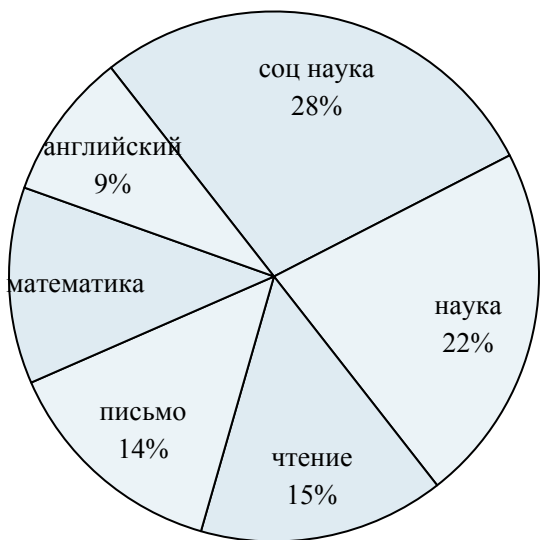
Используйте график при решении.

Продажи в школьном магазине



- 1) Как продается в процентах {VAR1}?
- 2) Какой товар продается лучше всего?
- 3) Какой товар продается хуже всего?
- 4) Какие два тродукта составляют почти половину продаж?
- 5) Как продаются в процентах ластики и карандаши?

Время при выполнении домашней работы



- 6) Какой процент времени занимает {VAR1}?
- 7) На какой предмет потрачено больше всего времени?
- 8) Какой процент времени занимают наука и английский?
- 9) На какой предмет потрачено меньше всего времени?
- 10) Какие два предмета занимают почти половину времени?

Ответы

1. _____
2. _____
3. _____
4. _____
5. _____
6. _____
7. _____
8. _____
9. _____
10. _____



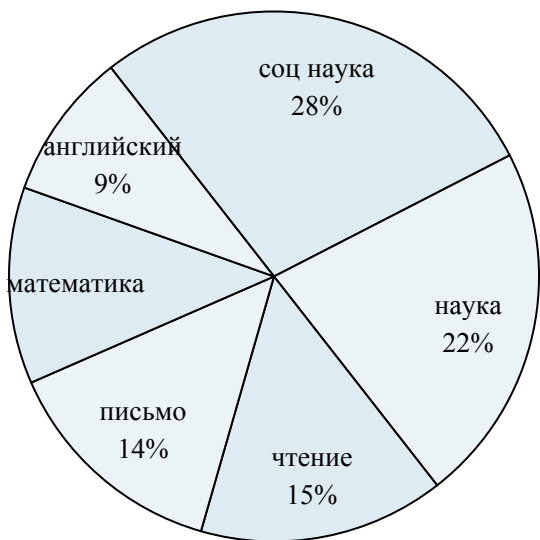
Используйте график при решении.

Продажи в школьном магазине



- 1) Как продается в процентах {VAR1}?
- 2) Какой товар продается лучше всего?
- 3) Какой товар продается хуже всего?
- 4) Какие два тродукта составляют почти половину продаж?
- 5) Как продаются в процентах ластики и карандаши?

Время при выполнении домашней работы



- 6) Какой процент времени занимает {VAR1}?
- 7) На какой предмет потрачено больше всего времени?
- 8) Какой процент времени занимают наука и английский?
- 9) На какой предмет потрачено меньше всего времени?
- 10) Какие два предмета занимают почти половину времени?

ОТВЕТЫ

1. 27%
2. папки
3. линейки
4. папки & ластики
5. 35%
6. 15%
7. соц наука
8. 31%
9. английский
10. соц наука & наука