





Используйте каждую диаграмму для решения проблем.



- 1) Если бы вы бросили кубик один раз, какова вероятность того, что он выпадет на 3?
- 2) Если бы вы бросили кубик один раз, какова вероятность, что он {NOT} попадет на 1?
- 3) Если бы вы бросили кубик один раз, какова вероятность того, что он выпадет на число Нечетное?

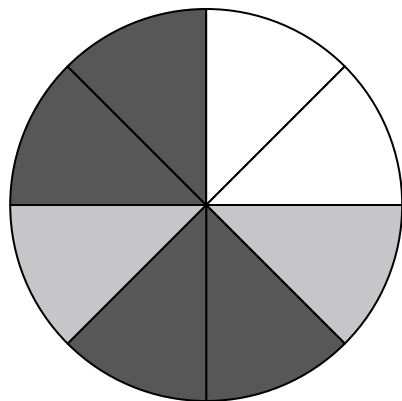
4) У какой формы вероятность выбора 40,00% (8 из 20)?



5) Сколько всего фигур в массиве?

6) Если бы вы выбрали одну фигуру случайным образом из массива, какую форму вы выбрали бы с наибольшей вероятностью?

7) Если бы вы случайным образом выбрали одну фигуру из массива, какова вероятность, что это будет diamond?



8) Если вы прокрутите спиннер 1 раз, какова вероятность, что он упадет на белую фигуру?

9) Если вы прокрутите спиннер 1 раз, какова вероятность, что он упадет на черную фигуру?

10) Если вы прокрутите спиннер 1 раз, какова вероятность того, что он упадет на серую деталь?

11) Сколько всего штук в вертушке?


12) Если вы повернули спиннер 1 раз, какова вероятность того, что вы приземлитесь на фишку white или gray?

ОТВЕТЫ

1. _____
2. _____
3. _____
4. _____
5. _____
6. _____
7. _____
8. _____
9. _____
10. _____
11. _____
12. _____




Используйте каждую диаграмму для решения проблем.



- 1) Если бы вы бросили кубик один раз, какова вероятность того, что он выпадет на 3?
- 2) Если бы вы бросили кубик один раз, какова вероятность, что он {NOT} попадет на 1?
- 3) Если бы вы бросили кубик один раз, какова вероятность того, что он выпадет на число Нечетное?

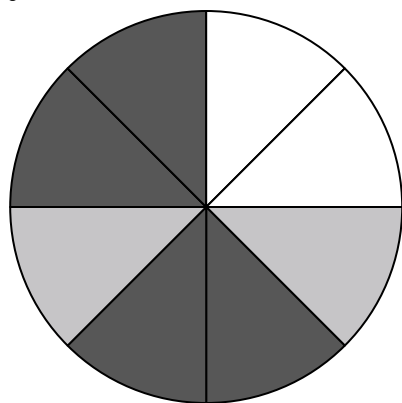
4) У какой формы вероятность выбора 40,00% (8 из 20)?



5) Сколько всего фигур в массиве?

6) Если бы вы выбрали одну фигуру случайным образом из массива, какую форму вы выбрали бы с наибольшей вероятностью?

7) Если бы вы случайным образом выбрали одну фигуру из массива, какова вероятность, что это будет diamond?



8) Если вы прокрутите спиннер 1 раз, какова вероятность, что он упадет на белую фигуру?

9) Если вы прокрутите спиннер 1 раз, какова вероятность, что он упадет на черную фигуру?

10) Если вы прокрутите спиннер 1 раз, какова вероятность того, что он упадет на серую деталь?

11) Сколько всего штук в вертушке?

12) Если вы повернули спиннер 1 раз, какова вероятность того, что вы приземлитесь на фишку white или gray?

ОТВЕТЫ

1. 1 из 6

2. 5 из 6

3. 3 из 6

4. circle

5. 20

6. diamond

7. 6 из 20

8. 2 из 8

9. 4 из 8

10. 2 из 8

11. 8

12. 4 из 8