





Используйте каждую диаграмму для решения проблем.



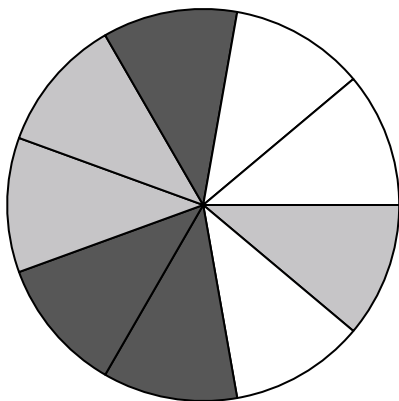
- 1) У какой формы вероятность выбора 40,00% (8 из 20)?
- 2) Если бы вы выбрали одну фигуру случайным образом из массива, какую форму вы выбрали бы с наибольшей вероятностью?
- 3) Сколько всего фигур в массиве?
- 4) Если бы вы случайным образом выбрали одну фигуру из массива, какова вероятность, что это будет circle?

5) Если бы вы бросили кубик один раз, какова вероятность того, что он выпадет на 5?



6) Если бы вы бросили кубик один раз, какова вероятность того, что он выпадет на число Нечетное?

7) Если бы вы бросили кубик один раз, какова вероятность, что он {NOT} попадет на 1?




- 8) Если вы повернули спиннер 1 раз, какова вероятность того, что вы приземлитесь на фишку gray или white?
- 9) Если вы прокрутите спиннер 1 раз, какова вероятность, что он упадет на белую фигуру?
- 10) Если вы покрутите спиннер 1 раз, какова вероятность того, что он упадет на серую деталь?
- 11) Если вы прокрутите спиннер 1 раз, какова вероятность, что он упадет на черную фигуру?
- 12) Сколько всего штук в вертушке?

Ответы

1. _____
2. _____
3. _____
4. _____
5. _____
6. _____
7. _____
8. _____
9. _____
10. _____
11. _____
12. _____




Используйте каждую диаграмму для решения проблем.



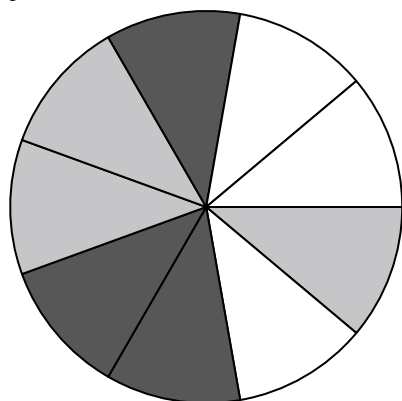
- 1) У какой формы вероятность выбора 40,00% (8 из 20)?
- 2) Если бы вы выбрали одну фигуру случайным образом из массива, какую форму вы выбрали бы с наибольшей вероятностью?
- 3) Сколько всего фигур в массиве?
- 4) Если бы вы случайным образом выбрали одну фигуру из массива, какова вероятность, что это будет circle?

5) Если бы вы бросили кубик один раз, какова вероятность того, что он выпадет на 5?



6) Если бы вы бросили кубик один раз, какова вероятность того, что он выпадет на число Нечетное?

7) Если бы вы бросили кубик один раз, какова вероятность, что он {NOT} попадет на 1?



- 8) Если вы повернули спиннер 1 раз, какова вероятность того, что вы приземлитесь на фишку gray или white?
- 9) Если вы прокрутите спиннер 1 раз, какова вероятность, что он упадет на белую фигуру?
- 10) Если вы покрутите спиннер 1 раз, какова вероятность того, что он упадет на серую деталь?
- 11) Если вы прокрутите спиннер 1 раз, какова вероятность, что он упадет на черную фигуру?
- 12) Сколько всего штук в вертушке?

ОТВЕТЫ

1. star
2. circle
3. 20
4. 5 из 20
5. 1 из 6
6. 3 из 6
7. 5 из 6
8. 6 из 9
9. 3 из 9
10. 3 из 9
11. 3 из 9
12. 9