





Решите каждую задачу.

**Ответы**

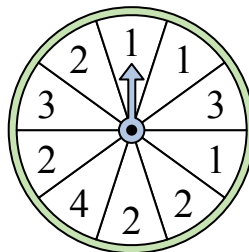
- 1) На какое число прядильщик с наименьшей вероятностью попадет?



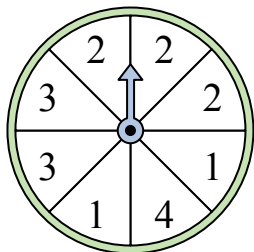
- 2) На какое число с наибольшей вероятностью попадет спиннер?



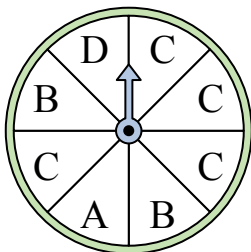
- 3) На какое число прядильщик с наименьшей вероятностью попадет?



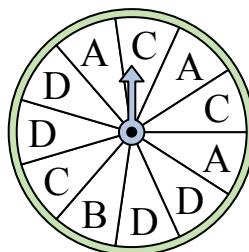
- 4) На какие два числа с одинаковой вероятностью попадет спиннер?



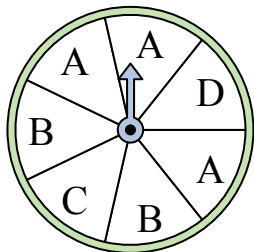
- 5) На какую букву чаще всего попадет спиннер?




- 6) На какую букву тот с наименьшей вероятностью попадет?



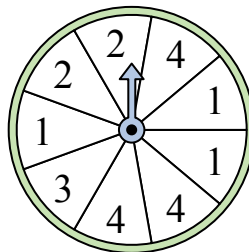
- 7) На какие две буквы с одинаковой вероятностью попадет спиннер?



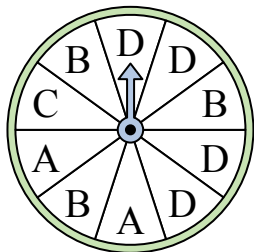
- 8) На какое число с наибольшей вероятностью попадет спиннер?



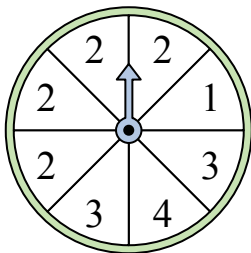
- 9) На какие два числа с одинаковой вероятностью попадет спиннер?



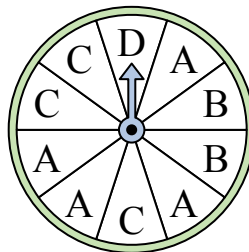
- 10) На какую букву тот с наименьшей вероятностью попадет?



- 11) На какое число с наибольшей вероятностью попадет спиннер?



- 12) На какую букву тот с наименьшей вероятностью попадет?



1. \_\_\_\_\_

2. \_\_\_\_\_

3. \_\_\_\_\_

4. \_\_\_\_\_

5. \_\_\_\_\_

6. \_\_\_\_\_

7. \_\_\_\_\_

8. \_\_\_\_\_

9. \_\_\_\_\_

10. \_\_\_\_\_


11. \_\_\_\_\_

12. \_\_\_\_\_

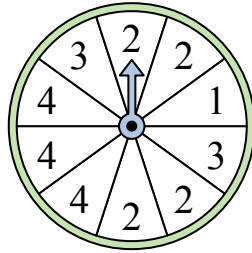


Решите каждую задачу.

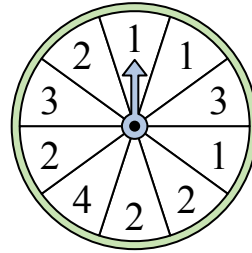
- 1) На какое число прядильщик с наименьшей вероятностью попадет?



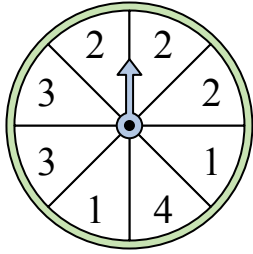
- 2) На какое число с наибольшей вероятностью попадет спиннер?



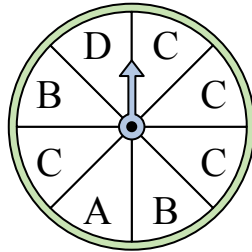
- 3) На какое число прядильщик с наименьшей вероятностью попадет?



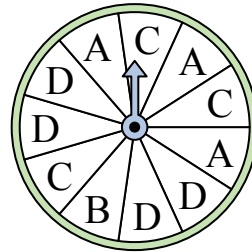
- 4) На какие два числа с одинаковой вероятностью попадет спиннер?



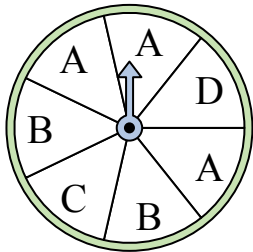
- 5) На какую букву чаще всего попадет спиннер?




- 6) На какую букву тот с наименьшей вероятностью попадет?



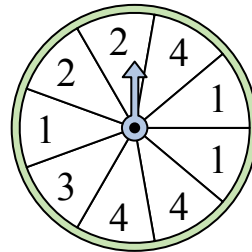
- 7) На какие две буквы с одинаковой вероятностью попадет спиннер?



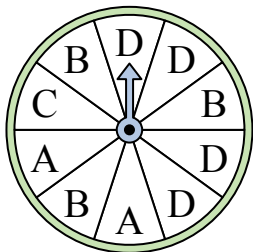
- 8) На какое число с наибольшей вероятностью попадет спиннер?



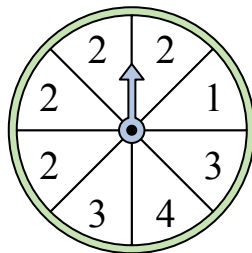
- 9) На какие два числа с одинаковой вероятностью попадет спиннер?



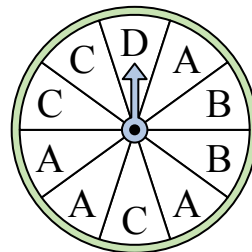
- 10) На какую букву тот с наименьшей вероятностью попадет?



- 11) На какое число с наибольшей вероятностью попадет спиннер?



- 12) На какую букву тот с наименьшей вероятностью попадет?



**ОТВЕТЫ**

1. 2
2. 2
3. 4
4. 1 & 3
5. C
6. B
7. C & D
8. 3
9. 1 & 4
10. C
11. 2
12. D