





Решите каждую задачу.

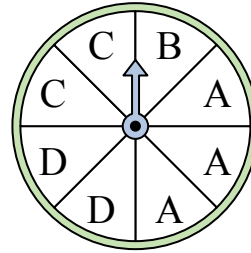
- 1) На какое число с наибольшей вероятностью попадет спиннер?



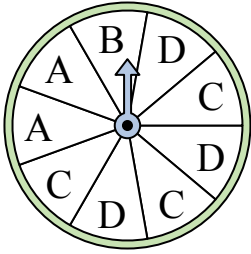
- 2) На какое число прядильщик с наименьшей вероятностью попадет?



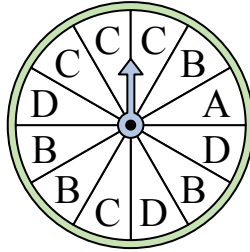
- 3) На какие две буквы с одинаковой вероятностью попадет спиннер?



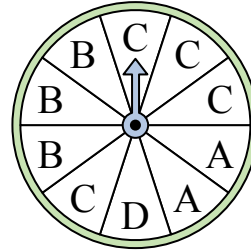
- 4) На какие две буквы с одинаковой вероятностью попадет спиннер?




- 5) На какую букву тот с наименьшей вероятностью попадет?



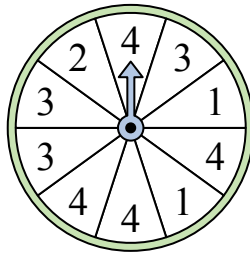
- 6) На какую букву тот с наименьшей вероятностью попадет?



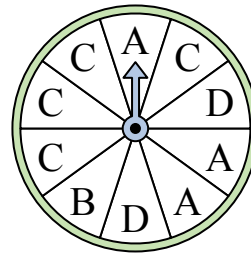
- 7) На какое число с наибольшей вероятностью попадет спиннер?



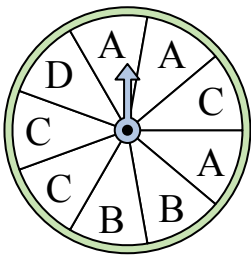
- 8) На какое число с наибольшей вероятностью попадет спиннер?




- 9) На какую букву тот с наименьшей вероятностью попадет?



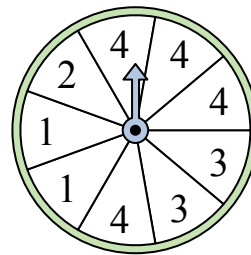
- 10) На какие две буквы с одинаковой вероятностью попадет спиннер?



- 11) На какое число прядильщик с наименьшей вероятностью попадет?



- 12) На какое число с наибольшей вероятностью попадет спиннер?




**Ответы**

1. \_\_\_\_\_
2. \_\_\_\_\_
3. \_\_\_\_\_
4. \_\_\_\_\_
5. \_\_\_\_\_
6. \_\_\_\_\_
7. \_\_\_\_\_
8. \_\_\_\_\_
9. \_\_\_\_\_
10. \_\_\_\_\_
11. \_\_\_\_\_
12. \_\_\_\_\_




Решите каждую задачу.

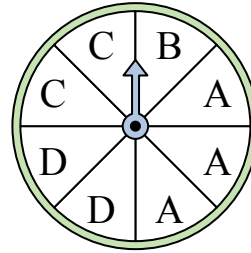
- 1) На какое число с наибольшей вероятностью попадет спиннер?



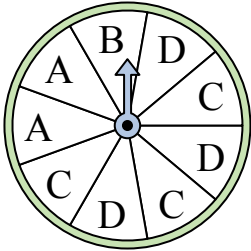
- 2) На какое число прядильщик с наименьшей вероятностью попадет?



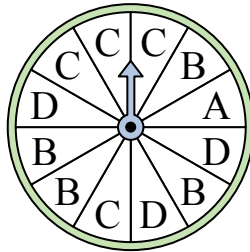
- 3) На какие две буквы с одинаковой вероятностью попадет спиннер?



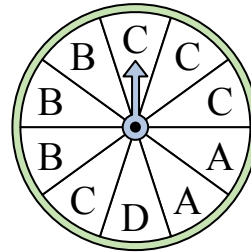
- 4) На какие две буквы с одинаковой вероятностью попадет спиннер?




- 5) На какую букву тот с наименьшей вероятностью попадет?



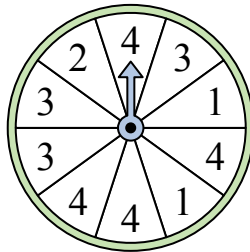
- 6) На какую букву тот с наименьшей вероятностью попадет?



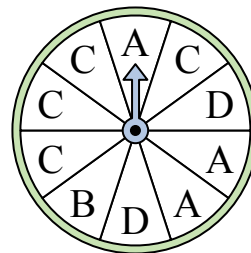
- 7) На какое число с наибольшей вероятностью попадет спиннер?



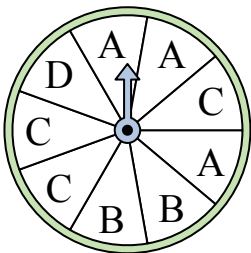
- 8) На какое число с наибольшей вероятностью попадет спиннер?




- 9) На какую букву тот с наименьшей вероятностью попадет?



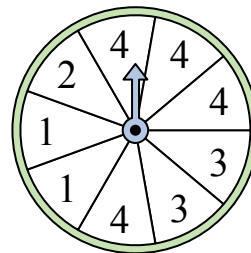
- 10) На какие две буквы с одинаковой вероятностью попадет спиннер?



- 11) На какое число прядильщик с наименьшей вероятностью попадет?



- 12) На какое число с наибольшей вероятностью попадет спиннер?



**ОТВЕТЫ**

1. 2
2. 1
3. C & D
4. C & D
5. A
6. D
7. 4
8. 4
9. B
10. A & C
11. 2
12. 4