


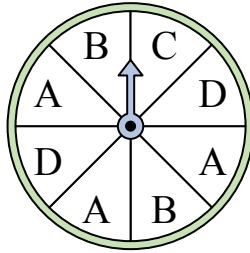


Решите каждую задачу.

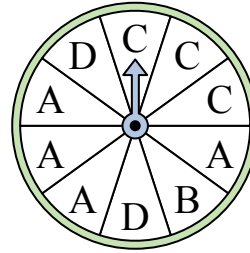
- 1) На какое число прядильщик с наименьшей вероятностью попадет?



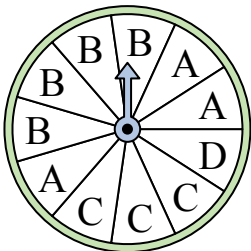
- 2) На какие две буквы с одинаковой вероятностью попадет спиннер?



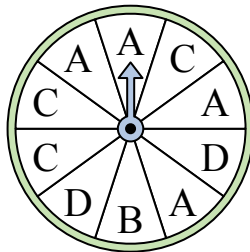
- 3) На какую букву тот с наименьшей вероятностью попадет?



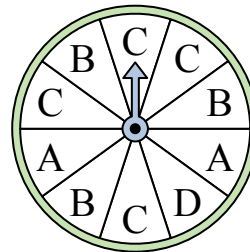
- 4) На какую букву тот с наименьшей вероятностью попадет?



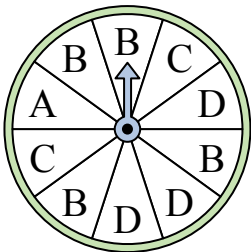
- 5) На какую букву чаще всего попадет спиннер?



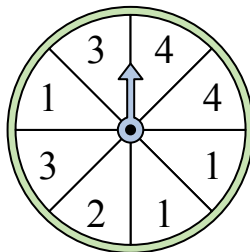
- 6) На какую букву чаще всего попадет спиннер?



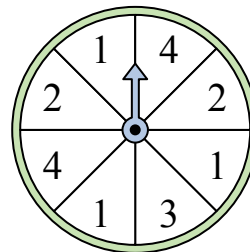
- 7) На какую букву чаще всего попадет спиннер?



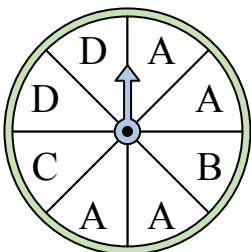
- 8) На какое число с наибольшей вероятностью попадет спиннер?



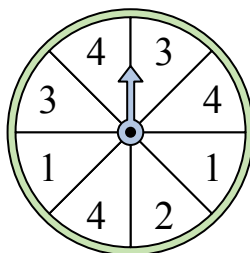
- 9) На какие два числа с одинаковой вероятностью попадет спиннер?



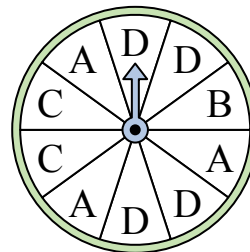
- 10) На какую букву чаще всего попадет спиннер?



- 11) На какие два числа с одинаковой вероятностью попадет спиннер?



- 12) На какую букву тот с наименьшей вероятностью попадет?




**Отвeты**

1. \_\_\_\_\_
2. \_\_\_\_\_
3. \_\_\_\_\_
4. \_\_\_\_\_
5. \_\_\_\_\_
6. \_\_\_\_\_
7. \_\_\_\_\_
8. \_\_\_\_\_
9. \_\_\_\_\_
10. \_\_\_\_\_
11. \_\_\_\_\_
12. \_\_\_\_\_

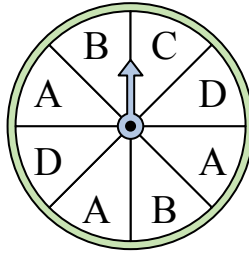


Решите каждую задачу.

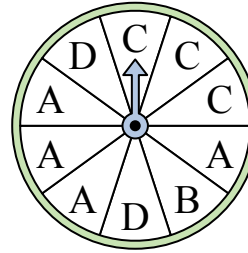
- 1) На какое число прядильщик с наименьшей вероятностью попадет?



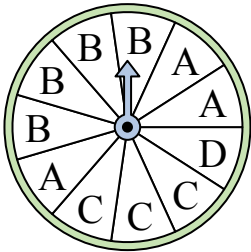
- 2) На какие две буквы с одинаковой вероятностью попадет спиннер?



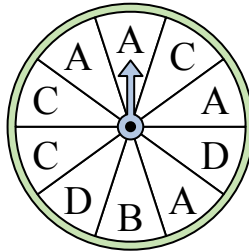
- 3) На какую букву тот с наименьшей вероятностью попадет?



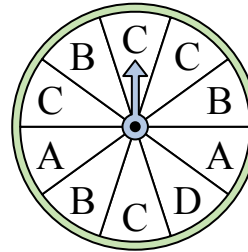
- 4) На какую букву тот с наименьшей вероятностью попадет?



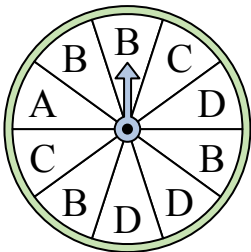
- 5) На какую букву чаще всего попадет спиннер?



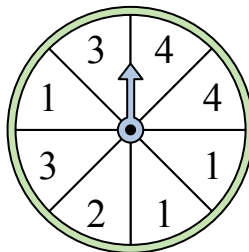
- 6) На какую букву чаще всего попадет спиннер?



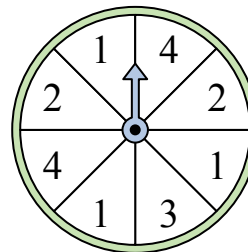
- 7) На какую букву чаще всего попадет спиннер?



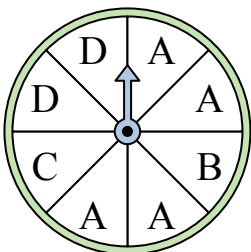
- 8) На какое число с наибольшей вероятностью попадет спиннер?



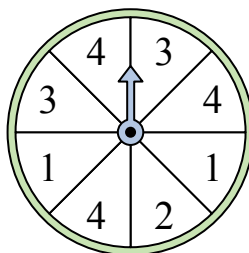
- 9) На какие два числа с одинаковой вероятностью попадет спиннер?



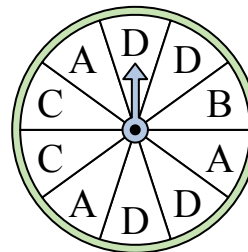
- 10) На какую букву чаще всего попадет спиннер?



- 11) На какие два числа с одинаковой вероятностью попадет спиннер?



- 12) На какую букву тот с наименьшей вероятностью попадет?



**Ответы**

1. 4

2. B & D

3. B

4. D

5. A

6. C

7. B

8. 1

9. 2 & 4

10. A

11. 1 & 3

12. B