





Решите каждую задачу.

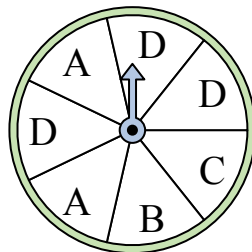
- 1) На какое число прядильщик с наименьшей вероятностью попадет?



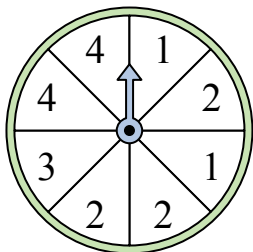
- 2) На какое число прядильщик с наименьшей вероятностью попадет?



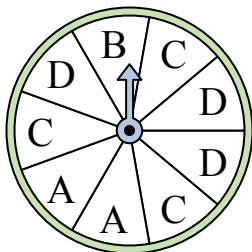
- 3) На какие две буквы с одинаковой вероятностью попадет спиннер?



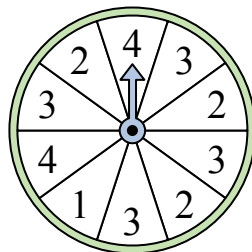
- 4) На какое число с наибольшей вероятностью попадет спиннер?




- 5) На какие две буквы с одинаковой вероятностью попадет спиннер?




- 6) На какое число прядильщик с наименьшей вероятностью попадет?



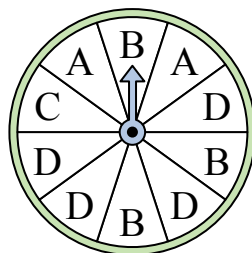
- 7) На какие два числа с одинаковой вероятностью попадет спиннер?



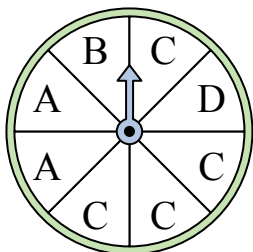
- 8) На какое число прядильщик с наименьшей вероятностью попадет?



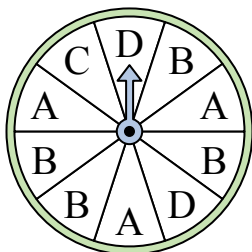
- 9) На какую букву чаще всего попадет спиннер?



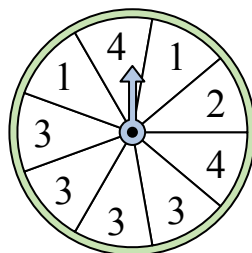
- 10) На какую букву чаще всего попадет спиннер?



- 11) На какую букву чаще всего попадет спиннер?



- 12) На какое число с наибольшей вероятностью попадет спиннер?




ОТВЕТЫ

1. _____
2. _____
3. _____
4. _____
5. _____
6. _____
7. _____
8. _____
9. _____
10. _____
11. _____
12. _____




Решите каждую задачу.

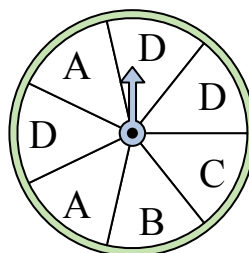
- 1) На какое число прядильщик с наименьшей вероятностью попадет?



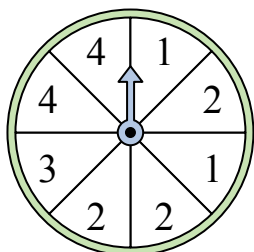
- 2) На какое число прядильщик с наименьшей вероятностью попадет?



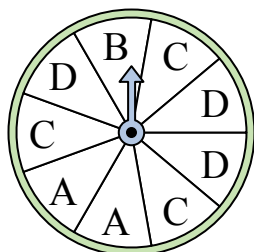
- 3) На какие две буквы с одинаковой вероятностью попадет спиннер?



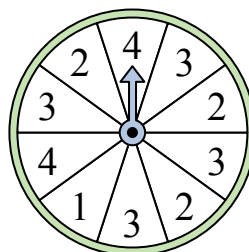
- 4) На какое число с наибольшей вероятностью попадет спиннер?




- 5) На какие две буквы с одинаковой вероятностью попадет спиннер?




- 6) На какое число прядильщик с наименьшей вероятностью попадет?



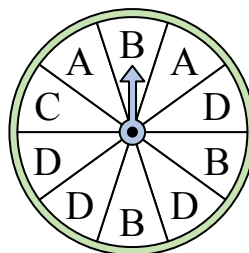
- 7) На какие два числа с одинаковой вероятностью попадет спиннер?



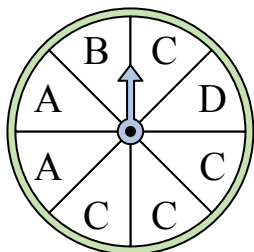
- 8) На какое число прядильщик с наименьшей вероятностью попадет?



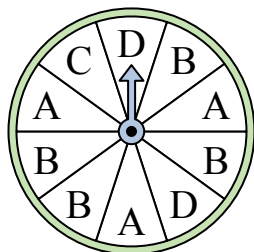
- 9) На какую букву чаще всего попадет спиннер?



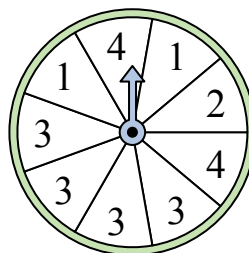
- 10) На какую букву чаще всего попадет спиннер?



- 11) На какую букву чаще всего попадет спиннер?



- 12) На какое число с наибольшей вероятностью попадет спиннер?



ОТВЕТЫ

1. 1
2. 1
3. B & C
4. 2
5. C & D
6. 1
7. 1 & 2
8. 4
9. D
10. C
11. B
12. 3