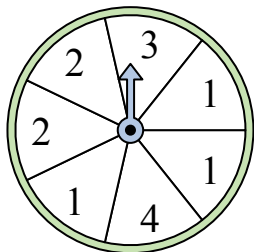


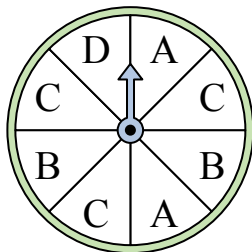


Решите каждую задачу.

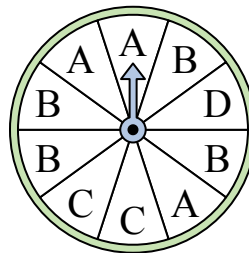
- 1) На какое число с наибольшей вероятностью попадет спиннер?



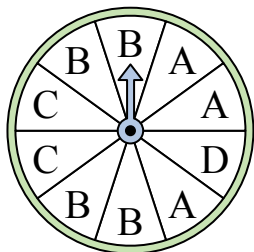
- 2) На какие две буквы с одинаковой вероятностью попадет спиннер?




- 3) На какую букву тот с наименьшей вероятностью попадет?



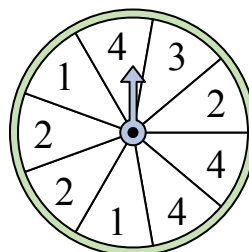
- 4) На какую букву чаще всего попадет спиннер?



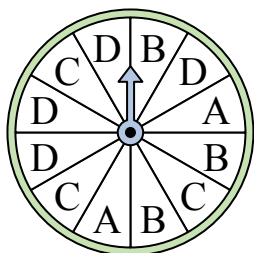
- 5) На какое число с наибольшей вероятностью попадет спиннер?



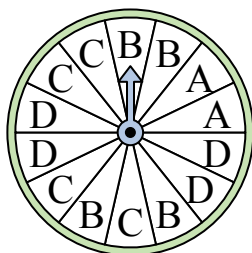
- 6) На какие два числа с одинаковой вероятностью попадет спиннер?



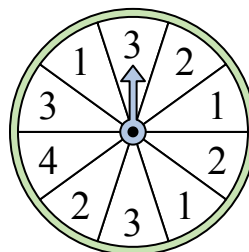
- 7) На какую букву тот с наименьшей вероятностью попадет?




- 8) На какую букву тот с наименьшей вероятностью попадет?



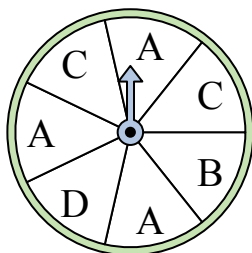
- 9) На какое число прядильщик с наименьшей вероятностью попадет?



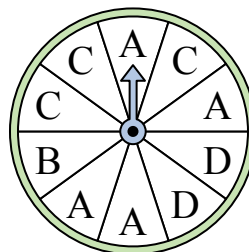
- 10) На какое число прядильщик с наименьшей вероятностью попадет?



- 11) На какие две буквы с одинаковой вероятностью попадет спиннер?



- 12) На какую букву чаще всего попадет спиннер?



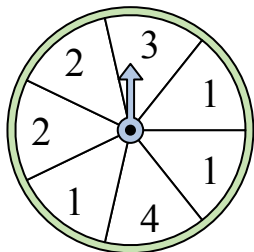
Отвeты

1. _____
2. _____
3. _____
4. _____
5. _____
6. _____
7. _____
8. _____
9. _____
10. _____
11. _____
12. _____

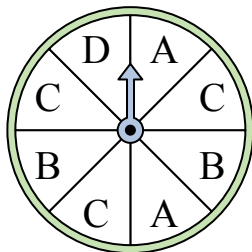


Решите каждую задачу.

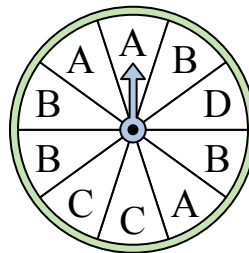
- 1) На какое число с наибольшей вероятностью попадет спиннер?



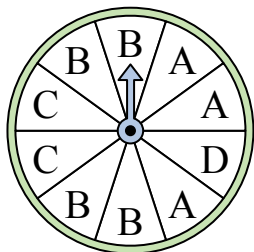
- 2) На какие две буквы с одинаковой вероятностью попадет спиннер?




- 3) На какую букву тот с наименьшей вероятностью попадет?



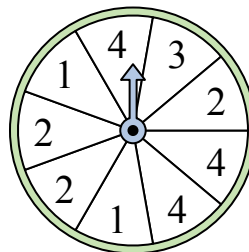
- 4) На какую букву чаще всего попадет спиннер?



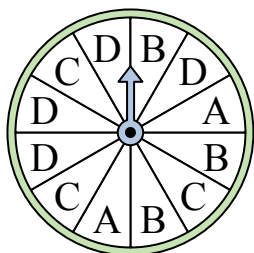
- 5) На какое число с наибольшей вероятностью попадет спиннер?



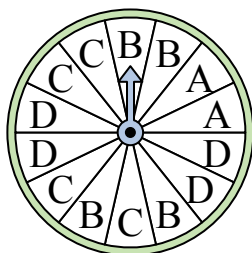
- 6) На какие два числа с одинаковой вероятностью попадет спиннер?



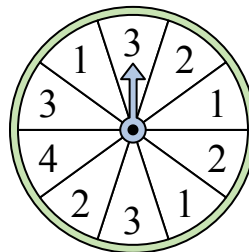
- 7) На какую букву тот с наименьшей вероятностью попадет?




- 8) На какую букву тот с наименьшей вероятностью попадет?



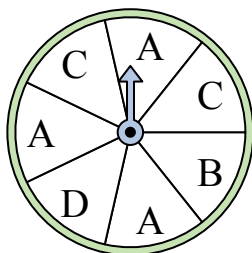
- 9) На какое число прядильщик с наименьшей вероятностью попадет?



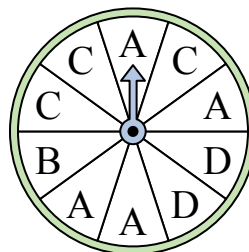
- 10) На какое число прядильщик с наименьшей вероятностью попадет?



- 11) На какие две буквы с одинаковой вероятностью попадет спиннер?



- 12) На какую букву чаще всего попадет спиннер?



Отвeты

1. 1
2. A & B
3. D
4. B
5. 4
6. 2 & 4
7. A
8. A
9. 4
10. 4
11. B & D
12. A