


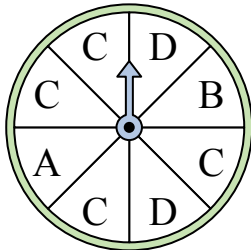


Решите каждую задачу.

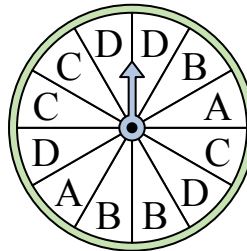
- 1) На какое число прядильщик с наименьшей вероятностью попадет?




- 2) На какую букву чаще всего попадет спиннер?



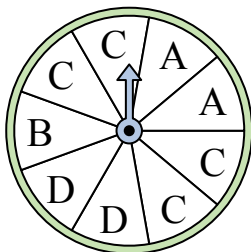
- 3) На какую букву тот с наименьшей вероятностью попадет?



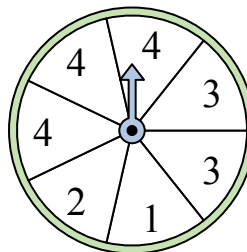
- 4) На какое число с наибольшей вероятностью попадет спиннер?




- 5) На какую букву чаще всего попадет спиннер?




- 6) На какие два числа с одинаковой вероятностью попадет спиннер?



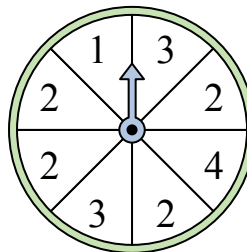
- 7) На какое число прядильщик с наименьшей вероятностью попадет?



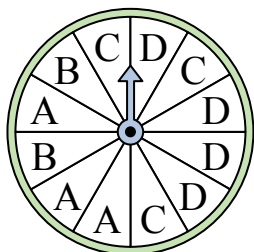
- 8) На какое число с наибольшей вероятностью попадет спиннер?




- 9) На какое число с наибольшей вероятностью попадет спиннер?



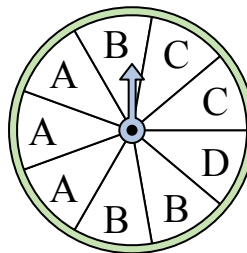
- 10) На какую букву тот с наименьшей вероятностью попадет?



- 11) На какое число с наибольшей вероятностью попадет спиннер?



- 12) На какие две буквы с одинаковой вероятностью попадет спиннер?




**Ответы**

1. \_\_\_\_\_
2. \_\_\_\_\_
3. \_\_\_\_\_
4. \_\_\_\_\_
5. \_\_\_\_\_
6. \_\_\_\_\_
7. \_\_\_\_\_
8. \_\_\_\_\_
9. \_\_\_\_\_
10. \_\_\_\_\_
11. \_\_\_\_\_
12. \_\_\_\_\_

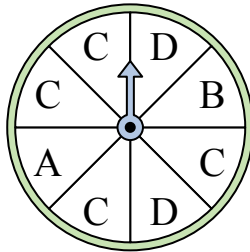


Решите каждую задачу.

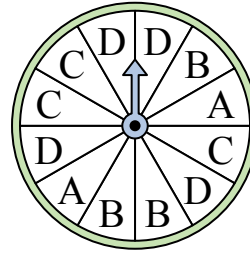
- 1) На какое число прядильщик с наименьшей вероятностью попадет?




- 2) На какую букву чаще всего попадет спиннер?



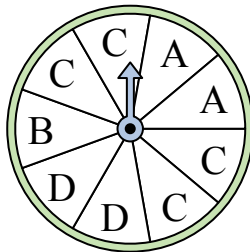
- 3) На какую букву тот с наименьшей вероятностью попадет?



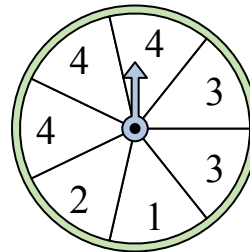
- 4) На какое число с наибольшей вероятностью попадет спиннер?




- 5) На какую букву чаще всего попадет спиннер?




- 6) На какие два числа с одинаковой вероятностью попадет спиннер?



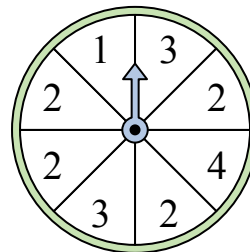
- 7) На какое число прядильщик с наименьшей вероятностью попадет?



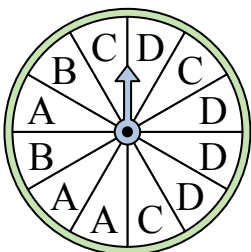
- 8) На какое число с наибольшей вероятностью попадет спиннер?




- 9) На какое число с наибольшей вероятностью попадет спиннер?



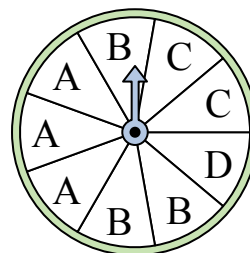
- 10) На какую букву тот с наименьшей вероятностью попадет?



- 11) На какое число с наибольшей вероятностью попадет спиннер?



- 12) На какие две буквы с одинаковой вероятностью попадет спиннер?



**ОТВЕТЫ**

1. 4
2. C
3. A
4. 3
5. C
6. 1 & 2
7. 2
8. 1
9. 2
10. B
11. 3
12. A & B