




Используйте двойные числовые прямые для решения задач.

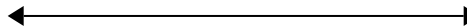
Ответы

1) По рецепту нужно 7 чайных ложек(ки) приправы для каждых 8 партий курицы. Если у Вас 40 партий(ии), то сколько чайных ложек приправы Вам понадобится?

курица



приправа




1. _____


2. _____

2) В видео игре за каждых 6 побежденных врагов(га), Вы получаете 8 баллов(ла). Если Вы победили 24 врагов(га), то сколько баллов Вы заработаете?

враги



баллы




3. _____

4. _____

5. _____

3) В магазине была распродажа, где можно купить 8 пакетика(ков) кешью за \$3. Если Вы хотите купить 56 пакетика(ов), то сколько это будет стоить?

кешью



цена




6. _____

7. _____

4) В ресторане Джо дают по 3 салфеток(ки) за каждые 10 заказанных блюд(а). Если кто-то заказал 50 блюд(а), то сколько салфеток он получит?

блюдо




салфетки




8. _____

5) За каждые 4 банок(ки), которые ? собрал для переработки, он заработал 5 центов(та). Сколько денег он заработает, если соберет 16 банок?

банки




деньги




6) Строитель может достать 9 листов(та) гипсокартона за \$8. Если он купил 81 листов(та), то сколько денег он потратил?

гипсокартон




цена

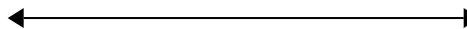


7) В коробке с конфетами имеется 8 вишневых конфет(ы) на каждые 9 лимонных конфет(ы). Если коробка содержит 90 лимонных конфет(ы), то сколько вишневых там находится?

лимонные




вишневые




8) В своем MP3 плеере, на каждые 10 популярных песен(ни), которые были у ?, она имела по 2 песен(ни) кантри. Если у нее 80 популярных песен(ни) на MP3 плеере, то сколько песен кантри она имеет?

популярные



кантри

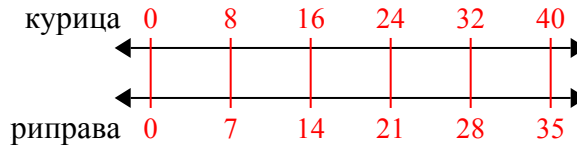




Используйте двойные числовые прямые для решения задач.

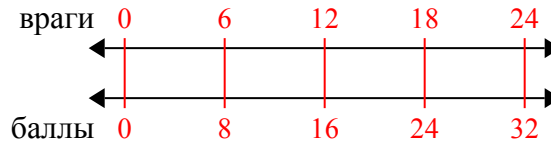
Ответы

1) По рецепту нужно 7 чайных ложек(ки) приправы для каждых 8 партий курицы. Если у Вас 40 партий(ии), то сколько чайных ложек приправы Вам понадобится?



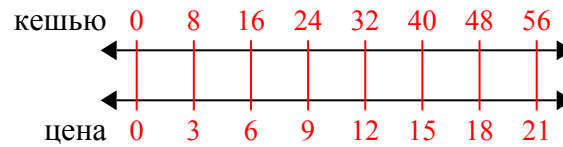
1. 35

2) В видео игре за каждых 6 побежденных врагов(га), Вы получаете 8 баллов(ла). Если Вы победили 24 врагов(га), то сколько баллов Вы заработаете?



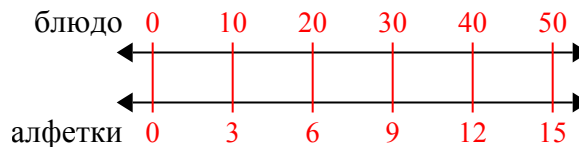
2. 32

3) В магазине была распродажа, где можно купить 8 пакетика(ков) кешью за \$3. Если Вы хотите купить 56 пакетика(ов), то сколько это будет стоить?



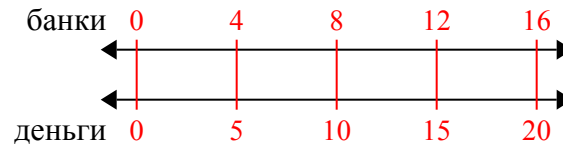
3. 21

4) В ресторане Джо дают по 3 салфеток(ки) за каждые 10 заказанных блюд(а). Если кто-то заказал 50 блюд(а), то сколько салфеток он получит?



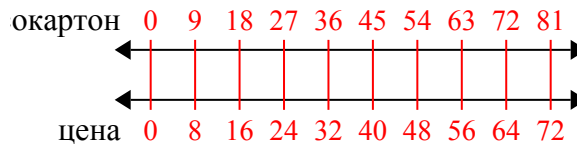
4. 15

5) За каждые 4 банок(ки), которые ? собрал для переработки, он заработал 5 центов(та). Сколько денег он заработает, если соберет 16 банок?



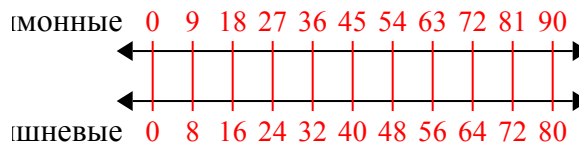
5. 20

6) Строитель может достать 9 листов(та) гипсокартона за \$8. Если он купил 81 листов(та), то сколько денег он потратил?



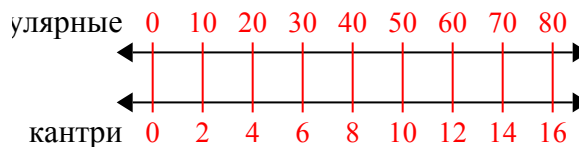
6. 72

7) В коробке с конфетами имеется 8 вишневых конфет(ы) на каждые 9 лимонных конфет(ы). Если коробка содержит 90 лимонных конфет(ы), то сколько вишневых там находится?



7. 80

8) В своем MP3 плеере, на каждые 10 популярных песен(ни), которые были у ?, она имела по 2 песен(ни) кантри. Если у нее 80 популярных песен(ни) на MP3 плеере, то сколько песен кантри она имеет?



8. 16